

1회 모의고사 문제지

- 문제지 앞표지에 성명과 수험번호를 적었는지 확인 하십시오.
- 경제이론과 시사경제·경영은 문항당 3점, 4점이고 상황추론·판단은 문항당 5점입니다.
- 시험시간은 100분입니다.

< 경제 이 론 >

1. 다음 지문에서 나타난 경제 개념은 무엇인가?

프로 스포츠 팀에서 활동하는 운동선수의 연봉을 비교해보면 기량이 뛰어난 유명한 프로 스포츠 선수가 평범한 기량을 가진 선수에 비해서 훨씬 더 많은 연봉을 받고 있다.

- ① 매물비용 ② 롱테일 법칙
- ③ 죄수의 딜레마 ④ 쇼트커버링
- ⑤ 경제적 지대

2. 다음 상황에 대한 설명으로 옳지 않은 것은?

갑은 간식으로 김밥, 떡볶이, 순대 중에 하나를 고르려 한다. 이들의 가격과 갑이 각각에 대해 평가하는 편익은 다음과 같다.

	김밥	떡볶이	순대
가격(원)	1,500	1,000	1,500
갑의 편익(원)	1,700	1,300	1,600

각 대안에 대한 순편익은 '편익-기회비용'으로 본다. 갑은 한 가지를 먹으면 배가 불러서 두 가지 이상을 선택할 가능성은 없다.(단, 이자율은 0%로 가정한다.)

- ① 김밥 선택의 명시적 비용은 1,500원이다.
- ② 떡볶이 선택의 암묵적 비용은 200원이다.
- ③ 순대 선택의 기회비용은 1,700원이다.
- ④ 김밥과 순대의 순편익은 100원 차이이다.
- ⑤ 순편익이 양(+)수인 대안은 떡볶이다.

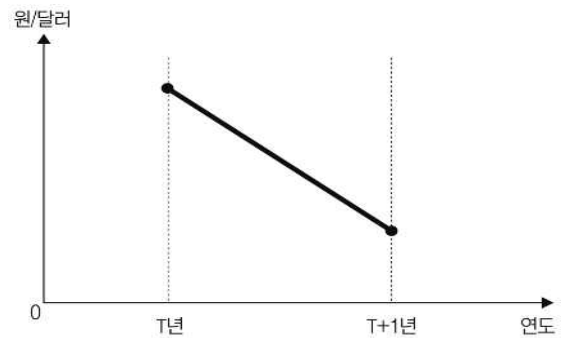
3. 가격 하한제에 대한 설명으로 옳지 않은 것은?

- ① 물량부족 현상이 발생한다.
- ② 수요자가 지불해야 하는 법정 최저가격이다.
- ③ 시장가격이 낮다고 판단할 때 사용되는 수단이다.
- ④ 생산요소시장이나 농산물시장에 주로 적용된다.
- ⑤ 생산자(공급자)를 보호하기 위한 제도다.

4. 장기적으로 총생산이 생산함수에 의해 결정되고 물가가 신축적이라고 가정하자. 다음 중 폐쇄경제에서 총저축과 투자를 일치시키는 가격변수는 무엇인가?

- ① 물가
- ② 통화량
- ③ 실질소득
- ④ 명목소득
- ⑤ 실질이자율

5. 아래 그림은 한국의 T년에서 T+1년으로의 환율 변화를 나타낸다. 그 결과로서 옳은 설명을 <보기>에서 고른 것은?



< 보 기 >

- ㄱ. 미국 상품의 수입이 감소하였다.
- ㄴ. 미국에 대한 수출이 증가하였다.
- ㄷ. 미국에 대한 국내 외채 부담은 줄어들었다.
- ㄹ. 미국에 유학생 자녀를 둔 국내 부모의 학비 부담은 줄었다.

- ① ㄱ, ㄴ ② ㄱ, ㄷ ③ ㄴ, ㄷ ④ ㄴ, ㄹ ⑤ ㄷ, ㄹ

6. 경제학에는 ‘공짜 점심은 없다’는 말이 있다. 어떤 편익에도 그에 대한 대가가 따른다는 것이다. 다음 중 이 말에 해당하는 가장 적합한 사례는?

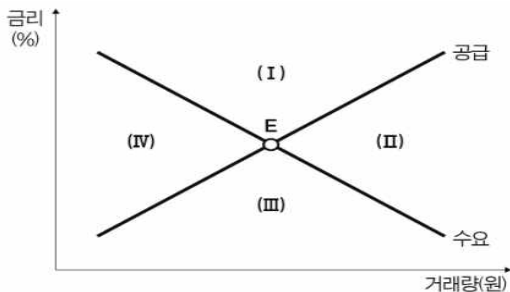
- ① 경기가 나빠지면서 많은 회사들이 공짜로 먹는 구내식당을 폐쇄했다.
- ② 경기를 살리기 위해 중앙은행이 통화를 공급하면 자칫 물가가 오를 수 있다.
- ③ 친구와 무료 시식코너에서 점심을 배부르게 먹었다.
- ④ 국가 간 교역은 항상 제로섬 게임이며, 아무런 편익이 없다.
- ⑤ 정부가 복지정책을 시행하더라도 채권을 발행하여 재정을 채울 수 있기 때문에 미래세대의 부담은 전혀 증가하지 않는다.

7. 우리나라의 실업통계에서 실업률이 가장 높아지는 경우는?

- ① 대학생이 군복무 후 복학한 경우
- ② 취업자가 퇴직하여 전업주부가 되는 경우
- ③ 직장인이 업무 중 교통사고를 당해 2주간 입원 중인 경우
- ④ 취업을 알아보던 해직자가 구직을 단념하는 경우
- ⑤ 공부만 하던 대학생이 편의점에서 주당 10시간 아르바이트를 시작하는 경우

8. <자금시장>에 아래와 같은 변화가 동시에 일어날 때, 현재 균형점 E가 이동할 영역으로 옳은 것은?

- 지급준비율이 인상되었다.
- 대출을 받아 사업을 확장하고자 하는 기업이 많아졌다.



< 자금시장 >

- ① (I) ② (II) ③ (III) ④ (IV) ⑤ 변동 없음

9. (A)에 대해 올바르게 설명한 것을 <보기>에서 모두 고르면?

집주인은 자신의 즐거움과 만족을 위해 꽃을 심고 가꾸지만 그 집 앞을 지나가는 이웃 주민에도 즐거움을 주기도 한다. 이처럼 의도하지 않았지만 다른 사람에게 이득을 주고 기쁨을 주는 현상을 (A)라고 한다.

< 보 기 >

- ㄱ. 사회 전체의 효용 증대를 위해서는 (A)의 현상을 적극 권장할 필요가 있다.
- ㄴ. 과수원 옆으로 양봉업자가 이사를 오면서 과일생산량이 증가한 것은 (A)의 사례에 해당한다고 할 수 있다.
- ㄷ. (A)의 효과를 장려하기 위해서는 장려금이나 보조금을 지급할 필요가 있다.

- ① ㄱ ② ㄱ, ㄴ ③ ㄱ, ㄷ ④ ㄴ, ㄷ ⑤ ㄱ, ㄴ, ㄷ

10. A국은 소규모 경제로서 b상품의 일부는 국내에서 생산하고 일부는 수입하고 있다. A국은 b상품에 대해 지금까지 개당 10원의 수입관세를 부과하고 있다. 그런데 자국의 b상품 생산을 장려하기 위해 수입관세는 그대로 10원을 부과한 상태에서 추가로 자국의 b상품 생산자들에게 제품 한 단위 당 10원의 보조금을 주기로 하였다. 이러한 수입관세와 보조금에 따른 효과로 옳지 않은 것은?

- ① 국내 생산자들에 대한 지원금을 b상품에 부과된 관세 수입으로 모두 충당할 수 있다면 사회적 잉여의 손실을 많이 줄일 수 있다.
- ② 국내 생산자에 대한 지원금이 지불되면 A국 생산자들의 생산량은 증가하겠지만, A국 소비자들의 소비량은 증가하지 않는다.
- ③ 국내 생산자들에 대한 지원금이 추가되어도 수입관세만 부과되었던 경우와 비교하여 A국 소비자들이 지불하는 b상품 가격에는 변화가 없다.
- ④ 수입관세를 부과하면 해외의 생산자들보다 비효율적인 국내의 생산자들로부터 구매하는 수량이 증가하여 사회적 잉여의 손실이 발생한다.
- ⑤ 국내 생산자들에게 지원금을 부과하면 두 가지 사회적 잉여의 손실이 발생한다. 하나는 정부의 지원 금액보다 국내 생산자 잉여의 증가가 작기 때문에 발생하고, 다른 하나는 해외 생산에 비해 비효율적인 국내 생산의 증가에 기인한다.

11. 다음 아래 지문은 어떤 개념을 설명하는가?


대학생 중 자차를 소유한 사람의 비율은 높지 않다. 하지만 대학 졸업 후 취업을 하여 소득이 생기면 차를 구입하는 경우가 많다. 보통 처음에는 주로 중고차를 구입한다. 하지만 시간이 흘러 경제적 여유가 생기면 중고차를 처분하고 신차를 구입하는 경우가 많다.

- ① 재화와 비재화
- ② 정상재와 열등재
- ③ 소득효과와 대체효과
- ④ 명시적 비용과 암묵적 비용
- ⑤ 대체재와 보완재

12. 다음 중 밑줄 친 두 재화 간의 관계가 나머지와 다른 것은?

- ① 현주는 가격이 더 비싼 배 대신 사과를 사왔다.
- ② 윤수는 콘택트렌즈 가격이 올라 안경만 착용한다.
- ③ 민철이는 베이글에 크림치즈를 발라먹고 싶어 크림치즈도 한 개 주문했다.
- ④ 승기는 셀카봉을 구입하여 카메라 삼각대는 더 이상 사용하지 않는다.
- ⑤ 현수는 바나나우유가 초코우유보다 저렴하기 때문에 바나나우유를 골랐다.

13. 아래 그래프는 수요곡선을 나타내고 있다. 이에 대한 설명 중 옳지 않은 것은?



- ① 수요의 가격탄력성은 무한대이다.
- ② 완전경쟁시장에서 기업이 직면하는 수요곡선을 보여준다.
- ③ 이러한 수요곡선에 직면한 기업의 평균수입곡선은 수요곡선과 일치한다.
- ④ 이러한 수요곡선에 직면한 기업의 한계수입곡선은 수요곡선과 일치한다.
- ⑤ 이러한 수요곡선에 직면한 기업의 한계비용은 수평선이다.

14. 다음 중 국내의 물가가 오르는 동시에 총생산이 감소할 수 있는 경우를 고르시오.

- ① 새로운 기술개발
- ② 대규모 정부투자의 증가
- ③ 중앙은행의 물가상승률 목표 상향조정
- ④ 글로벌 경제의 회복으로 수출증가
- ⑤ 석유 등 원자재가격의 상승

15. 수요와 공급의 법칙이 성립하는 시장에서 나타나는 균형을 설명하고 있다. 이에 대한 설명으로 옳지 않은 것은?

- ① 수요와 공급이 증가하게 되면 균형거래량은 반드시 증가한다.
- ② 시장에서 균형이 달성되면 자원 배분의 효율성이 충족된다.
- ③ 초과수요가 존재하면 가격이 하락하면서 시장은 균형 상태로 수렴하게 된다.
- ④ 시장이 균형 상태에 도달하면 수요량과 공급량이 언제나 일치한다.
- ⑤ 다른 조건이 일정할 때 수요가 증가하면 균형가격과 균형거래량이 모두 증가한다.

16. 세계 각국 정부는 소득 불균형 해소를 위해 여러 정책들을 시행하고 있다. 다음 중 소득 재분배 정책과 거리가 먼 것은?

- ① 현물보조
- ② 기본소득제 도입
- ③ 공적보험 운영
- ④ 역진세 확대
- ⑤ 부(負)의 소득세제 시행

17. 다음 표는 각 재화 A~D의 수요의 현재 가격 근방에서의 가격탄력성을 나타낸다. 탄력성 값이 그대로 유지된다고 할 때, 가격을 인하하면 수입이 감소하는 재화만을 모두 고른 것은?

재화	탄력성
A	3
B	1
C	0.5
D	0

- ① A, B ② C, D ③ A, C
- ④ B, D ⑤ A, B, C, D

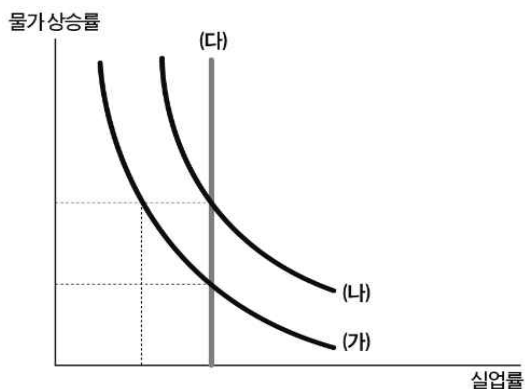
18. 다국적 기업들이 가상의 국가 A에 투자를 크게 늘리는 추세라고 하자. 아래 보기 중 반드시 성립한다고 볼 수 없는 것은?

- ① A국가의 정부재정은 적자이다.
- ② A국가의 자본수지는 흑자이다.
- ③ A국가의 경상수지는 적자이다.
- ④ A국가의 순해외투자는 음의 값을 갖는다.
- ⑤ A국가의 국내총투자가 국내총저축을 초과한다.

19. 중앙은행의 통화량 조절 정책에 대한 설명으로 옳지 않은 것을 고르시오.

- ① 선진국에서 법정지급준비율 정책이 자주 사용된다.
- ② 공개시장조작은 금융발전정도가 낮은 국가에서는 효과적이지 않다.
- ③ 법정지급준비율을 인상하면 예금통화승수가 작아져서 통화 공급이 감소한다.
- ④ 제한인율을 인하하면 시중은행의 지급준비금이 늘어나기 때문에 통화 공급이 증가한다.
- ⑤ 중앙은행은 공개시장조작을 통해 법률이나 은행 관련 규정을 변경하지 않고도 통화량을 조절할 수 있다.

20. 다음은 필립스곡선이다. 이에 대한 설명으로 옳지 않은 것은?



- ① (가)와 (나)를 단기 필립스곡선이라고 한다.
- ② (가)와 (나)는 인플레이션과 실업률 간의 상충관계를 보여준다.
- ③ 필립스곡선이 (가)일 때 통화량이 증가하면 단기적으로 (나)로 이동한다.
- ④ 통화량 증가는 장기적으로 물가 상승만을 초래한다.
- ⑤ (다)는 장기 필립스곡선이며, 자연실업률 수준에서 수직이다.

21. 인플레이션으로 인해 발생하는 비용에 대한 설명으로 적절하지 않은 것은?

- ① 사람들의 예상이 적응적이고 인플레이션이 사전에 예상할 수 있다면 사회적 비용이 발생하지 않는다.
- ② 통화량의 증가로 발생한 인플레이션은 장기적으로 고용, 산출량 등 실물변수에 영향을 미칠 수 없다.
- ③ 인플레이션율이 높아지면 화폐보유자의 기회비용이 증가하게 된다.
- ④ 인플레이션으로 인한 가격조정이 모든 기업과 산업에 동일하지 않아서 자원배분의 비효율성이 생길 수 있다.
- ⑤ 인플레이션이 발생했을 때 세법은 자원배분을 왜곡시킨다.

22. 어느 공장에서 처음 열 사람의 근로자가 1인당 평균 40개의 제품을 생산했다. 그런데 근로자 한 사람을 더 고용하니 1인당 평균 생산량이 38개로 줄었다. 열한번째 근로자를 추가 고용했을 때 한계생산은 몇 개인가?

- ① 9
- ② 12
- ③ 15
- ④ 18
- ⑤ 21

23. 갑국과 을국이 비교우위에 따라 무역을 한다. 이에 따른 해당 국가에 미칠 영향을 <보기>에서 옳은 것을 모두 고르면?

< 보 기 >

- ㄱ. 다양한 상품을 저렴한 가격에 구매할 수 있다.
- ㄴ. 외국 상품이 국내 시장을 왜곡한다.
- ㄷ. 국내 독점 산업의 진입장벽이 제거되면서 국내 소비자 잉여가 증가한다.
- ㄹ. 모든 산업의 근로자는 고용, 실업에서 영향을 받지 않는다.

- ① ㄱ, ㄴ
- ② ㄱ, ㄷ
- ③ ㄴ, ㄷ
- ④ ㄴ, ㄹ
- ⑤ ㄷ, ㄹ

24. 자원의 희소성에 대한 설명으로 가장 적절한 것은?

- ① 자원의 희소성은 사회에 따라 변하지 않는다.
- ② 희소성은 자원의 절대적인 크기에 의해 결정된다.
- ③ 자원의 양이 많으면 인간의 필요 및 욕구와 상관 없이 희소하지 않다.
- ④ 같은 재화라도 인간의 필요와 욕구에 따라 자원의 희소성은 달라진다.
- ⑤ 자원의 희귀성과 같이 인간의 필요와 욕구는 무한하기 때문에 자원은 언제나 희소하다.

25. X재와 Y재는 서로 완전 보완재다. 다른 조건이 일정할 때 X재 가격 하락의 효과로 옳지 않은 것은?

- ① X재의 소비량이 증가한다.
- ② Y재의 소비량이 증가한다.
- ③ X재 소비량과 Y재 소비량의 비율은 변하지 않는다.
- ④ 대체효과의 크기는 0이다.
- ⑤ 소득효과의 크기는 0이다.

26. “BSI, CSI 지수가 3분기 연속 100아래로 하락”이라는 신문기사가 나왔다. 향후 이러한 흐름이 지속된다고 할 때, 옳지 않은 설명은?

- ① 기업의 고용이 위축된다.
- ② 정부가 추가경정예산을 편성할 가능성이 높다.
- ③ 가계 소비심리가 위축되었다.
- ④ 한국은행은 국공채를 매각할 것이다.
- ⑤ 경제상황을 부정적으로 보는 가계가 더 많다.

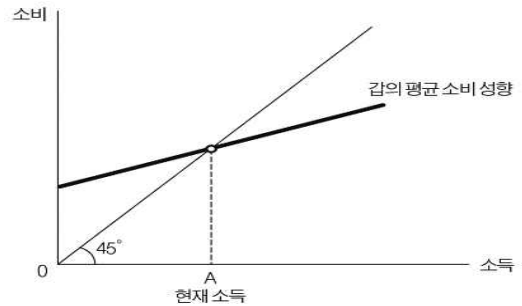
27. 국민경제순환모형에서 국민소득 3면 등가의 법칙에 따라 같아지는 항목끼리 모은 것을 고르면?

- ① 이자, 이윤, 소득
- ② 생산, 분배, 지출
- ③ 임금, 지대, 이윤
- ④ 노동, 자본, 토지
- ⑤ 경상수지, 자본수지, 서비스수지

28. 독점적 경쟁시장에 대한 설명으로 옳지 않은 것은?

- ① 기업들은 가격설정자다.
- ② 시장의 진입과 퇴출이 자유롭다.
- ③ 기업들은 비교적 차별화된 제품을 공급한다.
- ④ 장기적으로 기업이 얻는 초과이윤이 사라진다.
- ⑤ 비가격 경쟁이 발생하지 않는다.

29. 그림은 갑의 평균 소비 성향을 나타낸 것이다. 이에 기초할 때 갑의 소득 변화가 갑에게 미치는 효과에 대한 옳은 추론을 <보기>에서 고른 것은?



▶평균 소비 성향=소비/소득 ▶소득=소비+저축

< 보 기 >

- ㄱ. A에서 갑의 소득액과 소비액은 동일하고, 저축은 0이다.
- ㄴ. A보다 소득이 높아지면 소비 증가분보다 소득 증가분이 커서 총저축이 증가한다.
- ㄷ. A보다 소득이 낮아지면 소득 감소분보다 소비 감소분이 커서 총저축은 증가한다.
- ㄹ. 갑은 일생에 걸쳐 소비 수준을 일정하게 유지한다.

- ① ㄱ, ㄴ ② ㄱ, ㄷ ③ ㄴ, ㄷ ④ ㄴ, ㄹ ⑤ ㄷ, ㄹ

30. 팽창적인 통화정책이 실물경제에 영향을 미치는 경로에 대하여 옳게 진술한 것을 <보기>에서 모두 고르면?

< 보 기 >

- ㄱ. 자산 가격 경로에 따르면 통화량이 증가하여 이자율이 하락하면 주식에 대한 수요가 증가한다. 이에 따라 주식 가격이 상승하게 되고 이에 따라 기업의 자금조달이 용이해져 기업은 투자를 늘리게 된다.
- ㄴ. 기준금리가 이미 매우 낮은 상황에서는 통화정책을 통해 추가적인 이자율 하락을 기대할 수 없으므로 통화정책의 효과를 기대하기 어렵다.
- ㄷ. 기준금리의 하락은 자금조달비용을 하락시켜 기업이 투자를 늘리게 할 수 있다.

- ① ㄱ ② ㄱ, ㄴ ③ ㄱ, ㄷ ④ ㄴ, ㄷ ⑤ ㄱ, ㄴ, ㄷ

< 시 사 경 제 · 경 영 >

31. 산업계에서 자국의 환경에만 맞춰 기술을 발전시키다 해외 시장에서는 고립돼버리는 현상을 뜻하는 용어는 무엇인가?

- ① 롤 오버
- ② 유리천장
- ③ 갈라파고스
- ④ 애자일 조직
- ⑤ 차이니즈월

32. 연말에 적용환율이 달러 당 1,150원에서 1,200원으로 상승한 경우의 12월말 결산법인의 연말 상황에 대한 설명 중 올바른 것은?

- ① 외화대출금이 있는 경우 자산이 감소한다.
- ② 외화차입금이 있는 경우 부채가 감소한다.
- ③ 외화외상매입금이 있는 경우 순이익이 증가한다.
- ④ 외화외상매출금이 있는 경우 순이익이 증가한다.
- ⑤ 외화로 구입한 기계장치에 대해 원가모형을 적용하는 경우 자산이 증가한다.

33. 주식시장은 여러 요소가 영향을 미친다. 다음 중 국내 증권시장의 코스피 지수가 오름세를 지속한다고 할 때 그 배경으로 볼 수 없는 것은?

- ① 꾸준한 무역흑자
- ② 채권 가격의 하락세
- ③ VIX지수의 하락세
- ④ 투자자예탁금의 증가
- ⑤ 미국 중앙은행(Fed)의 기준금리 인하

34. 다음 중 인수합병(M&A)에 대한 설명으로 옳지 않은 것은?

- ① 인수합병(M&A) 실패의 가장 큰 원인의 하나는 인수 후 통합 과정의 문제 때문이다.
- ② 막대한 프리미엄을 지불하고 인수합병(M&A)을 하기도 한다.
- ③ 우호주주의 지분율을 높이는 것은 경영권 방어를 위한 수단이 될 수 있다.
- ④ 적대적 M&A에서 피인수기업 주주는 일반적으로 손실을 본다.
- ⑤ 인수합병(M&A) 시장의 활성화는 주주와 경영자 간 대리인 문제를 완화시키는 역할을 한다.

35. 대형 산업재해 1건이 발생했다면 이에 앞서 같은 원인으로 작은 재해가 29건, 사소한 사고는 300건이 발생했다는 법칙이다. 위기 징후를 방치하면 대형 사고로 이어진다는 뜻으로 경제 금융 분야에서도 자주 언급되는 이 법칙은 무엇인가?

- ① 무어의 법칙
- ② 테일러의 법칙
- ③ 오클의 법칙
- ④ 하인리히 법칙
- ⑤ 궁핍화의 법칙

36. 한 해 증시를 마감하는 연말을 전후로 주가가 오르는 현상을 말한다. 연말 소비 증가에 따른 기업의 매출 증대, 신년 주가 상승에 대한 기대감 등 다양한 원인으로 나타나는 '이것'은?

- ① 산타렐리
- ② 블랙 프라이데이
- ③ 새도우 캐비닛
- ④ 트리플위칭데이
- ⑤ 컨벤션 효과

37. 신종 코로나바이러스 감염증(코로나19)으로 인해 대규모 실업자가 발생하고 사회안전망이 약화되자 정부는 이에 대응하기 위해 '이것'을 편성하여 재난지원금을 지급하기는 데 쓰기도 하였다. '이것'은 정부의 한 해 예산이 확정된 이후에도 대내외 경제여건 변화 등 부득이한 이유로 인해 추가적으로 자금집행이 필요할 때 편성하는 예산을 말한다. '이것'을 일컫는 예산으로 알맞은 것은?

- ① 준예산 ② 가예산 ③ 수정예산
- ④ 신임예산 ⑤ 추가경정예산

38. 경제고통지수는 국민들이 피부로 느끼는 경제적 삶의 어려움을 계량화해 수치로 나타낸 것이다. 아래의 식에서 (가)와 (나)에 들어갈 조합으로서 알맞게 짝지은 것은?

$$\text{경제고통지수} = (\text{가}) + (\text{나})$$

(가) (나)

- ① 가계부채율 - 인플레이션율
- ② 국가부채율 - 합계출산율
- ③ 실업률 - GDP갭률
- ④ 실업률 - 가계부채율
- ⑤ 실업률 - 인플레이션율

39. 다음 중 부채총액을 증가시키는 거래는?

- ① 유가증권을 매각한다.
- ② 차입금이자를 지급한다.
- ③ 상품을 외상으로 매입한다.
- ④ 전기에서 이월된 미지급금료를 지급한다.
- ⑤ 외상매입금 지급을 위해 약속어음을 발행한다.

40. 최근 중국의 국유기업에서 디폴트(채무불이행)를 선언하면서 경제 각 부문의 과다한 부채는 세계적 경제 위기를 초래할 수 있는 중요한 문제로 인식되고 있다. 다음 중 과다한 부채를 해소하기 위한 방법으로 가장 관련이 적은 것은?

- ① 테이퍼링 ② 경제성장 ③ 기준금리 인상
- ④ 공개시장 매각 ⑤ 주택담보인정비율(LTV) 인상

41. 산업은행 주도로 대한항공과 아시아나항공의 통합작업이 진행되면서 '이 기업'에 대해 정부주도 구조조정이 시작되었다는 분석이 있었다. '이 기업'은 보통 좀비기업이라고도 불린다. 영업 활동을 통해 벌어들인 이익으로 이자(금융비용)도 감당하지 못하는 등 시장에서 경쟁력을 상실한 '이 기업'은 무엇인가?

- ① 기간기업 ② 상장기업 ③ 블랙기업
- ④ 한계기업 ⑤ 아메바기업

42. 독창적인 아이디어로 새로운 사업 기회를 찾을 수 있는 틈새시장을 뜻하는 용어는 무엇인가?

- ① 불마켓 ② 니치마켓 ③ 레몬마켓
- ④ 베어마켓 ⑤ 골든마켓

43. 아래와 같은 상황에서 선물계약을 한 투자자 A의 손익은 어떻게 되는가?

투자자 A는 외환선물시장에서 보유한 1000달러에 대해서 “90일 만기 달러당 1800원의 선물계약”을 체결하면서 매수포지션을 취했다. 선물계약을 체결할 당시 원/달러 환율은 1700원이었으나, 90일 후 원/달러 환율은 2000원이 되었다.

- ① 30만원 이익 ② 20만원 이익 ③ 10만원 이익
- ④ 30만원 손실 ⑤ 20만원 손실

44. A국가가 B국가의 무역에 불이익을 주는 조치를 취할 때, 이에 대응해 B국가가 A국가에서 수입하는 상품에 고율의 관세를 부과했다고 하자. 이런 관세를 무엇이라 일컫는가?

- ① 상계관세 ② 계절관세 ③ 보복관세
- ④ 긴급관세 ⑤ 할당관세

45. 최근 감정 노동에 종사하는 직원들에 대한 욕설 및 폭언 등의 고충으로 인해, ‘직원이 손님에게 친절해야 할뿐만 아니라 손님도 직원에게 예의를 지켜야 한다’는 의미를 담은 신조어가 등장했다. 근로자와 소비자 간 균형을 일컫는 ‘이것’은 무엇인가?

- ① 워커벨 ② ब्ल록딜 ③ 퍼플칼라
- ④ 프로슈머 ⑤ 워커홀릭

46. A지역 부동산 거래를 강하게 규제하니 인접지역인 B, C지역의 부동산 매매 수요가 급증하였을 때, 이와 어울리는 효과는 무엇인가?

- ① 낙수효과 ② 풍선효과 ③ 기저효과
- ④ 분수효과 ⑤ 피서효과

47. 다음은 은행의 위험관리에 대한 설명이다. (A)와 (B)에 관한 내용을 순서대로 알맞게 짝지으면?

은행이 위험관리를 함에 있어 예상된 손실은 (A)(으)로, 예상 밖의 손실은 (B)(으)로 보전할 수 있어야 한다는 것이 일반적으로 적용되는 기본원칙이다.

(A) (B)

- ① 충담금 - 부채
- ② 충당금 - 자본
- ③ 부채 - 충당금
- ④ 자본 - 충당금
- ⑤ 자본 - 부채

48. 다음 지문을 읽고, 빈칸에 들어갈 동물 이름으로 옳은 것을 고르면?

강력한 경쟁자가 나타났을 때 기존 기업의 경쟁력이 오히려 높아지는 현상을 () 효과라고 한다.

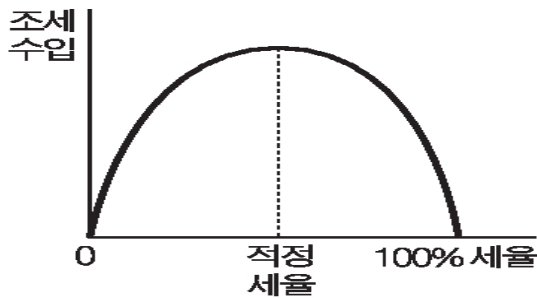
- ① 메기 ② 문어 ③ 황소
- ④ 백조 ⑤ 코끼리

49. 다음 나열한 내용이 설명하는 용어는?

- 소득, 재산 등 소득금액이 커질수록 높은 세율 적용
- 계층 간 소득 재분배가 목적
- 대표적인 예로 소득세

- ① 누진세 ② 인두세 ③ 토빈세
④ 증권거래세 ⑤ 부가가치세

50. 다음 그림은 무엇인가?



- ① 앵겔 곡선 ② 래퍼 곡선 ③ 로렌츠 곡선
④ 무차별 곡선 ⑤ 쿠즈네츠 곡선

51. 다음은 경제학 발전 과정에 지대한 영향을 미친 학자들의 생각을 단적으로 표현한 문장이다. <보기>에서 A와 B를 말한 사람을 순서대로 바르게 짝지은 것은?

- < 보 기 >
- A. cool head and warm heart
B. Inflation is always and everywhere a monetary phenomenon.

- | A | B |
|---------------|---------------|
| ① J.M. Keynes | - I. Fisher |
| ② A. Smith | - M. Friedman |
| ③ J.M. Keynes | - A. Marshall |
| ④ A. Smith | - J.M. Keynes |
| ⑤ A. Marshall | - M. Friedman |

52. 상장기업의 경영권 방어를 위해 누구든 상장사 지분을 일정수준 이상 갖게 되면 주식보유 현황과 변동내역을 신고하도록 한 제도는 무엇인가?

- ① 5%룰 ② 조회공시 ③ 황금낙하산
④ 공개매수 ⑤ 스튜어드십 코드

53. 금융시장과 금융상품에 대한 설명으로 옳지 않은 것은?

- ① 금융시장은 자금의 공급자와 자금의 수요자를 적은 거래비용으로 연결해 준다.
② 시장이자율이 상승하면 자금에 대한 수요량은 감소한다.
③ 위험한 금융상품일수록 시장이자율이 낮아지게 된다.
④ 자금에 대한 수요가 증가하면 시장이자율은 상승한다.
⑤ 신용도가 높은 기업일수록 발행하는 채권의 금리는 낮다.

54. 다음 나열한 내용을 통해 알맞은 용어를 고르면?

- 케이맨제도
- 버뮤다
- 버진아일랜드

- ① 스펙 ② 프롭테크
③ 조세피난처 ④ 그림자금융
⑤ 페이퍼컴퍼니

55. 다음 나열한 내용을 알맞게 설명한 용어를 고르면?

- 미국 북동부 5대호 주변 쇠락한 공장지대
- 미국 제조업 몰락을 상징적으로 보여줌
- 2016년, 2020년 미국 대선에서도 이 지역 노동자들의 지지를 얻기 위한 경쟁이 치열

- ① 선벨트 ② 히스패닉 ③ 실리콘밸리
④ 러스트 벨트 ⑤ 스윙스테이트

56. 한때 삼성이 메모리 반도체인 D램 시장에서 경쟁업체들과 '이것'을 통해 시장 점유율을 증가시켰다. '이것'은 게임이론에서도 사용되는 용어로, 어느 한쪽이 무너질 때까지 출혈 경쟁을 하는 것이다. '이것'은 무엇인가?

- ① 콜드 게임 ② 윈윈 게임
③ 치킨 게임 ④ 스윙 전략
⑤ 집중화 전략

62. 다음은 A국의 고용 관련 지표를 나타낸 것이다. 2010년과 2020년의 고용 관련 지표를 비교할 때, 다음 중 옳은 설명을 <보기>에서 모두 고른 것은?

	생산가능인구 (명)	고용률 (%)	경제활동참가율 (%)
2010	40,000,000	58.0	61.0
2020	44,000,000	60.0	63.0

< 보 기 >

- ㄱ. 실업자 수는 증가하였다.
 ㄴ. 취업자 수는 감소하였다.
 ㄷ. 비경제활동인구는 증가하였다.

- ① ㄱ ② ㄱ, ㄴ ③ ㄱ, ㄷ ④ ㄴ, ㄷ ⑤ ㄱ, ㄴ, ㄷ

63. A국에서 (가)와 (나)의 상황이 발생할 경우 나타날 경제적 현상으로 가장 적합한 것은?

(가) A국의 현재 10억 원인 개인 대주주 기준이 내년 말 이후로는 3억 원으로 낮아진다. 직계 존비속을 모두 포함하기 때문에 자산가는 물론이고 주식거래 비중이 높은 일부 중산층까지 대상이 될 가능성이 높다. 일반 주식투자자는 매도 시 거래세만 0.25%를 내지만, 개인 대주주가 되면 시세차익의 최대 30%를 양도세로 내야 한다.

(나) A국은 민간택지 분양가상한제 등으로 주택 공급이 줄어들 것으로 예상되는 데다 자율형 사립고·외국어고·국제고 폐지 및 정시 확대로 전국 주요 학군지역의 수요가 늘어 집값이 요동치는 상황이었다. 그런데 정부가 갑자기 집을 팔 수도, 살 수도 없게 한 부동산 거래 동결 정책을 발표했다. 고가 주택담보대출을 꽂 막고, 양도소득세 감면을 위한 실거주 조건이 강화되었다.

- ① (가) 고액 개인투자자 주식시장 투자열풍 (나) 임대 아파트 공급 확대
 ② (가) 고액 자산가 재산 해외 도피 (나) 임대 아파트 공급 축소
 ③ (가) 고액 개인투자자 주식시장 기피현상 (나) 학군 좋은 지역 전세값 폭등
 ④ (가) 고액 자산가의 주식 매수 증가 (나) 학군 좋은 지역 전세값 폭등
 ⑤ (가) 고액 개인투자자 주식시장 기피현상 (나) 지방 부동산 값 폭락

64. 다른 상황에 대한 변동이 없을 때, 미국 중앙은행(Fed)의 점진적인 금리 인상에 따라 미국의 달러화와 중국의 위안화 사이의 환율이 1달러 당 5위안에서 6위안으로 변동하였다고 하자. 이 같은 변동으로 말미암은 결과 중에서 <보기>에서 옳은 것끼리 짝지은 것은?

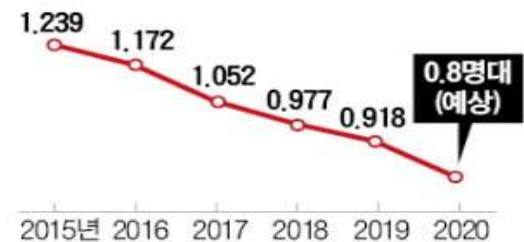
< 보 기 >

- ㄱ. 중국 사람들에게 미국산 상품은 싸졌다.
 ㄴ. 미국의 중국 상품에 대한 수입이 증가할 것이다.
 ㄷ. 중국의 대(對) 미국 무역수지는 장기적으로 개선될 것이다.
 ㄹ. 미국 상품의 대(對) 중국 수출이 증가할 것이다.

- ① ㄱ, ㄴ
 ② ㄱ, ㄷ
 ③ ㄴ, ㄷ
 ④ ㄴ, ㄹ
 ⑤ ㄷ, ㄹ

65. 다음 그림을 통해, 합계 출산율이 장기적으로 하락할 경우 나타날 경제적 현상에 대한 설명 중 옳지 않은 것은?

연도별 합계 출산율 (단위:명)



※합계 출산율은 여성 한명이 평생 낳을 것으로 예상되는 자녀 수
 자료:통계청, 보건복지부

- ① 생산가능인구가 줄어들 것이다.
 ② 이민청 설립에 대한 사회적 논의가 시작될 것이다.
 ③ 교육대학, 사범대학에 대한 입시생들의 입시 수요가 줄어들 것이다.
 ④ 노인부양비가 감소한다.
 ⑤ 1인 가구 증가와도 관련된 현상이다.

66. 다음 지문을 읽고, 친구들의 대화 중 옳지 않은 것은?

(A)망중립성(net neutrality)을 고속도로에 비유하면 도로 관리주체가 차량 종류나 적재중량, 제한속도 등을 제한할 수 없게 하는 원칙이다. 미국은 망중립성을 폐지하면서 큰 트럭이나 버스, 무거운 짐을 실은 차량 등에 추가 요금을 매기거나 속도제한 혹은 통행금지 조치까지 내릴 수 있게 됐다. (B)인터넷서비스사업자(ISP)가 (C)인터넷·콘텐츠 기업을 대상으로 사용량, 속도 등에 따라 요금을 차별화할 수 있게 됐다는 얘기가.

- ① 진희 : (B)는 구글, 넷플릭스와 같은 인터넷·콘텐츠 기업이야.
- ② 정수 : (B)는 (C)에게 트래픽 유발로 망 운영과 투자에 대한 비용을 받아야한다고 주장해.
- ③ 진호 : (A)는 (C)가 거대 기업으로 성장할 수 있는 배경 중 하나였어.
- ④ 상태 : (C)는 (A)를 통해 망사용을 폭발적으로 늘려 망 황폐라는 공유지의 비극을 초래할 수 있어.
- ⑤ 가영 : (A)에 대한 문제는 기본적으로 망을 공동으로 사용하는 공공의 영역인지 투자한 것에 대하여 해당 업체가 가격을 책정하여 사용하는 사적인 영역인지에 대한 갈등이라고 볼 수 있어.

67. 다음 신문기사를 통해 드라이아이스 가격과 거래량의 변화를 알맞게 추론한 것은?

전례 없는 드라이아이스 수급난의 직접적인 원인은 신종 코로나바이러스 감염증(코로나19) 사태다. 탄산(CO2)은 석유화학회사가 플라스틱 제품을 생산하거나 정유사가 원유를 정제하는 과정에서 부산물로 나온다. 드라이아이스는 탄산을 고순도로 압축해 만든 것이다. 하지만 올해는 코로나19 여파로 이들 공장 가동률이 전년 대비 20~40% 하락하면서 탄산 공급이 확 줄었다.

○○경제신문, 2020.11.11

가격 **거래량**

- ① 상승 - 하락
- ② 상승 - 상승
- ③ 상승 - 변함없음
- ④ 하락 - 상승
- ⑤ 하락 - 하락

68. 아래 두 개의 지문을 읽고, 해당 시기의 경제적 사건이 한국과 중국의 무역환경에 미치는 영향을 올바르게 판단한 것은?

우리금융경영연구소는 ‘미중 무역협상 전망과 시사점’ 보고서를 통해 “한국이 미·중 무역 갈등의 영향을 가장 많이 받은 것으로 평가된다.”고 분석했다. 보고서를 작성한 우리금융경영연구소 글로벌 연구센터는 이 같은 분석에 대해 “한국이 제조업 분야에서 글로벌 공급망에 고도로 통합돼 있는데, 대중국 수출 비중이 높고 반도체 등 특정 품목에 많이 의존하기 때문”이라 설명했다.

미국과 중국이 1단계 무역 합의에 도달했다. 지난해 3월 도널드 트럼프 미 대통령이 중국에 대규모 관세를 매기겠다고 선전포고한 지 21개월 만이다. 관세를 부과하기 시작한 지난해 7월을 기점으로 하면 17개월 만이다. 이번 합의는 미니딜이며 일종의 휴전이다. 미국이 중국에 부과하고 있는 관세 전부를 예전으로 되돌리지는 않았다는 점에서 종전은 아니다. 하지만 확전을 피했다는 것만으로도 세계 경제는 무역전쟁발 불황 공포에서 일단 벗어나게 됐다.

	중국의 대미수출	한국의 대중국수출	원화 가치
①	감소	감소	하락
②	감소	감소	상승
③	증가	증가	하락
④	증가	증가	상승
⑤	변화 없음	변화 없음	변화 없음

69. 다음은 갑국의 경제 상황이다. 이에 대한 설명으로 옳은 것은? (단, 갑국의 기준연도는 2016년이다.)

- 갑국은 2016년에 쌀만 10kg 생산했다.
- 갑국의 2016년 실질 GDP는 100만 원이다.
- 갑국은 2017년에 쌀만 10kg 생산했다.

- ① 갑국의 2016년 쌀의 명목 가격은 알 수 없다.
- ② 갑국의 2016년 명목 GDP와 실질 GDP는 다르다.
- ③ 갑국의 2017년 명목 GDP와 실질 GDP는 동일하다.
- ④ 갑국의 2017년 명목 GDP는 100만 원이다.
- ⑤ 갑국의 2017년 실질 GDP는 100만 원이다.

70. 표는 감자와 고구마를 생산하는 농부 A의 두 재화에 대한 직선인 생산가능곡선의 조합 일부를 보여주는 것이다. 이에 대한 분석으로 옳은 것은?(단, 농부 A는 생산 가능곡선 상의 다른 조합에서 생산이 가능하고, 감자 1단위의 가치는 고구마 1단위의 가치와 동일하다.)

구분	조합1	조합2	조합3	조합4
감자	0	4	8	10
고구마	20	12	4	0

- ① 농부 A는 감자 10단위, 고구마 20단위를 생산할 수 있다.
- ② 농부 A는 감자 6단위, 고구마 10단위를 생산할 수 있다.
- ③ 농부 A의 감자 1단위 생산의 기회비용은 고구마 1단위이다.
- ④ 농부 A는 감자 2단위와 고구마 16단위를 동시에 생산할 수 있다.
- ⑤ 농부 A가 감자 6단위, 고구마 8단위를 생산하는 것은 비효율적이다.

71. 아래 글을 통해 추론할 수 있는 것으로 맞지 않는 것은?

무역 선박이 항해에서 무사히 돌아오면 선박 투자자는 큰 이익을 봤다. 반면에 무역 선박이 되 돌아오지 못하면 그 투자자는 커다란 손실을 입었다. 투자자들은 이런 손실을 어떻게 피할 수 있을까를 고민했다. 당시 암스테르담에 투자자들이 모여 자금을 공동 출자해 선박을 마련했다. 선박이 무사히 돌아오면 물건을 팔아 이익을 분배했다. 선박이 돌아오지 못한 경우엔 위험을 감소시켰다. 1602년 네덜란드 회사가 오늘날 기업 형태로 등장했다. 투자자들은 이익을 채투자했고, 이익을 회수하려는 투자자는 주식을 팔았다. 주식은 시장에서 거래되기 시작했다. 주식 매매를 중개하는 사람도 생겼다.

- ① 주식회사가 탄생한 배경을 알 수 있지.
- ② 1602년 생긴 회사가 바로 네덜란드 동인도 회사야.
- ③ 서로 잘 아는 사람들끼리만 주식회사를 설립해야 한다는 점이 잘 드러나 있어.
- ④ 누군가의 설계가 아니라, 사람들의 행동 결과로 제도가 생긴다는 점을 알 수 있어.
- ⑤ 이 당시 생긴 ‘내 선박이 돌아오면(when my ship comes in)’은 운이 좋은 결과를 의미할 때 쓰지.

72. 한때 전력요금 개편과 관련하여 사회적 논란이 있었다. 이에 대한 지문을 읽고, 잘못 추론한 것을 고르시오.

- 산업통상자원부의 ‘민관합동 전기요금 누진제 태스크포스’는 전체회의를 열고 최종 권고안을 확정했습니다. (중략) 1안의 구체적인 확대 범위는 1단계 사용량이 기존 200에서 300kWh로 늘어나고, 2단계는 기존 400에서 450kWh로 확대됩니다. 이렇게 되면 가구당 할인 폭은 월평균 10,142원 정도로 1,629만여 가구가 요금 혜택을 받을 전망입니다.
- 녹색당은 또 “폭염에 선풍기도 맘껏 틀기 어려운 사람들, 피약별에 노출돼 일하는 사람들, 단열이 안 돼 겨울엔 추위를 여름엔 더위를 온몸으로 견뎌야 하는 사람들, 이런 에너지 빈곤층에게 에너지 복지를 실효성 있게 강화해야 한다”고 주문했습니다. (중략) 정작 진짜 전기요금 할인 혜택을 받아야 할 저소득층은 이번 개편안에서 특정되지 못했습니다. 고소득 1, 2인 가구 등이 여전히 필수사용공제(월 4000원 할인)를 받는 반면 저소득 다자녀 가구 등은 ‘냉방요금 폭탄’을 맞는 불합리를 뜯어고칠 수 없습니다.

- ① 일정량의 전기를 사용하고 있다는 점에서 저소득 다자녀가구에 전기 필수제인 것으로 보인다.
- ② 소득이 많은 사람일수록 전기사용량이 많을 가능성이 높기 때문에, 이번 누진제 개편안은 역진적일 수 있다.
- ③ 일부 저소득층의 전기요금 부담을 완화하기 위해서는 누진제 개편안보다 에너지 바우처 등의 정책이 보다 더 효과적일 수 있다.
- ④ 누진제 개편안으로 인해 한국전력의 수익이 감소하여 공급곡선이 좌측으로 이동할 것으로 예측할 수 있다.
- ⑤ 한국전력의 경영악화로 훗날 전력 가격이 상승한다면, 누진제 완화에 따른 소비자 후생 증가효과는 기대한 것보다 작아질 수 있다.

73. 철호가 맥주를 소비하려 한다. 철호의 첫 번째 잔에 대한 지불용의는 1만 원, 두 번째 잔에 대한 지불용의는 7천 원, 세 번째 잔은 4천 원, 네 번째 잔은 2천 원의 지불용의가 있다. 맥주 한 잔의 가격이 3천 원이라고 할 때, 철호의 총 소비자 잉여는 얼마인가?

- ① 9천 원 ② 1만 2천 원 ③ 1만 8천 원
- ④ 2만 1천 원 ⑤ 2만 4천 원

74. 다음의 주장들을 잘못 설명한 것은?

- 주장 1 : 대기업들의 이익 추구가 과도하다. 휘발유 가격도 그렇고 아파트 분양가도 마찬가지다. 기업들은 적정 이윤만 받아야 한다. 폭리를 취하는 것은 상도외에 어긋난다. 원가에 적정이윤을 더한 공정 가격이 경제적으로 정익에 부합한다.
- 주장 2 : 이익에 대해 과도하다거나 과소하다고 말할 수 없다. 기업은 원가와 판매가의 차액을 극대화하는 것을 목표로 하는 조직이다. 적정가격이라는 논리는 기업 활동을 부정하는 명분에 불과하다. 이는 결국 정부가 가격 구조에 개입하는 결과를 낳는다.

- ① 주장 1은 정부가 공정 가격을 계산할 수 있다고 본다.
- ② 주장 1은 자유로운 기업 활동에 찬성한다.
- ③ 주장 2는 기업의 무형적 가치 창출에 주목한다.
- ④ 주장 2는 기업이 존재할 수 있는 가장 중요한 요소는 이윤창출이라고 본다.
- ⑤ 주장 2는 정부의 시장 가격 개입에 반대한다.

75. 다음 <표>는 완전경쟁시장에서 거래되는 사과와 수요량과 공급량에 관한 자료이다. 이 자료를 보고 옳게 추론한 것은?

< 표 >

사과 가격	수요량	공급량
1000원	10개	12개
800원	11개	11개
600원	12개	10개
400원	13개	9개
200원	14개	8개

- ① 사과의 균형가격은 600원이다.
- ② 정부가 가격을 400원으로 고정시키면 거래량은 13개가 된다.
- ③ 정부가 시장가격을 1000원으로 설정하면 실제 거래량은 10개가 된다.
- ④ 생산자잉여를 가장 크게 하려면 사과의 가격이 200원이 되어야 한다.
- ⑤ 소비자잉여를 가장 크게 하려면 사과의 가격이 800원이 되어야 한다.

76. 다음 기사와 같은 정부 정책으로 우려되는 결과를 <보기>에서 옳게 고른 것은?

정부는 대부업체가 보유 중인 장기·소액 연체채권을 사들여 소각하는 방안을 다음 달 내놓기로 했다. 서민·취약계층의 채권을 돕기 위해 ‘빚 탕감’ 범위를 국민행복기금과 금융공기업에 이어 민간 금융회사로 확대하겠다는 계획이다. 빚 탕감 대상자가 사상 최대인 100만 명에 이를 수 있다는 관측이 나온다.

2017년 7월 27일, ○○경제신문

<보기>

- ㄱ. 공공채 부족
- ㄴ. 외부 불경제 확대
- ㄷ. 도덕적 해이 확산
- ㄹ. 신용 시장 위축

- ① ㄱ, ㄴ
- ② ㄱ, ㄷ
- ③ ㄴ, ㄷ
- ④ ㄴ, ㄹ
- ⑤ ㄷ, ㄹ

77. 다음 지문을 읽고, 밑줄 친 내용과 연관된 내용을 <보기>에서 고르면?

테슬라의 흑자 달성 요인을 면밀히 살펴보면, ‘규제크레디트’의 존재가 있다. 배기가스를 적게 배출한 테슬라는 정부가 정한 배기가스 배출 허용량을 넘어선 다른 기업에 규제크레디트 여유분을 판매해 수익을 얻을 수 있다. 테슬라는 규제크레디트로 3분기 3억9700만 달러의 이익을 올렸다. 만약, 규제크레디트가 없었다면 테슬라는 3분기 흑자를 달성하지 못했을 것이다.

<보 기>

- ㄱ. 배출권 거래제 ㄴ. 로렌츠 곡선
- ㄷ. 코즈의 정리 ㄹ. 꾸르노 모형

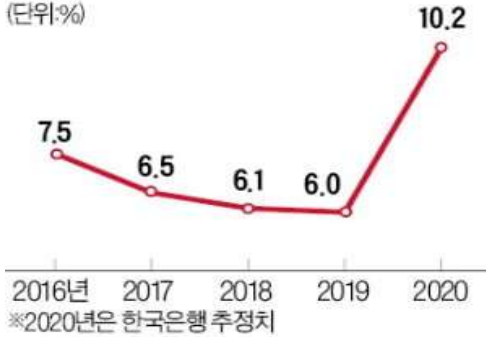
- ① ㄱ, ㄴ ② ㄱ, ㄷ ③ ㄴ, ㄷ ④ ㄴ, ㄹ ⑤ ㄷ, ㄹ

78. 다음 신문기사와 그림을 잘못 이해한 사람을 고르면?

13일 한국은행에 따르면 올해 가계저축률은 작년(6.0%)보다 4.2%포인트 오른 10.2%를 기록할 것으로 추정되고 있다. 외환위기 직후인 1999년(13.2%) 후 21년 만에 10%대에 다시 진입하는 것이다. 저축률은 가계가 살림살이에 쓸 수 있는 처분가능소득(가처분소득) 등에서 저축액이 차지하는 비중을 말한다. (중략) 이용대 한은 조사국 과장은 “사회적 거리두기 단계가 격상된 데다 감염 우려도 커지면서 바깥나들이와 외식을 자제하면서 소비가 위축된 영향도 있다”고 분석했다.

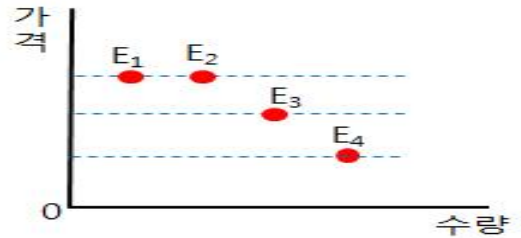
○○경제신문, 2020.12.14

치솟는 가계저축률
(단위:%)



- ① 가영 : 가계저축률이 2020년에 상승한 이유는 코로나19로 인한 불확실성으로 가계의 예비적 저축이 늘어난 것이 가장 큰 요인 중 하나야.
- ② 나영 : 가계저축률이 늘어나면 자본 축적이 증진되어 경제에 긍정적으로 작용할 수 있지만, 현재 시점에서는 즉각적인 투자의 증가로 이어지긴 힘들 것 같아.
- ③ 다영 : 가계가 절약하여 저축이 늘어나는 것은 좋지만, 총수요 측면에서는 경제 전체의 수요가 줄어들 수 있어 자칫 '절약의 역설'에 빠질 수 있어.
- ④ 라영 : 절약의 역설에 빠지면 장기침체를 초래할 수도 있어.
- ⑤ 마영 : 가계저축률의 증가는 가계의 임시소득의 증가와 관련이 있어.

79. 아래 그림에서 E₁~E₄는 어떤 재화의 최근 4년 동안 시장 균형점을 나타낸다. 이에 대한 옳은 분석을 <보기>에서 모두 고른 것은?



< 보 기 >

- ㄱ. 공급이 매년 증가했다.
- ㄴ. E₁에서 E₂ 사이에는 수요가 증가했다.
- ㄷ. 공급의 법칙이 성립하지 않았다.
- ㄹ. 수요 증가가 있었다면 E₃에서 E₄로의 이동이 불가능했다.

- ① ㄱ, ㄴ ② ㄱ, ㄷ ③ ㄴ, ㄷ ④ ㄴ, ㄹ ⑤ ㄷ, ㄹ

80. 아래 글은 조선시대 실학자 박제가가 쓴 '북학의'의 한 대목이다. 박제가가 이 글을 통해 강조하려는 주장은 무엇인가?

전주의 장사꾼은 처자식을 거느리고 생강과 참뽕을 짊어지고 걸어서 의주까지 간다. 이익이 없는 건 아니지만 걷느라 모든 근력이 다 빠지고, 가정적인 낙은 즐길 틈이 없다. 또 원산에서 마른 미역과 마른 생선을 말에 싣고 왔다가 사흘 만에 다 팔고 돌아가면 적은 이익이나마 생긴다. 하지만 땀새가 걸리면 본전만 하게 되고, 열흘이나 머물면 오히려 본전이 크게 줄어든다. 영동 지방의 경우 꿀은 생산되나 소금이 없고, 평안도 관서에 철은 생산되나 감귤이 없으며, 함경도 북도는 삼이 흔해도 무명은 귀하다. 산 골에는 붉은 판이 흔하고, 해변에는 창명젓과 메기가 흔하다. 영남의 고찰에서는 좋은 종이를 생산하고, 청산 보은에는 대추나무가 많으며, 한강 입구에 있는 강화에는 감이 많다. 백성들은 이런 물자를 서로 이용하여 풍족하게 쓰고 싶어도 힘이 미치지 않는다.

- ① 지역 특산물 생산을 장려해야 잘 살게 된다.
- ② 지역 간 분업이 잘 되어 있어서 생산성이 오른다.
- ③ 열심히 마케팅을 하면 누구나 부자가 될 수 있다.
- ④ 유통망이 잘 연결되면 서로가 이익을 볼 수 있다.
- ⑤ 중앙정부가 지역 생산물을 사줘야 한다.

<끝, 수고하셨습니다.>