

1회 모의고사 문제지

- 문제지 앞표지에 성명과 수험번호를 적었는지 확인 하십시오.
- 경제이론과 시사경제·경영은 문항당 3점, 4점이고 상황추론·판단은 문항당 5점입니다.
- 시험시간은 100분입니다.

< 경제이론 >

1. 다음 지문에서 나타난 경제 개념은 무엇인가?

프로 스포츠 팀에서 활동하는 운동선수의 연봉을 비교해보면 기량이 뛰어난 유명한 프로 스포츠 선수가 평범한 기량을 가진 선수에 비해서 훨씬 더 많은 연봉을 받고 있다.

- ① 매물비용 ② 롱테일 법칙
- ③ 죄수의 딜레마 ④ 쇼트커버링
- ⑤ 경제적 지대

2. 다음 상황에 대한 설명으로 옳지 않은 것은?

갑은 간식으로 김밥, 떡볶이, 순대 중에 하나를 고르려 한다. 이들의 가격과 갑이 각각에 대해 평가하는 편익은 다음과 같다.

	김밥	떡볶이	순대
가격(원)	1,500	1,000	1,500
갑의 편익(원)	1,700	1,300	1,600

각 대안에 대한 순편익은 '편익-기회비용'으로 본다. 갑은 한 가지를 먹으면 배가 불러서 두 가지 이상을 선택할 가능성은 없다.(단, 이자율은 0%로 가정한다.)

- ① 김밥 선택의 명시적 비용은 1,500원이다.
- ② 떡볶이 선택의 암묵적 비용은 200원이다.
- ③ 순대 선택의 기회비용은 1,700원이다.
- ④ 김밥과 순대의 순편익은 100원 차이다.
- ⑤ 순편익이 양(+)수인 대안은 떡볶이다.

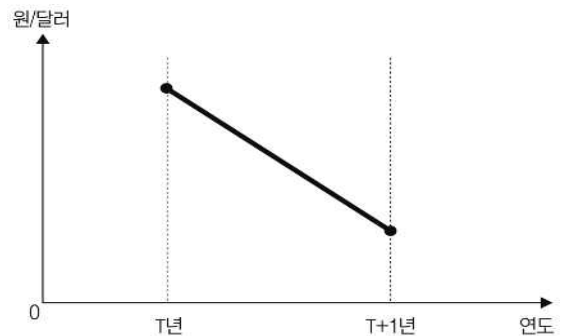
3. 가격 하한제에 대한 설명으로 옳지 않은 것은?

- ① 물량부족 현상이 발생한다.
- ② 수요자가 지불해야 하는 법정 최저가격이다.
- ③ 시장가격이 낮다고 판단할 때 사용되는 수단이다.
- ④ 생산요소시장이나 농산물시장에 주로 적용된다.
- ⑤ 생산자(공급자)를 보호하기 위한 제도다.

4. 장기적으로 총생산이 생산함수에 의해 결정되고 물가가 신축적이라고 가정하자. 다음 중 폐쇄경제에서 총저축과 투자를 일치시키는 가격변수는 무엇인가?

- ① 물가
- ② 통화량
- ③ 실질소득
- ④ 명목소득
- ⑤ 실질이자율

5. 아래 그림은 한국의 T년에서 T+1년으로의 환율 변화를 나타낸다. 그 결과로서 옳은 설명을 <보기>에서 고른 것은?



< 보 기 >

- ㄱ. 미국 상품의 수입이 감소하였다.
- ㄴ. 미국에 대한 수출이 증가하였다.
- ㄷ. 미국에 대한 국내 외채 부담은 줄어들었다.
- ㄹ. 미국에 유학생 자녀를 둔 국내 부모의 학비 부담은 줄었다.

- ① ㄱ, ㄴ ② ㄱ, ㄷ ③ ㄴ, ㄷ ④ ㄴ, ㄹ ⑤ ㄷ, ㄹ

6. 경제학에는 ‘공짜 점심은 없다’는 말이 있다. 어떤 편익에도 그에 대한 대가가 따른다는 것이다. 다음 중 이 말에 해당하는 가장 적합한 사례는?

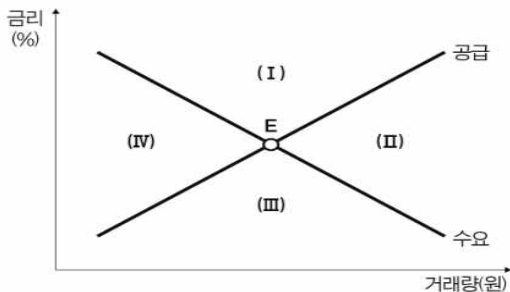
- ① 경기가 나빠지면서 많은 회사들이 공짜로 먹는 구내식당을 폐쇄했다.
- ② 경기를 살리기 위해 중앙은행이 통화를 공급하면 자칫 물가가 오를 수 있다.
- ③ 친구와 무료 시식코너에서 점심을 배부르게 먹었다.
- ④ 국가 간 교역은 항상 제로섬 게임이며, 아무런 편익이 없다.
- ⑤ 정부가 복지정책을 시행하더라도 채권을 발행하여 재정을 채울 수 있기 때문에 미래세대의 부담은 전혀 증가하지 않는다.

7. 우리나라의 실업통계에서 실업률이 가장 높아지는 경우는?

- ① 대학생이 군복무 후 복학한 경우
- ② 취업자가 퇴직하여 전업주부가 되는 경우
- ③ 직장인이 업무 중 교통사고를 당해 2주간 입원 중인 경우
- ④ 취업을 알아보던 해직자가 구직을 단념하는 경우
- ⑤ 공부만 하던 대학생이 편의점에서 주당 10시간 아르바이트를 시작하는 경우

8. <자금시장>에 아래와 같은 변화가 동시에 일어날 때, 현재 균형점 E가 이동할 영역으로 옳은 것은?

- 지급준비율이 인상되었다.
- 대출을 받아 사업을 확장하고자 하는 기업이 많아졌다.



< 자금시장 >

- ① (I) ② (II) ③ (III) ④ (IV) ⑤ 변동 없음

9. (A)에 대해 올바르게 설명한 것을 <보기>에서 모두 고르면?

집주인은 자신의 즐거움과 만족을 위해 꽃을 심고 가꾸지만 그 집 앞을 지나가는 이웃 주민에도 즐거움을 주기도 한다. 이처럼 의도하지 않았지만 다른 사람에게 이득을 주고 기쁨을 주는 현상을 (A)라고 한다.

< 보 기 >

- ㄱ. 사회 전체의 효용 증대를 위해서는 (A)의 현상을 적극 권장할 필요가 있다.
- ㄴ. 과수원 옆으로 양봉업자가 이사를 오면서 과일생산량이 증가한 것은 (A)의 사례에 해당한다고 할 수 있다.
- ㄷ. (A)의 효과를 장려하기 위해서는 장려금이나 보조금을 지급할 필요가 있다.

- ① ㄱ ② ㄱ, ㄴ ③ ㄱ, ㄷ ④ ㄴ, ㄷ ⑤ ㄱ, ㄴ, ㄷ

10. A국은 소규모 경제로서 b상품의 일부는 국내에서 생산하고 일부는 수입하고 있다. A국은 b상품에 대해 지금까지 개당 10원의 수입관세를 부과하고 있다. 그런데 자국의 b상품 생산을 장려하기 위해 수입관세는 그대로 10원을 부과한 상태에서 추가로 자국의 b상품 생산자들에게 제품 한 단위 당 10원의 보조금을 주기로 하였다. 이러한 수입관세와 보조금에 따른 효과로 옳지 않은 것은?

- ① 국내 생산자들에 대한 지원금을 b상품에 부과된 관세 수입으로 모두 충당할 수 있다면 사회적 잉여의 손실을 많이 줄일 수 있다.
- ② 국내 생산자에 대한 지원금이 지불되면 A국 생산자들의 생산량은 증가하겠지만, A국 소비자들의 소비량은 증가하지 않는다.
- ③ 국내 생산자들에 대한 지원금이 추가되어도 수입관세만 부과되었던 경우와 비교하여 A국 소비자들이 지불하는 b상품 가격에는 변화가 없다.
- ④ 수입관세를 부과하면 해외의 생산자들보다 비효율적인 국내의 생산자들로부터 구매하는 수량이 증가하여 사회적 잉여의 손실이 발생한다.
- ⑤ 국내 생산자들에게 지원금을 부과하면 두 가지 사회적 잉여의 손실이 발생한다. 하나는 정부의 지원 금액보다 국내 생산자 잉여의 증가가 작기 때문에 발생하고, 다른 하나는 해외 생산에 비해 비효율적인 국내 생산의 증가에 기인한다.

11. 다음 아래 지문은 어떤 개념을 설명하는가?


대학생 중 자차를 소유한 사람의 비율은 높지 않다. 하지만 대학 졸업 후 취업을 하여 소득이 생기면 차를 구입하는 경우가 많다. 보통 처음에는 주로 중고차를 구입한다. 하지만 시간이 흘러 경제적 여유가 생기면 중고차를 처분하고 신차를 구입하는 경우가 많다.

- ① 재화와 비재화
- ② 정상재와 열등재
- ③ 소득효과와 대체효과
- ④ 명시적 비용과 암묵적 비용
- ⑤ 대체재와 보완재

12. 다음 중 밑줄 친 두 재화 간의 관계가 나머지와 다른 것은?

- ① 현주는 가격이 더 비싼 배 대신 사과를 사왔다.
- ② 윤수는 콘택트렌즈 가격이 올라 안경만 착용한다.
- ③ 민철이는 베이글에 크림치즈를 발라먹고 싶어 크림치즈도 한 개 주문했다.
- ④ 승기는 셀카봉을 구입하여 카메라 삼각대는 더 이상 사용하지 않는다.
- ⑤ 현수는 바나나우유가 초코우유보다 저렴하기 때문에 바나나우유를 골랐다.

13. 아래 그래프는 수요곡선을 나타내고 있다. 이에 대한 설명 중 옳지 않은 것은?



- ① 수요의 가격탄력성은 무한대이다.
- ② 완전경쟁시장에서 기업이 직면하는 수요곡선을 보여준다.
- ③ 이러한 수요곡선에 직면한 기업의 평균수입곡선은 수요곡선과 일치한다.
- ④ 이러한 수요곡선에 직면한 기업의 한계수입곡선은 수요곡선과 일치한다.
- ⑤ 이러한 수요곡선에 직면한 기업의 한계비용은 수평선이다.

14. 다음 중 국내의 물가가 오르는 동시에 총생산이 감소할 수 있는 경우를 고르시오.

- ① 새로운 기술개발
- ② 대규모 정부투자의 증가
- ③ 중앙은행의 물가상승률 목표 상향조정
- ④ 글로벌 경제의 회복으로 수출증가
- ⑤ 석유 등 원자재가격의 상승

15. 수요와 공급의 법칙이 성립하는 시장에서 나타나는 균형을 설명하고 있다. 이에 대한 설명으로 옳지 않은 것은?

- ① 수요와 공급이 증가하게 되면 균형거래량은 반드시 증가한다.
- ② 시장에서 균형이 달성되면 자원 배분의 효율성이 충족된다.
- ③ 초과수요가 존재하면 가격이 하락하면서 시장은 균형 상태로 수렴하게 된다.
- ④ 시장이 균형 상태에 도달하면 수요량과 공급량이 언제나 일치한다.
- ⑤ 다른 조건이 일정할 때 수요가 증가하면 균형가격과 균형거래량이 모두 증가한다.

16. 세계 각국 정부는 소득 불균형 해소를 위해 여러 정책들을 시행하고 있다. 다음 중 소득 재분배 정책과 거리가 먼 것은?

- ① 현물보조
- ② 기본소득제 도입
- ③ 공적보험 운영
- ④ 역진세 확대
- ⑤ 부(負)의 소득세제 시행

17. 다음 표는 각 재화 A~D의 수요의 현재 가격 근방에서의 가격탄력성을 나타낸다. 탄력성 값이 그대로 유지된다고 할 때, 가격을 인하하면 수입이 감소하는 재화만을 모두 고른 것은?

재화	탄력성
A	3
B	1
C	0.5
D	0

- ① A, B ② C, D ③ A, C
- ④ B, D ⑤ A, B, C, D

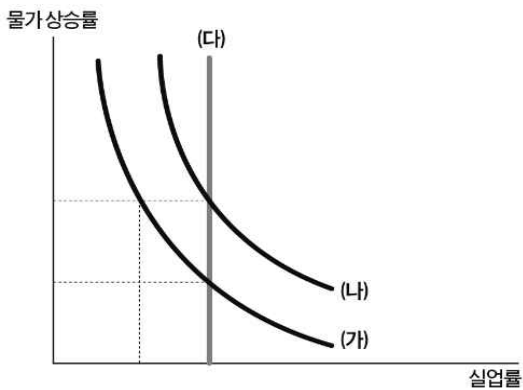
18. 다국적 기업들이 가상의 국가 A에 투자를 크게 늘리는 추세라고 하자. 아래 보기 중 반드시 성립한다고 볼 수 없는 것은?

- ① A국가의 정부재정은 적자이다.
- ② A국가의 자본수지는 흑자이다.
- ③ A국가의 경상수지는 적자이다.
- ④ A국가의 순해외투자는 음의 값을 갖는다.
- ⑤ A국가의 국내총투자가 국내총저축을 초과한다.

19. 중앙은행의 통화량 조절 정책에 대한 설명으로 옳지 않은 것을 고르시오.

- ① 선진국에서 법정지급준비율 정책이 자주 사용된다.
- ② 공개시장조작은 금융발전도가 낮은 국가에서는 효과적이지 않다.
- ③ 법정지급준비율을 인상하면 예금통화승수가 작아져서 통화 공급이 감소한다.
- ④ 제한인율을 인하하면 시중은행의 지급준비금이 늘어나기 때문에 통화 공급이 증가한다.
- ⑤ 중앙은행은 공개시장조작을 통해 법률이나 은행 관련 규정을 변경하지 않고도 통화량을 조절할 수 있다.

20. 다음은 필립스곡선이다. 이에 대한 설명으로 옳지 않은 것은?



- ① (가)와 (나)를 단기 필립스곡선이라고 한다.
- ② (가)와 (나)는 인플레이션과 실업률 간의 상충관계를 보여준다.
- ③ 필립스곡선이 (가)일 때 통화량이 증가하면 단기적으로 (나)로 이동한다.
- ④ 통화량 증가는 장기적으로 물가 상승만을 초래한다.
- ⑤ (다)는 장기 필립스곡선이며, 자연실업률 수준에서 수직이다.

21. 인플레이션으로 인해 발생하는 비용에 대한 설명으로 적절하지 않은 것은?

- ① 사람들의 예상이 적응적이고 인플레이션이 사전에 예상할 수 있다면 사회적 비용이 발생하지 않는다.
- ② 통화량의 증가로 발생한 인플레이션은 장기적으로 고용, 산출량 등 실물변수에 영향을 미칠 수 없다.
- ③ 인플레이션율이 높아지면 화폐보유자의 기회비용이 증가하게 된다.
- ④ 인플레이션으로 인한 가격조정이 모든 기업과 산업에 동일하지 않아서 자원배분의 비효율성이 생길 수 있다.
- ⑤ 인플레이션이 발생했을 때 세법은 자원배분을 왜곡시킨다.

22. 어느 공장에서 처음 열 사람의 근로자가 1인당 평균 40개의 제품을 생산했다. 그런데 근로자 한 사람이 더 고용하니 1인당 평균 생산량이 38개로 줄었다. 열한번째 근로자를 추가 고용했을 때 한계생산은 몇 개인가?

- ① 9
- ② 12
- ③ 15
- ④ 18
- ⑤ 21

23. 갑국과 을국이 비교우위에 따라 무역을 한다. 이에 따른 해당 국가에 미칠 영향을 <보기>에서 옳은 것을 모두 고르면?

< 보 기 >

- ㄱ. 다양한 상품을 저렴한 가격에 구매할 수 있다.
- ㄴ. 외국 상품이 국내 시장을 왜곡한다.
- ㄷ. 국내 독점 산업의 진입장벽이 제거되면서 국내 소비자 잉여가 증가한다.
- ㄹ. 모든 산업의 근로자는 고용, 실업에서 영향을 받지 않는다.

- ① ㄱ, ㄴ
- ② ㄱ, ㄷ
- ③ ㄴ, ㄷ
- ④ ㄴ, ㄹ
- ⑤ ㄷ, ㄹ

24. 자원의 희소성에 대한 설명으로 가장 적절한 것은?

- ① 자원의 희소성은 사회에 따라 변하지 않는다.
- ② 희소성은 자원의 절대적인 크기에 의해 결정된다.
- ③ 자원의 양이 많으면 인간의 필요 및 욕구와 상관 없이 희소하지 않다.
- ④ 같은 재화라도 인간의 필요와 욕구에 따라 자원의 희소성은 달라진다.
- ⑤ 자원의 희귀성과 같이 인간의 필요와 욕구는 무한하기 때문에 자원은 언제나 희소하다.

25. X재와 Y재는 서로 완전 보완재다. 다른 조건이 일정할 때 X재 가격 하락의 효과로 옳지 않은 것은?

- ① X재의 소비량이 증가한다.
- ② Y재의 소비량이 증가한다.
- ③ X재 소비량과 Y재 소비량의 비율은 변하지 않는다.
- ④ 대체효과의 크기는 0이다.
- ⑤ 소득효과의 크기는 0이다.

26. “BSI, CSI 지수가 3분기 연속 100아래로 하락”이라는 신문기사가 나왔다. 향후 이러한 흐름이 지속된다고 할 때, 옳지 않은 설명은?

- ① 기업의 고용이 위축된다.
- ② 정부가 추가경정예산을 편성할 가능성이 높다.
- ③ 가계 소비심리가 위축되었다.
- ④ 한국은행은 국공채를 매각할 것이다.
- ⑤ 경제상황을 부정적으로 보는 가계가 더 많다.

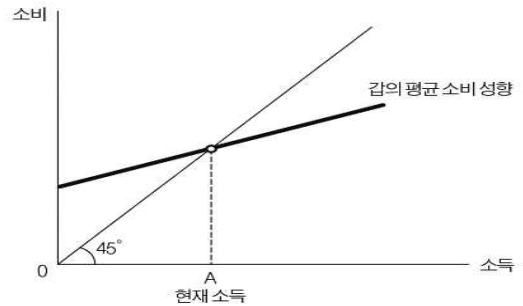
27. 국민경제순환모형에서 국민소득 3면 등가의 법칙에 따라 같아지는 항목끼리 모은 것을 고르면?

- ① 이자, 이윤, 소득
- ② 생산, 분배, 지출
- ③ 임금, 지대, 이윤
- ④ 노동, 자본, 토지
- ⑤ 경상수지, 자본수지, 서비스수지

28. 독점적 경쟁시장에 대한 설명으로 옳지 않은 것은?

- ① 기업들은 가격설정자다.
- ② 시장의 진입과 퇴출이 자유롭다.
- ③ 기업들은 비교적 차별화된 제품을 공급한다.
- ④ 장기적으로 기업이 얻는 초과이윤이 사라진다.
- ⑤ 비가격 경쟁이 발생하지 않는다.

29. 그림은 갑의 평균 소비 성향을 나타낸 것이다. 이에 기초할 때 갑의 소득 변화가 갑에게 미치는 효과에 대한 옳은 추론을 <보기>에서 고른 것은?



▶ 평균 소비 성향=소비/소득 ▶ 소득=소비+저축

< 보 기 >

ㄱ. A에서 갑의 소득액과 소비액은 동일하고, 저축은 0이다.

ㄴ. A보다 소득이 높아지면 소비 증가분보다 소득 증가분이 커서 총저축이 증가한다.

ㄷ. A보다 소득이 낮아지면 소득 감소분보다 소비 감소분이 커서 총저축은 증가한다.

ㄹ. 갑은 일생에 걸쳐 소비 수준을 일정하게 유지한다.

- ① ㄱ, ㄴ ② ㄱ, ㄷ ③ ㄴ, ㄷ ④ ㄴ, ㄹ ⑤ ㄷ, ㄹ

30. 팽창적인 통화정책이 실물경제에 영향을 미치는 경로에 대하여 옳게 진술한 것을 <보기>에서 모두 고르면?

< 보 기 >

ㄱ. 자산 가격 경로에 따르면 통화량이 증가하여 이자율이 하락하면 주식에 대한 수요가 증가한다. 이에 따라 주식 가격이 상승하게 되고 이에 따라 기업의 자금조달이 용이해져 기업은 투자를 늘리게 된다.

ㄴ. 기준금리가 이미 매우 낮은 상황에서는 통화정책을 통해 추가적인 이자율 하락을 기대할 수 없으므로 통화정책의 효과를 기대하기 어렵다.

ㄷ. 기준금리의 하락은 자금조달비용을 하락시켜 기업이 투자를 늘리게 할 수 있다.

- ① ㄱ ② ㄱ, ㄴ ③ ㄱ, ㄷ ④ ㄴ, ㄷ ⑤ ㄱ, ㄴ, ㄷ

39. 다음 중 부채총액을 증가시키는 거래는?

- ① 유가증권을 매각한다.
- ② 차입금이자를 지급한다.
- ③ 상품을 외상으로 매입한다.
- ④ 전기에서 이월된 미지급금료를 지급한다.
- ⑤ 외상매입금 지급을 위해 약속어음을 발행한다.

40. 최근 중국의 국유기업에서 디폴트(채무불이행)를 선언하면서 경제 각 부문의 과도한 부채는 세계적 경제 위기를 초래할 수 있는 중요한 문제로 인식되고 있다. 다음 중 과도한 부채를 해소하기 위한 방법으로 가장 관련이 적은 것은?

- ① 테이퍼링 ② 경제성장 ③ 기준금리 인상
- ④ 공개시장 매각 ⑤ 주택담보인정비율(LTV) 인상

41. 산업은행 주도로 대한항공과 아시아나항공의 통합작업이 진행되면서 '이 기업'에 대해 정부주도 구조조정이 시작되었다는 분석이 있었다. '이 기업'은 보통 좀비기업이라고도 불린다. 영업 활동을 통해 벌어들인 이익으로 이자(금융비용)도 감당하지 못하는 등 시장에서 경쟁력을 상실한 '이 기업'은 무엇인가?

- ① 기간기업 ② 상장기업 ③ 블랙기업
- ④ 한계기업 ⑤ 아메바기업

42. 독창적인 아이디어로 새로운 사업 기회를 찾을 수 있는 틈새시장을 뜻하는 용어는 무엇인가?

- ① 불마켓 ② 니치마켓 ③ 레몬마켓
- ④ 베어마켓 ⑤ 골든마켓

43. 아래와 같은 상황에서 선물계약을 한 투자자 A의 손익은 어떻게 되는가?

투자자 A는 외환선물시장에서 보유한 1000달러에 대해서 “90일 만기 달러당 1800원의 선물계약”을 체결하면서 매수포지션을 취했다. 선물계약을 체결할 당시 원/달러 환율은 1700원이었으나, 90일 후 원/달러 환율은 2000원이 되었다.

- ① 30만원 이익 ② 20만원 이익 ③ 10만원 이익
- ④ 30만원 손실 ⑤ 20만원 손실

44. A국가가 B국가의 무역에 불이익을 주는 조치를 취할 때, 이에 대응해 B국가가 A국가에서 수입하는 상품에 고율의 관세를 부과했다고 하자. 이런 관세를 무엇이라 일컫는가?

- ① 상계관세 ② 계절관세 ③ 보복관세
- ④ 긴급관세 ⑤ 할당관세

45. 최근 감정 노동에 종사하는 직원들에 대한 욕설 및 폭언 등의 고충으로 인해, '직원이 손님에게 친절해야 할뿐만 아니라 손님도 직원에게 예의를 지켜야 한다'는 의미를 담은 신조어가 등장했다. 근로자와 소비자 간 균형을 일컫는 '이것'은 무엇인가?

- ① 워커벨 ② 블록딜 ③ 퍼플칼라
- ④ 프로슈머 ⑤ 워커홀릭

46. A지역 부동산 거래를 강하게 규제하니 인접지역인 B, C지역의 부동산 매매 수요가 급증하였을 때, 이와 어울리는 효과는 무엇인가?

- ① 낙수효과 ② 풍선효과 ③ 기저효과
- ④ 분수효과 ⑤ 피셔효과

47. 다음은 은행의 위험관리에 대한 설명이다. (A)와 (B)에 관한 내용을 순서대로 알맞게 짝지으면?

은행이 위험관리를 함에 있어 예상된 손실은 (A)(으)로, 예상 밖의 손실은 (B)(으)로 보전할 수 있어야 한다는 것이 일반적으로 적용되는 기본원칙이다.

(A) (B)

- ① 충담금 - 부채
- ② 충당금 - 자본
- ③ 부채 - 충당금
- ④ 자본 - 충당금
- ⑤ 자본 - 부채

48. 다음 지문을 읽고, 빈칸에 들어갈 동물 이름으로 옳은 것을 고르면?

강력한 경쟁자가 나타났을 때 기존 기업의 경쟁력이 오히려 높아지는 현상을 () 효과라고 한다.

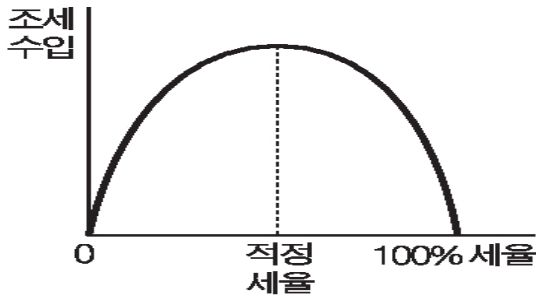
- ① 메기 ② 문어 ③ 황소
- ④ 백조 ⑤ 코끼리

49. 다음 나열한 내용이 설명하는 용어는?

- 소득, 재산 등 소득금액이 커질수록 높은 세율 적용
- 계층 간 소득 재분배가 목적
- 대표적인 예로 소득세

- ① 누진세 ② 인두세 ③ 토빈세
 ④ 증권거래세 ⑤ 부가가치세

50. 다음 그림은 무엇인가?



- ① 앵겔 곡선 ② 래퍼 곡선 ③ 로렌츠 곡선
 ④ 무차별 곡선 ⑤ 쿠즈네츠 곡선

51. 다음은 경제학 발전 과정에 지대한 영향을 미친 학자들의 생각을 단적으로 표현한 문장이다. <보기>에서 A와 B를 말한 사람을 순서대로 바르게 짝지은 것은?

- < 보 기 >
- A. cool head and warm heart
 B. Inflation is always and everywhere a monetary phenomenon.

- | | |
|---------------|---------------|
| A | B |
| ① J.M. Keynes | - I. Fisher |
| ② A. Smith | - M. Friedman |
| ③ J.M. Keynes | - A. Marshall |
| ④ A. Smith | - J.M. Keynes |
| ⑤ A. Marshall | - M.Friedman |

52. 상장기업의 경영권 방어를 위해 누구든 상장사 지분을 일정수준 이상 갖게 되면 주식보유 현황과 변동내역을 신고하도록 한 제도는 무엇인가?

- ① 5%룰 ② 조회공시 ③ 황금낙하산
 ④ 공개매수 ⑤ 스톱어드십 코드

53. 금융시장과 금융상품에 대한 설명으로 옳지 않은 것은?

- ① 금융시장은 자금의 공급자와 자금의 수요자를 적은 거래비용으로 연결해 준다.
 ② 시장이자율이 상승하면 자금을 대한 수요량은 감소한다.
 ③ 위험한 금융상품일수록 시장이자율이 낮아지게 된다.
 ④ 자금을 대한 수요가 증가하면 시장이자율은 상승한다.
 ⑤ 신용도가 높은 기업일수록 발행하는 채권의 금리는 낮다.

54. 다음 나열한 내용을 통해 알맞은 용어를 고르면?

- 케이맨제도
- 버뮤다
- 버진아일랜드

- ① 스펙 ② 프롭테크
 ③ 조세피난처 ④ 그림자금융
 ⑤ 페이퍼컴퍼니

55. 다음 나열한 내용을 알맞게 설명한 용어를 고르면?

- 미국 북동부 5대호 주변 쇠락한 공장지대
- 미국 제조업 몰락을 상징적으로 보여줌
- 2016년, 2020년 미국 대선에서도 이 지역 노동자들의 지지를 얻기 위한 경쟁이 치열

- ① 선벨트 ② 히스패닉 ③ 실리콘밸리
 ④ 러스트 벨트 ⑤ 스윙스테이트

56. 한때 삼성이 메모리 반도체인 D램 시장에서 경쟁업체들과 '이것'을 통해 시장 점유율을 증가시켰다. '이것'은 게임이론에서도 사용되는 용어로, 어느 한쪽이 무너질 때까지 출혈 경쟁을 하는 것이다. '이것'은 무엇인가?

- ① 콜드 게임 ② 윈윈 게임
 ③ 치킨 게임 ④ 스윙 전략
 ⑤ 집중화 전략

62. 다음은 A국의 고용 관련 지표를 나타낸 것이다. 2010년과 2020년의 고용 관련 지표를 비교할 때, 다음 중 옳은 설명을 <보기>에서 모두 고른 것은?

	생산가능인구 (명)	고용률 (%)	경제활동참가율 (%)
2010	40,000,000	58.0	61.0
2020	44,000,000	60.0	63.0

< 보 기 >

ㄱ. 실업자 수는 증가하였다.
 ㄴ. 취업자 수는 감소하였다.
 ㄷ. 비경제활동인구는 증가하였다.

- ① ㄱ ② ㄱ, ㄴ ③ ㄱ, ㄷ ④ ㄴ, ㄷ ⑤ ㄱ, ㄴ, ㄷ

63. A국에서 (가)와 (나)의 상황이 발생할 경우 나타날 경제적 현상으로 가장 적합한 것은?

(가) A국의 현재 10억 원인 개인 대주주 기준이 내년 말 이후로는 3억 원으로 낮아진다. 직계 존비속을 모두 포함하기 때문에 자산가는 물론이고 주식거래 비중이 높은 일부 중산층까지 대상이 될 가능성이 높다. 일반 주식투자자는 매도 시 거래세만 0.25%를 내지만, 개인 대주주가 되면 시세차익의 최대 30%를 양도세로 내야 한다.

(나) A국은 민간택지 분양가상한제 등으로 주택 공급이 줄어들 것으로 예상되는 데다 자율형 사립고·외국어고·국제고 폐지 및 정시 확대로 전국 주요 학군지역의 수요가 늘어 집값이 요동치는 상황이었다. 그런데 정부가 갑자기 집을 팔 수도, 살 수도 없게 한 부동산 거래 동결 정책을 발표했다. 고가 주택담보대출을 꽉 막고, 양도소득세 감면을 위한 실거주 조건이 강화되었다.

- ① (가) 고액 개인투자자 주식시장 투자열풍 (나) 임대 아파트 공급 확대
 ② (가) 고액 자산가 재산 해외 도피 (나) 임대 아파트 공급 축소
 ③ (가) 고액 개인투자자 주식시장 기피현상 (나) 학군 좋은 지역 전세값 폭등
 ④ (가) 고액 자산가의 주식 매수 증가 (나) 학군 좋은 지역 전세값 폭등
 ⑤ (가) 고액 개인투자자 주식시장 기피현상 (나) 지방 부동산 값 폭락

64. 다른 상황에 대한 변동이 없을 때, 미국 중앙은행(Fed)의 점진적인 금리 인상에 따라 미국의 달러화와 중국의 위안화 사이의 환율이 1달러 당 5위안에서 6위안으로 변동하였다고 하자. 이 같은 변동으로 말미암은 결과 중에서 <보기>에서 옳은 것끼리 짝지은 것은?

< 보 기 >

ㄱ. 중국 사람들에게 미국산 상품은 싸졌다.
 ㄴ. 미국의 중국 상품에 대한 수입이 증가할 것이다.
 ㄷ. 중국의 대(對) 미국 무역수지는 장기적으로 개선될 것이다.
 ㄹ. 미국 상품의 대(對) 중국 수출이 증가할 것이다.

- ① ㄱ, ㄴ
 ② ㄱ, ㄷ
 ③ ㄴ, ㄷ
 ④ ㄴ, ㄹ
 ⑤ ㄷ, ㄹ

65. 다음 그림을 통해, 합계 출산율이 장기적으로 하락할 경우 나타날 경제적 현상에 대한 설명 중 옳지 않은 것은?



- ① 생산가능인구가 줄어들 것이다.
 ② 이민청 설립에 대한 사회적 논의가 시작될 것이다.
 ③ 교육대학, 사범대학에 대한 입시생들의 입시 수요가 줄어들 것이다.
 ④ 노인부양비가 감소한다.
 ⑤ 1인 가구 증가와도 관련된 현상이다.

66. 다음 지문을 읽고, 친구들의 대화 중 옳지 않은 것은?

(A)망중립성(net neutrality)을 고속도로에 비유하면 도로 관리주체가 차량 종류나 적재중량, 제한속도 등을 제한할 수 없게 하는 원칙이다. 미국은 망중립성을 폐지하면서 큰 트럭이나 버스, 무거운 짐을 실은 차량 등에 추가 요금을 매기거나 속도제한 혹은 통행금지 조치까지 내릴 수 있게 됐다. (B)인터넷서비스사업자(ISP)가 (C)인터넷·콘텐츠 기업을 대상으로 사용량, 속도 등에 따라 요금을 차별화할 수 있게 됐다는 얘기가.

- ① 진희 : (B)는 구글, 넷플릭스와 같은 인터넷·콘텐츠 기업이야.
- ② 정수 : (B)는 (C)에게 트래픽 유발로 망 운영과 투자에 대한 비용을 받아야한다고 주장해.
- ③ 진호 : (A)는 (C)가 거대 기업으로 성장할 수 있는 배경 중 하나였어.
- ④ 상태 : (C)는 (A)를 통해 망사용을 폭발적으로 늘려 망 황폐라는 공유지의 비극을 초래할 수 있어.
- ⑤ 가영 : (A)에 대한 문제는 기본적으로 망을 공동으로 사용하는 공공의 영역인지 투자한 것에 대하여 해당 업체가 가격을 책정하여 사용하는 사적인 영역인지에 대한 갈등이라고 볼 수 있어.

67. 다음 신문기사를 통해 드라이아이스 가격과 거래량의 변화를 알맞게 추론한 것은?

전례 없는 드라이아이스 수급난의 직접적인 원인은 신종 코로나바이러스 감염증(코로나19) 사태다. 탄산(CO2)은 석유화학회사가 플라스틱 제품을 생산하거나 정유사가 원유를 정제하는 과정에서 부산물로 나온다. 드라이아이스는 탄산을 고순도로 압축해 만든 것이다. 하지만 올해는 코로나19 여파로 이들 공장 가동률이 전년 대비 20~40% 하락하면서 탄산 공급이 확 줄었다.
○○경제신문, 2020.11.11

- | | | |
|------|-----------|------------|
| | 가격 | 거래량 |
| ① 상승 | - | 하락 |
| ② 상승 | - | 상승 |
| ③ 상승 | - | 변함없음 |
| ④ 하락 | - | 상승 |
| ⑤ 하락 | - | 하락 |

68. 아래 두 개의 지문을 읽고, 해당 시기의 경제적 사건이 한국과 중국의 무역환경에 미치는 영향을 올바르게 판단한 것은?

우리금융경영연구소는 ‘미중 무역협상 전망과 시사점’ 보고서를 통해 “한국이 미·중 무역 갈등의 영향을 가장 많이 받은 것으로 평가된다.”고 분석했다. 보고서를 작성한 우리금융경영연구소 글로벌 연구센터는 이 같은 분석에 대해 “한국이 제조업 분야에서 글로벌 공급망에 고도로 통합돼 있는데, 대중국 수출 비중이 높고 반도체 등 특정 품목에 많이 의존하기 때문”이라 설명했다.

미국과 중국이 1단계 무역 합의에 도달했다. 지난해 3월 도널드 트럼프 미 대통령이 중국에 대규모 관세를 매기겠다고 선전포고한 지 21개월 만이다. 관세를 부과하기 시작한 지난해 7월을 기점으로 하면 17개월 만이다. 이번 합의는 미니딜이며 일종의 휴전이다. 미국이 중국에 부과하고 있는 관세 전부를 예전으로 되돌리지는 않았다는 점에서 종전은 아니다. 하지만 확전을 피했다는 것만으로도 세계 경제는 무역전쟁발 불황 공포에서 일단 벗어나게 됐다.

	중국의 대미수출	한국의 대중국수출	원화 가치
①	감소	감소	하락
②	감소	감소	상승
③	증가	증가	하락
④	증가	증가	상승
⑤	변화 없음	변화 없음	변화 없음

69. 다음은 갑국의 경제 상황이다. 이에 대한 설명으로 옳은 것은? (단, 갑국의 기준연도는 2016년이다.)

- 갑국은 2016년에 쌀만 10kg 생산했다.
- 갑국의 2016년 실질 GDP는 100만 원이다.
- 갑국은 2017년에 쌀만 10kg 생산했다.

- ① 갑국의 2016년 쌀의 명목 가격은 알 수 없다.
- ② 갑국의 2016년 명목 GDP와 실질 GDP는 다르다.
- ③ 갑국의 2017년 명목 GDP와 실질 GDP는 동일하다.
- ④ 갑국의 2017년 명목 GDP는 100만 원이다.
- ⑤ 갑국의 2017년 실질 GDP는 100만 원이다.

70. 표는 감자와 고구마를 생산하는 농부 A의 두 재화에 대한 직선인 생산가능곡선의 조합 일부를 보여주는 것이다. 이에 대한 분석으로 옳은 것은?(단, 농부 A는 생산 가능곡선 상의 다른 조합에서 생산이 가능하고, 감자 1단위의 가치는 고구마 1단위의 가치와 동일하다.)

구분	조합1	조합2	조합3	조합4
감자	0	4	8	10
고구마	20	12	4	0

- ① 농부 A는 감자 10단위, 고구마 20단위를 생산할 수 있다.
- ② 농부 A는 감자 6단위, 고구마 10단위를 생산할 수 있다.
- ③ 농부 A의 감자 1단위 생산의 기회비용은 고구마 1단위이다.
- ④ 농부 A는 감자 2단위와 고구마 16단위를 동시에 생산할 수 있다.
- ⑤ 농부 A가 감자 6단위, 고구마 8단위를 생산하는 것은 비효율적이다.

71. 아래 글을 통해 추론할 수 있는 것으로 맞지 않는 것은?

무역 선박이 항해에서 무사히 돌아오면 선박 투자자는 큰 이익을 봤다. 반면에 무역 선박이 되 돌아오지 못하면 그 투자자는 커다란 손실을 입었다. 투자자들은 이런 손실을 어떻게 피할 수 있을까를 고민했다. 당시 암스테르담에 투자자들이 모여 자금을 공동 출자해 선박을 마련했다. 선박이 무사히 돌아오면 물건을 팔아 이익을 분배했다. 선박이 돌아오지 못한 경우엔 위험을 감소시켰다. 1602년 네덜란드 회사가 오늘날 기업 형태로 등장했다. 투자자들은 이익을 채투자했고, 이익을 회수하려는 투자자는 주식을 팔았다. 주식은 시장에서 거래되기 시작했다. 주식 매매를 중개하는 사람도 생겼다.

- ① 주식회사가 탄생한 배경을 알 수 있지.
- ② 1602년 생긴 회사가 바로 네덜란드 동인도 회사야.
- ③ 서로 잘 아는 사람들끼리만 주식회사를 설립해야 한다는 점이 잘 드러나 있어.
- ④ 누군가의 설계가 아니라, 사람들의 행동 결과로 제도가 생긴다는 점을 알 수 있어.
- ⑤ 이 당시 생긴 '내 선박이 돌아오면(when my ship comes in)'은 운이 좋은 결과를 의미할 때 쓰지.

72. 한때 전력요금 개편과 관련하여 사회적 논란이 있었다. 이에 대한 지문을 읽고, 잘못 추론한 것을 고르시오.

- 산업통상자원부의 '민관합동 전기요금 누진제 태스크포스'는 전체회의를 열고 최종 권고안을 확정했습니다. (중략) 1안의 구체적인 확대 범위는 1단계 사용량이 기존 200에서 300kWh로 늘어나고, 2단계는 기존 400에서 450kWh로 확대됩니다. 이렇게 되면 가구당 할인 폭은 월평균 10,142원 정도로 1,629만여 가구가 요금 혜택을 받을 전망입니다.
- 녹색당은 또 "폭염에 선풍기도 맘껏 틀기 어려운 사람들, 피약별에 노출돼 일하는 사람들, 단열이 안 돼 겨울엔 추위를 여름엔 더위를 온몸으로 견뎌야 하는 사람들, 이런 에너지 빈곤층에게 에너지 복지를 실효성 있게 강화해야 한다"고 주문했습니다. (중략) 정작 진짜 전기요금 할인 혜택을 받아야 할 저소득층은 이번 개편안에서 특정되지 못했습니다. 고소득 1, 2인 가구 등이 여전히 필수사용공제(월 4000원 할인)를 받는 반면 저소득 다자녀 가구 등은 '냉방요금 폭탄'을 맞는 불합리를 뜯어고칠 수 없습니다.

- ① 일정량의 전기를 사용하고 있다는 점에서 저소득 다자녀가구에게 전기는 필수제인 것으로 보인다.
- ② 소득이 많은 사람일수록 전기사용량이 많을 가능성이 높기 때문에, 이번 누진제 개편안은 역진적일 수 있다.
- ③ 일부 저소득층의 전기요금 부담을 완화하기 위해서는 누진제 개편안보다 에너지 바우처 등의 정책이 보다 더 효과적일 수 있다.
- ④ 누진제 개편안으로 인해 한국전력의 수익이 감소하여 공급곡선이 좌측으로 이동할 것으로 예측할 수 있다.
- ⑤ 한국전력의 경영악화로 훗날 전력 가격이 상승한다면, 누진제 완화에 따른 소비자 후생 증가효과는 기대한 것보다 작아질 수 있다.

73. 철호가 맥주를 소비하려 한다. 철호의 첫 번째 잔에 대한 지불용의는 1만 원, 두 번째 잔에 대한 지불용의는 7천 원, 세 번째 잔은 4천 원, 네 번째 잔은 2천 원의 지불용의가 있다. 맥주 한 잔의 가격이 3천 원이라고 할 때, 철호의 총 소비자 잉여는 얼마인가?

- ① 9천 원 ② 1만 2천 원 ③ 1만 8천 원
- ④ 2만 1천 원 ⑤ 2만 4천 원

74. 다음의 주장들을 잘못 설명한 것은?

- 주장 1 : 대기업들의 이익 추구가 과도하다. 휘발유 가격도 그렇고 아파트 분양가도 마찬가지다. 기업들은 적정 이윤만 받아야 한다. 폭리를 취하는 것은 상도외에 어긋난다. 원가에 적정이윤을 더한 공정 가격이 경제정책의에 부합한다.
- 주장 2 : 이익에 대해 과도하다거나 과소하다고 말할 수 없다. 기업은 원가와 판매가의 차액을 극대화하는 것을 목표로 하는 조직이다. 적정가격이라는 논리는 기업 활동을 부정하는 명분에 불과하다. 이는 결국 정부가 가격 구조에 개입하는 결과를 낳는다.

- ① 주장 1은 정부가 공정 가격을 계산할 수 있다고 본다.
- ② 주장 1은 자유로운 기업 활동에 찬성한다.
- ③ 주장 2는 기업의 무형적 가치 창출에 주목한다.
- ④ 주장 2는 기업이 존재할 수 있는 가장 중요한 요소는 이윤창출이라고 본다.
- ⑤ 주장 2는 정부의 시장 가격 개입에 반대한다.

75. 다음 <표>는 완전경쟁시장에서 거래되는 사과와 수요량과 공급량에 관한 자료이다. 이 자료를 보고 옳게 추론한 것은?

< 표 >

사과 가격	수요량	공급량
1000원	10개	12개
800원	11개	11개
600원	12개	10개
400원	13개	9개
200원	14개	8개

- ① 사과의 균형가격은 600원이다.
- ② 정부가 가격을 400원으로 고정시키면 거래량은 13개가 된다.
- ③ 정부가 시장가격을 1000원으로 설정하면 실제 거래량은 10개가 된다.
- ④ 생산자잉여를 가장 크게 하려면 사과의 가격이 200원이 되어야 한다.
- ⑤ 소비자잉여를 가장 크게 하려면 사과의 가격이 800원이 되어야 한다.

76. 다음 기사와 같은 정부 정책으로 우려되는 결과를 <보기>에서 옳게 고른 것은?

정부는 대부업체가 보유 중인 장기·소액 연체채권을 사들여 소각하는 방안을 다음 달 내놓기로 했다. 서민·취약계층의 재기를 돕기 위해 ‘빚 탕감’ 범위를 국민행복기금과 금융공기업에 이어 민간 금융회사로 확대하겠다는 계획이다. 빚 탕감 대상자가 사상 최대인 100만 명에 이를 수 있다는 관측이 나온다.
2017년 7월 27일, ○○경제신문

<보기>

- ㄱ. 공공채 부족
- ㄴ. 외부 불경제 확대
- ㄷ. 도덕적 해이 확산
- ㄹ. 신용 시장 위축

- ① ㄱ, ㄴ
- ② ㄱ, ㄷ
- ③ ㄴ, ㄷ
- ④ ㄴ, ㄹ
- ⑤ ㄷ, ㄹ

77. 다음 지문을 읽고, 밑줄 친 내용과 연관된 내용을 <보기>에서 고르면?

테슬라의 흑자 달성 요인을 면밀히 살펴보면, ‘규제크레딧’의 존재가 있다. 배기가스를 적게 배출한 테슬라는 정부가 정한 배기가스 배출 허용량을 넘어선 다른 기업에 규제크레딧 여유분을 판매해 수익을 얻을 수 있다. 테슬라는 규제크레딧으로 3분기 3억9700만 달러의 이익을 올렸다. 만약, 규제크레딧이 없었다면 테슬라는 3분기 흑자를 달성하지 못했을 것이다.

<보 기>

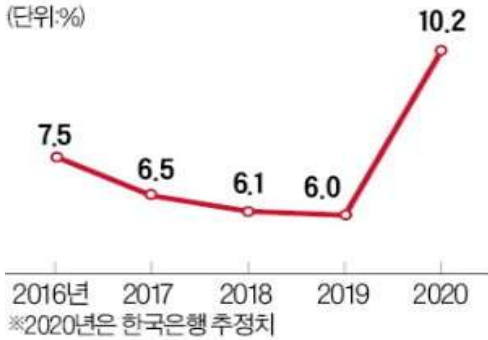
- ㄱ. 배출권 거래제 ㄴ. 로렌츠 곡선
- ㄷ. 코즈의 정리 ㄹ. 꾸르노 모형

- ① ㄱ, ㄴ ② ㄱ, ㄷ ③ ㄴ, ㄷ ④ ㄴ, ㄹ ⑤ ㄷ, ㄹ

78. 다음 신문기사와 그림을 잘못 이해한 사람을 고르면?

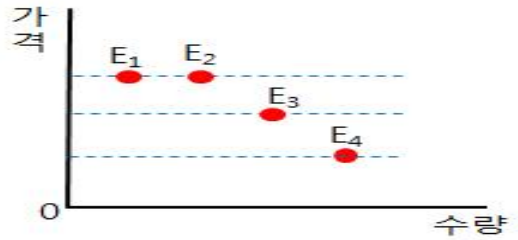
13일 한국은행에 따르면 올해 가계저축률은 작년(6.0%)보다 4.2%포인트 오른 10.2%를 기록할 것으로 추정되고 있다. 외환위기 직후인 1999년(13.2%) 후 21년 만에 10%대에 다시 진입하는 것이다. 저축률은 가계가 살림살이에 쓸 수 있는 처분가능소득(가처분소득) 등에서 저축액이 차지하는 비중을 말한다. (중략) 이용대 한은 조사국 과장은 “사회적 거리두기 단계가 격상된 데다 감염 우려도 커지면서 바깥나들이와 외식을 자제하면서 소비가 위축된 영향도 있다”고 분석했다.
 ○○경제신문, 2020.12.14

치솟는 가계저축률
(단위%)



- ① 가영 : 가계저축률이 2020년에 상승한 이유는 코로나19로 인한 불확실성으로 가계의 예비적 저축이 늘어난 것이 가장 큰 요인 중 하나야.
- ② 나영 : 가계저축률이 늘어나면 자본 축적이 증진되어 경제에 긍정적으로 작용할 수 있지만, 현재 시점에서는 즉각적인 투자의 증가로 이어지긴 힘들 것 같아.
- ③ 다영 : 가계가 절약하여 저축이 늘어나는 것은 좋지만, 총수요 측면에서는 경제 전체의 수요가 줄어들 수 있어 자칫 '절약의 역설'에 빠질 수 있어.
- ④ 라영 : 절약의 역설에 빠지면 장기침체를 초래할 수도 있어.
- ⑤ 마영 : 가계저축률의 증가는 가계의 임시소득의 증가와 관련이 있어.

79. 아래 그림에서 E₁~E₄는 어떤 재화의 최근 4년 동안 시장 균형점을 나타낸다. 이에 대한 옳은 분석을 <보기>에서 모두 고른 것은?



< 보기 >
 가. 공급이 매년 증가했다.
 나. E₁에서 E₂ 사이에는 수요가 증가했다.
 다. 공급의 법칙이 성립하지 않았다.
 라. 수요 증가가 있었다면 E₃에서 E₄로의 이동이 불가능했다.

- ① 가, 나 ② 가, 다 ③ 나, 다 ④ 나, 라 ⑤ 다, 라

80. 아래 글은 조선시대 실학자 박제가가 쓴 '북학의'의 한 대목이다. 박제가가 이 글을 통해 강조하려는 주장은 무엇인가?

전주의 장사꾼은 처자식을 거느리고 생강과 참뱃을 짊어지고 걸어서 의주까지 간다. 이익이 없는 건 아니지만 견느라 모든 근력이 다 빠지고, 가정적인 낙은 즐길 틈이 없다. 또 원산에서 마른 미역과 마른 생선을 말에 싣고 왔다가 사흘 만에 다 팔고 돌아가면 적은 이익이나마 생긴다. 하지만 닻새가 걸리면 본전만 하게 되고, 열흘이나 머물면 오히려 본전이 크게 줄어든다. 영동 지방의 경우 꿀은 생산되나 소금이 없고, 평안도 관서에 철은 생산되나 감귤이 없으며, 함경도 북도는 삼이 흔해도 무명은 귀하다. 산골에는 붉은 판이 흔하고, 해변에는 창명젓과 메기가 흔하다. 영남의 고찰에서는 좋은 종이를 생산하고, 청산 보은에는 대추나무가 많으며, 한강 입구에 있는 강화에는 감이 많다. 백성들은 이런 물자를 서로 이용하여 풍족하게 쓰고 싶어도 힘이 미치지 않는다.

- ① 지역 특산물 생산을 장려해야 잘 살게 된다.
- ② 지역 간 분업이 잘 되어 있어서 생산성이 오른다.
- ③ 열심히 마케팅을 하면 누구나 부자가 될 수 있다.
- ④ 유통망이 잘 연결되면 서로가 이익을 볼 수 있다.
- ⑤ 중앙정부가 지역 생산물을 사줘야 한다.

<끝, 수고하셨습니다.>

TESAT 1회 모의고사 정답 및 배점

문제	정답	배점	난이도	문제	정답	배점	난이도
1	5	3	하	41	4	3	하
2	3	4	중	42	2	3	하
3	1	3	하	43	2	4	상
4	5	3	중	44	3	3	하
5	5	4	하	45	1	4	하
6	2	3	하	46	2	3	하
7	2	3	하	47	2	4	중
8	1	4	하	48	1	3	하
9	5	4	하	49	1	3	하
10	1	4	최상	50	2	3	하
11	2	3	하	51	5	4	하
12	3	3	하	52	1	3	하
13	5	4	상	53	3	3	하
14	5	3	하	54	3	3	하
15	3	3	하	55	4	4	하
16	4	3	하	56	3	3	하
17	2	3	하	57	4	3	하
18	1	3	상	58	1	3	하
19	1	3	중	59	3	3	하
20	3	4	중	60	4	4	하
21	1	3	상	61	2	5	하
22	4	3	중	62	3	5	중
23	2	3	하	63	3	5	하
24	4	3	하	64	3	5	하
25	5	4	상	65	4	5	하
26	4	3	하	66	1	5	중
27	2	3	하	67	1	5	하
28	5	3	하	68	4	5	중
29	1	4	상	69	5	5	하
30	5	4	중	70	4	5	상
31	3	3	하	71	3	5	중
32	4	4	최상	72	4	5	중
33	2	4	중	73	2	5	하
34	4	3	하	74	2	5	하
35	4	3	하	75	3	5	중
36	1	3	하	76	5	5	하
37	5	3	하	77	2	5	하
38	5	3	하	78	5	5	하
39	3	4	상	79	1	5	상
40	5	4	하	80	4	5	하

2회 모의고사 문제지

- 문제지 앞표지에 성명과 수험번호를 적었는지 확인 하십시오.
- 경제이론과 시사경제·경영은 문항당 3점, 4점이고 상황추론·판단은 문항당 5점입니다.
- 시험시간은 100분입니다.

< 경제이론 >

1. 애덤 스미스가 말한 보이지 않는 손(invisible hands)을 잘못 설명한 것은?
 - ① 완전경쟁시장을 전제한다고 할 수 있다.
 - ② 시장의 작동원리를 설명할 때 사용하는 표현이다.
 - ③ '사익을 추구하는 사람들 사이의 경쟁이 공익을 만들어낸다'는 주장이다.
 - ④ 자원의 사용에 대해 미리 계획을 세워야 한다는 주장이다.
 - ⑤ 시장을 통해 자원의 효율적 사용이 가능하다는 주장이다.
2. 다음 자료의 밑줄 친 (가)에 대한 설명으로 옳은 것은?

(가)에 따르면 민간 경제 주체들이 아무런 비용을 치르지 않고 자원 배분에 관한 협상을 하고 있다면, 시장 기능이 외부 효과로 인해 초래되는 비효율성을 해소하고 자원을 효율적으로 배분할 수 있다.

- ① 긍정적 외부 효과에 대해서만 작동한다.
- ② 거래 비용이 매우 크더라도 시장은 효율적인 결과에 도달한다.
- ③ 외부 효과를 일으키는 행위에 대한 법적 권리가 누구에게 있는가에 관계없이 시장은 효율적인 결과에 도달한다.
- ④ 협상이 타결되면 외부 효과를 일으키는 행위에 대한 법적 권리를 소유한 사람은 이득을 얻고 소유하지 않은 사람은 손해를 본다.
- ⑤ 외부 효과를 일으키는 행위의 당사자가 늘어날수록 다양한 의견을 모을 수 있어 효율적인 결과를 달성하기 쉬워진다.

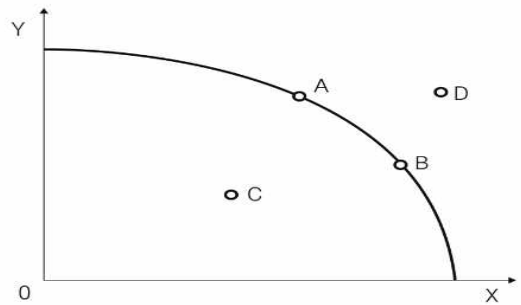
3. 총수요를 증가시키는 요인이 아닌 것은?

- ① 환율 하락으로 인한 수입 증가
- ② 중앙은행의 기준금리 인하
- ③ 기업의 투자 증가
- ④ 가계의 소비지출 증가
- ⑤ 정부의 재정지출 증가

4. 수요의 가격탄력성을 잘못 설명한 것은?

- ① 수요의 가격탄력성이 0보다 크고 1보다 작으면 비탄력적이라고 한다.
- ② 수요의 가격탄력성이 클수록 수요곡선의 모양은 수직이 된다.
- ③ 가격이 변화할 때 수요량의 변화정도를 나타낸다.
- ④ 수요의 가격탄력성이 1보다 큰 재화의 경우, 가격이 상승하면 그 재화에 대한 지출액이 감소한다.
- ⑤ 가격 변화에 대해 수요량이 얼마나 민감하게 변하는지를 나타내는 지표다.

5. 아래 그림은 생산가능곡선이다. 이에 대한 설명으로 옳지 않은 것은?



- ① A점에서 D점으로 이동하려면 기술의 발전 등이 필요하다.
- ② 곡선 상의 A점과 B점은 X재와 Y재를 최대한 생산할 수 있는 산출물 조합을 나타낸다.
- ③ C점은 주어진 생산요소의 활용이 비효율적인 상태다.
- ④ D점은 주어진 자원과 기술 수준으로는 달성하기 어려운 상태다.
- ⑤ 갑국이 A점, 을국이 B점에 있다면 두 나라는 동일한 생산가능곡선 상에 있으므로 무역을 하지 않는 것이 옳다.

6. 유동성 함정에 대한 설명 중 옳지 않은 것은 무엇인가?

- ① 화폐수요가 이자율에 대해 무한탄력적인 상태이다.
- ② 1930년대 미국의 대공황 시기가 대표적이다.
- ③ 물가상승에 대한 압력이 크게 나타난다.
- ④ 정부 지출이 증가해도 이자율이 상승하지 않기 때문에 재정정책의 효과가 극대화된다.
- ⑤ 중앙은행이 통화량을 늘려도 이자율이 하락하지 않아 통화정책의 효과가 나타나지 않는 상태이다.

7. 시장에서 가격과 거래량이 결정되는 과정을 옳게 설명한 것은?

- ① 수요가 증가하면 시장가격은 하락한다.
- ② 초과공급이 존재하면 시장가격은 상승한다.
- ③ 공급이 감소하면 거래량이 줄어들고 가격은 상승한다.
- ④ 열등재의 경우 소득이 증가하면 재화의 가격은 상승한다.
- ⑤ 상품의 수출이 증가하면 수출 상품의 국내 시장가격은 하락한다.

8. 다음 글은 무엇을 설명하고 있는가?

세계적인 출판사들은 이윤 극대화를 위해 같은 책에 대해 자국과 외국에서의 가격을 달리 책정하는 게 보통이다. 책의 수요에 대한 탄력성이 다르기 때문이다.

- ① 카르텔 ② 가격차별 ③ 규모의 불경제
- ④ 파레토 효율 ⑤ 네트워크 외부성

9. 아래 로선은 어떤 것에 해당하는가?

< 공 지 >

저희 찜질방에 비치되어 있는 로선의 용도는 샤워를 마친 분이 얼굴에 바르기 위함입니다. 이 로선을 온 몸에 바르거나 개인 용기에 담아가는 일부 고객으로 인해 필요한 분들이 바르지 못하는 등 불이익을 받고 있습니다. 쾌적하고 아름다운 찜질방 조성을 위해 고객 여러분의 자발적 협조를 부탁드립니다.

찜질방 관리인 대표 올림

- ① 사유재 ② 공공재 ③ 기펜재 ④ 피구재 ⑤ 공유재

10. 철호는 현재 다니고 있는 직장이 마음에 들지 않아 그만 두고 식당을 운영할지 고민 중이다. 철호는 현재 다른 사람에게 임대해주고 있는 자기 소유의 건물이 있어 식당 운영 시 그 건물을 사용하면 되므로 임대료는 발생하지 않는다. 다음 <보기>에서 철호가 결정을 내릴 때 고려해야 하는 사항을 모두 고른 것은?

< 보 기 >

ㄱ. 현 직장에 입사하는 데 들인 노력
 ㄴ. 현 직장의 임금
 ㄷ. 자기 소유 건물의 현재 임대료
 ㄹ. 식당의 예상 매출

- ① ㄱ, ㄴ ② ㄴ, ㄷ ③ ㄱ, ㄴ, ㄷ
- ④ ㄱ, ㄴ, ㄹ ⑤ ㄴ, ㄷ, ㄹ

11. 다음 중 한국의 국내총생산(GDP)이 증가하는 경우를 <보기>에서 모두 고르면?

< 보 기 >

ㄱ. 한국 기업이 미국에 공장을 지어 반도체를 생산한다.
 ㄴ. 미국인이 한국에 체류하면서 한국계 기업에서 근무한다.
 ㄷ. 미국 기업이 한국에 공장을 지어 자동차를 생산한다.
 ㄹ. 한국인이 미국에 체류하면서 한국계 기업의 지점에서 근무한다.

- ① ㄱ, ㄴ ② ㄱ, ㄷ ③ ㄴ, ㄷ ④ ㄴ, ㄹ ⑤ ㄷ, ㄹ

12. 커피와 설탕이 완전보완재인 갑국이 있다. 이 나라는 커피는 전량 수입하고, 설탕은 전량 국내에서 생산한다. 자유무역을 하던 이 나라가 갑자기 정책을 바꾸어 모든 수입품에 대하여 10% 관세를 부과하기로 결정하였다. 이러한 결정이 갑국의 커피시장과 설탕 시장에 미치는 효과는?

- ① 설탕의 거래량과 가격은 하락하게 된다.
- ② 설탕의 수요곡선은 오른쪽으로 이동한다.
- ③ 커피의 거래량과 가격은 상승하게 된다.
- ④ 커피의 공급곡선은 오른쪽으로 이동한다.
- ⑤ 커피의 수입량과 거래량은 증가하게 된다.

13. 노트북을 생산하는 A기업이 디스플레이 패널을 직접 생산하지 않고 다른 기업으로부터 구매하여 사용하는 이유를 경제학적으로 가장 잘 설명한 것은?

- ① 외부효과 때문에
- ② 롱테일 법칙 때문에
- ③ 테일러 준칙을 활용하기 때문에
- ④ A기업의 관리, 감시비용이 낮기 때문에
- ⑤ 가격기구를 이용하는 것이 비용을 더 절약할 수 있기 때문에

14. 다음 중 케인스가 말하는 저축의 역설에 대한 설명 중 옳지 않은 것은?

- ① 구성의 오류를 나타내는 사례이다.
- ② 저축의 역설 이론에 따르면 소비는 미덕, 저축은 악덕이다.
- ③ 각 개인이 저축을 늘리려고 시도하면 결과적으로는 사회 전체적으로 저축이 오히려 줄어들 수 있다.
- ④ 저축의 증가는 소비지출의 감소를 의미하고 결국 총수요의 감소로 이어지므로 국민소득이 감소한다.
- ⑤ 저축은 투자와 항상 일치하므로 저축의 증가는 투자의 증가 그리고 소득의 증가로 이어진다.

15. 자동차보험 상품은 다양한 보험료 및 자기부담금 체계로 구성되어 있다. 이와 같은 체계를 사용함으로써 보험회사가 기대할 수 있는 효과와 거리가 먼 것은?

- ① 신호 보내기를 통해 역선택 문제를 해결할 수 있다.
- ② 사고 위험이 낮은 고객과 높은 고객을 차별화할 수 있다.
- ③ 보험 가입자가 위험한 운전 행위를 줄이는 동기가 발생한다.
- ④ 고객의 운전 성향에 대한 정보를 선별할 수 있다.
- ⑤ 비대칭 정보 문제 해결에 도움이 된다.

16. 다음 중 처음 계약에 비해 채권자가 가장 큰 이익을 보는 경우를 고르시오.

	명목 이자율(%)	실제 인플레이션(%)	예상 인플레이션(%)
①	5	2	5
②	6	5	2
③	7	4	6
④	8	6	4
⑤	9	9	9

17. 한국을 비롯한 많은 나라들의 잠재성장률이 하락하면서, 근본적인 성장 대책에 대한 논의가 활발하다. 이와 관련한 근본적인 대책 중 적절하지 않은 것을 고르면?

- ① 기술진보를 위하여 민간부문의 연구개발 활동을 장려하는 제도를 구축한다.
- ② 재산권에 대한 위협요소를 낮추는 정책을 실시한다.
- ③ 해외의 신기술 도입을 위해 외국인 투자에 대한 규제를 완화하고, 세금인하 등 정책적인 지원을 시행한다.
- ④ 장기 국채를 발행하고 통화량을 늘려 경기를 부양한다.
- ⑤ 4차 산업혁명에 대응하기 위해 인적자본에 대한 맞춤 교육을 제도적으로 구축한다.

18. 다음 상황과 관련된 개념은 무엇인가?

- A는 2개월 전 한국시리즈 티켓을 20만원에 구입했으나 경기 당일 심한 감기에 걸려 고민하다 경기장 관람을 포기하고 TV로 시청하였다.
- ○○제약회사는 새로운 인슐린 흡입제의 판매가 부진하고 장기복용에 따른 부작용이 알려지자 판매를 중단하였고 그로 인해 세전으로 28억 달러의 손실을 입었다.

- ① 구두창비용 ② 가변비용 ③ 매몰비용
- ④ 고정비용 ⑤ 메뉴비용

19. 다음 사례에 나타난 실업의 종류를 순서대로 옳게 짝지은 것은?

(A) 난방 수요를 석탄 연료에서 가스 연료로 바꾸는 사람이 많아지면서 탄광에서 일하던 민기는 일자리를 잃었다.

(B) 자동차 제조 공장에서 일하던 민경이는 새 회사로 옮기기 전 여름 한 달간 집에서 쉬고 있다.

- (A) (B)
- ① 자발적 - 경기적
 - ② 자발적 - 계절적
 - ③ 구조적 - 마찰적
 - ④ 구조적 - 계절적
 - ⑤ 마찰적 - 구조적

20. 정부가 중앙은행으로부터 차입을 통해 정부지출의 재원을 조달하여 재화를 구매하였다고 하자. 이때 '정부가 구매한 이 재화에 대한 지출은 결국 경제 내에서 누가 지출하게 되는가'에 대해 가장 적절한 설명은?

- ① 세금을 내는 국민들이 지불하게 된다.
- ② 화폐의 구매력 감소를 통해 화폐를 보유하고 있는 사람들이 지불하는 효과를 가진다.
- ③ 국채를 매입하는 사람들이 지불하는 효과를 가진다.
- ④ 해당 재화의 시장에 참여하는 소비자와 생산자가 지불하는 효과를 가진다.
- ⑤ 위의 어느 것도 해당되지 않는다.

21. (A)에 들어가는 정책에 대한 경제적 효과로 옳지 않은 것은?

미국과 중국이 각각 500억 달러(약 55조원) 상당의 상대국 제품에 25%의 (A)을(를) 부과하며 정면충돌했다. 세계 1, 2위 경제대국의 통상전쟁이 현실화하면서 원자재 값이 급락하는 등 글로벌 경기 위축 우려가 확산되고 있다.

- ① 국내가격 상승
- ② 재정수입 증가
- ③ 국내생산 증가
- ④ 국제수지 개선효과
- ⑤ 사회후생 증가

22. 다음 제도를 통해 해결하려는 경제 문제로 알맞은 것은?

국민이 만드는 규제혁신
규제개혁신문고

규제건의 | 알림마당 | 개선성과

규제개혁신문고 소개

○ 개요
규제개혁신문고는 대한민국 국민·기업·지자체 등 누구나 현장에서 겪는 규제예로를 건의하고, 정부로부터 답변을 받을 수 있는 국민참여형 규제건의 온라인 창구(www.sinmungo.go.kr)입니다.

○ 법적근거
규제개혁신문고는 보다 적극적이고 지속적으로 국민의 목소리를 반영할 수 있도록 행정규제기본법 제17조에 근거하여 운영됩니다. (국민 규제정보 요청제)

- ① 시장 실패
- ② 정부 실패
- ③ 빈부 격차
- ④ 외부 효과
- ⑤ 환경 문제

23. 인플레이션이 초래하는 현상이 아닌 것은?

- ① 조세제도를 왜곡한다.
- ② 일반적으로 돈을 빌려준 사람이 불리하다.
- ③ 기업의 이윤을 더 정확히 파악하는 데 도움을 준다.
- ④ 실물 대신 현금을 더 많이 보유한 기업들이 불리하다.
- ⑤ 기업들로 하여금 재화의 가격을 조정하는 데 드는 비용을 발생시킨다.

24. 5명이 외환시장에 대한 정부 개입과 관련해 대화중이다. 올바른 설명을 모두 고르면?

- 철수 : 외국인의 국내 주식시장에 대한 투자가 늘어나면서 외환공급이 늘어났어.
- 영희 : 그래, 그래서 원·달러 환율이 하락 압력을 받고 있지.
- 민정 : 환율이 하락하면 수입이 줄어들 것 같아 걱정이야.
- 문희 : 그래서 중앙은행이 외환시장에서 달러를 매도하고 있는 거야.
- 경수 : 중앙은행이 외환시장에 개입하면 국내 통화량이 변할 텐데.

- ① 철수, 영희
- ② 영희, 민정
- ③ 영희, 민정, 문희
- ④ 철수, 영희, 경수
- ⑤ 영희, 민정, 문희, 경수

25. 다음은 한국은행의 통화정책 중 하나를 설명한 지문이다. (A)~(C)에 들어갈 단어가 옳게 연결된 것은?

한국은행이 통화정책을 펼치는 방법 중에는 공개시장에서 (A)을 사고파는 공개시장 조작이 있다. 한국은행의 통화정책이 지향하는 궁극적 목표는 (B)이다. 한국은행은 시중의 이자율을 관찰하고 있다가 이자율이 적정 수준을 벗어나면 공개시장 조작을 실시한다. 예를 들어 이자율이 지나치게 높아져 소비 수요나 투자 수요가 위축되면 (A)을 (C)해서 이자율을 낮추는 정책을 펼친다.

	(A)	(B)	(C)
①	주식	경제 성장	매입
②	주식	물가 안정	매도
③	채권	물가 안정	매도
④	채권	경제 성장	매도
⑤	채권	물가 안정	매입

26. 은행의 예금이 40만 원이고, 법정 저준율이 20%이며, 은행이 저준금으로 10만 원을 보유하고 있다면, 은행의 대차대조표를 재조정할 필요가 없는 예금인출액의 최대치와 가장 가까운 금액은?

- ① 1만 원 ② 2만 원 ③ 3만 원 ④ 5만 원 ⑤ 8만 원

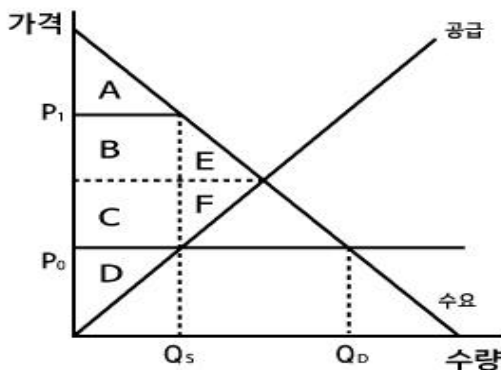
27. 거시경제학에 나오는 재고와 관련된 설명으로 옳은 것은?

- ① 올해 생산된 상품이 재고가 되면 올해 국내총생산(GDP)에 포함된다.
 ② 우리나라의 국민계정에서 재고는 판매된 시점의 투자에 포함시킨다.
 ③ 기업의 재고 증감여부는 가계의 소비활동과는 연관이 없다.
 ④ 재고가 지나치게 증가하면 중앙은행은 재할인율을 높이는 정책을 실시할 것이다.
 ⑤ 재고의 증감은 기업의 잘못된 재고관리로 발생하는 것으로 한 나라의 경기변동과는 무관하다.

28. 장기의 완전경쟁시장에 대한 설명 중 옳지 않은 것은?

- ① 시장가격(P)이 평균총비용(ATC)보다 높을 경우, 새로운 기업이 진입한다.
 ② 시장가격(P)이 평균총비용(ATC)보다 높을 경우, 경제적 이윤이 발생한다.
 ③ 시장가격(P)이 한계비용(MC) 및 평균총비용(ATC)과 같을 경우, 경제적 이윤은 0이다.
 ④ 시장가격(P)이 한계비용(MC) 및 평균총비용(ATC)과 같을 경우, 기존 기업이 퇴출한다.
 ⑤ 완전경쟁시장에서 균형은 평균총비용(ATC) 최저점인 지점이다.

29. 아래 그림과 같이 가격상한이 P_0 로 설정되면 시장에서 초과수요($Q_D - Q_S$)가 발생한다. 가격상한에 의해 발생하는 자중손실의 크기는 무엇인가?



- ① B+C ② C+F ③ E+F ④ B+C+E+F ⑤ B+E

30. 우리나라의 물가안정목표제에 대한 설명으로 옳은 것은?

- ① 물가안정목표는 정부가 장기적 시계에서 달성하고자 하는 물가상승률 목표를 말한다.
 ② 한국은행은 물가안정목표제의 운용목표변수로 통화량을 사용한다.
 ③ 현재 우리나라 물가안정목표제의 대상지표는 근원인플레이션율이다.
 ④ 물가안정목표는 정해진 적용기간이 종료될 때까지 변경하지 못하도록 한국은행법에 명시되어 있다.
 ⑤ 물가안정목표는 인플레이션 변동성을 낮추는 것이 목적이다.

< 시사 경제 · 경영 >

31. 미국, 유럽 등의 해외 주식에 직접 투자하는 사람들을 가리키는 신조어는?

- ① 핫머니 ② 테마섹 ③ MSCI
 ④ 대주거래 ⑤ 서학개미

32. 다음 지문과 그래프는 신문기사의 일부를 발췌한 것이다. 이와 관련한 신문기사 제목으로 적절한 것을 고르면?

신종 코로나바이러스 감염증(코로나19) 확산 여파로 추락을 거듭하던 국제 유가가 12개월여 만에 최고치로 올라갔다. 유가뿐 아니라 구리, 철광석, 은, 옥수수 등 주요 원자재 가격이 줄줄이 고공행진을 벌이고 있다. 이러한 추세가 앞으로 10년은 지속될 것이란 전망도 나온다.

최근 1년간 구리·철광석 가격 추이



- ① 국제 원자재 공급충격...BSI지수 상승 이끌어
 ② 뛰는 국제 원자재 가격...원자재 슈퍼 사이클 오나
 ③ 원자재 가격 상승...CDS프리미엄 하락 우려
 ④ 구리, 철광석 등 원자재 사용 증가...탄소세 도입 본격화 논의
 ⑤ 원자재 가격 고공행진...트리클 다운 효과 발생

33. 예·적금이나 대출 이자를 계산할 때 원금에 대한 이자 뿐 아니라 이자에 대한 이자도 함께 계산하는 방식은?

- ① 복리 ② 단리 ③ 고정금리
- ④ 변동금리 ⑤ CDS금리

34. 회사가 큰 적자를 내 잉여금이 바닥나고, 납입자본금이 마이너스가 되는 '이 상태'에 이르렀다고 하자. 기업 부실화의 징후인 '이 상태'는 무엇인가?

- ① 무상감자 ② 자본잠식 ③ 유상증자
- ④ 상장폐지 ⑤ 의견거절

35. 다음 나열한 지표들의 최대값은 얼마인가?

BSI, CSI, ESI

- ① 10 ② 50 ③ 100 ④ 200 ⑤ 300

36. 다음 나열한 내용을 통해 유추할 수 있는 산업은 무엇인가?

- 증시 유망주였던 'BBIG'의 섹터 중 하나
- 셀트리온, 삼성바이오로직스
- 코로나19 백신을 만든 모더나

- ① 방위 ② 실버 ③ 핀테크 ④ 바이오 ⑤ 배터리

37. 다음 신문 기사를 읽고 밑줄 친 ㉠에 해당하지 않는 것은 무엇인가?

㉠가상자산(암호화폐) 비트코인 가격이 사상 처음으로 4만달러를 돌파했다. 미 CNBC 등 주요 외신들은 코인메트릭스 자료를 인용해 7일(현지시간) 오후 1시 비트코인 가격이 전날보다 13% 오른 개당 4만188달러에 거래됐다고 보도했다. 비트코인 가격은 풍부한 시중 유동성이다 기관들의 매수세까지 유입되면서 최근 1년 새 460% 이상 폭등했다.

○○경제신문, 2021.1.8

- ① 리플 ② 빗썸 ③ 스텔라
- ④ 이오스 ⑤ 이더리움

38. 경제학자와 저작물이 잘못 짝지어진 것은 무엇인가?

- ① 존 스튜어트 밀-도덕감정론
- ② 케인즈-고용, 이자 및 화폐에 관한 일반이론
- ③ 조지프 슈페터-자본주의 사회주의 민주주의
- ④ 밀턴 프리드먼-자본주의와 자유
- ⑤ 칼 멩거-국민경제학의 기본원리

39. 한 기업의 신제품이 기존의 자사 주력 제품이 가졌던 시장 점유율이나 수익성, 판매량 등을 하락시키는 현상을 뜻하는 용어는 무엇인가?

- ① 리스트럭처링 ② 레드오션 ③ 넛지마케팅
- ④ 서비스사이언스 ⑤ 카니발리제이션

40. 매각을 염두에 두고 매물에 관심을 보일 법한 잠재적 투자자에게 정보를 제공하기 위해 발송하는 '투자 유인서'를 뜻하는 용어는?

- ① 티저레터 ② 그린메일 ③ 아그레망
- ④ 자율협약 ⑤ 블록거래

41. 정족수 미달로 주주총회가 무산되지 않도록 하기 위해 참석하지 않은 주주들의 투표권을 행사할 수 있는 일종의 의결권 대리행사 제도는 무엇인가?

- ① 새도보팅 ② 포이즌필 ③ 백기사
- ④ 플리바게닝 ⑤ 차등의결권제도

42. 다음 중 재무비율에 대한 설명으로 옳바르지 않은 것은?

- ① 수익성(profitability)이란 기업이 이익을 창출할 수 있는 능력을 나타내며, 수익성을 측정하기 위한 재무비율로 총자산이익률(return on assets; ROA)을 사용할 수 있다.
- ② 주가수익비율(price-earnings ratio; PER)은 회사의 주당 주당주식가격을 주당순이익(earnings per share; EPS)로 나눈 것이다.
- ③ 재고자산회전율(inventory turnover)이 낮을수록 재고자산을 효율적으로 관리하고 있다고 볼 수 있다.
- ④ 부채비율(debt to equity ratio)이 높을수록 회사가 부도의 위험이 높다고 할 수 있다.
- ⑤ 유동비율(current ratio)은 유동자산을 유동부채로 나눈 값으로, 유동비율이 높을수록 단기채무상환능력이 높다고 판단할 수 있다.

43. 경제신문에서 종종 볼 수 있는 'R의 공포'에서 R이란 어떤 영어단어의 첫 글자인가?

- ① recession ② retirement ③ reshoring
- ④ revenue ⑤ refine

44. 기준에 통용되고 있는 화폐의 액면을 동일한 비율의 낮은 숫자로 변경하는 조치를 무엇이라 하는가?

- ① 뱅크런 ② 판옵티콘 ③ 멧커프의 법칙
- ④ 리디노미네이션 ⑤ 오퍼레이션트위스트

45. 다음 중 재무제표에 대한 설명으로 옳바르지 않은 것은?

- ① 재무상태표는 일정시점에 기업이 보유하고 있는 자산, 부채, 자본을 요약하여 보여준다.
- ② 재무상태표에서 자산은 부채와 자본의 합과 같으며, 자산은 재무상태표의 우측(대변)에, 부채와 자본은 재무상태표의 좌측(차변)에 표시된다.
- ③ 포괄손익계산서는 일정기간 동안의 수익과 비용을 비교하여 경영성과를 보고한다.
- ④ 현금흐름표는 회계기간 동안 발생한 현금의 유입과 유출에 관한 정보를 제공한다.
- ⑤ 주석은 재무제표에 부가된 설명으로, 재무제표이용자가 재무제표가 어떻게 작성되었는지 이해할 수 있도록 도움을 준다.

46. 다음 신문 기사를 읽고, 이와 같은 현상이 심화될 경우 나타날 수 있는 현상은 무엇인가?

브라질은 세계 커피 원두의 약 40%를 공급한다. 세계 대두 시장의 36%, 설탕 원료인 사탕수수 생산량은 39%를 각각 차지한다. 브라질 밭 물류난으로 세계 식량값이 더 오를 수 있다는 전망이 나오는 이유다. 브라질 커피 수확량이 가뭄 타격을 입은 지난해 10월 이후 미국 선물시장에서 아라비카 커피콩 가격은 24% 상승했다. 지난달엔 미국 내 커피콩 재고량이 6년 만에 최저치로 떨어졌다.

○○경제신문, 2021.3.25

- ① 아이언플레이션
- ② 애그플레이션
- ③ 리디노미네이션
- ④ 피시플레이션
- ⑤ 그린플레이션

47. 다음 나열한 제도들의 목적은 무엇인가?

· 예비타당성조사 · 총사업비관리제도
· 비용·편익 분석

- ① 고용창출 ② 투자촉진 ③ 국가균형발전
- ④ 물가상승억제 ⑤ 예산낭비방지

48. 아래 영문은 아르헨티나 후안 페론 대통령이 칠레 대통령이 보낸 편지 내용 중 일부이다. 이 글의 핵심을 가장 잘 표현한 용어는 무엇인가?

Give to the people, especially the workers, all that is possible. When it seems to you that already you are giving them too much, give them more. You will see the results. Everyone will try to scare you with the specter of an economic collapse. But all of this is a lie.

- ① pay-go principle ② populism ③ Google Tax
- ④ Tax-haven ⑤ No pain, no gain

49. 다음 자료의 (가)와 (나) 정책에 대한 설명으로 옳지 않은 것은?

A국 정부는 코로나19에 따른 경제적 어려움이 지속되자 경제 위기 극복을 위해 동일한 금액의 예산을 이용하여 다음의 두 정책 중 하나를 시행할 계획이다.

(가) 모든 국민에게 동일한 크기의 재난지원금을 지급한다.

(나) 피해가 큰 국민을 선별한 후 피해의 정도에 따라 재난지원금을 지급한다.

(단, 고소득층은 저소득층에 비해 한계소비성향이 낮다고 한다.)

- ① (가)는 보편적 복지에 해당한다.
- ② 공공부조와 같은 사회보장제도는 (나)에 해당한다.
- ③ 소비 증진에 미치는 효과는 (가)보다 (나)가 크다.
- ④ 정책 시행을 위한 행정적 비용은 (가)보다 (나)가 작다.
- ⑤ 재원 부담자와 수혜자 불일치에 따른 조세저항은 (가)보다 (나)가 크다.

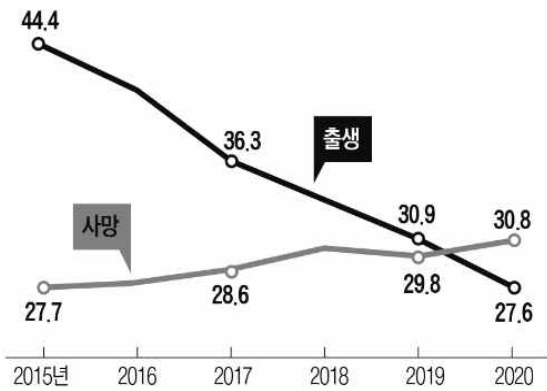
50. 다음의 지문이 나타내는 상황은 무엇인가?

○○전자, 영업이익 전년 동기대비 10%상승, 전문가들이 전망한 수치를 훌쩍 넘어선 실적이다.

- ① 테스밸리 ② 턴어라운드
- ③ 티핑포인트 ④ 어닝 서프라이즈
- ⑤ 베어마켓 랠리

51. 한국은 2020년 인구 감소의 원년이 될 것으로 전망된다. 지난해 사망자 수가 출생자 수를 넘어서면서 사상 처음으로 인구 ‘이것’이 발생했기 때문이다. 인구 ‘이것’이 발생하면 인구가 자연 감소하는 현상이 나타나기 시작한다. ‘이것’은 무엇인가?

(단위:만명)



- ① 폭발 ② 지진 ③ 보너스 ④ 센서스 ⑤ 데드크로스

52. 다음 신문기사를 읽고, (A)에 들어갈 영어약자를 고르면?

금융당국은 지난 10월부터 연말까지 은행권의 월간 신용대출을 2조원대로 억제하겠다는 목표를 세워두고 은행들을 압박해 왔다. 신한 국민 우리 하나 등은 대출 한도를 지키기 위해 일단은 올해까지라며 신규 대출을 아예 해주지 않거나 2,000만원 미만으로 제한하고 있다. 윤 원장은 “내년에 총부채원리금상환비율(A)을(를) 금융회사 단위에서 개인 차주 단위로 확대하는 구체안이 나올 것”이라고 말했다.

○○경제신문, 2020.12.23

- ① DSR ② DTI ③ DSL ④ DSS ⑤ DBR

53. 주식시장이 과열되면서, 아래 나열한 내용과 같은 현상이 나타났다. 이를 지칭하는 용어로 알맞은 것을 고르면?

- 일종의 고립공포감
- 자신만 흐름을 놓치는 것에 대한 두려움
- 상승 랠리에서 ‘주린이(주식 초보)’ 유입이 가속화되면서 증권계좌 예약금이 증가하는 것도 이런 현상에 기반을 둬.

- ① 리셋 증후군 ② 포모 증후군 ③ 리플리 증후군
- ④ 스탕달 증후군 ⑤ 파랑새 증후군

54. 다음 지문을 읽고, (A)에 가장 알맞은 용어를 고르시오.

코스피지수가 3,000포인트 안착에 성공했다. 2,000선에 오른 지 13년 만이다. 주가지수가 지루한 (A)을(를) 벗어나 한 번도 밟아보지 못한 수준으로 뛰어오른 것은 어쨌든 축하할 일이다. (A)(이)란 일정 기간 주가가 최고고점과 최저저점을 벗어나지 않는 상태에서 등락을 반복할 때 사용한다.

- ① 박스권 ② 포크베럴 ③ 펀더멘탈
- ④ 턴어라운드 ⑤ 헝거마켓

55. 아래 신문 기사 중 () 안에 들어갈 가장 적합한 용어는 무엇인가?

1608년 네덜란드 상인 아이작 르 마이어는 동인도 회사에서 쫓겨난 것에 앙심을 품고 주가를 떨어트릴 계획을 세웠다. 그는 다른 주주들과 동인도회사 주식을 빌려서 판 뒤 나중에 사서 값아 주기로 계약을 맺었다. 주식을 대거 내다팔면서 영국 함대의 공격 소식 등 유언비어도 함께 유포했다. 주가가 급락하자 네덜란드 당국은 서둘러 () 규제에 나섰다. 한국에서는 1969년 2월 신용대주 제도가 도입되면서 ()가 가능해졌다. 국내에서 ()가 본격적으로 활성화된 것은 1996년 9월 코스피200 선물옵션시장이 개설될 때쯤이다.

- ① 공매도 ② 선매도 ③ 공매수
- ④ 손절매도 ⑤ 추격매수

56. 다음 신문기사를 읽고, (A)에 들어갈 용어를 고르시오.

한국 기업을 노린 (A)의 소송이 급증하고 있다. 시스템 반도체, OLED(유기발광다이오드) 등 한국 기업의 주력 시장이 커지면서 거액의 배상금을 노린 (A)의 공세를 강화하고 있기 때문이다. 28일 한국지식재산보호원과 소송분석업체 렉스마키나에 따르면 올 들어 10월까지 미국 시장에서 한국 기업을 겨냥한 (A)의 특허소송 제기는 99건으로 이미 지난해 전체 소송 건수(90건)를 넘어섰다. 특허를 매집해 관련 기업에 소송을 걸어 거액의 배상금 합의금 등을 받아내는 (A)이(가) 한국 기업을 타깃으로 삼고 있다는 분석이다.
○○경제신문, 2021.12.29

- ① 창의자본 ② 특허박스 ③ 특허괴물
- ④ 프로슈머 ⑤ 블랙컨슈머

57. 다음과 같은 의미를 지닌 금융 용어는?

차입자가 채무를 상환할 수 없는 경우 대부자에게 지급을 보증하기 위해 설정해둔 재산

- ① 보험
- ② 담보
- ③ 증권
- ④ 대출금
- ⑤ 순자산

58. <보기> 항목 중 유동자산과 유동부채를 바르게 구분한 것은?

< 보 기 >

㉠ 채고자산	㉡ 매입채무
㉢ 현금 및 현금성자산	㉣ 미지급금
㉤ 토지	㉥ 단기차입금

	유동자산	유동부채
①	㉠, ㉡	㉢, ㉤
②	㉠, ㉢	㉡, ㉣
③	㉠, ㉣	㉡, ㉢, ㉤
④	㉠, ㉣, ㉤	㉡, ㉢, ㉤
⑤	㉠, ㉢, ㉤	㉡, ㉣

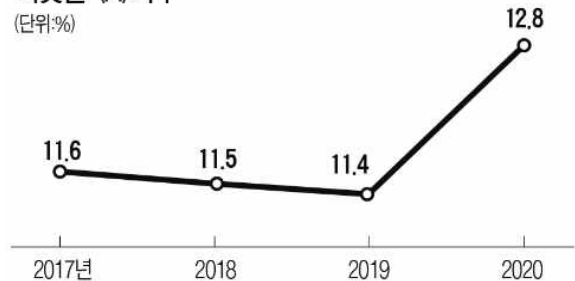
59. 다음 신문기사를 읽고, 밑줄 친 ㉠~㉤에 관한 설명 중 옳지 않은 것은?

㉠미국 중앙은행(Fed)이 앞으로 자산 매입 프로그램을 축소하기 전에 시장에 충분한 신호를 주기로 했다. 급작스러운 ㉡양적완화 종료 선언으로 시장이 혼란에 빠지지 않도록 하겠다는 것이다. 또 견고한 경기 회복이 나타날 때까지 현재 수준의 자산 매입 규모를 유지하겠다고 밝혔다. (중략) ㉢FOMC 위원들이 '시장 신호'를 중시하는 것은 2013년 ㉣벤 버냉키 당시 Fed 의장이 자산 매입 축소를 갑자기 발표했을 때 발생했던 '㉤긴축 발작(taper tantrum)'의 재연을 우려했기 때문으로 분석된다. Fed가 별도의 힌트를 주기 전까지 양적완화 정책을 지속하겠다는 의지를 보인 것이란 해석도 나온다.
○○경제신문, 2021.1.8

- ① ㉠의 현재 수장은 제롬 파월이다.
- ② ㉡을 시행하면 통화 공급곡선이 우측으로 이동한다.
- ③ ㉢은 연방공개시장위원회라고 하며 통화·금리정책을 결정하는 기구다.
- ④ ㉣은 2008년 금융위기의 대응을 위해 매화에 해당하는 통화정책을 펼쳤었다.
- ⑤ ㉤이 발생하면 한국의 대미 환율은 상승할 가능성이 높다.

60. 신종 코로나바이러스 감염증(코로나19)으로 인해 바깥 활동을 자제하고 집에서 끼니를 해결하는 집밥족이 늘어나면서, 가계의 소비지출 가운데 식료품비가 차지하는 비중을 뜻하는 (A)지수가 20년 만에 최고치를 기록하였다. (A)지수는 가계의 국내 명목 소비 지출액에서 식료품·비주류음료 지출이 차지하는 비율이다. (A)에 알맞은 단어는 무엇인가?

치솟은 (A)지수
(단위:%)



- ① 앵겔 ② 빅맥 ③ 파세 ④ 러셀 ⑤ 코즈

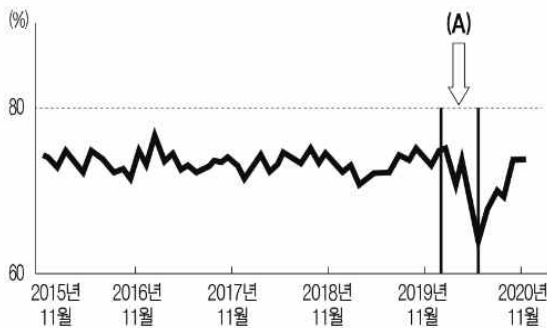
< 상 황 추 론 · 판 단 >

61. 어떤 이가 피자를 소비하려 한다. 이 사람의 첫 번째 판에 대한 지불용의는 1만 원, 두 번째 판에 대한 지불용의는 7,000원, 세 번째 판에 대한 지불용의는 4,000원, 네 번째 판에 대한 지불용의는 2,000원이다. 피자 한 판의 가격이 5,000원이라고 할 때, 이 사람의 총 소비자 잉여는 얼마인가?

- ① 5,000원 ② 6,000원 ③ 7,000원 ④ 8,000원 ⑤ 9,000원

62. 다음 자료를 보고, (A)기간 제조업 평균가동률이 아래와 같을 때, 정부나 중앙은행의 적절한 정책을 <보기>에서 고르면?

제조업 평균가동률추이



< 보 기 >
 가. 산업용 전기료 인상 나. 법인세 인하
 다. 설비투자에 대한 세액 공제 확대
 르. 한국은행 총액한도대출 축소

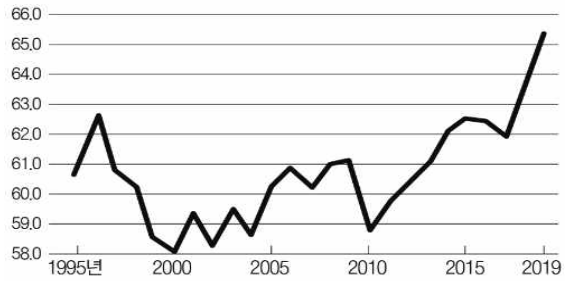
- ① 가, 나 ② 가, 다 ③ 나, 다 ④ 나, 르 ⑤ 다, 르

63. 다음 자료에 나타난 정책 시행 후의 상황에 대한 판단으로 옳지 않은 것은?

A국의 X재 시장은 완전 경쟁 시장이다. X재에 대한 수요 곡선은 우하향하는 직선이고, X재의 공급 곡선은 우상향한다. 균형가격과 수량은 양(+)이다. 최근 A국 정부는 X재에 대하여 시장가격이 균형 가격보다 낮게 유지되도록 가격 규제 정책을 시행했다.

- ① 위 정책은 최고 가격제에 해당한다.
 ② X재에 대한 초과 수요가 반드시 발생한다.
 ③ X재에 대한 소비자 잉여는 반드시 증가한다.
 ④ X재에 대한 생산자 잉여는 반드시 감소한다.
 ⑤ X재에 대한 소비 지출액은 반드시 감소한다.

64. 다음은 국민소득 중에서 노동소득이 차지하는 비율인 노동소득 분배율을 나타낸 것이다. 보기 중 옳은 것을 모두 고르시오.



< 보 기 >
 가. 노동소득분배율은 국민소득을 생산측면에서 측정된 개념인 생산국민소득과 관련이 깊다.
 나. 2000년 이후 국민소득에서 자본소득이 차지하는 비율은 증가하는 추세에 있을 것이다.
 다. 외환위기와 글로벌 금융위기 때는 노동소득 분배율이 크게 하락하였다.

- ① 가 ② 나 ③ 다 ④ 가, 나 ⑤ 나, 다

65. 아래 글은 애덤 스미스의 「국부론」에 나오는 한 대목이다. 글이 주장하는 바를 잘못 이해한 사람은 누구인가?

한 나라의 연간 생산물의 가치를 증대시키려면 오로지 생산적 노동자의 수를 늘리거나 이미 고용되어 있는 노동자들이 생산력을 향상시키는 것 이외에는 다른 방법이 없다. 그러나 생산적 노동자를 부양할 재원이 증가하지 않는다면, 즉 자본이 증가하지 않는다면 고용을 많이 할 수 없다는 사실은 자명하다. 동일한 노동 인원으로 노동력을 향상시키려면 작업을 간소화하여 보다 쉽게 만들 도구나 기계를 개발하거나 또는 노동자의 역할을 세분화하고 그들을 알맞게 배치해야만 한다. 그 어느 경우에도 대체로 추가 자본이 필요하다. 추가 자본이 있어야만 고용주는 더 좋은 기계를 제공하거나 노동자들을 좀 더 알맞게 배치할 수 있다.

- ① 만수 : 흥청망청 다 써버리면 자본이 증가하지 않는다는 메시지가 담겨 있어.
 ② 은주 : 후진국이 선진국보다 못사는 이유는 자본 축적 여부에 달려 있다고 설명할 수 있지.
 ③ 주연 : 100명이 10시간 동안 할 수 있는 일을 포크레인 1대가 2시간 내 하는 것이 낫지.
 ④ 창호 : 전문화, 분업화가 생산물 가치를 높이는데 유리하다는 점을 저자는 지적하고 있어.
 ⑤ 필용 : 좋은 기계가 없더라도 노동자들의 힘이 세면 얼마든지 연간 생산물을 늘릴 수 있지.

66. 다음 자료를 보고, (A)에 들어갈 내용으로 적절한 것은?

- 정부발표 : (A)
- 시민 1 : 조세 부담의 형평성이 개선되었군.
- 시민 2 : 물가 안정에도 다소 도움이 되지 않았어?

- ① 보복관세를 도입하기로
- ② 본예산안을 증액하기로
- ③ 페이고 원칙을 강화하기로
- ④ 직접세 징수와 비중을 높이기로
- ⑤ 중앙은행이 국공채를 매입하기로

67. 다음은 신문의 한 칼럼을 발췌한 것이다. 이와 관련한 설명으로 적절하지 않은 것을 고르시오.

최근 아르헨티나 정부는 코로나19 대응 지출용으로 2억 페소(약 26억 원) 넘는 재산에 대해 부유세를 부과하겠다고 밝혔다. 아르헨티나는 확진자가 150만 명을 넘어 상황이 악화되고 있다. 하지만 지출이 필요함에도 불구하고 재정 여건은 열악하다. 정부는 부도 위험에 직면해 국제 채권자들에게 채무 재조정을 요청하는 실정이다. 그런데 채원 부족에 시달리는 아르헨티나 정부가 부유세를 징수해도 실제로 의미 있는 세수를 조달하기는 어렵고 부작용만 일으킬 가능성이 크다. 부자에게 세금을 거둔다는 개념 때문에 부유세는 흔히 소득 불평등의 완화 수단으로 인식되곤 한다. 하지만 현실에서는 자본이탈을 초래해 실제 세수 확보도 어렵고 결국 의도와 다른 결과에 도달한다.

○○경제신문, 2021.1.4

- ① 부유세는 직접세에 해당한다.
- ② 부유세를 도입하는 정부의 목적이 달성된다면, 지니계수는 상승한다.
- ③ 부유세로 의도했던 세수 조달에 실패한다면, 레퍼곡선에서 최적세율 이상의 수준에서 세금을 징수하고 있다는 의미다.
- ④ 부유세로 자본이탈이 초래되면 아르헨티나의 대외적인 통화가치는 하락할 것이다.
- ⑤ 아르헨티나 정부가 의도했던 목적 달성에 실패하면 국가 신용등급에도 부정적인 영향을 미칠 것이다.

68. 아래 지문을 통해 A국의 감자 시장 변화를 올바르게 추론한 것을 고르시오.(단, A국은 아래 지문 이외의 경제 상황에는 전혀 변화가 없다고 한다.)

A국의 고랭지 감자 재배면적은 3244ha로 전년보다 9.4% 줄었다. 단수(단위면적당 생산량) 역시 전년보다 10.5% 줄어든 것으로 분석됐다. 자연히 생산도 줄어들었다. A국 정부기관은 지난해 가을감자 생산량을 평년보다 6.8% 줄어든 2만 3424t으로 추정했다.

가격 거래량

- ① 상승 - 증가
- ② 상승 - 감소
- ③ 하락 - 증가
- ④ 하락 - 감소
- ⑤ 알 수 없음 - 증가

69. 다음 자료에 대한 갑과 을의 대화 중 옳은 것은?

- 무인도에 갑, 을 두 사람이 살고 있습니다. 그들은 물고기와 과일만을 생산하는데, 1시간 동안 과일만 생산하면 갑은 2개, 을은 1개 생산합니다. 1시간 동안 물고기만 생산하면 갑은 6개, 을은 2개 생산합니다. 갑과 을은 노동만을 생산요소로 해서 생산하며, 교환이 이루어질 때 교환비용은 발생하지 않습니다.
- (갑) : _____
- (을) : _____
- (갑) : _____
- (을) : _____
- (갑) : _____

- ① (갑) : 내가 물고기에 절대우위가 있고, 당신이 과일에 절대우위가 있군요.
- ② (을) : 물고기 한 마리에 대한 기회비용은 내가 과일 2개, 당신이 과일 3개군요.
- ③ (갑) : 과일 1개를 생산하고자 포기해야 하는 물고기 생산량은 당신이 더 크군요.
- ④ (을) : 당신은 물고기, 나는 과일에 특화해 생산한 후, 과일과 물고기를 1:2~1:3 사이에서 교환하면 우리 모두에게 이득이 될 거요.
- ⑤ (갑) : 당신이 말한 대로 교환을 한다면 둘 다 이득이 될 수는 있지만, 언제나 당신에게 더 큰 이득이 될 거요.

70. 다음 중 금융상품에 대한 설명으로 옳은 것을 <보기>에서 모두 고르면?

< 보 기 >

ㄱ. 금융상품의 위험은 수익률의 분산 또는 표준편차로 측정할 수 있다.

ㄴ. 위험도에 대한 상관관계가 높은 금융상품들에 분산 투자하면 투자의 위험을 낮출 수 있다.

ㄷ. 위험도가 동일하다면 유동성이 높은 금융상품은 유동성이 낮은 금융상품에 비해 수익률이 낮다.

ㄹ. 금융상품의 수익에 대해 동일한 세율로 과세되므로 세후 기대수익률을 고려하여 투자해야 한다.

- ① ㄱ, ㄴ ② ㄴ, ㄷ ③ ㄷ, ㄹ ④ ㄱ, ㄷ ⑤ ㄴ, ㄹ

71. 다음 신문기사를 읽고, 설명한 내용 중 옳지 않은 것은?

문제는 이런 불편과 피해가 점점 빈번해지고 있다는 점이다. 구글의 서비스 장애는 이번이 처음이 아니다. 지난달 12일에는 유튜브가 2시간 동안 접속 장애를 일으켰다. (중략) 정부가 먼저 원인 파악에 나선 건 그나마 주목할 만한 변화다. 최근 도입한 일명 ‘넷플릭스법(전기통신사업법 개정안)’을 ㉠구글에 처음 적용한 것이다. 넷플릭스법은 구글 등 ㉡인터넷망을 쓰는 ㉢부가통신사업자는 서비스 안정성을 의무적으로 확보해야 한다는 것이 골자다. 넷플릭스처럼 많은 트래픽을 유발하고도 망 품질 유지비 부담을 지지 않는 해외 사업자의 (㉣)을(를) 규제하기 위해 도입했다.

○○경제신문, 2020.12.16

- ① ㉠은 ㉡을 무상으로 사용하고 있는 것이 논쟁의 핵심이다.
- ② ㉢은 보통 우리가 알고 있는 통신사가 구축해놓은 망을 의미한다.
- ③ ㉣은 넷플릭스법이라 일컫는 법을 적용받게 되면, 통신사가 막대한 자금을 투입하여 구축한 ㉡에 대한 품질관리비용을 부담해야 할 수 있다.
- ④ ㉣은 인터넷망을 사용하는 해외 사업자 ㉠이 트래픽을 유발하는 데 대해 비용을 지불하지 않는 점을 설명하기 위해 사용하는 단어로 ‘콩코드 오류’라 한다.
- ⑤ ㉠입장에서는 다양한 콘텐츠로 소비자에게 혜택을 준다는 점 때문에 ㉣문제를 부정하고 있다.

72. 한 나라의 총인구가 5000만 명, 비경제활동인구가 1000만 명, 취업자 2400만 명, 실업자 600만 명이라고 하자. 이때 경제활동참가율과 실업률을 구하면?

	경제활동참가율	실업률
①	40%	15%
②	50%	15%
③	50%	20%
④	75%	15%
⑤	75%	20%

73. 다음 지문을 읽고, 밑줄 친 단어에 대한 친구들의 대화 중 옳지 않은 것은?

한국은행은 20일 국회에 제출한 ‘금융안정 보고서’를 통해 국내 은행의 건전성 점검을 위한 ㉠스트레스 테스트를 했다. (중략) 한은은 경기 충격이 발생해 올해와 내년 국내 경제성장률이 각각 1.3%, 1.2%가 되는 상황의 경우 ㉡BIS비율은 14.3%로 낮아졌다. 올해와 내년 성장률이 각각 -0.5%, -0.6%가 되는 ‘심각한 경기 둔화’ 상황에서는 BIS 비율이 13.2%까지 하락하는 것으로 추산됐다. (중략) 비(非)은행 금융회사 중에선 보험회사가 시중금리 상승에 특히 취약했다. 내년 말까지 시중금리가 3%포인트 오르면 ㉢지급여력(RBC)비율이 2017년 말 257.9%에서 104.5%로 큰 폭으로 하락하고 상당수 보험회사가 감독기준(100%)을 충족하지 못하는 것으로 나타났다.

- ① 동호 : ㉠은 총자산대비 자기자본비율로 구하며, 국제결제은행은 ㉡을 최소 8% 이상으로 유지하도록 하고 있어.
- ② 미정 : ㉠은 경제여건이 지금보다 훨씬 더 어려워질 것이라는 가정 아래 금융기관들이 충분한 자본과 유동성으로 위기를 헤쳐 나갈 수 있는지를 평가하는 것이야.
- ③ 연수 : 미국 등 주요국의 통화정책이 정상화된다면 국내 은행과 보험사는 ㉢, ㉣ 등을 통해 건전성 관리에 신경을 써야겠어.
- ④ 유리 : ㉠의 경우, 미국에서는 2008년 금융위기 이후 각국에서 대형 금융사의 건전성을 감독하는 수단으로 사용하고 있어.
- ⑤ 영건 : ㉣은 보험계약자가 일시에 보험금을 요청했을 때 보험사가 보험금을 제때 지급할 수 있는 능력을 수치화한 것으로, 금융감독원은 ㉣을 150% 이상 유지하도록 권고하고 있어.

74. 다음 지문에서 서술한 상황을 읽고, 미국 중앙은행(Fed)이 기준금리를 인상할 경우 벌어질 상황으로 가장 거리가 먼 것은?

미·중 간 무역갈등이 심해지는 상황 속에서 지난달에는 미국 중앙은행(Fed)의 기준금리 인상, 아르헨티나의 국제통화기금(IMF) 구제금융 신청 등의 악재가 겹쳤다. (중략) 여기에 연말까지 미국 중앙은행(Fed)이 최대 두 차례 금리 인상을 단행할 가능성이 높아 올해 남은 기간엔 보수적으로 시장에 대응할 필요가 있다고 이 센터장은 강조했다.

- ① 국제 원자재 가격 상승
- ② 달러가치 상승
- ③ 미국 무역적자 확대
- ④ 미국으로 자식을 유학 보낸 한국 부모님들의 송금 비용 증가
- ⑤ 외화 부채비율이 높은 신흥국의 금융위기 발생 가능성 증가

75. 다음 신문기사를 읽고, (A)와 관련한 내용을 <보기>에서 고르면?

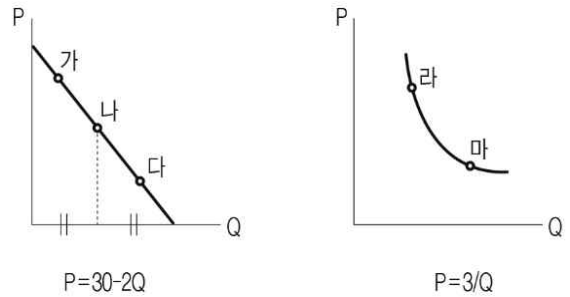
세계 해운업계가 초대형화 경쟁에 나섰다. 오랜만에 찾아온 해운 호황을 맞아 선사들은 저마다 초대형 컨테이너선을 도입하며 선복량을 늘리고 있다. 국내 선사들도 분전하고 있지만 중국 일본 대만 등과 덩치 싸움에서 밀리는 모습이다. (중략) 세계 해운업계가 초대형화에 나선 까닭은 (A)을(를) 구현하기 위해서다. 초대형 컨테이너선은 많은 화물을 한 번에 운반할 수 있어 연료비가 적게 들고 운임이 하락하는 효과를 가져온다. 1990년대까지만 해도 4000TEU급이 초대형선급으로 분류됐지만 현재는 축구장 4개 크기인 2만4000TEU급이 대세가 됐다.
○○경제신문, 2021.1.25

< 보 기 >

ㄱ. 일물일가의 법칙 ㄴ. 장기평균비용곡선 하락
ㄷ. 무차별곡선 ㄹ. 규모에 대한 수익 체증

- ① ㄱ, ㄴ ② ㄱ, ㄷ ③ ㄴ, ㄷ ④ ㄴ, ㄹ ⑤ ㄷ, ㄹ

76. 다음 중 수요의 가격탄력성을 감안할 때, 다음 설명 중 옳지 않은 것은?



- ① '가' 점의 탄력성은 1보다 크다.
- ② '나' 점은 가격의 변화율과 수요량의 변화율이 동일하다.
- ③ '다' 점은 쌀과 같은 필수재가 주로 해당한다.
- ④ '라' 점과 '마' 점은 수요의 가격탄력성이 동일하다.
- ⑤ '가' 점은 생산 기업이 가격을 올리면 수입이 증가한다.

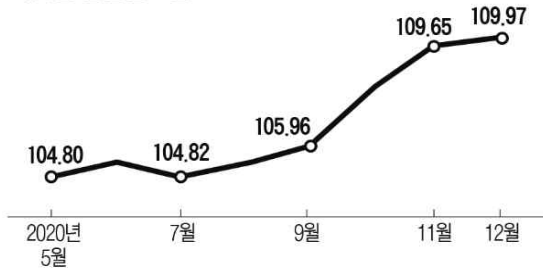
77. 아래 지문은 투자의 효과에 대한 설명이다. ㉠~㉥에 들어갈 표현으로 옳게 짝지어진 것은?

이자율이 ㉠하면 투자가 증가하게 된다. 투자의 증가는 단기적으로는 ㉡을(를) 증가시켜 실업률을 하락시킨다. 뿐만 아니라 투자는 장기적으로는 한 나라의 ㉢을(를) 증가시켜 ㉣을(를) 높여 ㉤을(를) 늘리므로 경제를 성장시킨다. 따라서 투자의 증가는 단기와 장기에 걸쳐 실업을 감소시키고 경제를 성장시키는 중요한 요소라 할 수 있다.

	㉠	㉡	㉢	㉣	㉤
①	하락	총공급	총수요	노동 생산성	생산 요소
②	상승	총수요	자본	총공급	생산 요소
③	하락	총수요	자본	노동 생산성	총공급
④	하락	자본	총수요	총공급	생산 요소
⑤	상승	자본	총수요	인적 자본	총공급

78. 다음 그림에서 나타난 한국의 실질실효환율 추이를 보고, 이와 관련한 설명 중 옳지 않은 것을 고르면?

치솟는 실질실효환율



※2010년 100이기준 자료:BIS

- ① 교역 상대국과의 교역량과 물가를 반영해 한 나라의 화폐가 상대국 화폐에 비해 실질적으로 어느 정도의 구매력을 갖췄는지를 보여주는 환율이다.
- ② 실질실효환율이 100이상이면 한국 통화의 실질가치가 고평가됐다는 뜻이다.
- ③ 한국 입장에서는 같은 양을 수출해도 원화로 환산한 수익은 줄어든다.
- ④ 한국 입장에서는 수입재화의 가격이 떨어져 국내 물가 하락에 영향을 미친다.
- ⑤ 가격 측면에서 한국의 수출 경쟁력은 상승한다.

79. 다음은 국제통화기금(IMF)의 2020년 10월 경제전망에 발표된 각 국가의 채무비율 증감 전망이다. 이에 따른 추론 및 설명으로 옳지 않은 것은?

주요 선진국의 채무비율 증감 전망 (단위:%포인트)

	2020년	2021년	2022년	2023년
한국	6.5(29)	3.8(4)	3.6(3)	3.5(1)
미국	22.5	2.5	0.9	0.7
일본	28.2	-2.2	-0.9	-0.3
영국	22.7	3.5	1.9	1.8

※괄호는 35개 선진국중 한국의 증감폭 순위 자료: IMF

- ① 2020년의 경우, 한국은 다른 선진국에 비해 채무비율 증가율이 상대적으로 낮다.
- ② 2020년은 코로나19 사태로 각국 정부가 공통적으로 빚을 내 재정을 투입했기 때문에 채무비율이 증가한 것으로 추론된다.
- ③ 2021년부터는 한국의 채무비율 증감폭 순위가 상위권에 위치한다.
- ④ 채무비율 증감폭을 낮추기 위해서는 예비타당성 조사를 면제하는 사업의 범위를 늘려야 한다.
- ⑤ 2021년부터는 미국, 일본, 영국은 한국에 비해 상대적으로 국가 재정 건전성을 적극적으로 관리할 것으로 전망된다.

80. 다음 신문기사를 읽고, 이에 대한 학생들의 대화 중 적절하지 않은 것을 고르시오.

7개 제강사가 철스크랩(고철)을 낮은 가격에 공급받기 위해 가격 ㉠담합을 한 혐의로 ㉡공정거래위원회에서 3000억 원의 과징금을 부과 받았다. 역대 네 번째 규모의 공정위 과징금이다. (중략) 이번 공정위 제재에 ㉢제강업계는 즉각 반발하고 나섰다. 공정위가 고철 유통시장에 대한 이해가 부족해 벌어진 일이라는 주장이다. 업계 관계자는 “고철 유통은 원래 실시간으로 정보가 흐르는 곳”이라며 “㉣정보 교환을 위해 만나는 것을 공정위가 일방적으로 담합으로 규정했다”고 말했다. (중략) 공정위는 이에 대해 터무니없는 주장이라고 일축했다. 고철 유통시장은 수요에 비해 공급이 항상 부족한 ‘과수요 시장’이어서 사는 기업들이 담합의 유혹에 빠지기 쉽고 실제 담합에 나섰다는 얘기다. 제강업체들은 곧바로 공정위에 이의를 제기하기로 했다. 업계 관계자는 “이의 신청이 받아들여지지 않으면 행정소송을 제기할 것”이라고 말했다.

○○경제신문, 2021.1.27

- ① 가영 : 국내에서는 ㉠행위는 ㉡을 통해 제재 받을 수 있지만, OPEC과 같은 석유 카르텔의 담합은 제재하지 못하는 게 현실이야.
- ② 나영 : ㉠행위는 ㉡에 관한 공정거래법에서 시장 지배적지위의 남용에 해당해.
- ③ 다영 : ㉢업체들 중 한 업체가 먼저 ㉠에 대해 자진 신고를 했다면 과징금을 완전 면제받았을 거야.
- ④ 라영 : ㉢의 입장에서는 ㉣의 행위가 업계에서는 일상적인 일이므로 문제가 될 것이 없다는 입장이야.
- ⑤ 마영 : 이번 사건은 보통 입찰담합 등 생산요소 공급에 관한 담합행위가 아닌 생산요소를 구매하는 업체들의 담합이라는 점에서 특이해.

<끝, 수고하셨습니다.>

TESAT 2회 모의고사 정답 및 배점

문제	정답	배점	난이도	문제	정답	배점	난이도
1	4	3	하	41	1	3	하
2	3	4	하	42	3	4	상
3	1	3	하	43	1	3	하
4	2	4	하	44	4	3	하
5	5	4	하	45	2	4	상
6	3	3	상	46	2	3	하
7	3	3	하	47	5	4	하
8	2	3	하	48	2	4	하
9	5	3	하	49	4	4	하
10	5	3	하	50	4	3	하
11	3	4	하	51	5	3	하
12	1	4	하	52	1	3	하
13	5	3	하	53	2	4	하
14	5	3	하	54	1	3	하
15	1	3	하	55	1	3	하
16	1	4	중	56	3	3	하
17	4	3	하	57	2	3	하
18	3	3	하	58	3	4	상
19	3	3	하	59	4	4	하
20	2	4	중	60	1	3	하
21	5	3	하	61	3	5	하
22	2	3	하	62	3	5	하
23	3	3	하	63	3	5	중
24	4	4	하	64	3	5	하
25	5	4	하	65	5	5	하
26	2	3	하	66	4	5	하
27	1	3	하	67	2	5	하
28	4	4	상	68	2	5	하
29	3	3	하	69	4	5	하
30	5	3	하	70	4	5	상
31	5	3	하	71	4	5	하
32	2	4	하	72	5	5	하
33	1	3	하	73	1	5	하
34	2	3	하	74	1	5	하
35	4	3	하	75	4	5	중
36	4	3	하	76	5	5	상
37	2	4	하	77	3	5	하
38	1	3	중	78	5	5	최상
39	5	3	하	79	4	5	하
40	1	3	하	80	2	5	중

3회 모의고사 문제지

- 문제지 앞표지에 성명과 수험번호를 적었는지 확인 하십시오.
- 경제이론과 시사경제·경영은 문항당 3점, 4점이고 상황추론·판단은 문항당 5점입니다.
- 시험시간은 100분입니다.

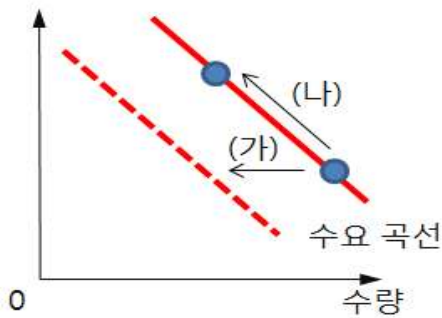
< 경제이론 >

1. 다음 지문을 읽고 미술 전시회 관람의 매물비용을 구하면?

갑돌이는 미술 전시회 관람을 위해 2만원의 티켓을 구입했다. 하지만 전시회 당일 갑돌이 몸이 아파 전시회 관람 1시간을 포기했다. (갑돌이가 아르바이트를 하는 경우 시간당 1만원을 받을 수 있다.)

- ① 0원 ② 1만원 ③ 2만원 ④ 3만원 ⑤ 4만원

2. 선생님이 수요 곡선을 설명하고 있다. (가)와 (나)처럼 이동하는 요인으로 선생님이 옳게 제시한 것을 고르시오.



	(가)	(나)
①	가격 상승	보완제 가격 상승
②	보완제 가격 상승	가격 상승
③	대체제 가격 하락	소득 감소
④	가격 상승	소득 증가
⑤	소득 증가	가격 상승

3. 다음은 기업의 생산과정에 대한 설명이다. 옳지 않은 것은?

- ① 한계비용곡선은 평균비용곡선의 최저점을 통과한다.
- ② 평균비용이 증가하면 한계비용은 반드시 증가한다.
- ③ 한계비용이 증가하면 평균가변비용은 반드시 증가한다.
- ④ 한계생산이 평균생산보다 작을 경우 생산을 늘릴수록 평균생산이 하락한다.
- ⑤ 다른 조건이 일정할 경우 한 가변투입요소의 투입량을 늘려 가면 어느 단계에 이르면 한계생산이 줄어들기 시작한다.

4. 한국은행이 기준금리를 내렸을 때 실물경제에 미치는 효과를 옳게 설명한 것은?

- ① 저축 감소 → 총수요 감소 → 국민소득 증가
- ② 환율 상승 → 수출 증가 → 국민소득 증가
- ③ 투자 감소 → 총수요 증가 → 국민소득 증가
- ④ 소비 감소 → 총수요 감소 → 국민소득 증가
- ⑤ 환율 하락 → 수출 증가 → 국민소득 증가

5. 다음 사례들에서 공통적으로 문제가 되는 내용은 무엇인가?

- 우르지트 파텔 인도중앙은행 총재는 완화적 통화정책을 요구한 모디 총리에 맞서 왔으나 2018년 12월 돌연 사임했다.
- 에르도안 대통령은 무라트 체틴카야 중앙은행 총재가 터키 정부의 정책 지시를 따르지 않는다면 해임하고 무라트 우이살 부총재를 총재직에 앉혔다.

- ① 양적강화
- ② 화폐의 기능
- ③ 지급준비금 조절
- ④ 중앙은행의 독립성
- ⑤ 중앙은행의 물가관리 목표제

6. 다음은 독점적 경쟁시장을 설명하고 있다. 옳지 않은 것은?

- ① 모든 기업은 동질적인 상품을 생산한다.
- ② 광고, 디자인 등 여러 측면에서 비가격 경쟁이 발생한다.
- ③ 진입장벽이 존재하지 않는다.
- ④ 다수의 소비자와 기업이 존재한다.
- ⑤ 개별기업의 수요곡선은 우하향한다.

7. 다음 중 총수요곡선(AD)을 좌측으로 이동시키는 요인으로 알맞은 것은?

- ① 해외에서 생산한 제품의 국내 수입 증가
- ② 국내 기업들의 자본 설비 투자 증가
- ③ 가계소득 증가로 인한 가계소비 증가
- ④ 국내 기업의 해외 수출 증가
- ⑤ 경기부양을 위해 정부의 재정지출 증가

8. 아래의 지문과 관련 있는 개념은 무엇인가?

대학생 중 차를 소유한 사람의 비율은 높지 않다. 하지만 대학 졸업 후 취업을 하여 소득이 생기면 차를 구입하는 경우가 많은데, 처음에는 주로 중고차를 구입한다. 하지만 시간이 흘러 경제적 여유가 생기면 중고차를 처분하고 신차를 구입하는 경우가 많다.

- ① 대체재와 보완재 ② 재화와 비재화
- ③ 정상재와 열등재 ④ 명시적 비용과 암묵적 비용
- ⑤ 소득효과와 대체효과

9. 다른 상황에 대한 변동이 없을 때, 미국 연방준비제도(Fed)의 점진적인 금리 인상에 따라 중국의 위안화 환율이 달러 당 6위안에서 7위안으로 변동하였다고 하자. 이 같은 변동으로 인한 결과로 옳은 것을 <보기>에서 고르시오.

< 보 기 >

ㄱ. 중국 사람들에게 미국산 상품은 싸졌다.
 ㄴ. 미국의 중국 상품에 대한 수입이 증가할 것이다.
 ㄷ. 중국의 대(對) 미국 무역수지 흑자가 장기적으로 증가하게 될 것이다.
 ㄹ. 미국 상품의 대(對) 중국 수출이 증가할 것이다.

- ① ㄱ, ㄴ ② ㄱ, ㄷ ③ ㄴ, ㄷ ④ ㄴ, ㄹ ⑤ ㄷ, ㄹ

10. 다음 중 시장에서 가격과 거래량이 결정되는 과정에 대한 설명으로 옳은 것은?

- ① 상품의 수출이 증가하면 수출 상품의 국내 시장 가격은 하락한다.
- ② 초과공급이 존재하면 시장가격은 상승한다.
- ③ 수요가 증가하면 시장가격은 하락한다.
- ④ 공급이 감소하면 거래량이 줄어들고 가격은 하락한다.
- ⑤ 열등재의 경우 소득이 증가하면 재화의 가격은 하락한다.

11. 경기 과열을 해결하는 방법으로 옳지 않은 것은?

- ① 소득세율을 높인다.
- ② 기준금리를 높인다.
- ③ 재정지출을 축소한다.
- ④ 원화 가치를 하락시킨다.
- ⑤ 법인세를 인상한다.

12. 다음 표는 각 재화 A~D의 수요의 현재 가격 근방에서의 가격탄력성을 나타낸다. 탄력성 값이 그대로 유지된다고 할 때, 가격을 인하하면 수입이 감소하는 재화만을 모두 고른 것은?

재화	탄력성
A	0.5
B	2
C	0
D	1

- ① A, B ② A, C ③ B, C ④ B, D ⑤ C, D

13. 우리나라의 실업통계에서 실업률이 높아지는 경우는?

- ① 공부만 하던 대학생이 편의점에서 주당 10시간 아르바이트를 시작하는 경우
- ② 취업자가 퇴직하여 전업주부가 되는 경우
- ③ 직장인이 업무 중 교통사고를 당해 2주간 입원 중인 경우
- ④ 대학생이 군복무 후 복학한 경우
- ⑤ 취업을 알아보던 해직자가 구직을 단념하는 경우

14. 한국은행이 경기회복을 위해 확장적 통화정책을 쓰기로 했다. 다음 중 확장적 통화정책으로 인식할 수 있는 것은?

- ① 제한인율 인상
- ② 지급준비율을 3.25%에서 3.5%로 인상
- ③ 현재 1.5%인 기준금리를 1.75%로 인상
- ④ 본원통화 공급을 100조에서 90조로 축소
- ⑤ 공개시장 조작을 통해 한국은행이 민간보유 정부채권을 매입

15. 공공재의 성격에 관한 설명으로 옳은 것은?

- ① 무임승차 문제는 소비의 경합성으로 인해 발생하며 정부가 그 재화를 공급해야하는 이유가 된다.
- ② 해안가 작은 마을에서 울린 지진·해일 경보 사이렌은 공공재이다.
- ③ 공공재 중 비순수공공재가 존재하는데 비경합성과 배제성을 가진 경우에만 해당한다.
- ④ 어떤 재화의 소비가 배제불가능하더라도 비경합적이면 시장을 통해 그 재화를 공급할 수 있다.
- ⑤ 공공부문이 어떤 재화를 공급한다면 그것은 공공재가 되기 위한 충분조건이다.

16. 다음 중 국내의 물가가 오르는 동시에 총생산이 감소할 수 있는 경우를 고르시오.

- ① 중앙은행의 물가상승률 목표 상향조정
- ② 새로운 기술개발
- ③ 대규모 정부투자의 증가
- ④ 석유 등 원자재가격의 상승
- ⑤ 글로벌 경제의 회복으로 수출증가

17. 정보의 비대칭성과 관련된 설명으로 옳지 않은 것은?

- ① 정보의 비대칭이 존재하는 시장에서는 정부의 개입으로 자원 배분의 효율성이 개선될 수도 있다.
- ② 노동시장에서 도덕적 해이를 해결하기 위해 효율성 임금을 지급한다.
- ③ 보험회사는 자기 부담금이 있는 보험 상품을 판매함으로써 정보의 비대칭으로 발생하는 문제를 완화할 수 있다.
- ④ 도덕적 해이는 사용자가 대리인의 행동을 완벽하게 감시할 수 없을 때 발생한다.
- ⑤ 신호보내기는 정보가 부족한 주체가 상대방의 정보를 얻기 위해 하는 행위이다.

18. 공급측면에서 인플레이션을 발생시키는 원인이 아닌 것은?

- ① 노동생산성을 초과한 과도한 임금 상승
- ② 홍수 등과 같은 자연재해
- ③ 환경보호에 대한 국민들의 인식 증대
- ④ 국제 원자재가격 급등
- ⑤ 정부지출 증가

19. 영국의 경제학자 토머스 맬서스는 인구 증가로 인해 인류는 총체적 빈곤상태에 빠질 것이라고 예측했다. 이러한 예상은 잘못된 것으로 밝혀졌다. 맬서스가 간과한 것은 무엇인가?

- ① 기술의 진보
- ② 빅맥지수
- ③ 절대우위의 원리
- ④ 보이지 않는 손
- ⑤ 인구의 자동 조절 기능

20. 다음은 가격통제에 대한 설명이다. 옳지 않은 것은?

- ① 균형임금보다 높게 최저임금제를 실시하면 전체 노동자들의 총노동소득은 증가한다.
- ② 균형임금보다 높게 최저임금제를 실시하면 고용이 감소될 수 있다.
- ③ 임대주택에 대해 균형 임대료보다 낮게 임대료 상한제를 실시하면 임대주택에 대한 수요량은 늘어난다.
- ④ 균형가격보다 낮게 설정된 최고가격제 하에서는 암시장이 형성될 가능성이 높다.
- ⑤ 임대주택에 대해 균형 임대료보다 낮게 임대료 상한제를 실시하면 임대주택에 대한 공급량은 줄어든다.

21. 다음 보기 중 정부지출 증가에 따른 구축효과를 <보기>에서 모두 고르면?

< 보 기 >

ㄱ. 정부지출 증가는 소득을 늘려 화폐수요가 증가한다. 따라서 이자율이 상승하고 민간투자가 감소한다.

ㄴ. 국공채 발행을 통해 정부 지출을 증가하게 되면 민간소비는 일정하게 유지된다.

ㄷ. 정부지출 증가는 물가를 상승시키기 때문에 실질화폐 공급이 감소한다. 따라서 이자율이 상승하고 민간투자가 감소한다.

ㄹ. 변동환율제도를 채택하고 있고 자본이동이 자유로우면 정부지출이 증가될 경우 환율이 상승하게 된다.

- ① ㄱ, ㄴ
- ② ㄱ, ㄷ
- ③ ㄴ, ㄷ
- ④ ㄴ, ㄹ
- ⑤ ㄷ, ㄹ

22. 다음 지문의 () 안에 들어갈 용어로 알맞은 것은?

최근 인터넷 댓글 조작과 관련한 사건이 사회에 큰 파장을 끼치고 있다. 대세를 따르지 않으면 불안해하는 집단주의 문화가 팽배한 한국에서는 베스트 댓글을 따라가려는 성향이 강해 여론을 조작할 수 있기 때문이다. ○교수는 “사람들은 대개 일반 대중의 경우는 자기 자신의 뚜렷한 주관과 판단에 의해서 결정을 내리는 경우는 소수이고, 일반 대중은 다수가 결국 여론에 의해서 자신의 생각이 영향을 받는다”며 “어떤 게 대세인가를 살피고 결국 자기도 대세를 쫓아가려는 ()가 댓글 이용자들에게서도 발견된다”고 분석했다.

- ① 스넵효과 ② 밴드왜건효과 ③ 네트워크효과
- ④ 외부효과 ⑤ 앵커링효과

23. 다음은 우리나라 경상수지에 대한 설명이다. 옳지 않은 것은?

- ① 경상수지 흑자 규모는 외환보유액 증가 규모와 그대로 일치한다.
- ② 경상수지는 수출이 부진하더라도 흑자를 보일 수 있다.
- ③ 일반적으로 대미 달러 환율과 경상수지 간에는 상관관계가 존재한다.
- ④ 경상수지는 한 나라 실물경제의 저축과 투자의 차이라고 할 수 있다.
- ⑤ 경상수지는 상품수지, 서비스수지, 본원소득수지, 이전소득수지의 합이다.

24. 시장경제의 원리에 대한 설명과 거리가 먼 것은?

- ① 공공재는 그 대가가 정확하게 지급되지 않기 때문에 시장에서 공급 부족 현상이 발생한다.
- ② 사유재산 제도와 경제적 자유를 근간으로 한다.
- ③ 능력에 따른 분배가 이루어지므로 소득분배가 균등하다는 보장은 없다.
- ④ 민주주의 원리인 1인 1표의 원칙이 실현된다.
- ⑤ 시장가격에 의해 자원의 배분이 이뤄진다.

25. 시장의 종류에 대한 다음 설명 중 옳지 않은 것은?

- ① 게임이론으로 완전경쟁시장을 설명할 수 있다.
- ② 완전경쟁시장에서 생산자와 소비자는 가격수용자(price-taker)이다.
- ③ 진입장벽이 존재하면 독점시장이 생긴다.
- ④ 시장은 판매자의 수를 기준으로 구분할 수 있다.
- ⑤ 과점시장에선 카르텔이 형성될 수 있다.

26. 장기적으로 총생산이 생산함수에 의해 결정되고 물가가 신축적일 때, 폐쇄경제에서 총저축과 투자를 일치시키는 가격변수는 다음 중 무엇인가?

- ① 명목임금 ② 실질이자율 ③ 물가
- ④ 통화량 ⑤ 실질소득

27. 경제학자들은 경제를 지속적으로 성장시키는 요인을 규명하기 위해 노력해왔다. 다음 중 지속적인 경제성장의 원인으로 보기 어려운 것은?

- ① 교육 등 인적자원에 대한 지출 증가
- ② 기술 개발을 위한 R&D(연구·개발) 지출 증가
- ③ 기술 발전을 위한 인프라·지식재산권의 보호
- ④ 통화량의 지속적인 증가
- ⑤ 생산성의 향상

28. 절약의 역설에 대한 다음 설명 중 옳지 않은 것은?

- ① 개개인에게 도움이 되는 행동이 경제 전체로는 해가 될 수 있다.
- ② 경기 불황에는 오히려 소비를 늘리는 것이 도움이 된다.
- ③ 경제의 장기 현상에 대한 설명이다.
- ④ 국내총생산의 결정에 있어 총수요의 중요성을 강조한다.
- ⑤ 경제학자인 케인스가 강조하였다.

29. 마찰적 실업을 감소시키기 위한 정책으로 가장 옳은 것은?

- ① 기업의 구인정보를 널리 홍보할 수 있는 수단을 마련해 준다.
- ② 정부는 투자세액공제를 축소한다.
- ③ 정부는 기업에게 효율성 임금제도를 도입하도록 적극 권장한다.
- ④ 한 개의 사업장 안에 복수노동조합을 허용한다.
- ⑤ 법정 최저임금을 낮춘다.

30. 풍작으로 쌀값 폭락이 예상되자 일부 농민들이 논을 갈아엎는 시위를 벌였다. 정부는 쌀값 안정을 위해 쌀 매입 지원정책을 확대했다. 이 정책이 초래하는 효과가 아닌 것은?
- ① 납세자로부터 농민으로 인위적인 소득 재분배를 야기한다.
 - ② 높은 가격이 보장된 쌀을 생산하기 때문에 다른 농산물의 생산을 줄이는 결과를 초래한다.
 - ③ 쌀의 초과공급을 유도하여 지속적인 쌀 수급의 불균형을 초래한다.
 - ④ 농민들이 쌀 품종 고급화에 적극 나선다.
 - ⑤ 쌀을 보관하고 관리하기 위하여 비용이 든다.

< 시사 경제·경영 >

31. 큰 단위 지수가 바뀌는 것에 대한 두려움으로 증시 상승세가 주춤하는 현상으로 코스피나 코스닥지수가 특정 분기점에 도달하면 투자자들의 차익 실현 매물이 급증해 하락하곤 했다. 이러한 경제현상을 나타내는 용어는?
- ① 사슴장 ② 데드크로스 ③ 마일스톤 징크스
 - ④ 되튐현상 ⑤ 노크 아웃
32. 기업이 자금을 조달하는 방식 중 직접금융 방식이 아닌 것은?
- ① 은행 대출
 - ② 주식 발행
 - ③ 전환사채 발행
 - ④ 후순위채 발행
 - ⑤ 신주인수권부 사채 발행
33. 다음 중 부채총액을 증가시키는 거래는?
- ① 외상매입금 지급을 위해 약속어음을 발행하다.
 - ② 상품을 외상으로 매입하다.
 - ③ 전기에서 이월된 미지급금료를 지급하다.
 - ④ 차입금이자를 지급하다.
 - ⑤ 유가증권을 매각하다.

34. '비교우위론'을 만든 영국의 경제학자다. 1772년 런던에서 태어나 고전경제학의 이론체계를 완성하는 데 기여한 경제학자는?
- ① 애덤 스미스 ② 밀턴 프리드먼 ③ 카를 마르크스
 - ④ 데이비드 리카도 ⑤ 존 스튜어트 밀
35. 코스닥시장에 상장된 A사 주가는 어제 2만원으로 마감했지만, 오늘 상한가를 기록하며 장을 마감하였다. 오늘 A사 주식의 종가는 얼마일까?
- ① 2만 2,000원
 - ② 2만 4,000원
 - ③ 2만 6,000원
 - ④ 2만 8,000원
 - ⑤ 3만원

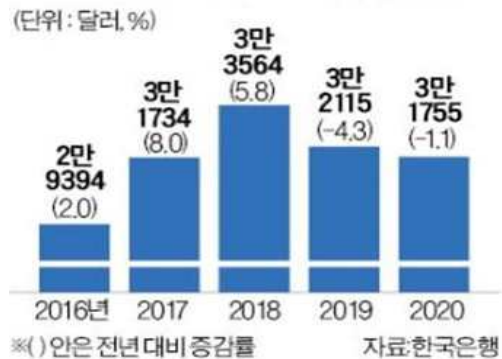
36. 나라 살림인 재정이 건전해야 국가가 지속가능한 성장을 할 수 있다. 다음 <보기>에서 재정 건전성을 위한 정책 수단을 모두 고르면?

< 보 기 >

ㄱ. 고정지출 비율 증대 ㄴ. 페이그 원칙
 ㄷ. 추가경정예산 편성 ㄹ. 예비타당성 조사

- ① ㄱ, ㄴ ② ㄱ, ㄷ ③ ㄴ, ㄷ ④ ㄴ, ㄹ ⑤ ㄷ, ㄹ

37. 한국은 2020년 1인당 '이것'이 1.1% 감소하며 3만1000달러대로 내려앉았다. 2019년(-4.3%)에 이은 2년 연속 감소세다. 이에 따라 한국의 1인당 '이것'은 대만에 추월당할 위기에 처했다. '이것'은 일정기간동안 한 나라 국민이 소유하고 있는 생산요소를 국내외에 제공한 대가로 벌어들이는 소득을 의미한다. '이것'은 무엇인가?



- ① GNI ② CMA ③ PPI ④ ESG ⑤ CPI

38. 금융자산의 선택과 관련한 설명으로 옳은 것은?

- ① 수익률을 높이기 위해서는 PER(주가수익비율)이 높은 주식을 구매해야 한다.
- ② 물가상승률이 높다면 실물자산보다는 금융자산을 구매하는 것이 유리하다.
- ③ 안전한 자산을 선호한다면 국채보다는 주식이 낫다.
- ④ 원금 손실을 최소화하기 위해서는 낮은 수익률을 감수해야 한다.
- ⑤ 수익률을 높이기 위해서는 파생상품보다는 예금에 가입해야 한다.

39. 다음 지문과 그림이 표현한 상황에 대한 설명 중 옳지 않은 것은?

1998년 1월 5일. 이른 아침부터 수백 명의 인파가 종합금융회사들 앞에 몰려들었다. 한 달 전 전국 14개 중금사에 내려진 영업정지가 풀리자 예치금을 찾으러 온 예금주들이었다. 언 발을 구르며 추위를 견디던 이들은 영업점 문이 열리자 한꺼번에 들어닥쳐 현금을 인출해 갔다. 이날부터 사흘간 이들 중금사에선 약 2만 명의 고객이 1조1000억 원을 찾아갔다. 전체 중금사 개인 예금 2조9000억 원의 40%에 가까운 규모였다.



- ① 이 사태가 발생하면 금융회사의 건전성이 더욱 악화된다.
- ② 한국은 이를 예방하기 위해 금융회사가 문을 닫더라도 원금만 5000만원까지 보호해주는 예금자보호법을 시행하고 있다.
- ③ 금융회사들의 연쇄부도사태를 막기 위해 중앙은행이 최종대부자 기능을 수행할 수 있다.
- ④ 한국에서는 2011년 저축은행 부실사태가 발생하였을 때 이와 비슷한 상황이 발생하였다.
- ⑤ 예금자들이 돈을 받기 위해 금융회사를 방문하는 것은 개인에게는 합리적인 선택이지만, 집단화되면서 비이성적인 결과를 초래하는 '구성의 오류' 사례다.

40. 증권시장에 상장하지 않은 기업이 기존 상장 기업과 합병하는 방식으로 상장하는 방식은?

- ① 직상장 ② 우회상장 ③ 인적분할
- ④ 물적분할 ⑤ U턴 상장

41. 다음 지문의 () 안에 알맞은 단어를 보기에서 고르시오.

이른바 워라밸(Work-Life Balance)에 대한 관심이 높아지고 유연근무제를 활용하는 사업장이 늘어나고 있다. 특히, 여성의 사회참여가 늘어나면서 일과 가정생활의 균형과 조화를 통해 남성과 여성이 평등한 사회를 구현하고, 출산 및 육아의 부담으로 인한 우수 여성 인력의 이탈을 막아 고용주의 비용을 감소시키고자 사회 각계의 노력이 진행되고 있다. 이러한 시류에 발맞춰, 근로시간과 장소를 탄력적으로 선택하는 근로자, 즉 ()가 주목받고 있는데, 이는 두 가지 색(빨강과 파랑)이 섞여서 조화를 이루듯 여성과 남성, 가정과 일의 균형을 이룬다는 의미를 내포한다.

- ① 화이트칼라 ② 핑크칼라 ③ 블루칼라
- ④ 골든칼라 ⑤ 퍼플칼라

42. 다음 신문기사를 읽고, 이와 관련한 설명 중 옳지 않은 것을 고르면?

은행권에서 대출을 받지 못한 주택 실수요자들이 이자가 비싼 2금융권으로 밀려나고 있다. 전체 은행의 부동산 담보대출(전세자금 대출 제외)은 금융당국의 고강도 대출 규제 여파로 작년 11월을 기점으로 감소세다. 전월 대비 증가액이 지난해 11월 3조9000억원에서 올해 2월엔 3조원으로 23% 줄었다. 반면 2금융권은 같은 기간에 두 배 이상 불어났다. 금융당국이 '영끌' 주택 구입을 억제하기 위해 은행권 대출 문턱을 크게 높이자 실수요자들이 '올며 겨자 먹기'로 2금융권에서 돈을 빌린 탓이다.
○○경제신문, 2021.3.13

- ① 규제의 역설이다.
- ② 당국이 은행권 대출을 규제하는 것은 시중에 불어난 유동성과도 관련이 있다.
- ③ 은행권이 2금융권에 비해 대출금리가 높다.
- ④ 규제로 인해 풍선효과가 나타났다.
- ⑤ 만약에 한국은행이 기준금리를 인상하게 된다면, 가계의 주택대출 이자부담은 늘어날 것이다.

43. 최근 중국을 견제하기 위해 4개국 안보협의체인 '쿼드(Quad)'를 구성하였다. 이를 통해 중국의 공격적인 팽창을 견제하면서 공동의 비전 증진과 평화·번영 보장을 목표로 하고 있다. 밑줄 친 쿼드에 속하지 않는 나라를 고르면?

- ① 미국 ② 일본 ③ 인도 ④ 호주 ⑤ 대만

44. 최근 미국의 경기 부양책 통과와 경기 회복에 대한 기대감으로 미국 장기 국채의 금리가 상승하고 단기 국채의 금리는 하락하면서, 장·단기 금리차가 커지고 있다. 장기 금리가 상승하면 시장 금리의 상승에도 영향을 주어 불경기에서 회복 중인 가계·기업에 악영향을 끼칠 수 있기 때문에, 미국 중앙은행(Fed)은 국채 금리 급등락이 계속되면 시장에 개입할 수 있다. 이때, 장기 채권을 매입하고 단기 채권을 매도하는 '이것'을 실행할 가능성도 있다. '이것'은 무엇인가?

- ① 더블딤
 ② 테이퍼링
 ③ 불태화 정책
 ④ 포워드 가이드스
 ⑤ 오퍼레이션 트위스트

45. 시장 평균을 초과하는 수익률을 목표로 잡고 펀드매니저가 적극적으로 운용에 참여하는 펀드를 의미하는 말은?

- ① 거치식펀드 ② 적립식펀드 ③ 액티브펀드
 ④ 패시브펀드 ⑤ 롱쇼트펀드

46. 정부가 물가 상승률이 높게 나올 것으로 예측하는 이유로 어떤 경제적 현상을 언급하고 있다. 무엇인가?

정부가 올 2분기 물가 상승률이 높게 나올 것으로 전망했다. 이에 대해 지난해 2분기 소비자물가 상승률이 유난히 낮았던 것을 하나의 요인으로 보고 있다. 지난해 2분기 소비자물가상승률은 -0.1%로 마이너스를 기록했다. 지난해 5월 소비자물가상승률이 -0.3%까지 떨어진 영향이다.
 ○○경제신문, 2021.3.13

- ① 기저효과 ② 피셔효과 ③ 피구효과
 ④ 낙수효과 ⑤ 쿠퍼효과

47. 적대적인 기업 인수합병(M&A)을 방어하기 위한 수단에는 여러 가지가 있다. 다음은 무엇에 대한 설명인가?

- 기존 경영진의 신분을 보장할 수 있도록 경영진이 임기 전에 퇴임하면 거액의 퇴직금을 받을 수 있도록 정관에 명시한다.
- 부실기업에는 대주주들이 회사경영에 관계없이 개인적으로 만 주머니를 차는 수단으로 악용될 수 있다.

- ① 포이즌 필 ② 곰의 포옹 ③ 황금낙하산
 ④ 황금주 ⑤ 그린메일

48. 가계는 은행에 주택과 관련한 대출을 받을 때, 은행은 가계의 소득이나 담보가치, 부채 등을 따져 대출을 해준다. 이와 관련한 용어를 <보기>에서 모두 고르면?

< 보 기 >

ㄱ. LTV	ㄴ. ERP	ㄷ. DTI
ㄹ. DSR	ㅁ. FDI	ㅂ. KPI

- ① ㄱ, ㄴ, ㄷ ② ㄱ, ㄷ, ㄹ ③ ㄱ, ㄹ, ㅁ
 ④ ㄴ, ㄷ, ㄹ ⑤ ㄴ, ㅁ, ㅂ

49. 다음 지문이 설명하는 경제용어는?

금융회사가 대출 금리를 정할 때 기준이 되는 금리에 추가하는 위험가중 금리를 말한다. 스프레드라고도 하는데 대출자의 신용도가 높으면 이것이 낮아지고 신용도가 낮으면 이것은 높아진다.

- ① 가산금리 ② 기준금리 ③ 법정금리
 ④ 명목금리 ⑤ 실질금리

50. 기업이 시장에서 예상한 실적 이상으로 높은 실적을 올린 경우를 말한다. 깜짝 실적이라고도 한다. 기업이 깜짝 실적을 발표하면 주가가 상승하는 경우가 많다. 이를 지칭하는 증권시장 용어는?

- ① 어닝 쇼크 ② 사이드카 ③ 스톡옵션
 ④ 서킷 브레이커 ⑤ 어닝 서프라이즈

51. 일정 기간 수익과 비용이 같아서 이익도 손실도 생기지 않는 지점을 나타낸다. 손익분기점을 뜻하는 약칭으로 알맞은 것을 고르면?

- ① BEP ② BIS ③ EPS ④ PBR ⑤ ROA

52. 다음에서 말하는 경제 용어는?

- 선물가격과 현물가격 간의 차이를 의미함.
- 정상적인 시장에서는 현물가격이 선물가격보다 낮아 양(+의) 이점 값을 갖게 된다.

- ① 볼커룰 ② 서브프라임 ③ 배드뱅크
④ 베이스스 ⑤ 블랙시트

53. 다음은 어떤 경제용어를 설명하는가?

- 미래 일정시점에 일정한 가격으로 기초상품을 구입하거나 팔 수 있는 권리를 말함.
- 일종의 보험과 같은 효과를 얻을 수 있음.

- ① 양키본드 ② 장외거래 ③ 수쿠크
④ 역외선물 ⑤ 옵션

54. 2020년 현금흐름표의 활동별 및 기초현금잔액이 아래 <보기>와 같을 경우 기말현금잔액은 얼마인가?

< 보 기 >

- 영업활동 현금유입 100원
- 투자활동 현금유출 300원
- 재무활동 현금유입 150원
- 기초현금잔액 250원

- ① 50원 ② 100원 ③ 150원 ④ 200원 ⑤ 250원

55. 특정 상품의 수입 급증으로부터 국내 산업을 보호하기 위해서 취하는 긴급수입제한 조치를 무엇이라 하는가?

- ① 관세
② 스크린쿼터
③ 세이프가드
④ 보호무역
⑤ 수출자율규제

56. 구글, 페이스북 등 세계적 정보기술(IT) 기업의 본사가 몰려 있는 미국 캘리포니아주 산타클래라 일대 지역을 가리키는 말은?

- ① 산타렐리 ② 벤처캐피탈 ③ 러스트벨트
④ 실리콘밸리 ⑤ 스윙스테이트

57. 다음 지문을 읽고 (A), (B)에 들어갈 용어를 순서대로 옳게 연결한 것을 고르시오.

(A)은 기업이 단기 미지급금을 지급할 현금이 충분하지를 가리킨다. (A)을 분석하기 위해 재무제표에 근거하여 몇 가지 비율을 계산하여 확인할 수 있는데, 그 중 한 가지로 유동자산을 유동부채로 나눈 (B)을 사용할 수 있다.

	(A)	(B)
①	채무상환 위험	자산이익률
②	채무상환 위험	유동비율
③	유동성 위험	유동비율
④	유동성 위험	당좌비율
⑤	유동성 위험	자산이익률

58. 다음 중 3개월 후 구입할 현물의 가격 상승위험을 헤지(hedge)하는 데 유용한 방법은 어느 것인가?

< 보 기 >

ㄱ. 만기가 3개월 후인 선물매도
ㄴ. 만기가 3개월 후인 선물매입
ㄷ. 만기가 3개월 후인 풋옵션 매입
ㄹ. 만기가 3개월 후인 콜옵션 매입

- ① ㄱ, ㄴ ② ㄱ, ㄷ ③ ㄴ, ㄷ ④ ㄴ, ㄹ ⑤ ㄷ, ㄹ

59. 다음 신문기사를 읽고, ()에 해당하는 숫자로 알맞은 것을 고르면?

경영권 분쟁 기업뿐만 아니다. 올해는 상법이 개정되면서 소액주주 표심은 더 중요해졌다. 올해부터 감사위원을 한 명 이상 분리 선임하고, 이때 대주주 의결권은 각각 ()%로 제한되기 때문이다. 미리 의결권 확보에 나서는 기업이 급증했다. 김○○ 대표는 “지난해까지만 해도 의결 정족수를 채우기 위해 의결권 수거 업체를 찾는 기업이 많았다면 상법이 개정된 요즘은 ‘적군’이 있어 표대결을 앞두고 있는 기업 수요가 늘어났다”고 설명했다.

- ① 2 ② 3 ③ 4 ④ 5 ⑤ 6

60. 특정 지수의 변동과 수익률이 연동되는 파생결합증권으로 증권시장에 상장되어 쉽게 매매할 수 있다. 증권사가 발행하고 기초지수의 수익률을 그대로 지급하는 특징이 있는 이 금융 투자 상품은?

- ① ELD ② DLS ③ REITs ④ ELS ⑤ ETN

< 상황 추론 · 판단 >

61. 소득 불평등을 나타내는 다음 용어에 대한 설명 중 옳지 않은 것은?

- 십분위분배율 • 로렌즈곡선 • 지니계수

- ① 십분위분배율은 하위 40% 계층의 소득을 분자로, 상위 20% 계층의 소득을 분모로 해서 나온 수치다.
- ② 지니계수가 0이면 완전불평등, 1이면 완전평등을 의미한다.
- ③ 십분위분배율이 2에 가까워질수록 소득 분포가 고르다는 것을 의미한다.
- ④ 십분위분배율은 중간계층의 소득을 잘 반영하지 못하는 단점이 있다.
- ⑤ 로렌즈곡선은 대각선에 가까울수록 소득분배가 평등하다는 의미이다.

62. 어떤 이가 맥주를 소비하려 한다. 이 사람의 첫 번째 잔에 대한 지불용의는 1만 원, 두 번째 잔에 대한 지불용의는 7,000원, 세 번째 잔에 대한 지불용의는 4,000원, 네 번째 잔에 대한 지불용의는 2,000원이다. 맥주 한 잔의 가격이 3,000원이라고 할 때, 이 사람의 총 소비자 잉여는 얼마인가?

- ① 1만 2,000원 ② 1만 8,000원 ③ 2만 1,000원
④ 2만 4,000원 ⑤ 2만 7,000원

63. A국의 국가신용등급 전망이 '안정적'에서 '긍정적'으로 바뀌었다고 할 때 옳지 않은 것은?

- ① A국 기업들이 해외에서 채권을 발행할 때 지급하는 이자율은 낮아질 가능성이 크다.
- ② A국 정부의 해외 자금 조달비용이 감소할 것이다.
- ③ 조만간 A국의 국가신용등급이 오를 것이다.
- ④ A국 정부의 부채 규모에 대한 전망이 개선됐을 것이다.
- ⑤ A국 국채의 신용부도스왑(CDS) 프리미엄이 상승할 것이다.

64. 외국자본이 빠르게 한국으로 유입되고 있다고 하자. 이에 대해 학생들이 대화를 나누고 있다. 대화 내용 중 옳은 것을 모두 고르면?

- 가영 : 외국에서 자본이 유입되면 원화가치가 상승 압력을 받고 있어.
- 나영 : 이 상태를 그대로 방치하면 경상수지가 악화될 텐데 말이야.
- 다영 : 더 이상의 자본유입을 막으려면 이자율을 올리는 것이 효과적일 거야.
- 라영 : 외국인 투자자들이 한국 증시를 낙관하고 있다는 증거로 부동산 등 자산 가격이 올라갈 가능성이 높으니 이자율을 내려야 해.

- ① 가영, 나영 ② 가영, 다영
③ 나영, 다영 ④ 나영, 라영
⑤ 다영, 라영

65. 다음은 우리나라 독감예방접종 광고문의 일부분이다. 이에 대한 추론이나 설명으로 옳은 것을 <보기>에서 모두 고른 것은?

- 보건소 무료접종대상 : 만 3세 이상~만64세 이하 의료급여수급자, 국가유공자, 장애인 등
- 국가무료대상자(위탁의료기관 접종) : 6개월~만 12세 이하(초등학생), 만 65세 이상
○○구청보건소

< 보 기 >

- ㄱ. 생산의 부정적 외부성의 대표적 사례이다.
- ㄴ. 소비의 긍정적 외부성의 대표적 사례이다.
- ㄷ. 조세 부과를 통해 외부성 문제를 해결할 수 있다.
- ㄹ. 보조금 지급을 통해 외부성 문제를 해결할 수 있다.

- ① ㄱ, ㄴ ② ㄱ, ㄷ
③ ㄴ, ㄷ ④ ㄴ, ㄹ
⑤ ㄷ, ㄹ

66. 다음은 신문기사의 칼럼을 일부 발췌한 것이다. 이에 대한 학생들의 대화 중 옳지 않은 것을 고르면?

20세기에도 인구의 상당수를 사망에 이르게 한 대기근이 있었는데, 대표적인 경우가 ‘홀로도모르(holodomor)’라고 불리는 구(舊) 소비에트연방 스탈린 치하에서 발생한 우크라이나 대기근이다. 평화 시 기근이 거의 사라진 유럽에서, 더욱이 비옥한 흑토 토양의 평야 지대로 ‘유럽의 빵바구니’로 불리는 곡창지역인 우크라이나에서 많은 사람이 굶어 죽는 참혹한 비극이 발생한 것이다. (중략) 경제사 분야의 권위 있는 학술지인 ‘저널 오브 이코노믹 히스토리’에 출간 예정인 나탈리야 나우멘코 조지메이슨대 교수의 ‘기근의 정치경제학: 1933년 우크라이나 기근의 경우’ 논문이 그것이다. 논문에서는 1933년 우크라이나 기근으로 인구 3200만명 가운데 260만 명이 사망했는데, 그중 52%가 소비에트 정책에 기인하는 것이고 기상 요인은 8% 내외로 추정된다는 것이다. 1929년부터 우크라이나 지역에서 실시한 대규모 농업 집산화 정책에 따라 농민들은 자신의 토지와 생산 도구 및 가축의 사적 소유권을 사실상 훼손당하고 공동농업 형태로 전환하도록 강제됐으며 식료품의 사적 거래를 사실상 금지하는 일종의 배급정책이 이뤄졌는데, 이 과정에서 농업 생산성이 급격히 저하되며 대기근이 발생했다는 것이다. 토지와 생산수단을 공유화해 생산을 증가시켜 사회주의 경제 산업화를 이루겠다는 소비에트 정권의 시도는 우크라이나 지역의 부농뿐 아니라 자영농도 몰락시켰다. 더 나아가 농산물 생산 체계를 무너뜨리며 대기근과 이로 인한 대규모 아사(餓死)라는 파국적 비극에 이르렀다는 의미다.

○○경제신문, 2021.3.2

- ① 현중 : 사적 소유권을 제한하는 정책은 사회적 후생을 감소시켜.
- ② 은혁 : 애덤 스미스의 「국부론」에서 우리가 저녁 식사를 기대할 수 있는 이유를 알 수 있지.
- ③ 기영 : 북한의 농지개혁 또한 위와 같이 토지의 사적 소유권을 제한했지.
- ④ 진수 : 소비에트 정권은 토지와 생산수단을 정부의 소유라고 여겼어.
- ⑤ 명훈 : 정부가 실질적으로 토지와 생산수단을 통제하더라도 노동력을 투입하면 생산량이 늘어날 거야.

67. 다음 자료에 대한 옳은 분석이나 추론은?

갑 커피전문점은 서울 A지점과 부산 B지점을 운영하고 있다. 갑 커피전문점이 커피가격을 두 지점 모두에서 5% 인상하자 서울 A지점의 판매수입은 감소했고, 부산 B지점의 판매수입은 증가했다. 갑 커피전문점의 전체 판매수입도 증가했다.(단, 각 지점별 커피에 대한 수요의 가격탄력성은 일정하다. 어느 지점의 가격변동이 다른 지점 수요에 영향을 미치지 않는다.)

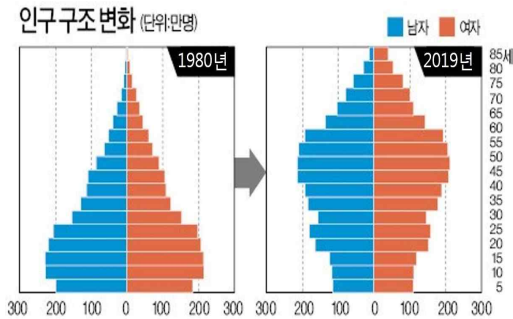
- ① 갑 커피전문점은 두 지점 고객에 대해 가격차별 전략을 취했다.
- ② 서울 A지점 수요자의 커피에 대한 수요의 가격탄력성은 1보다 작다.
- ③ 서울 A지점의 가격은 5%인하하고, 부산 B지점의 가격은 5% 인상했다면 갑 커피전문점의 판매수입은 불변일 것이다.
- ④ 부산 B지점의 가격만 인상했을 경우, 갑 커피전문점의 판매수입은 더 크게 증가했을 것이다.
- ⑤ 부산 B지점의 수요자는 커피가격에 대한 수요의 가격탄력성이 탄력적이다.

68. 다음 도표에 대한 분석으로 가장 적절한 것은?(단, 한계소비성향은 평균소비성향과 정(+)의 관계에 있다고 가정한다.)



- ① 재정 지출이 총수요에 미치는 영향이 감소할 것이다.
- ② 인구가 증가해서 발생하는 현상이다.
- ③ 총저축은 감소할 것이다.
- ④ 소득이 감소해서 발생한 현상이다.
- ⑤ 물가가 상승할 것이다.

69. 다음은 통계청이 발표한 우리나라 ‘2019년 인구센서스’ 결과를 나타내는 그래프이다. 이와 관련한 설명 중 옳지 않은 것은?



- ① 센서스 결과는 국가가 필요한 정책을 구상하고 시행하는 기초자료로 활용된다.
- ② 앞으로 직무급제나 성과급제와 같은 급여 체계보다는 호봉제가 주를 이룰 것이다.
- ③ 1980년에 비해 2019년의 노년부양비가 증가했다.
- ④ 그래프와 같은 인구구조 변화 추세가 지속된다면 생산가능인구 비율이 줄고 인구절벽 현상이 현실화될 가능성이 점점 높아진다.
- ⑤ 2019년 우리나라 인구구조는 1980년과 비교해 유소년 인구 비중은 낮아진 반면 고령층 인구 비중은 높아진 것으로 볼 수 있다.

70. 다음은 특정 시기의 경제신문 기사다. 해당 국책연구기관이 우려하는 경제 현상에 대한 영향을 바르게 유추한 것은?

**정부는 ‘저물가 일시적’이라는 데
KDI “심상치 않아...한은, 통화정책 다시봐야”**

국책연구기관인 한국개발연구원(KDI)이 최근 마이너스 물가상승률은 소비와 투자 등 수요가 위축된 때문이라며 정부 설명과 배치되는 분석을 내놓았다. KDI는 특히 수요 부진에 따른 저물가는 경제성장률 하락으로 이어지고 다시 수요 감소를 초래하는 악순환이 발생한다고 경고했다.

- ① 기업의 투자가 늘어난다.
- ② 국제수지 악화가 발생한다.
- ③ 명목이자율이 상승한다.
- ④ 채권자보다 채무자가 유리하다.
- ⑤ 화폐보유가 실물자산 보유보다 유리하다.

71. 다음 신문기사에 나타난 사건은 해당 반도체 시장의 가격과 거래량에 어떠한 영향을 주는가?(단, 다른 요인은 변함이 없다고 가정한다.)

17일 업계에 따르면 삼성전자 오스틴 반도체 파운드리(위탁생산) 공장은 지난달 16일(현지시간) 멈춘 이후 가동을 재개하지 못하고 있다. 당시 미국 텍사스를 덮친 한파 영향으로 전력공급이 중단돼 셋다운이 발생했는데, 현재 전력과 용수 공급은 복구됐지만 라인 재가동을 위한 설비 점검 작업이 길어지고 있는 것으로 전해졌다. 삼성전자는 셋다운 피해를 최소화하고 가동 재개 시점을 하루라도 앞당기기 위해 오스틴 공장으로 기술진을 급파한 상태다. (중략) 삼성 오스틴 공장 셋다운으로 글로벌 5세대(5G) 이동통신 스마트폰과 SSD 등 IT제품 생산에 연쇄적으로 차질이 발생했다는 분석도 나오고 있다.

○○경제신문, 2021.3.17

- | 가격 | 거래량 | 가격 | 거래량 |
|------|--------|------|------|
| ① 상승 | - 변함없음 | ② 상승 | - 증가 |
| ③ 상승 | - 감소 | ④ 하락 | - 증가 |
| ⑤ 하락 | - 감소 | | |

72. 상대적 구매력 평가설에 따르면 두 나라의 인플레이션율의 차이가 환율의 변화에 전부 반영이 되어야 한다. 1년 전 미국 달러 당 중국 위안화 환율이 6위안이었다고 하자. 그리고 지난 1년 동안 중국의 인플레이션율은 5%였고 같은 기간 미국의 인플레이션율은 2%였다. 그렇다면 구매력 평가설을 만족시키는 현재의 위안화 환율은 대략 얼마인가?

- ① 5.76
- ② 5.92
- ③ 6.12
- ④ 6.15
- ⑤ 6.18

73. A과 B국은 아래와 같은 경제 상태에 놓여있다고 하자. 이러한 상태와 관련된 설명으로 보기 어려운 것은?

- (사례 1) A국 중앙은행은 소비와 투자를 활성화시키기 위해 양적완화와 마이너스 정책금리 등을 통해 경기를 부양하려 했으나 크게 효과를 보지 못하고 있다. 이런 와중에 통화승수와 화폐유통속도 둘 다 크게 낮은 수준을 기록하고 있다.
- (사례 2) B국 중앙은행은 2분기 연속 연 1.25%의 기준금리를 계속 유지하고 있다. 금리를 추가로 내리더라도 기대되는 경기 부양 효과가 적고, 실제로 지난 1분기에 기준 금리를 내렸지만 투자와 소비가 늘어나지 않았던 것으로 분석되고 있다.

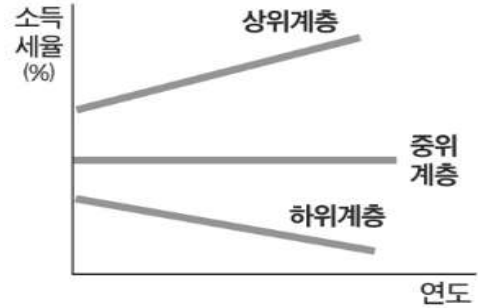
- ① LM곡선이 수평인 상태에 있다.
- ② 화폐수요의 이자율 탄력성이 무한대이다.
- ③ 재정정책의 효과가 극대화될 가능성이 크다.
- ④ 이자율이 계속 하락할 것으로 예상되는 상태에 있다.
- ⑤ 늘어난 통화 공급량이 시중에 유통되지 않고 가계든 기업이든 보유한 상태다.

74. 아래 지문의 경제현상에 알맞은 표현을 고르면?

정부의 카드 가맹점 수수료 인하 정책의 여파로 내년부터 신용카드를 쓸 때 소비자 혜택이 크게 줄어든다. 정부는 그간 카드회사가 소비자에게 주는 혜택을 줄여 이를 가맹점에 주라고 해왔다. 줄어드는 소비자 혜택은 무이자 할부와 할인뿐 아니라 포인트 적립, 캐시백 등에 이를 것으로 예상된다.

- ① 계약은 언제나 불완전하다.
- ② 세상에 공짜점심은 없다.
- ③ 장기적으로 보면 우리는 모두 죽는다.
- ④ 남에게 보이기 위한 소비활동이야말로 가장 정당한 과세의 대상이다.
- ⑤ 인플레이션은 언제, 어떠한 경우라도 화폐적 현상이다.

75. 다음은 어느 나라의 계층별 소득세율의 변화를 나타낸 것이다. 적절한 설명을 <보기>에서 모두 고른 것은?



< 보 기 >

- ㄱ. 간접세의 비중이 점차 커짐으로써, 조세저항이 많았으리라 생각된다.
- ㄴ. 세제 변화는 상위계층의 근로의욕을 점차 고취시켰을 것으로 보인다.
- ㄷ. 누진세의 성격이 강화되고 있다.
- ㄹ. 소득 불평등을 완화하고자 노력하는 방향으로 세제가 변화되어 왔다.

- ① ㄱ, ㄴ ② ㄱ, ㄷ ③ ㄴ, ㄷ ④ ㄴ, ㄹ ⑤ ㄷ, ㄹ

76. 아래 지문을 읽고, A시 정책에 대한 영향을 설명한 것으로 적절하지 않은 것은?

A시에서는 손쉬운 창업의 대명사였던 편의점을 앞으로는 쉽게 열기 힘들 것으로 보인다. 근접출점 제한을 핵심으로 한 편의점 업계의 규약이 맺어졌기 때문이다. 편의점들은 근접출점 제한과 관련, 담배 소매인 지정업소 간 거리 제한(50~100m)에 따르기로 했다.

- ① 계약자유 원칙에 위배된다.
- ② 기득권을 보호한다.
- ③ 소비자 권익을 보호한다.
- ④ 경쟁업체의 시장 진입을 막는다.
- ⑤ A시와 편의점 업체의 규약이 진입장벽의 역할을 한다.

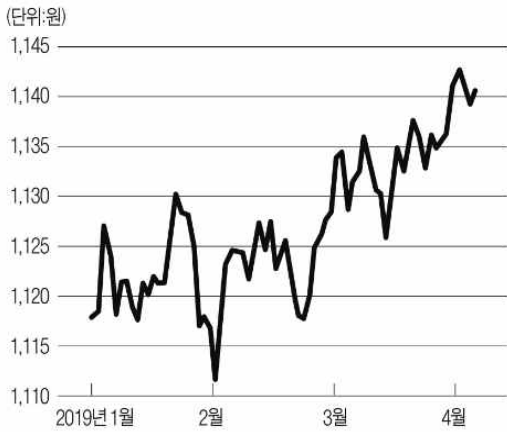
77. A국에서 거래되는 최종재는 <보기>에 나와 있는 상품밖에 없다고 할 때 이 나라의 2020년 경제성장률을 구하면?
(단, 기준연도는 2019년이다.)

< 보 기 >

	2019년		2020년	
	생산량	단위당 가격	생산량	단위당 가격
국산 쌀	20단위	15원	30단위	15원
국산 옷	10단위	10원	15단위	15원
미국산 연필	10단위	20원	20단위	30원

- ① 10%
- ② 20%
- ③ 30%
- ④ 40%
- ⑤ 50%

78. 다음 그림은 2019년 1월부터 4월까지의 환율의 추이를 보여주고 있다. 3월초 이후의 환율 추이가 지속될 것으로 가정할 경우 예상되지 않는 것은?



- ① 달러표시 외채의 채무부담이 증가할 것이다.
- ② 미국여행 시기를 앞당기는 것이 유리할 것이다.
- ③ 국내 기업의 대미 수출품 가격경쟁력이 약화될 것이다.
- ④ 달러화에 대한 원화의 가치가 하락할 것이다.
- ⑤ 미국산 수입 농산물의 국내 가격은 상승할 것이다.

79. 다음 자료와 신문기사가 우려하는 추세가 지속된다고 하자. 이때 한국에 나타날 수 있는 현상을 추론한 설명 중 옳지 않은 것을 고르면?(단, 다른 조건은 일정하다고 가정한다.)

국가부채 증가 속도 국제비교 (단위:배)

라트비아	13.6	미국	3.9
에스토니아	8.8	포르투갈	3.1
룩셈부르크	8.1	스페인	3.1
한국	6.5	일본	1.9
영국	4.3	이탈리아	1.8

*2000년대비 2019년 국가부채

2000년 이후 한국의 나랏빚이 불어나는 속도가 경제협력개발기구(OECD) 회원국 중 네 번째로 빠르다는 분석이 나왔다. 유럽의 채정 취약국인 포르투갈이나 스페인 같은 남유럽 국가보다 두 배 이상 증가 속도가 빨랐다. 그런데도 당정은 올초부터 15조원 규모 추가경정예산을 편성하는 등 ‘나랏돈 풀기’에 속도를 내고 있어 국가신용등급 강등 사태가 현실이 될지 모른다는 우려가 나온다.

○○경제신문, 2021.3.16

- ① 한국의 CDS프리미엄은 상승할 것이다.
- ② 한국이 발행하는 외화채권의 조달금리가 상승할 것이다.
- ③ 한국의 원/달러 환율은 하락할 가능성이 높다.
- ④ 해외 신용평가기관들의 한국에 대한 신용등급 전망을 ‘부정적’으로 낮출 수 있다.
- ⑤ 늘어난 재정지출을 충당하기 위한 증세 논의가 시작될 수 있다.

80. 다음 글은 밀턴 프리드먼의 저서의 내용 중 일부다.
이 글을 통해 추론할 수 없는 것은?

사회조직의 기본 문제는 수많은 사람들의 경제행위를 어떻게 조정해 나가느냐 하는 것이다. (중략) 근본적으로 수백만 명의 경제행위를 조정해나갈 수 있는 방법은 두 가지뿐이다. 하나는 현대 전체주의 국가에서 하듯이 강제력을 동원해 중앙에서 지시하는 것이다. 다른 하나는 개인들의 자발적 협력인데, 이것이 바로 시장의 방식이다. 자발적인 협력을 통한 조정의 가능성은 당사자 모두가 이득을 본다는 명제에 기반하고 있다. 상호교환을 통해 강제력 없이도 조정이 이뤄질 수 있다. 이런 사회적 모형이 우리가 경쟁적 자본주의라고 불리는 '자유 민간기업 교환경제'다.

「자본주의와 자유」

- ① 협력과 연대를 강조하는 사회적 경제나 국가자본주의를 주장하고 있다.
- ② 경제적 자유와 정치적 자유는 밀접하게 연관돼 있다고 할 수 있다.
- ③ 자유무역은 국민 삶의 질을 높인다.
- ④ 일반적으로 시장이 경제활동을 조직하는 좋은 수단이다.
- ⑤ 자유로운 거래는 모든 사람을 이롭게 한다.

<끝, 수고 하셨습니다.>

TESAT 3회 모의고사 정답 및 배점

문제	정답	배점	난이도	문제	정답	배점	난이도
1	3	3	하	41	5	3	하
2	2	4	하	42	3	4	하
3	3	4	상	43	5	4	하
4	2	3	하	44	5	4	하
5	4	3	하	45	3	3	하
6	1	3	하	46	1	4	하
7	1	3	하	47	3	3	하
8	3	3	하	48	2	4	하
9	3	4	하	49	1	3	하
10	5	3	하	50	5	3	하
11	4	3	하	51	1	3	하
12	2	4	하	52	4	4	중
13	2	3	하	53	5	3	중
14	5	3	하	54	4	3	상
15	2	3	하	55	3	3	하
16	4	3	하	56	4	3	하
17	5	4	하	57	3	3	하
18	5	3	하	58	4	4	상
19	1	3	하	59	2	4	하
20	1	4	하	60	5	3	하
21	2	4	최상	61	2	5	하
22	2	3	하	62	1	5	하
23	1	4	상	63	5	5	하
24	4	3	하	64	1	5	하
25	1	4	하	65	4	5	하
26	2	3	중	66	5	5	하
27	4	3	하	67	4	5	하
28	3	3	하	68	1	5	하
29	1	3	하	69	2	5	하
30	4	4	하	70	5	5	하
31	3	3	하	71	3	5	하
32	1	3	하	72	5	5	중
33	2	3	상	73	4	5	최상
34	4	3	하	74	2	5	하
35	3	3	하	75	5	5	하
36	4	4	하	76	3	5	하
37	1	3	하	77	5	5	하
38	4	3	하	78	3	5	하
39	2	4	하	79	3	5	하
40	2	3	하	80	1	5	하

4회 모의고사 문제지

- 문제지 앞표지에 성명과 수험번호를 적었는지 확인하십시오.
- 경제이론과 시사경제·경영은 문항당 3점, 4점이고 상황추론·판단은 문항당 5점입니다.
- 시험시간은 100분입니다.

< 경제이론 >

1. 애덤 스미스는 ‘개인과 사회 모두에게 가장 큰 부(富)를 가져올 경제체제’로 ‘자연적 자유의 체제(The system of natural liberty)’를 주장하였다. 이 체제의 구성에 포함되지 않는 것은?
 - ① 최소 간섭의 작은 정부
 - ② 기업의 사회적 책임
 - ③ 보이지 않는 손(invisible hand)
 - ④ 사적 이기심(private self-interest)의 추구
 - ⑤ 동료들의 불행 회피를 위해 자기의 쾌락을 절제하겠다는 인간의 도덕적 감정(moral sentiment)

2. 자본재나 노동과 같은 생산요소의 투입을 한 단위 늘림에 따라 추가로 생산되는 제품의 수량이 감소하는 것을 일컫는 개념은?
 - ① 현시선호이론
 - ② 범위의 경제
 - ③ 파레토 법칙
 - ④ 스미스의 역설
 - ⑤ 한계생산체감의 법칙

3. 완전경쟁시장에서 거래되고 있는 X재와 Y재의 수요곡선은 우하향한다. X재의 생산요소 가격이 크게 오른 영향으로 Y재 수요가 감소했다. Y재에 대한 분석으로 옳은 것은?
 - ① X재의 대체재이다.
 - ② 시장에서 공급량이 증가한다.
 - ③ 시장에서 생산자잉여가 증가한다.
 - ④ Y재 생산 기업의 매출이 증가한다.
 - ⑤ 소비자잉여와 생산자잉여의 합은 감소한다.

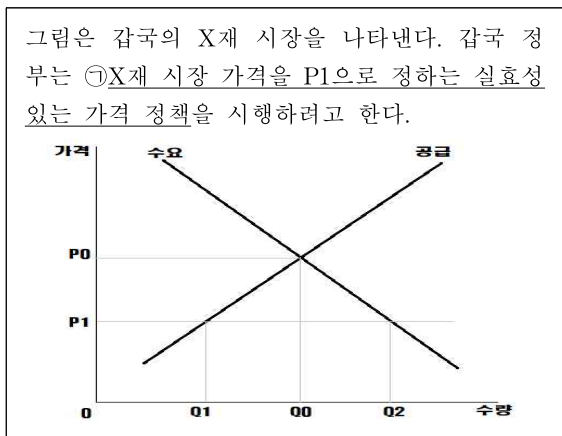
4. 다음 중 국내총생산(GDP)의 구성요소가 아닌 것은?

- ① 투자
- ② 순수출
- ③ 정부지출
- ④ 최종소비지출
- ⑤ 중간재 수요

5. 다음 중 기회비용(opportunity cost)의 개념과 관련한 설명이 아닌 것을 고르면?

- ① 여름 휴가지로 산을 선택하였다면 바다를 포기해야 한다.
- ② 고등학생이 취업과 대학 진학을 선택할 때 신중하게 결정해야 한다.
- ③ 개인이 자신이 소유한 건물을 직접 사용할 때에도 비용이 발생한다.
- ④ 한국은 메모리 반도체에 비교우위가 있으므로 이 상품에 특화하는 것이 유리하다.
- ⑤ 초기 투자를 많이 하였다라도 지속적인 사업 손실이 발생하여 다른 사업에도 피해를 준다면 해당 사업은 과감하게 포기해야 한다.

6. 밑줄 친 ㉠에 대한 옳은 설명만을 <보기>에서 고른 것은?



- < 보 기 >
- ㉠. X재 생산자를 보호하기 위한 것이다.
 - ㉡. X재 거래량은 Q0Q1만큼 감소한다.
 - ㉢. X재 수요가 감소하면 실효성이 상실될 수 있다.
 - ㉣. X재 생산자의 판매 수입은 증가한다.

- ① ㉠, ㉡
- ② ㉠, ㉢
- ③ ㉡, ㉣
- ④ ㉢, ㉣
- ⑤ ㉢, ㉡

7. 다음 중 우리나라의 총수요에 미치는 충격이라고 볼 수 없는 것은?

- ① 국제 원유가격이 하락하였다.
- ② 정부가 재정지출을 변화시켰다.
- ③ 인접국가의 소득이 증가하였다.
- ④ 주식 시장의 호황으로 가계의 부가 증가하였다.
- ⑤ 기업가들이 갑자기 미래에 대해 낙관적인 견해를 갖기 시작했다.

8. 다음 수요의 가격탄력성에 대한 설명 중 옳은 것은?

- ① 소득이 증가할수록 수요의 가격탄력성은 커진다.
- ② 해당 상품의 공급이 적을수록 수요의 가격탄력성은 작아진다.
- ③ 수요 곡선이 직선인 경우는 단위 탄력적 수요곡선을 의미한다.
- ④ 수요량을 예측하는 기간이 짧을수록 수요의 가격탄력성은 커진다.
- ⑤ 해당 재화의 대체재가 많을수록 수요의 가격탄력성은 커진다.

9. 밀턴 프리드먼의 항상소득이론을 따를 때 장기에서 소득이 증가해도 평균소비성향이 일정하게 유지되는 이유는?

- ① 장기에서 항상소득과 임시소득이 함께 움직이기 때문
- ② 장기에서 항상소득과 임시소득이 반대로 움직이기 때문
- ③ 장기에서 소득변화는 대체로 항상소득의 변화를 반영하기 때문
- ④ 장기에서 소득변화는 대체로 임시소득의 변화를 반영하기 때문
- ⑤ 장기에서 소득변화는 항상소득이나 임시소득과 관련이 없기 때문

10. 환율제도에 대한 설명 중 옳지 않은 것을 고르시오.

- ① 변동환율제에서는 국제수지 불균형은 환율 변동을 통해 조정할 수 있다.
- ② 고정환율제에서는 통화정책의 자주성을 확보할 수 있다는 장점이 있다.
- ③ 무역과 투자 등 국제거래의 변동성이 낮다는 측면에서는 고정환율제가 유리하다.
- ④ 고정환율제에서는 고정된 환율과 균형환율 간의 차이가 존재하면 국제수지 불균형이 발생한다.
- ⑤ 인플레이션 안정화가 필요한 국가는 고정환율제가 유리하다.

11. 장기적으로 인플레이션율에 가장 큰 영향을 주는 것은?

- ① 자연재해
- ② 대체재·보완재
- ③ 통화량 증가율
- ④ 기술수준에 따른 공급량 변화
- ⑤ 재화와 서비스에 대한 선호의 변화

12. 경제문제가 발생하는 근본적인 이유로 옳은 것은?

- ① 자원이 희소하기 때문이다.
- ② 인간의 행동은 이타적이기 때문이다.
- ③ 인간의 소비패턴이 일정하기 때문이다.
- ④ 기회가 불평등하게 주어지기 때문이다.
- ⑤ 인구의 증가속도가 매우 빠르기 때문이다.

13. 경제안정화 정책과 정부의 재정에 대한 다음 설명 중 옳지 않은 것은?

- ① 경기가 침체되면 일반적으로 경제안정화를 위한 정부의 대응으로는 정부 지출 증가가 있다.
- ② 정부의 재정적자를 완화하기 위한 대표적인 방법으로는 세금 징수, 국채 발행, 중앙은행 차입 등이 있다.
- ③ 국채를 발행하여 재정적자를 보전할 경우 다음 세대가 그 빚을 부담하게 된다.
- ④ 회계 연도가 1년이므로 정부는 매년 재정지출이 재정수입과 일치하는 균형재정을 달성해야 한다.
- ⑤ 국채발행으로 정부지출을 증가시키는 확장적 재정정책은 민간 소비나 투자를 오히려 줄여줄게 하는 구축효과를 가져올 수도 있다.

14. 다음 강의 내용에서 빈칸 (A)~(C)에 들어갈 말로 적절한 것은?

오늘의 강의 주제: 필립스 곡선

실업과 인플레이션 사이에는 (A) 상충 관계가 존재하지 않는다. 그래서 필립스 곡선은 (B) 수준에서 수직선이 된다. 실업과 인플레이션 사이의 상충 관계는 (C)에만 존재하여 총수요가 증가하면 실업률이 감소한다.

	(A)	(B)	(C)
①	단기적으로	자연실업률	장기
②	단기적으로	통화증가율	장기
③	장기적으로	자연실업률	단기
④	장기적으로	통화증가율	단기
⑤	장기적으로	물가상승률	장기

15. 찬우는 자동차 사고에 대비해서 1억 원의 자동차 보험에 가입했다. 그 결과 찬우는 자동차 운전 시 이전보다 주의를 기울이지 않게 되었다. 이것은 어떤 현상에 해당하는가?

- ① 분수효과 ② 테일러 준칙 ③ 플라시보 효과
- ④ 도덕적 해이 ⑤ 밴드왜건 효과

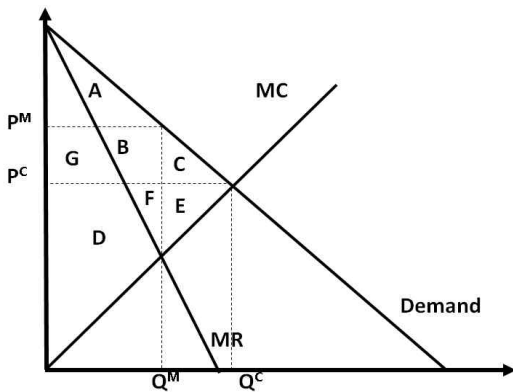
16. 경기침체 때 중앙은행이 시도하는 정책으로 옳은 것은?

- ① 기업의 연구개발을 장려하는 정책을 펼친다.
- ② 지급준비율을 낮추어 통화승수를 높이는 정책을 펼친다.
- ③ 기준금리를 높여서 무분별한 차입을 억제한다.
- ④ 통화안정증권을 발행하여 경제를 안정시킨다.
- ⑤ 소득세율을 낮추어 소비를 진작시킨다.

17. 많은 국가들에서 제로금리가 실현되어 유동성합정에 빠지는 것이 아닌가 하는 우려가 존재한다. 유동성합정에 빠졌을 때 가장 우려되는 상황은?

- ① 재정정책의 승수가 줄어들어 재정정책의 효과가 감소한다.
- ② 제로금리의 실현이 지속되면 자금을 대한 수요가 감소한다.
- ③ 통화량이 늘어나면서 인플레이션의 우려가 높아진다.
- ④ 유동성이 풍부한 반면 채권투자 수익률이 낮으므로 주식투자가 활발해진다.
- ⑤ 통화량을 늘려도 통화수요 증가로 흡수되어 통화정책의 효과가 사라진다.

18. 다음 그림에서 독점으로 인한 자중손실(deadweight loss)은 어느 부분인가?



- ① A + B + C ② B + C + F + E ③ B + C + E
- ④ C + E ⑤ F + E

19. 시장 구조에 대한 설명 중 옳지 않은 것은?

- ① 자연독점의 경우 규모의 경제가 발생하지 않는다.
- ② 독점적 경쟁시장은 기업들의 제품 차별화와 관련이 깊다.
- ③ 독점시장에서는 가격차별이 발생한다.
- ④ 완전경쟁시장에서는 수요자와 공급자 모두 가격 수용자다.
- ⑤ 완전경쟁시장에서 사회적 잉여는 극대화된다.

20. A국이 의류 시장을 처음으로 개방하자 A국에서 생산되는 의류의 가격이 크게 하락하였다고 한다. 이 과정에서 발생하는 A국의 시장 상황에 대한 설명으로 옳은 것은?

- ① 의류의 A국내 생산량과 수입량이 모두 증가한다.
- ② 의류의 A국내 생산량과 수출량이 모두 증가한다.
- ③ 의류의 A국내 생산량은 감소하고 수입량은 증가한다.
- ④ 의류의 A국내 생산량은 감소하고 수출량은 증가한다.
- ⑤ 의류의 A국내 생산량은 증감 여부는 알 수 없지만 수출량이 증가한다.

21. 물가지수에 대한 다음 설명 중 옳지 않은 것은?

- ① 주택투기에 의한 부동산가격폭등은 GDP디플레이터에 반영된다.
- ② 일부 수입품의 가격은 소비자물가지수(CPI)에 반영된다.
- ③ GDP디플레이터는 가장 포괄적인 물가지수다.
- ④ 소비자물가지수(CPI)는 물가상승률을 과대평가하는 경향도 있다.
- ⑤ 석유파동과 같은 해외부문의 충격은 생산자물가지수(PPI)에 직접적인 충격을 준다.

22. 다음 중에서 경제성장이 둔화될 수 있는 요인으로 생각할 수 있는 것을 <보기>에서 모두 고르면?

< 보 기 >

- ㄱ. 인구 고령화가 급속도로 진행된다.
- ㄴ. 기업의 R&D(연구개발)와 관련한 세액공제가 줄어들었다.
- ㄷ. 경쟁국과 관세부과 등 무역 분쟁이 진행 중이다.
- ㄹ. 외국으로부터의 기술도입이 활발해졌다.
- ㅁ. 정부가 신(新)산업에 관한 규제를 완화하였다.

- ① ㄱ, ㄴ, ㄷ ② ㄱ, ㄷ, ㄹ ③ ㄴ, ㄷ, ㄹ
- ④ ㄴ, ㄷ, ㅁ ⑤ ㄷ, ㄹ, ㅁ

23. 다음 중 사과 수요는 증가하고 사과 공급은 감소하였다고 하자. 이때 사과 시장에 나타나는 현상으로 가장 적절한 것은?

- ① 사과의 거래량이 증가한다.
- ② 사과의 가격이 상승한다.
- ③ 사과의 수요량이 증가한다.
- ④ 사과의 공급량이 증가한다.
- ⑤ 사과의 초과공급이 발생한다.

24. 미시경제학(Microeconomics)은 각 개별 경제주체들의 행동을 분석하는 데 초점을 맞추고 있다. 다음에서 미시경제학의 분석 분야에 해당하지 않는 것은?

- ① 기업 행동 ② 경제 성장 ③ 산업 구조
- ④ 소비자 행동 ⑤ 시장의 효율성

25. 무차별곡선이 원점에 대해서 볼록한 것과 가장 관련이 깊은 설명은 무엇인가?

- ① 재화 및 서비스의 양이 많을수록 선호한다.
- ② 재화 및 서비스의 선호는 갑자기 변할 수 없다.
- ③ 두 개의 재화 중 일방적으로 하나의 재화만을 매우 선호한다.
- ④ 재화 및 서비스가 골고루 섞여있는 소비무음을 선호한다.
- ⑤ 소비무음 A보다 B를 선호하고, B보다 C를 선호하면 A보다 C를 선호한다.

26. 지문을 읽고, (A), (B)에 들어갈 단어를 알맞게 연결한 것은?

한국은행이 통화정책을 펼치는 방법 중에는 공개 시장에서 채권을 사고파는 공개시장 조작이 있다. 한국은행의 통화정책이 지향하는 궁극적 목표는 (A)이다. 한국은행은 시중의 이자율을 관찰하고 있다가 이자율이 걱정 수준을 벗어나면 공개시장 조작을 실시한다. 예를 들어 이자율이 지나치게 낮아서 소비 수요나 투자 수요가 과열되면 채권을 (B)해서 이자율을 높이는 정책을 펼친다.

	(A)	(B)
①	경제 성장	매입
②	고용 회복	매도
③	물가 안정	매도
④	경제 성장	매도
⑤	물가 안정	매입

27. 다음은 A국의 고용 통계다. 이와 관련한 설명 중 옳지 않은 것을 고르면?

- 취업자 350명
- 실업자 50명
- 비경제활동인구 100명

- ① 실업률은 12.5%이다.
- ② 고용률은 70.0%이다.
- ③ 경제 활동 참가율은 85.0%이다.
- ④ 구직 포기자는 비경제 활동 인구에 포함된다.
- ⑤ 직업 군인은 350명에 포함된다.

28. 아래 백신시장의 상황을 바르게 설명한 것은?

A가 코로나 백신을 맞는다면, 이는 A뿐만 아니라 A가 속한 집단의 코로나 감염 확률 또한 낮춰준다.

- ① 사회적 한계비용 곡선이 공급곡선의 좌측에 위치함
- ② 사회적 한계비용 곡선이 공급곡선의 우측에 위치함
- ③ 사회적 한계편익 곡선이 수요곡선의 좌측에 위치함
- ④ 사회적 한계편익 곡선이 수요곡선의 우측에 위치함
- ⑤ 사회적 한계편익 곡선이 수요곡선과 일치함

29. 다른 상황에 대한 변동이 없을 때, 미국 연방준비제도(Fed)의 점진적인 금리 인상에 따라 중국의 위안화 환율이 달러 당 6위안에서 7위안으로 변동하였다고 하자. 이 같은 변동으로 인한 결과로 옳은 것을 <보기>에서 고르시오.

< 보 기 >

- ㄱ. 미국 사람들에게 중국산 상품은 싸졌다.
- ㄴ. 미국 상품의 대(對) 중국 수출이 증가할 것이다.
- ㄷ. 미국의 중국 상품에 대한 수입이 증가할 것이다.
- ㄹ. 중국의 대(對) 미국 무역수지 흑자가 감소할 것이다.

- ① ㄱ, ㄴ ② ㄱ, ㄷ ③ ㄴ, ㄷ ④ ㄴ, ㄹ ⑤ ㄷ, ㄹ

30. 노동시장이 경쟁적일 경우, 다음 중 단기적으로 임금 하락을 유발하는 것은?

- ① 제품 가격의 상승
- ② 이민자의 급격한 유입
- ③ 노동 생산성의 증가
- ④ 노동 수요의 증가
- ⑤ 노동과 자본이 서로 대체 요소일 경우 자본 가격의 상승

< 시사 경제·경영 >

31. 공인회계사가 제시하는 감사의견 중 기업 존립에 의문이 들 정도로 중대한 결함이 발견된 가장 심각한 상태를 무엇이라고 하는가?

- ① 적정 ② 한정 ③ 부실 ④ 부적정 ⑤ 의견거절

32. 이 지수가 2021년 4월 12일 1,000을 돌파하였다. ‘닷컴 버블’이 있었던 2000년 9월 이후 20년 7개월 만에 1,000을 넘어선 것이다. 쉐트리온헬스케어, 카카오게임즈 등이 상장돼 있는 이 지수를 무엇이라 하는가?

- ① 항생 ② 나스닥 ③ 코넥스 ④ 코스피 ⑤ 코스닥

33. 다음 지문을 읽고, 이것을 표현한 영어 약자를 고르시오.

‘이것’은 중앙은행이 발행하는 전자적 형태의 화폐로, 민간이 발행 주체인 비트코인이나 디엠(구 리브라) 등과 비교해 가격이 안정적이고, 결제 수단 기능을 한다는 장점을 가진다. 최근 중국이 디지털 위안화 도입을 적극 시도하면서 미국, 일본 등 선진국에서 ‘이것’과 관련한 논의가 활발하다.

- ① CBDC
- ② RCEP
- ③ CPTPP
- ④ CDMA
- ⑤ HSDPA

34. 사들이고자 하는 기업의 자산을 담보로 금융회사에서 빌린 자금을 활용해 기업을 인수하는 인수합병(M&A) 기법의 영어 약자는?

- ① LBO ② LCC ③ LLC ④ MBS ⑤ REITs

35. ‘포트폴리오’의 개념을 가장 잘 설명한 투자적언은?

- ① 무릎에서 사고 어깨에서 팔아라.
- ② 소문에 사서 뉴스에 팔라.
- ③ 밀물이 들어오면 모든 배가 뜬다.
- ④ 계란을 한 바구니에 담지 말라.
- ⑤ 하락하는 시세는 염라대왕도 못 막는다.

36. 기업의 보유 자산 중 현금, 수표, 통화대용증권, 보통예금, 만기 3개월 이내 단기금융상품 등은 ‘이것’에 속한다. 높은 환금성이 특징인 ‘이것’은 무엇인가?

- ① 투자자산 ② 채고자산 ③ 현금성자산
- ④ 고정자산 ⑤ 비유동자산

37. 다음 열거한 내용을 지칭하는 용어로 알맞은 것은?

- 공식 통계에 잡히지 않는 경제활동
- 비자금, 마약, 밀수 등
- 블랙이코노미

- ① 공유경제 ② 내부거래 ③ 좀비경제
- ④ 거품경제 ⑤ 지하경제

38. 다음 중 IFRS(국제회계기준)에 대한 설명으로 옳바르지 않은 것은?

- ① 원칙중심(principle based)의 회계기준으로서 상세하고 구체적인 회계 처리 방법을 제시하기보다 회계 처리의 큰 원칙만 제시한다.
- ② 연결재무제표를 주 재무제표로 사용한다.
- ③ 전 세계 160여국이 IFRS를 채택하였으며, 미국은 IFRS를 도입한 대표적인 국가이다.
- ④ 과거 구입한 자산 등을 구입 당시 가격보다 현재 가격으로 평가하는 공정가치평가를 확대하였다.
- ⑤ 우리나라는 2011년부터 자산 규모 2조원 이상인 상장 기업에 대해 IFRS를 적용하기 시작하였고, 2013년부터 모든 상장 기업에 적용하고 있다.

39. 평생직장을 선호하기보다 개인별 상황 및 선호에 따라 비정규직·프리랜서 형태로 일하는 근로자가 많아지는 현상을 말하는 신조어는 무엇인가?

- ① 온디맨드 ② 골든크로스 ③ 상용근로자
- ④ 움니채널 ⑤ 깃 이코노미

40. 이것은 주식을 가지고 있지 않은 상태에서 주식을 팔겠다는 주문을 내는 것을 말한다. 이것은 시세 차익을 추구하는 투자 방법의 하나지만, 개인투자자에게 피해를 주는 부작용이 크다는 비판도 받고 있다. 이것은 무엇인가?

- ① 공매도 ② 손절매 ③ 공매수
- ④ 장외거래 ⑤ 반대매매

41. 이것은 부동산과 기술의 합성어다. 인공지능(AI), 빅데이터, 블록체인 등 첨단 정보기술(IT)을 결합한 부동산 서비스다. 2000년대 등장한 인터넷 부동산 시세조회·중개 서비스에서 기술적으로 더 나아갔다. 부동산 중개, 3차원(3D) 공간실제, 부동산 클라우드펀딩, 사물인터넷(IoT) 기반의 건물관리 등이 이것에 해당한다. 이것을 지칭하는 용어는 무엇인가?

- ① 프롭테크 ② 빅테크 ③ 핀테크
- ④ 리걸테크 ⑤ 레그테크

42. 은행이 파산했을 때 예금자보호제도에 따라 원금과 이자를 합쳐 1인당 보호받을 수 있는 최대 금액은 얼마인가?

- ① 1,000만 원 ② 3,000만 원 ③ 5,000만 원
- ④ 8,000만 원 ⑤ 1억 원

43. 다음 신문 기사를 읽고, 이와 같은 현상이 심화될 경우 나타날 수 있는 현상은 무엇인가?

브라질은 세계 커피 원두의 약 40%를 공급한다. 세계 대두 시장의 36%, 설탕 원료인 사탕수수 생산량은 39%를 각각 차지한다. 브라질발 물류난으로 세계 식량값이 더 오를 수 있다는 전망이 나오는 이유다. 브라질 커피 수확량이 가뭄 타격을 입은 지난해 10월 이후 미국 선물시장에서 아라비카 커피콩 가격은 24% 상승했다. 지난달엔 미국 내 커피콩 재고량이 6년 만에 최저치로 떨어졌다.

○ ○ 경제신문, 2021.3.25

- ① 아이언 플레이션
- ② 피시플레이션
- ③ 디노미네이션
- ④ 애그플레이션
- ⑤ 카니벌라이제이션

44. 선진국이 개발도상국의 경제발전을 돕기 위해 제공하는 증여, 차관, 기술원조 등의 '공적개발원조'를 뜻하는 영어약자는?

- ① ODA ② OTT ③ OPEC ④ OLED ⑤ OECD

45. 다음은 금융회사에서 '이것'을 측정하기 위해 사용하는 지표다. 이 지표들이 나타내고자하는 '이것'은 무엇인가?

· BIS비율 · NCR비율 · RBC비율

- ① 건전성 ② 수익성 ③ 생산성
- ④ 대출여력 ⑤ 유동비율

46. 중앙은행에서 통화정책을 결정할 때, 이들 간의 대립이 있다고 한다. 동물이름에서 유래한 것으로, 경제성장을 중시하는 (A)와 물가안정을 중시하는 (B)의 우위가 어디 있느냐에 따라 통화정책의 방향이 결정되기도 한다. (A)와 (B)를 순서대로 알맞게 짝지은 것은?

	(A)	(B)
①	화이트스완	매과
②	황소과	비둘기과
③	회색코뿔소	블랙스완
④	비둘기과	매과
⑤	검은 코끼리	황소과

47. 다음 신문기사의 밑줄 친 기관과 비슷한 역할을 수행하는 한국의 정부 기관은 무엇인가?

반독점법 위반으로 중국 당국으로부터 3조원이 넘는 벌금을 부과받은 알리바바그룹이 자사 플랫폼 진입 장벽을 낮추고 수수료도 내리는 등 당국의 조치를 전폭 수용하겠다고 밝혔다. (중략) 중국 시장감독관리총국은 지난 10일 알리바바가 입점업체에 '양자택일'을 강요하는 등 시장지배적 지위를 남용했다며 182억위안(약 3조1000억원)의 벌금을 부과한다고 발표했다.

○ ○ 경제신문, 2021.4.13

- ① 예금보험공사 ② 금융통화위원회 ③ 금융감독원
- ④ 증권관리위원회 ⑤ 공정거래위원회

48. 다음 중 부채총액을 증가시키는 거래는?

- ① 외상매입금 지급을 위해 약속어음을 발행하다.
- ② 차입금이자를 지급하다.
- ③ 유가증권을 매각하다.
- ④ 전기에서 이월된 미지급급료를 지급하다.
- ⑤ 상품을 외상으로 매입하다.

49. 재무구조가 부실하고 영업 경쟁력을 상실하는 등 더 이상의 성장을 기대하기 어려운 기업을 말한다. 이러한 기업을 ‘좀비기업’이라고도 한다. 최근 코로나19 이후 부실기업에 대한 구조조정에 관한 문제가 드러나고 있다. 이러한 기업을 지칭하는 용어는 무엇인가?

- ① 강소기업 ② 한계기업 ③ 공동기업
- ④ 벤처기업 ⑤ 다국적기업

50. 다음 중 주식회사에 관한 설명으로 옳지 않은 것은?

- ① 주식회사는 자본시장에서 자금을 쉽게 조달할 수 있는 회사 형태이다.
- ② 주식회사는 규모가 작은 회사보다는 규모가 큰 회사에 적합한 회사 형태이다.
- ③ 우리나라는 주식회사의 이익 분배 주체를 주주뿐만 아니라 채권자, 계약자, 근로자, 국가, 사회 등 포괄적인 이해관계자로 보고 있다.
- ④ 주식회사는 출자자가 출자금 한도 내에서만 책임을 진다.
- ⑤ 독일 등 외국에 비해 우리나라에는 주식회사가 유한회사보다 월등히 많다.

51. 다음 신문기사를 읽고, (A)에 해당하는 기업은 무엇인가?

세계 최대 전자상거래 업체이자 미국에서 두 번째로 고용 규모가 큰 (A)에서 최초의 노동조합 결성 시도가 무산됐다. 미 언론은 투표 결과에 대해 (A)의 제프 베이조스 최고경영자(CEO)의 승리라고 평가했다. 베이조스가 1994년 시애틀 인근에서 창업한 뒤 26년여간 지켜온 무노조 경영 원칙을 지킬 수 있게 됐다.

○○경제신문, 2021.4.12

- ① 구글 ② 애플 ③ 아마존
- ④ 테슬라 ⑤ 마이크로소프트

52. 다음 지문에서 금융통화위원회 위원이 언급한 금융안정이라는 의미하는 정책으로 옳은 것을 고르면?

기준금리 결정회의 의사록을 보면 한 금통위원은 “경제가 회복국면에 들어서면 지금보다 ‘**금융안정**’에 더 무게를 두고 통화정책을 운용해야 한다”고 말하기도 했다. 코로나19로 억눌린 수요가 올 들어 분출되면서 커지는 인플레이션 압력에 한은이 선제적으로 대응해야 한다는 목소리도 안팎에서 나온다.

- ① 기준금리 인상 ② 재할인율 인하 ③ 국공채 매입
- ④ 양적완화 ⑤ 총액한도대출제도 한도 증액

53. 다음 표를 읽고, (A), (B)에 해당하는 용어를 순서대로 올바르게 짝지은 것은?

	(A)	(B)
발 동 요 건	<ul style="list-style-type: none"> • 코스피200선물 기준가 대비 ±5% 변동 1분간 지속 시 • 코스닥150 선물 기준가 대비 ±6% 변동 1분간 지속 시 	코스피/코스닥 종주가지수가 전일 대비 일정 수준 하락 시 <ul style="list-style-type: none"> • 1차 8% 이상 하락 1분 지속시 1차 거래중단 • 2차 15% 이상 하락 1분 지속시 2차 거래중단 • 3차 20% 이상 하락 1분 지속시 당일 매매 종료
대 상	프로그램 매매 5분 차단	시장 전체 거래 중지(1, 2단계는 20분 거래 중단/3단계는 즉시 매매 종료)

	(A)	(B)
①	사이드카	블록딜
②	사이드카	서킷브레이커
③	사이드카	웍더독
④	서킷브레이커	기업공개
⑤	서킷브레이커	사이드카

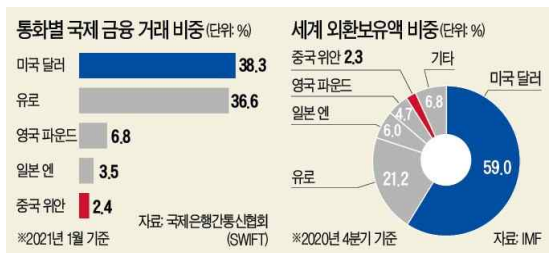
54. 다음 중 재무제표에 대한 설명으로 옳바르지 않은 것은?

- ① 재무상태표는 일정시점에 기업이 보유하고 있는 자산, 부채, 자본을 요약하여 보여준다.
- ② 현금흐름표는 회계기간 동안 발생한 현금의 유입과 유출에 관한 정보를 제공한다.
- ③ 포괄손익계산서는 일정기간 동안의 수익과 비용을 비교하여 경영성과를 보고한다.
- ④ 재무상태표에서 자산은 부채와 자본의 합과 같으며, 자산은 재무상태표의 우측(대변)에, 부채와 자본은 재무상태표의 좌측(차변)에 표시된다.
- ⑤ 주식은 재무제표에 부가된 설명으로, 재무제표이용자가 재무제표가 어떻게 작성되었는지 이해할 수 있도록 도움을 준다.

55. 미국, 유럽 등을 비롯한 선진국에서는 전통적인 통화정책의 효과를 기대하기 어려운 제로금리 수준에서 경기 부양을 위해 정부 채권과 금융증권을 대규모로 매수하는 비전통적 통화정책을 실시한 경험이 있다. 이후 경기가 회복됨에 따라 크게 증가한 자산규모를 점차 줄이는 정책을 시행하였다. 이에 따라 선홍국의 통화가치가 급락하는 현상이 발생하였는데, 이러한 현상을 지칭하는 용어는 무엇인가?

- ① 테이퍼 탠트럼 ② 뱅크런 ③ 디폴트
- ④ 풍선효과 ⑤ 오퍼레이션트위스트

56. 다음 통화별 국제 금융 거래 비중과 세계 외환보유액 비중을 나타낸 자료다. 이때 미국 달러화를 ‘이것’으로 부른다. 이것에 관한 설명 중 적절하지 않은 것은?



- ① 국제 무역 및 금융의 편의성을 높여준다.
- ② 이것을 차지한 국가는 트리핀 딜레마를 겪는다.
- ③ 미국은 이것 지위를 유지하기 위해 플라자 합의 당시 일본 엔화의 통화가치를 하락시켰다.
- ④ 이것의 지위를 어느 국가가 차지하는가에 따라 글로벌 경제 패권의 향방이 결정된다.
- ⑤ 2차 세계 대전 이전에는 영국의 파운드화가 이것의 지위를 차지했다.

57. 다음 (A), (B)의 내용에 알맞은 용어를 각각 바르게 짝지은 것은?

- (A) 투자자로부터 모집한 자금을 부동산에 투자하고 수익을 배당하는 부동산투자회사
- (B) 특정 주주에게 보유 지분율보다 많은 의결권을 행사할 수 있도록 허용하는 제도

	(A)	(B)
①	스팩	보통주
②	스팩	황금낙하산
③	리츠	우선주
④	리츠	차등의결권
⑤	리보	그린메일

58. 다음은 국민연금이 적극적으로 행사하려는 지침에 대한 것이다. 이와 관련한 지침에 대한 설명 중 옳지 않은 것은?

국민연금 등 투자자들이 공시하는 지분 보유 목적은 2019년까지만 하더라도 ‘단순투자’와 ‘경영참여’ 두 가지였다. 금융위가 2019년 말 관련 제도를 바꾸면서 ‘일반투자’가 추가됐다. 투자자가 지분 보유 목적을 단순투자에서 일반투자로 바꾸면 추가 배당 요구 등 배당정책 변경, 이사 및 감사 선임에 대한 반대 의결권 행사, 임원 보수 한도 조정, 이사회 산하 위원회 설치 요구 등 폭넓은 경영 참여가 가능해진다. 과거에는 경영참여로 보유 목적을 바꿔야 가능하던 것이 일반투자 항목 신설로 문턱이 낮아졌다.

- ① 해당 지침은 국민연금의 주인인 국민을 위한 이익 극대화가 목적이다.
- ② 국민연금의 적극적인 주주권 행사로 연금사회주의의 부작용을 우려하기도 한다.
- ③ 추가 배당 요구 등 배당 정책 변경이 요구대로 관철되면 기업의 장기적인 투자·성장 전략에 부정적인 영향을 미칠 수 있다.
- ④ 기관투자자들이 큰 저택에서 주인 대신 집안일을 맡아 보는 집사(스튜어드)와 같은 역할을 한다는 점에서 스튜어드십 코드라 한다.
- ⑤ 외국인 투자 지분이 높은 국내 기업의 경우 연기금들의 이러한 방침이 해당 기업의 경영권 방어에 영향을 주지 않는다.

63. 다음은 연극 공연 요금을 10% 인상했을 때의 매출액 증가율을 연령별로 나타낸 표이다. 수요의 가격 탄력성의 절대값을 순서대로 나열한 것은?(작은 값부터 큰 값 순서로)

<요금 인상에 따른 매출액 증가율>

연령대별	20대	40대	60대
매출액 증가율(%)	0	-5	10

- ① 20대, 40대, 60대
- ② 20대, 60대, 40대
- ③ 40대, 20대, 60대
- ④ 60대, 20대, 40대
- ⑤ 60대, 40대, 20대

64. 다음 상황에서 유추할 수 있는 고구마의 가격과 거래량의 변화로 알맞은 것은?

해마다 고구마 생산량이 감소하고, 에어프라이어 등을 이용해 가정에서 고구마를 직접 조리해서 먹는 수요가 늘고 있다.

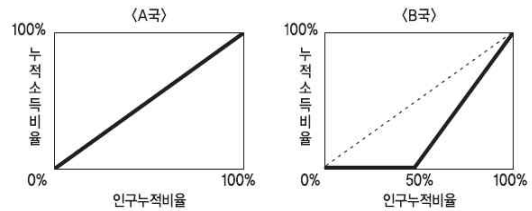
	가격	거래량
①	상승	하락
②	상승	상승
③	하락	상승
④	상승	알 수 없음
⑤	하락	알 수 없음

65. 밑줄 친 ㉠~㉣의 변화 방향이 올바르게 짝지어진 것은?

A국의 중앙은행은 최근 채권공급을 늘렸더니 ㉠통화량이 변화했고, 이어서 ㉡국내 금리(이자율)에 영향을 주었다. 이는 ㉢소비와 투자*에 영향을 주어 경제가 안정화되었다.
*기업의 설비투자 등을 의미함.

	㉠	㉡	㉢
①	증가	상승	증가
②	증가	상승	감소
③	증가	하락	증가
④	감소	상승	감소
⑤	감소	하락	감소

66. 다음은 A국과 B국의 로렌츠 곡선이다. 이에 대해 잘못 설명한 것은?



- ① 로렌츠곡선은 그 나라의 소득 불평등도를 나타낸다.
- ② A국의 지니계수가 B국의 지니계수보다 높은 값을 갖는다.
- ③ A국은 국민들의 소득이 균등하게 배분되어 있다고 말할 수 있다.
- ④ B국의 경우 하위 50% 계층은 소득이 없다.
- ⑤ 이 자료만으로는 A국과 B국의 노동소득분배율을 파악하기 어렵다.

67. 2021년 5월 첫째 주 A국의 바게트 시장에 대한 설명으로 옳은 것은?(단, A국은 폐쇄경제이며 바게트 수요자는 갑과 을뿐이고, 공급자는 병과 정뿐이다.)

가격(원)	갑의 수요량(개)	을의 수요량(개)
2,000	16	17
4,000	12	14
6,000	8	11
8,000	4	8

가격(원)	병의 공급량(개)	정의 공급량(개)
2,000	5	8
4,000	10	16
6,000	15	24
8,000	20	32

- ① 균형가격은 6,000원이다.
- ② 가격이 2,000원에서 4,000원으로 오르면 수요량은 7개 증가한다.
- ③ 두 공급자의 가격에 따른 공급량의 변화가 공급 법칙을 따르고 있지 않다.
- ④ 가격이 6,000원에서 4,000원으로 내리면 공급량은 5개 감소한다.
- ⑤ 다른 조건의 변화가 없다면, 결과적으로 가격은 4,000원에서 형성되어 안정적으로 유지된다.

68. 다음 사례에 대한 분석이 옳은 것은?

갑은 증권회사에서 ○○기업의 ㉠주식을 2,000만 원 어치 매입하여 1년 동안 보유하다가 ㉡100만 원의 배당금을 받은 후, 2,100만 원에 모두 매각하였다. 갑이 주식을 보유한 동안 물가는 8% 상승하였다.

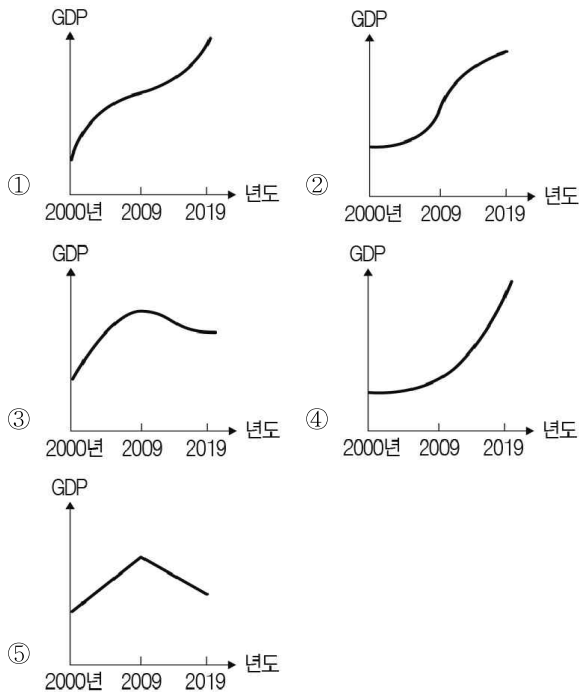
- ① 갑은 직접 금융 시장을 통해 거래하였다.
- ② 1년 후 갑의 구매력은 감소하였다.
- ③ ㉠은 회사가 빌린 돈을 갚기로 약속한 증서이다.
- ④ ㉡은 주식을 구매했을 때의 기회비용이다.
- ⑤ ㉡은 ㉠을 보유한 대가로 회사가 지불하는 이자에 해당한다.

69. A국의 경제규모(실질GDP) 변화 추이를 그래프로 옳게 나타낸 것은?

□□신문 2020년○○월○○일

A국 경제규모, 2009년 이후 증가율 둔화 지속

A국은 2000년 이후 해마다 경제성장률이 상승하다, 2009년 이후 경제성장률이 둔화되어 경제규모가 완만하게 증가하고 있다.



70. 다음 지문의 밑줄 친 질적 성장과 관련 있는 것들을 <보기>에서 찾아 옳게 짝지은 것은?

많은 경제전문가들에 의하면 한국의 경제성장은 1997년 외환위기까지는 양적 성장 중심의 고도성장이었으나 외환위기 이후부터는 성장률은 다소 낮아졌지만 점차 질적 성장 중심으로 바뀌어 가는 중이라고 한다.

< 보 기 >

ㄱ. 기술혁신 ㄴ. 노동투입 ㄷ. 자본투입
ㄹ. 총요소생산성 향상 ㅁ. 통화량 증가

- ① ㄱ, ㄴ, ㅁ ② ㄱ, ㄷ ③ ㄴ, ㄷ, ㅁ
- ④ ㄴ, ㄷ ⑤ ㄷ, ㄹ, ㅁ

71. 다음 신문 기사를 읽고, 이와 관련한 경제 현상에 관한 추론으로 옳지 않은 것은?

서민 이자 부담 줄인다더니...

“현재 연 24%인 등록 대부업의 법정 최고금리가 오는 7월 연 20%로 낮아지면 불법 사채 피해는 더 늘어날 공산이 크다”는 게 금융업계의 시각이다. 문재인 정부는 2018년 등록 대부업 금리 상한선을 연 27.9%에서 연 24%로 낮췄다. 이후 현장에선 여러 부작용이 나타났지만 대통령의 대선 후보 시절 공약이라는 이유로 추가 인하를 밀어붙일 태세다. 그 결과는 또다시 ‘금리 인하→대출 심사 강화→심사 탈락→불법 사채 이용’의 악순환 심화로 이어질 것이란 전망이 지배적이다. 최철 숙명여대 소비자경제학과 교수는 “법정 최고금리가 연 20%로 낮아지면 총 57만 명이 제도권 금융회사에서 대출받지 못할 것”으로 내다봤다.

○○경제신문, 2021.4.17

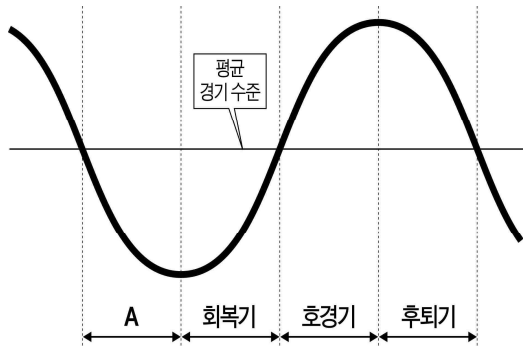
- ① 대부업체에 대한 이자율 규제는 최고가격제의 일종이다.
- ② 최고금리 인하에 따라 소비자가 불법 사채를 이용하게 되는 것은 풍선효과로 볼 수 있다.
- ③ 시장 균형 금리보다 높게 설정하면 효과가 없는 제도다.
- ④ 법정 최고금리를 낮추면 초과 공급이 발생한다.
- ⑤ 소비자 입장에서는 대부업체의 대출 심사 강화로 심사에 탈락할 경우 지불용의금리가 높기 때문에, 불법 사채 시장에 진입하게 된다.

72. 세금과 관련한 글을 읽고 ㉠과 ㉡에 해당하는 설명으로 옳은 것은?

우리는 살면서 많은 세금을 납부하고 있다. 일을 하고 급여를 받으면 소득세, 벌어들인 소득으로 부동산을 사면 취득세, 구매한 부동산을 가지고 있으면 재산세 등을 납부해야 하는데 이런 종류의 세금을 ㉠이라고 한다. 만약, 벌어들인 소득으로 필요한 물건을 구매하면 재화의 가격에 부가가치세, 고가의 귀금속 등을 구매하면 개별소비세를 내야 한다. 이 외에 증권을 사고 팔 때도 증권거래세를 내야하는데 이런 종류의 세금들은 ㉡이라고 한다.

- ① ㉠과 같은 세금을 간접세라고 한다.
- ② ㉠은 ㉡에 비해 탈세를 하려는 경향이 높다.
- ③ ㉡은 납세의무자와 조세부담자가 같다.
- ④ ㉡은 과세대상 금액이 크면 클수록 더 높은 세율이 적용된다.
- ⑤ ㉡은 ㉠에 비해 소득이 적을수록 더 유리한 세금이다.

73. 경기 순환을 나타낸 다음 그림에서 A시기의 경제 문제를 해결하기 위해 적절한 정책을 <보기>에서 모두 고른 것은?



< 보 기 >

ㄱ. 소득세율 인상 ㄴ. 기준금리 인하
 ㄷ. 정부의 공공 투자 확대
 ㄹ. 은행의 대출 한도 축소

- ① ㄱ, ㄴ ② ㄱ, ㄷ ③ ㄴ, ㄷ ④ ㄴ, ㄹ ⑤ ㄷ, ㄹ

74. 다음 신문기사와 지문을 통해 추론할 수 있는 경제적 상황 및 영향을 추론한 것으로 옳지 않은 것은?

11일 교육부에 따르면 2021학년도 초등교사 임용시험에 합격한 3643명 중 지난달 1일 기준 임용되지 못해 대기 중인 사람은 2421명이다. 비율로는 66%다. 중등학교 교사 임용시험 합격자 4225명 중에선 43명이 아직 교단에 서지 못하고 있다. 이처럼 교단에 설 날만 손꼽아 기다리는 ‘예비교사’가 늘어난 것은 무엇보다 학생 수가 빠른 속도로 줄고 있어서다. 가입여성 1명당 출생아 수를 의미하는 합계출산율은 2010년대 초반만 하더라도 1.2~1.3명을 유지했지만 2019년 0.92명, 지난해 0.84명으로 급락했다. 통계청이 2019년 3월 발표한 장래인구특별추계(2017~2067년)에 따르면 국내 학령인구(6~21세)는 2017년 846만 명에서 최악의 경우 2030년 581만 명으로 줄어들고 2050년이면 418만 명으로 반토막 난다.

○ ○ 경제신문, 2021.4.12

2021학년도 임용대기 교사 수

	합격	임용대기
초등	3643명	2421명
중등	4225명	43명
전체	2만3380명	2901명

※2021년 3월 1일 기준, 군복무 등으로 인한 유예자는 제외 자료: 교육부

- ① 장기적으로 대학 정원 구조조정 문제도 발생할 수 있다.
- ② 대학수학능력시험 응시인원도 줄어들 것이다.
- ③ 장기적으로 민간소비는 활발해질 것이다.
- ④ 학교 간 통폐합이 활발해질 가능성이 높다.
- ⑤ 생산가능인구가 장기적으로 하락할 것이다.

75. 다음 지문을 읽고, 해당 시장에 관한 특징을 <보기>에서 모두 고르면?

학생들이 다니는 학원도 무수히 많이 존재하지만 학원이 제공하는 강의 수준이 다르기 때문에 학생들 각자의 기준에 따라 선택하고 소비한다. 즉, 해당 재화나 서비스에 대해 '단골'이 된다. 우리가 주변에 흔히 볼 수 있는 미용실의 경우도 소비자가 헤어디자이너의 맞춤형 서비스, 거리, 광고, 가격 조건 등을 다른 미용실과 비교하여 하나의 단골집을 선택하게 된다.

< 보 기 >

ㄱ. 비가격 경쟁 ㄴ. 게임이론
ㄷ. 제품차별화 ㄹ. 범위의 경제

- ① ㄱ, ㄴ ② ㄱ, ㄷ ③ ㄴ, ㄷ ④ ㄴ, ㄹ ⑤ ㄷ, ㄹ

76. A~C국은 자국의 경제 상황에 따라 다음과 같이 통화 정책을 사용하고 있다. 이로부터 추론할 수 있는 3개국의 경제 상황으로 옳은 것을 <보기>에서 고르면?

A국 : 기준 금리 3개월 연속 인하
B국 : 지급 준비율 인상
C국 : 국공채 대량 매도

< 보 기 >

ㄱ. A국 정책은 총수요를 확대하는 데 도움이 되었을 것이다.
ㄴ. A국 통화는 C국 통화에 비해 가치가 상승할 것이다.
ㄷ. B국에 비해 A국의 경기는 상대적으로 하락 국면에 속해있을 것이다.
ㄹ. B국과 C국의 정책으로 해당국 통화량이 각각 증가했을 것이다.

- ① ㄱ, ㄴ ② ㄱ, ㄷ ③ ㄴ, ㄷ ④ ㄴ, ㄹ ⑤ ㄷ, ㄹ

77. 생산과정에서 오염물질을 방출하는 기업에게 조세를 부과하려 한다. 이와 관련한 설명으로 옳지 않은 것은?

- ① 오염배출권의 거래를 통해서도 조세부과와 동일한 효과를 얻을 수 있다.
- ② 오염방출 기업이 오염방출을 무료로 하고 있어 비효율적 자원의 배분이 이루어지고 있다.
- ③ 조세부과 이후 재화의 가격이 사회적 한계비용과 일치하면 효율적 배분에 기여한다.
- ④ 조세부과를 통한 현재의 산출량을 감소시키는 것이 목적이며 생산량을 영(0)으로 만드는 정책은 효율적인 것은 아니다.
- ⑤ 정부가 조세를 부과하여 비효율을 시정할 때, 해당 조세수입으로 반드시 오염물질의 방출로 인한 피해자에게 금전적 보상을 해야만 효율성이 증진된다.

78. 태영이와 재홍이는 생선잡이와 사과재배를 한다. 태영이와 재홍이가 한 달 동안 생선잡이나 사과재배에 모든 자원을 집중하여 사용하면 다음 표와 같이 생산할 수 있다. 다음 보기 중 옳은 것을 모두 고른 것은?

<생선과 사과에 대한 생산량>

	태영	재홍
생선	80마리	20마리
사과	60개	40개

< 보 기 >

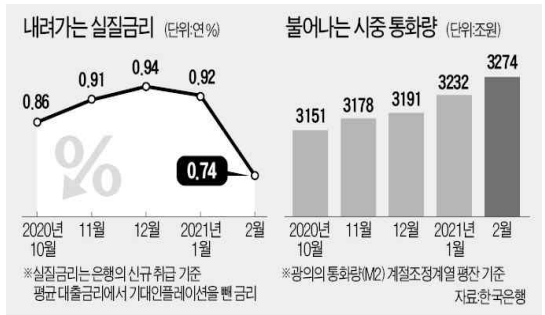
ㄱ. 태영이는 재홍이에 비해 생선잡이와 사과 재배에서 절대우위를 가진다.
ㄴ. 태영이의 생선 1마리에 대한 기회비용은 사과 $\frac{4}{3}$ 개이다.
ㄷ. 재홍이는 태영이에 비해 사과 재배에 비교 우위가 있다.

- ① ㄱ ② ㄱ, ㄴ ③ ㄱ, ㄷ ④ ㄴ, ㄷ ⑤ ㄱ, ㄴ, ㄷ

79. 다음 신문기사와 그래프를 통해, 경제적 영향을 추론한 설명 중 옳지 않은 것은?(단, 다른 요인들은 변화가 없다고 가정한다.)

한국은행이 13일 발표한 ‘2021년 2월 중 통화 및 유동성’ 자료를 보면 지난 2월 통화량(M2·평균)은 3274조4170억 원으로 1월에 비해 41조 8000억 원 늘었다. 관련 통계를 작성한 2001년 12월 이후 월간 증가폭으로는 최대다. M2는 현금과 요구불예금, 수시입출금식 예금, 2년 미만 정기 예·적금 등 단기 금융상품을 포함한 넓은 의미의 통화지표다. (중략) 가계·기업이 체감하는 실질금리가 내려가면서 차입금 조달이 증가했고, 그만큼 유동성도 늘었다는 분석이 많다. 은행의 평균 실질 대출금리(신규 취급 기준)는 2월에 연 0.74%로 집계됐다. 전달보다 0.18%포인트 하락한 것으로 2017년 1월(연 0.71%) 이후 가장 낮았다.

○○경제신문, 2021.4.14



- ① 향후 기대인플레이션이 높아질 것이다.
- ② 채무자보다 채권자에게 더 큰 이득을 줄 것이다.
- ③ 화폐가치가 장기적으로 하락할 가능성이 높다.
- ④ 은행입장에서는 예대마진이 줄어드는 요인이 될 수 있다.
- ⑤ 시중유동성이 높아지는 추세가 계속되면 한국은행은 장기적으로 기준금리 인상을 고려할 수 있다.

80. 아래 글은 조선 영조-정조 시대에 살았던 조정 박제가의 저서 「북학의」에 있는 한 대목이다. 이를 읽고 내용을 잘못 이해한 학생을 고르시오.

옛날의 성왕(聖王)께서는 보석과 화폐 따위의 물건을 만들어 덜 필요한 물건으로 더 필요한 물건의 상대가 되도록 하였고, 쓸모없는 물건으로 쓸모 있는 물건을 사도록 하셨다. 게다가 배와 수레를 만드셔서 험준하고 외진 곳까지도 물건을 유통시켰다. 그렇게 하고도 천 리 만 리 먼 곳에 물건이 이르지 못할까봐 염려하셨다. (중략) 왜 그러한가? 물건이 있음에도 불구하고 쓰지 않는 것을 검소함이라고 일컫지 자기에게 물건이 없어 쓰지 못하는 것을 검소함이라고 일컫지는 않는다. 현재 우리나라에는 진주를 캐는 집이 없고 시장에는 산호(珊瑚)의 물건 값이 매겨져 있지 않다. 금이나 은을 가지고 집포에 들어가서는 떡과 엿을 사먹지 못한다. 이런 우리 풍속이 정녕 검소함을 좋아하여 그렇겠는가? 단지 재물을 사용할 방법을 모르는 것에 불과하다. 재물을 사용할 방법을 모르기에 재물을 만들어 낼 방법을 모르고, 재물을 만들어 낼 방법을 모르기에 백성들의 생활은 날이 갈수록 궁핍해 간다.

- ① 가영 : 내가 필요 없는 것은 남도 필요 없는 것이니 교환은 제로섬(zero sum)게임이야.
- ② 나영 : 시장 거래가 없으면 가격이 형성되지 않는 데 어떤 서양 경제학자는 사회주의가 망한 이유를 시장가격이 없는 데서 찾기도 했어.
- ③ 다영 : 조선은 본디 검소한 나라여서 검소했던 것이 아니라 가난했기 때문이라는 비판이 글에 깔려 있지.
- ④ 라영 : 당시 조선이 가난했던 이유는 상업을 천시하는 풍토가 만연한 때문인데 박제가는 당시 사대부층이 경멸했던 청나라에서 배우자고 했지.
- ⑤ 마영 : 금이나 은을 가지고 떡을 사먹지 못했던 것은 시장의 발달이 미비해서 나타난 현상이지.

<끝, 수고 하셨습니다.>

TESAT 4회 모의고사 정답 및 배점

문제	정답	배점	난이도	문제	정답	배점	난이도
1	2	3	하	41	1	3	하
2	5	3	하	42	3	3	하
3	5	3	하	43	4	4	하
4	5	3	하	44	1	3	하
5	5	3	하	45	1	3	하
6	3	4	하	46	4	3	하
7	1	3	하	47	5	4	하
8	5	3	중	48	5	3	상
9	3	4	중	49	2	3	하
10	2	4	중	50	3	3	하
11	3	3	하	51	3	3	하
12	1	3	하	52	1	4	하
13	4	4	하	53	2	4	하
14	3	4	하	54	4	4	상
15	4	3	하	55	1	3	하
16	2	3	하	56	3	4	하
17	5	3	중	57	4	3	하
18	4	3	하	58	5	4	하
19	1	3	하	59	4	4	하
20	3	4	하	60	5	3	하
21	1	3	하	61	4	5	하
22	1	3	하	62	1	5	중
23	2	3	하	63	4	5	하
24	2	3	하	64	4	5	하
25	4	3	중	65	4	5	하
26	3	4	하	66	2	5	하
27	3	3	하	67	5	5	하
28	4	4	하	68	1	5	하
29	2	4	하	69	2	5	하
30	2	4	하	70	2	5	하
31	5	3	하	71	4	5	하
32	5	3	하	72	2	5	하
33	1	3	하	73	3	5	하
34	1	3	하	74	3	5	하
35	4	4	하	75	2	5	하
36	3	3	하	76	2	5	하
37	5	3	하	77	5	5	하
38	3	4	하	78	3	5	하
39	5	3	하	79	2	5	하
40	1	3	하	80	1	5	하

5회 모의고사 문제지

- 문제지 앞표지에 성명과 수험번호를 적었는지 확인하십시오.
- 경제이론과 시사경제·경영은 문항당 3점, 4점이고 상황추론·판단은 문항당 5점입니다.
- 시험시간은 100분입니다.

< 경제이론 >

1. 기업의 광고비용이나 R&D 비용처럼 일단 지출하면 회수가 불가능한 비용을 무엇이라고 하는가?
 - ① 기회비용 ② 평균비용 ③ 고정비용
 - ④ 가변비용 ⑤ 매물비용
2. 다음 지문을 읽고 괄호 (A), (B), (C)에 들어갈 용어를 순서대로 옳게 연결한 것은?

(A)은 인간의 심리적 특성을 경제학 이론에 적용시키는 학문으로, 인간의 합리성을 전제로 하는 주류경제학과 달리 인간이 완전히 합리적일 수 없다는 관점에서 경제주체의 의사결정을 분석한다. (A)과 관련된 용어로는 경제적 이익과 손실의 절대적 크기가 동일하다고 할지라도 손실에서 오는 비효용이 이득으로 인한 효용보다 큰 현상을 가리키는 (B)이(가) 있는데, 이 현상은 특정 대상이 자신의 소유가 되고 나면 객관적인 가치보다 더 높은 가치를 매기거나 좀처럼 팔지 않으려는 현상인 (C)을(를) 설명해주는 근거가 될 수 있다.

	(A)	(B)	(C)
①	행동경제학	보유효과	손실회피성
②	행동경제학	손실회피성	보유효과
③	행동경제학	자기과신	손실회피성
④	신고전파 경제학	행동재무학	보유효과
⑤	신고전파 경제학	손실회피성	행동재무학

3. 다음 중 효율적 시장 가설에 대한 설명으로 옳은 것은?

- ① 모든 시장에서는 사회적 총잉여가 언제나 극대화된다.
- ② 완전경쟁시장에서는 자원이 균등하게 배분된다.
- ③ 시장에서의 사회적 분업은 공급자의 형평성을 높여 준다.
- ④ 시장 가격은 시장에 유입된 새로운 정보를 빠르게 반영한다.
- ⑤ 시장은 공정한 분배를 달성하기 위한 가장 효율적인 체제다.

4. 경제체제에 대한 설명으로 옳은 것은?

- ① 시장경제에서는 시장을 통해 자연스럽게 사회적 분업이 이루어진다.
- ② 계획경제는 시장을 통한 재화의 교환보다 자원배분의 효율성을 높여준다.
- ③ 시장경제는 자원의 효율적 배분뿐만 아니라 공평한 소득분배까지 달성시켜줄 수 있다.
- ④ 계획경제하에서도 시장경제와 마찬가지로 생산수단을 개인이 소유한다.
- ⑤ 현대의 시장경제에서도 계속 시장이 중심이 되고 계획경제의 요소는 허용하지 않는다.

5. 찬호는 당첨 상품이 {자동차, 유럽 여행, 백화점 상품권, 팥}인 경품 행사에 참가하려고 한다. 각각의 결과에 대한 찬호의 기대효용은 $U(\text{자동차})=100$, $U(\text{유럽 여행})=80$, $U(\text{백화점 상품권})=30$, $U(\text{팥})=0$ 이다. 이때 A안은 각각 당첨 상품이 나올 확률이 $\{\frac{1}{2}, 0, 0, \frac{1}{2}\}$ 이고 B안은 $\{\frac{1}{4}, \frac{1}{4}, \frac{1}{4}, \frac{1}{4}\}$ 이다. 찬호의 A안과 B안에 대한 기대효용은 얼마인가?

	A안 기대효용	B안 기대효용
①	51	55
②	50	52.5
③	50	47
④	52.5	50
⑤	50	50

6. 우리나라의 실업통계에서 실업률이 높아지는 경우는?

- ① 대학생이 군복무 후 복학한 경우
- ② 취업을 알아보던 해직자가 구직을 단념하는 경우
- ③ 취업자가 퇴직하여 전업주부가 되는 경우
- ④ 직장인이 업무 중에 교통사고를 당해 2주간 휴가 중인 경우
- ⑤ 공부만 하던 대학생이 편의점에서 주당 10시간 아르바이트를 시작하는 경우

7. 시장에 외부충격이 발생하였을 때, 환율이나 주식과 같은 금융자산의 가격이 단기적으로 급등하여 장기 균형 수준에서 크게 이탈한 후 시간이 지남에 따라 점차 장기균형수준으로 수렴하는 현상을 무엇이라고 하는가?

- ① 오버슈팅 ② 턴어라운드 ③ 튜립버블
- ④ 랜덤워크 ⑤ 트리플 딜레마

8. 두 재화 X, Y에 대해 한계대체율이 체감하는 무차별곡선에 대한 설명으로 옳은 것을 <보기>에서 모두 고르면?

< 보 기 >

ㄱ. 원점에 대해 볼록한 형태를 띤다.

ㄴ. 동일 무차별곡선 상에서 두 재화의 한계효용이 항상 같다.

ㄷ. X와 Y의 함이 일정할 때, 극단적인 상품조합보다 X와 Y가 골고루 들어간 상품조합을 더 선호한다.

ㄹ. 동일 무차별곡선 상에서 한 재화가 적어질수록 다른 재화로 나타낸 그 재화의 주관적 가치가 커진다.

- ① ㄱ, ㄴ ② ㄱ, ㄷ ③ ㄴ, ㄷ, ㄹ
- ④ ㄱ, ㄷ, ㄹ ⑤ ㄱ, ㄴ, ㄷ, ㄹ

9. 경기침체 시에 중앙은행이 시도하는 정책으로 옳은 것은?

- ① 지급준비율을 낮추어 통화승수를 높이는 정책을 펼친다.
- ② 기준금리를 높여서 무분별한 차입을 억제한다.
- ③ 기업의 연구개발을 장려하는 정책을 펼친다.
- ④ 통화안정증권을 발행하여 경제를 안정시킨다.
- ⑤ 소득세율을 낮추어 소비를 진작시킨다.

10. 시장의 종류에 대한 다음 설명 중 옳지 않은 것은?

- ① 완전경쟁시장에서 생산자와 소비자는 가격수용자(price-taker)이다.
- ② 게임이론으로 완전경쟁시장을 설명할 수 있다.
- ③ 과점시장에선 카르텔이 형성될 수 있다.
- ④ 진입장벽이 존재하면 독점시장이 생긴다.
- ⑤ 시장은 판매자의 수를 기준으로 구분할 수 있다.

11. 다음 중 총생산이 반드시 증가하는 경우를 고르시오.

- ① 원자재가격 상승 + 소득세 인상
- ② 원자재가격 상승 + 소득세 인하
- ③ 원자재가격 하락 + 소득세 인상
- ④ 원자재가격 하락 + 소득세 인하
- ⑤ 원자재가격 상승 + 수출 증가

12. 다음 중 GDP(국내총생산)의 구성요소가 아닌 것은?

- ① 순수출 ② 최종소비지출 ③ 투자
- ④ 정부지출 ⑤ 중간재 수요

13. 현재가치와 미래가치에 대한 설명으로 옳바르지 않은 것은? (단, 이자율 $r > 0$)

- ① 미래 받을 돈의 현재가치는 이자율이 상승할수록 높아진다.
- ② 미래 금액의 현재가치 환산은 이자율과 기간에 따라 달라진다.
- ③ 현재와 미래 사이의 기간이 길수록 미래 금액의 현재가치는 작아진다.
- ④ 현재가치란 미래 일정 시점의 금액을 현재 시점의 가치로 환산한 금액이다.
- ⑤ 현재가치의 개념을 알면 서로 다른 시점에서의 가치를 비교함으로써 자신에게 이익이 되는 결정을 내릴 수 있다.

14. 가격의 역할에 대한 설명으로 옳지 않은 것은?

- ① 기업이 어떤 상품을 생산할지 결정해준다.
- ② 기업이 소비자에 비해 막대한 이윤을 얻게 한다.
- ③ 희소한 자원을 효율적으로 배분하게 해준다.
- ④ 상품을 누가 소비할 것인지를 결정해준다.
- ⑤ 꼭 필요한 사람이 소비할 수 있게 해준다.

15. 아래 지문은 게임이론에서 자주 언급되는 용어에 대한 설명이다. 지문의 빈칸에 들어갈 용어는?

() (이)란 두 사람의 협력적인 선택이 둘 모두에게 최선의 선택임에도 불구하고 자신의 이익만을 고려한 선택으로 인해 자신뿐만 아니라 상대방에게도 나쁜 결과를 야기하는 현상을 말한다.

- ① 반복게임 ② 피셔의 법칙 ③ 제로섬게임
④ 파레토의 법칙 ⑤ 죄수의 딜레마

16. 소득분배상태를 나타내는 지표(지니계수, 로렌즈곡선, 십분위분배율)에 대한 설명으로 옳지 않은 것은?

- ① 십분위분배율의 값이 크면 클수록 소득분배가 균등함을 나타낸다.
② 지니계수가 1이라는 것은 소득분배가 완전히 균등하다는 의미다.
③ 지니계수는 로렌즈곡선에서 구해지는 면적 비율로 계산한다.
④ 로렌즈곡선을 이용해 소득의 불균등도를 측정할 수 있다.
⑤ 지니계수는 0에서 1사이의 값을 가진다.

17. 중앙은행이 은행의 법정지급준비율을 낮추었을 때 기대되는 효과로 옳은 것은?

- ① 기업의 투자가 감소할 것이다.
② 정부의 재정적자가 증가할 것이다.
③ 시중의 통화량이 증가할 것이다.
④ 실업이 증가할 것이다.
⑤ 저축률이 증가할 것이다.

18. 다음 실업에 대한 설명으로 옳지 않은 것은?

근로자들이 마음에 드는 일자리를 얻기 위해 옮겨 다니는 과정에서 발생하는 실업

- ① 완전고용상태에서도 이러한 실업은 나타난다.
② 일반적으로 실업보험급여는 이러한 실업을 늘린다.
③ 이러한 유형의 실업은 경제의 유휴유 같은 역할을 한다.
④ 산업구조 개편 등 경제구조의 변화가 이러한 실업을 늘린다.
⑤ 정부의 일자리 정보망 확충 등으로 이러한 실업을 줄일 수 있다.

19. A씨는 자동차 사고에 대비해서 10억 원의 자동차 보험에 가입했다. 그 결과 A씨는 자동차 운전 시 이전보다 주의를 기울이지 않게 되었다. 이것은 어떤 현상에 해당하는가?

- ① 선별 ② 역선택 ③ 신호보내기
④ 롱테일 법칙 ⑤ 도덕적 해이

20. 공급측면에서 인플레이션을 발생시키는 원인이 아닌 것은?

- ① 홍수 등과 같은 자연재해
② 국제 원자재가격 급등
③ 정부지출 증가
④ 환경보호에 대한 국민들의 인식 증대
⑤ 노동생산성을 초과한 과도한 임금 상승

21. 다음 표는 각 재화 A~D의 수요의 현재 가격 근방에서의 가격탄력성을 나타낸다. 탄력성 값이 그대로 유지된다고 할 때, 가격을 인하하면 수입이 감소하는 재화만을 모두 고른 것은?

재화	탄력성
A	2
B	1
C	0.2
D	0

- ① A, B ② A, C ③ B, C
④ B, D ⑤ C, D

22. 다음 경제현상 중 휘발유의 수요를 증가시키는 요인을 <보기>에서 모두 고르면?

< 보 기 >

ㄱ. 경유에 대한 세금의 인상
ㄴ. 휘발유 승용차에 대한 세금의 감면
ㄷ. 휘발유 생산비용의 급격한 하락
ㄹ. 원유가격의 인하

- ① ㄱ, ㄴ ② ㄱ, ㄴ, ㄷ ③ ㄱ, ㄴ, ㄹ
④ ㄴ, ㄹ ⑤ ㄴ, ㄷ, ㄹ

23. 수요와 공급의 법칙이 성립하는 시장에서의 균형에 대한 설명으로 옳지 않은 것은?

- ① 시장에서 균형이 달성되면 자원 배분의 효율성이 증대된다.
- ② 시장이 균형 상태에 도달하면 수요량과 공급량이 언제나 일치한다.
- ③ 초과공급이 존재하면 가격이 상승하면서 시장은 균형 상태로 수렴하게 된다.
- ④ 다른 조건이 일정할 때 수요가 증가하면 균형가격과 균형거래량이 모두 증가한다.
- ⑤ 수요와 공급이 증가하게 되면 균형거래량은 반드시 증가한다.

24. 다음 중 우리나라에서 국내총생산(GDP)을 산출하는 데 반드시 포함되는 것은?

- ① 주택가격 상승분
- ② 마약을 불법으로 생산 판매한 수익
- ③ 집에서 직접 재배하여 먹은 채소들
- ④ 외국인 노동자가 우리나라에서 일하여 얻은 임금
- ⑤ 우리나라 회사가 외국에서 영업을 하여 얻은 수익

25. 위험 회피와 분산과 관련한 (A), (B) 두 가지 사례가 있다. 이와 관련한 <보기>의 설명 중 옳은 것을 모두 고르면?

(A) 보험회사는 위험분산과 관련하여 역선택과 도덕적 해이라는 두 가지 문제에 봉착한다.
 (B) 친구가 다음과 같은 제안을 했다. 동전을 던져 앞면이 나오면 10,000원을 당신에게 주고, 뒷면이 나오면 당신이 친구에게 10,000원을 주어야 한다.

< 보 기 >

ㄱ. (A)와 관련하여 위험이 높은 사람이 낮은 사람보다 보험에 가입할 가능성이 낮다.
 ㄴ. (A)와 관련하여 보험에 일단 가입한 사람은 덜 조심하게 되는 경향이 있다.
 ㄷ. (B)에서 위험 회피적이라면 친구의 제안을 받아들일 수도 있고, 거절할 수도 있다.
 ㄹ. (B)에서 기대수익률은 0원이다.

- ① ㄱ, ㄴ ② ㄱ, ㄷ ③ ㄱ, ㄹ ④ ㄴ, ㄷ ⑤ ㄴ, ㄹ

26. 다음 중 중앙은행의 통화량 조절 정책에 대한 설명으로 옳지 않은 것을 고르시오.

- ① 선진국에서 법정지급준비율 정책이 자주 사용된다.
- ② 공개시장조작은 금융발전정도가 낮은 국가에서는 효과적이지 않다.
- ③ 법정지급준비율을 인상하면 예금통화승수가 작아져서 통화 공급이 감소한다.
- ④ 재할인율을 인하하면 통화량이 증가한다.
- ⑤ 중앙은행은 공개시장조작을 통해 법률이나 은행 관련 규정을 변경하지 않고도 통화량을 조절할 수 있다.

27. 경기침체에 대한 설명으로 옳지 않은 것은?

- ① 경기가 침체되면 자연실업률 이상의 실업이 발생한다.
- ② 경기침체는 투지에 비해 저축이 부족하여 발생하게 된다.
- ③ 중앙은행의 긴축적인 통화정책에 의해 경기침체가 발생할 수 있다.
- ④ 스태그플레이션(stagflation)은 자연 재해 등으로 경기가 침체되는 경우에도 나타날 수 있다.
- ⑤ 가격과 임금이 신축적으로 작동하는 경제에서는 수요 부족으로 불황이 나타나도 정부의 개입 없이 시장을 통해 해결할 수 있다.

28. 독점기업의 이윤 극대화 산출량 결정에 대한 다음의 설명 중 옳은 것을 고르면?

- ① 한계비용과 한계수입이 일치하는 산출량 수준으로 결정한다.
- ② 가격과 평균비용이 일치하는 산출량 수준으로 결정된다.
- ③ 가격과 한계수입이 일치하는 산출량 수준으로 결정된다.
- ④ 가격과 한계비용이 일치하는 산출량 수준으로 결정된다.
- ⑤ 위의 모든 설명이 옳다.

29. 다음 중 총수요에 대한 설명으로 옳은 것은?

- ① 총수요는 이자율에는 영향을 받지 않는다.
- ② 이자율이 상승하면 총수요도 증가한다.
- ③ 총수요의 변동을 가져오는 주요 원인은 투자보다는 소비에 있다.
- ④ 화폐의 중립성이 성립한다면 화폐량의 증가가 총수요의 증가를 가져오게 된다.
- ⑤ 한 국가에서 생산한 상품의 총수요는 소비, 투자, 정부지출, 순수출의 합이 된다.

30. 어느 나라의 총인구가 5500만 명, 15세 미만 인구가 1500만 명, 비경제활동인구가 1000만 명, 취업자 2400만 명, 실업자 600만 명이라고 하자. 이때 경제활동참가율과 실업률을 구하면?

(단위 : %)

	경제활동참가율	실업률
①	50	15
②	50	20
③	75	15
④	75	20
⑤	75	25

< 시사 경제·경영 >

31. “계란을 한 바구니에 담지 말라”는 격언은 금융 투자에서 무엇을 의미하는가?

- ① 단기투자
- ② 장기투자
- ③ 포트폴리오 투자
- ④ 금융자산 투자
- ⑤ 그린필드 투자

32. ‘이것’은 블록체인 상에서 유통되는 토큰의 한 종류로 각 토큰마다 고유 값을 가지고 있어 다른 토큰으로 대체가 불가능한 토큰을 말한다. 디지털 콘텐츠 분야에서 각광 받는 블록체인 기술로 영어약자로 표현하면 무엇인가?

- ① TDF ② ELS ③ ABS ④ NFT ⑤ MBTI

33. 금융자산의 선택과 관련한 설명으로 옳은 것은?

- ① 안전한 자산을 선호한다면 국채보다는 주식이 낫다.
- ② 수익률을 높이기 위해서는 PER(주가수익비율)이 높은 주식을 구매해야 한다.
- ③ 원금 손실을 최소화하기 위해서는 낮은 수익률을 감수해야 한다.
- ④ 물가상승률이 높으면, 실물자산보다는 금융자산을 구매하는 것이 유리하다.
- ⑤ 수익률을 높이기 위해서는 파생상품보다는 예금이 가입해야 한다.

34. 경기가 나빠지고 있거나 침체에 빠진 상황을 나타내는 용어나 지표와 거리가 먼 것은?

- ① 더블딥 ② 대공황 ③ 디플레이션
- ④ CDS프리미엄 상승 ⑤ 재고율 하락

35. 상장사들이 기업가치 제고를 위해 ‘이것’을 매입할 때가 있다. 회사가 발행한 주식을 회사가 다시 취득해 보유 중인 자기주식인 ‘이것’은?

- ① 자사주 ② 실기주 ③ 황금주 ④ 혼합주 ⑤ 실권주

36. 기업의 문화예술에 대한 지원 총액이 매년 증가하는 것으로 나타났다. 문화 공간을 추가로 확충하고 소외 계층 예술교육, 상시 운영 프로그램 확대 등을 통해 지원 규모를 늘렸기 때문인 것으로 분석된다. 기업의 이런 활동을 지칭하는 것을 무엇이라 하는가?

- ① 킷덜트 ② 사회자본 ③ 메세나
- ④ 오픈마켓 ⑤ 랜드마크

37. 이 제도는 기업의 경영권 방어 수단 중 하나다. 기업이 적대적 인수 및 합병에 직면했을 때 기존 주주들에게 신주를 시가보다 훨씬 낮은 가격에 매입할 수 있도록 미리 권리를 부여하는 이 제도를 가리키는 용어는?

- ① 포이즌 필(poison pill)
- ② 섀도보팅(shadow voting)
- ③ 그린메일(green mail)
- ④ 차등의결권제도(dual class stock)
- ⑤ 스튜어드십 코드(stewardship code)

38. 다음 중 이것에 해당하는 알맞은 경제용어는?

프랑스가 구글, 페이스북, 아마존 등 미국 정보기술(IT) 기업을 포함한 글로벌 IT업체들에 ‘이것’을 부과하기로 결정했다. 연 매출 7억 5000만유로(약 9900억원) 이상이면서 프랑스 내에서 2500만유로(약 330억원) 이상의 수익을 내는 글로벌 IT기업에 대해 이들이 프랑스에서 벌어들인 연 매출의 3%를 ‘이것’으로 부과하는 것이 주된 내용이다.

- ① 토빈세 ② 직접세 ③ 부유세 ④ 디지털세 ⑤ 피구세

39. 남아프리카에 위치한 짐바브웨라는 국가는 한때 계란 3개를 구입하기 위해서 원화로 환산하면 1,000억에 해당하는 지폐를 사용해야 했다. 이와 같은 상황과 관련한 설명으로 옳지 않은 것을 고르면?



- ① ‘하이퍼인플레이션’ 혹은 ‘초인플레이션’이라고 한다.
- ② 보통 중앙은행이 대량의 화폐를 무분별하게 발행해서 나타나는 현상이다.
- ③ 당시 짐바브웨는 상점에 물건을 구매하기 위해 지폐를 꺼내는 순간에도 재화의 가격이 구매하려는 가격보다 더 올랐다고 한다.
- ④ 이와 같은 상황을 해결하기 위해 미국 달러화와 같은 기축통화국 화폐를 사용하거나 리디노미네이션을 시행한다.
- ⑤ 당시 짐바브웨의 미국 1달러에 대한 환율은 하락했을 것이다.

40. 다음 지문에서 제닛 옐런 미 재무장관이 언급한 세금으로 알맞은 것은?

제닛 옐런 미 재무장관은 지난 5일 시카고 국제문제협의회(CCGA) 연설에서 “(A) 바닥 경쟁을 멈춰야 한다”며 각국 (A)에 하한선을 두자고 제안했습니다. 미국이 제안한 하한세율은 21% 정도입니다. 미국은 또 8일 140개국에 ‘다국적 대기업들로 하여금 매출이 발생하는 나라에 세금을 내도록 하자’는 제안서를 보낸 것으로 확인되었습니다. 국가 간 (A) 인하 경쟁을 중단하고 기업들이 세금 회피를 위해 이리저리 옮겨다니는 것을 막자는 취지입니다.

- ① 관세 ② 소득세 ③ 법인세 ④ 비례세 ⑤ 증권거래세

41. 시장에서 예상한 실적 이상으로 높은 실적을 올린 경우를 말한다. 깜짝 실적이라고도 한다. 기업 실적에 따라 주가 방향이 결정돼 주식시장에서 많이 거론된다. 기업이 깜짝 실적을 발표하면 주가가 상승하는 경우가 많다. 이를 지칭하는 증권시장 용어는?

- ① 어닝 쇼크 ② 어닝 서프라이즈 ③ 사이드카
- ④ 서킷 브레이커 ⑤ 스톡옵션

42. 한국은행법에서는 물가안정과 금융안정을 한국은행의 양대 책무로 명시하고 있다. 하지만 미국 중앙은행(Fed)의 경우 ‘이것’ 또한 고려하여 통화정책을 시행하고 있다. 최근 정치권에서는 코로나19로 인한 정책수단 확장을 위해 한국은행에도 ‘이것’을 추가하여 역할을 확대해야 한다고 주장하는 목소리가 높아지고 있다. 전문가들은 정치적 중립성이 중요한 한국은행이 ‘이것’의 책무까지 포함되면 정치적 수단을 위한 도구로 전락할 수 있다고 우려를 나타냈다. ‘이것’은 무엇인가?

- ① 고용안정 ② 환율안정 ③ 이자율안정
- ④ 재정수지안정 ⑤ 국제수지안정

43. 다음 신문기사를 읽고, (A), (B)에 들어갈 단어를 순서대로 짝지은 것은?

세계 각국 정부와 중앙은행이 보유한 외환보유액에서 (A)인 달러 자산이 차지한 비중이 60%를 밀돌아 25년 만의 최저 수준을 기록했다. 달러 가치가 떨어질 것을 우려한 중국과 러시아 등이 미국 국채를 팔고 금이나 다른 통화 자산을 사들였기 때문이란 분석이다. (중략) 전문가들은 달러 약세가 지속되면서 각국 정부와 중앙은행의 달러 이탈 추세가 장기화할 것으로 보고 있다. 경상수지와 재정수지가 모두 적자를 기록하는 미국의 (B) 규모가 더욱 커질 전망이다. IMF는 “중앙은행들이 장기적으로 달러에서 다른 자산으로 외환보유액 구성을 바꾸고 있다”고 분석했다.

○○경제신문, 2021.5.10

	(A)	(B)
①	기축통화	시퀘스터
②	기축통화	적자금융
③	기축통화	쌍둥이적자
④	최적통화	적자금융
⑤	최적통화	쌍둥이적자

44. 주식을 가지고 있지 않은 상태에서 주식을 팔겠다는 주문을 내는 것을 말한다. 시세 차익을 추구하는 투자 방법의 하나지만, 개인투자자에게 피해를 주는 부작용이 크다는 비판도 받고 있는 이것은?

- ① 공매수 ② 공매도 ③ 손절매 ④ 반대매매 ⑤ 장외거래

45. 다음 중 자국통화의 가치를 하락시키는 예가 아닌 것은?

- ① 국내 여행객의 해외 방문 증가
 ② 수입(import)의 증가
 ③ 외환보유액을 증가시키기 위한 중앙은행의 시장 개입
 ④ 내국인의 해외 주식시장에 대한 투자 증가
 ⑤ 내국인이 해외 주식 투자로부터 배당수익 발생

46. 다음 지문을 읽고, 이를 표현한 경제용어로 알맞은 것은?

1998년 1월 5일, 이른 아침부터 수백 명의 인파가 종합금융회사들 앞에 몰려들었다. 한 달 전 전국 14개 중금사에 내려진 영업정지가 풀리자 예치금을 찾으러 온 예금주들이었다. 언발을 구르며 추위를 견디던 이들은 영업점 문이 열리자 한꺼번에 들이닥쳐 현금을 인출해 갔다. 이날부터 사흘간 이들 중금사에선 약 2만 명의 고객이 1조1000억 원을 찾아갔다. 전체 중금사 개인 예금 2조9000억 원의 40%에 가까운 규모였다.

- ① V-커머스 ② 볼커룰 ③ 뱅크런 ④ 양적완화 ⑤ 시노리치

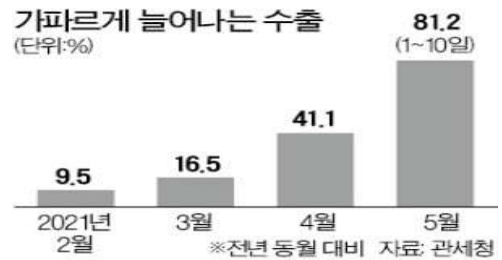
47. 다음 제시된 지문에 해당하는 경제용어로 옳은 것은?

- 네트워크를 기반으로 상품 및 서비스의 거래가 이루어지는 경제활동
- 제조업 중심의 경제와는 달리 네트워크상에서 가치를 창출하고 경제활동을 영위
- 노동자에게 ‘일자리’를 제공하지 않고 ‘일감’을 제공하여 고용의 질을 악화시키고 있다는 비판을 받음

- ① 협동조합 ② 사회적 경제 ③ 플랫폼 경제
 ④ 구독 경제 ⑤ 노동조합

48. 아래 그림과 신문기사를 통해 (A)에 알맞은 용어는 무엇인가?

이달 1일부터 10일까지 수출 금액이 작년 같은 기간보다 80% 이상 늘어나며 호조세를 이어가고 있다. 승용차와 자동차부품 수출은 300% 넘는 증가율을 기록했다. 글로벌 경기 회복세와 함께 지난해 코로나19 여파로 지표가 악화되었지만 올해 지표가 회복되면서 나타난 (A)가 증가율 급등의 요인으로 분석된다.
 ○○경제신문, 2021.5.12



- ① 기저효과 ② 피셔효과 ③ 자산효과
 ④ 피구효과 ⑤ 백로효과

49. 다음 뉴스에서 나타난 상황을 표현한 경제용어는?

**“값 올려도 살 사람은 산다”
 ‘명품’ 브랜드 마케팅 전략**

[앵커]
 시계나 가방 하나에 수백만원에서 수천만원을 호가하는 소위 ‘명품’들이 새해 들어 제품 가격을 더욱 높였습니다. 이렇게 해도 살 사람들은 다 산다는 일종의 배짱 마케팅이죠. 요즘 저물가, 저성장을 우려하는 경제의 일반적 모습과는 너무 다른, 딴 세상 이야기 같습니다. 특정제품 소비가 늘면 그 제품을 안사고 다수 소비자들이 살 수 없는 제품에 호감을 느끼는 현상을 말하는 겁니다. 전문가는 “수요가 줄지는 않고 부유층이 오히려 가격을 올리면 아무나 못사는 걸 내가 산다라는 그런 차별화 효과를 더 피할 수가 있기 때문에 이 사람들이 더 산다 이거죠.” 라고 전했습니다.

- ① 네트워크 효과 ② 베블런 효과 ③ 밴드웨건 효과
 ④ 스놉 효과 ⑤ 대비 효과

50. 글로벌 경제가 침체조짐을 보이고 경기 하강에 대한 불안감을 나타낼 때 'R의 공포'라는 단어가 나오기 시작한다. 이때 R은 무엇을 뜻하는 것인가?

- ① redenomination ② reshoring ③ retirement
④ recession ⑤ rebalance

51. 스타벅스가 한국에서 햅쌀이나 오미자 음료를, 맥도날드가 인도에서 소고기를 뺀 햄버거를 내놓는 등의 기업 경영전략을 일컫는 용어는 무엇인가?

- ① 넛지마케팅
② 엠부시 마케팅
③ 서비타이제이션
④ 글로벌라이제이션
⑤ 카니발라이제이션

52. 아래 신문 기사 중 밑줄 친 지수는 한국 주식시장을 대표한다. 국가별 대표 주가지수가 잘못 짝지어진 것은 무엇인가?

코스피 지수가 ○○일 하락세로 출발한 뒤 보합권에서 혼조세를 보이고 있다. 이날 오전 10시 현재 코스피는 전 거래일보다 1포인트 내린 2049를 가리키고 있다. 이날 지수는 박스권 공방을 벌인 끝에 전날보다 1.7포인트 오른 2051.7에 마감됐다.

- ① 영국-FTSE 지수 ② 미국-Dow Jones 지수
③ 중국-Beijing 지수 ④ 일본-Nikkei 지수
⑤ 홍콩-Hangseng 지수

53. 다음 나열한 내용을 통해, 지칭하는 제도의 이름은 무엇인가?

- 밀턴 프리드먼이 1962년 처음 제안
- 최소 생계 소득 수준 설정
- 소득이 미달하면 차액의 일정 비율을 정부가 보조금으로 지급

- ① 기본소득 ② 기초연금 ③ 고용장려금
④ 부(負)의 소득세 ⑤ 노령연금

54. 부채비율을 [부채총액 ÷ 자본총액]으로 계산할 경우 자산총액이 800억 원이고 부채총액이 200억 원이라면 부채비율은 대략 얼마인가?

- ① 30% ② 33.3% ③ 40% ④ 50.5% ⑤ 100%

55. 일정 기간 수익과 비용이 꼭 같아서 이익도 손실도 생기지 않는 지점을 나타낸다. 손익분기점을 뜻하는 약칭으로 알맞은 것을 고르면?

- ① PBR ② PER ③ ROE ④ BIS ⑤ BEP

56. 최근 캐나다중앙은행(BOC) 총재인 티프 매클럼은 채권 매입 규모를 25% 축소하겠다고 밝히며 '이것'의 시작을 알렸다. 경제위기에 시행한 양적완화 정책으로 풀린 유동성을 회수하기 위해 자산 매입을 축소하기 시작하는 정책인 '이것'은 무엇인가?

- ① 롤 오버 ② 디커플링 ③ 테이퍼링
④ 뉴노멀 ⑤ 오퍼레이션트위스트

57. 다음의 뉴스 기사에서 (A), (B)에 들어갈 내용으로 옳은 것은?

○○그룹 회장이 별세한 뒤 계열사 주가가 요동치고 있다. 핵심 계열사를 거느리고 있어 지주회사 격인 □□사의 우선주가 이를 연속 (A) %씩 올라 각각 상한가를 기록했다. 그동안 (B) 이 없다는 이유로 보통주보다 저평가되었다는 점이 부각된 결과라는 것이 시장의 분석이다.

	(A)	(B)
①	30	의결권
②	30	배당금
③	40	의결권
④	40	배당금
⑤	50	미수금

58. 아래 지문의 밑줄 친 이것에 대한 설명으로 옳지 않은 것은?

이것은 임직원에게 일정 기간이 지난 후 회사의 주식을 약정 당시의 가격으로 살 수 있는 권리를 주는 제도다.

- ① 임직원들에게 열심히 일할 수 있는 동기를 부여할 수 있다.
- ② 기업이 임직원들에게 부여하는 자사주 매입 권리를 뜻한다.
- ③ 벤처기업 등이 유능한 인재를 영입하기 위해 활용할 수 있다.
- ④ 이것을 받은 임직원은 미리 정해진 가격에 자기 회사 주식을 정해진 물량만큼 살 수 있다.
- ⑤ 이것을 받은 경우 옵션 행사가격이 주가보다 높더라도 반드시 행사해야 할 의무가 있다.

59. 아래 표현들이 의미하는 용어는 무엇인가?

- 곰들이 끓여주는 수프
- 영국 전래동화 주인공 소녀
- 물가가 안정적인 가운데 성장도 양호한 경제

- ① 골디락스 경제 ② 필립스 경제 ③ 봉골레 경제
- ④ 맥시엄 경제 ⑤ 지니 경제

60. 다음 신문기사를 읽고, 밑줄 친 RBC비율과 같은 기능을 하는 다른 지표들을 <보기>에서 고르면?

금융감독원은 국내 보험사의 RBC비율(지급여력 비율)이 지난해 말 275.1%를 기록했다고 26일 밝혔다. 전분기 대비 8.8%포인트 내린 수치다.
○○경제신문, 2021.4.27

- < 보 기 >
- ㄱ. 당좌비율 ㄴ. 총자산회전율
 - ㄷ. BIS자기자본비율 ㄹ. 관리재정수지

- ① ㄱ, ㄴ ② ㄱ, ㄷ ③ ㄴ, ㄷ ④ ㄴ, ㄹ ⑤ ㄷ, ㄹ

< 상 황 추 론 · 판 단 >

61. 다음 상황에서 유추할 수 있는 고구마의 가격과 거래량의 변화로 알맞은 것은?

고구마 생산량이 감소하고, 에어프라이어 등을 이용해 가정에서 직접 해먹는 수요가 늘고 있다.

	가 격	거 래 량
①	상승	하락
②	상승	알 수 없음
③	상승	상승
④	하락	알 수 없음
⑤	하락	상승

62. 다음 밑줄 친 ㉠~㉣에 대한 옳은 설명을 <보기>에서 모두 고른 것은?

갑국 정부는 음주를 줄여 국민 건강을 증진시키고자 다음과 같은 정책 대안들을 고려하고 있다.
첫째, ㉠주류값 인상 정책이다. 가격이 오르면 음주율이 줄어들 것으로 기대된다.
둘째, ㉡금주 교육 프로그램의 확대 정책이다. 음주의 피해를 홍보하여 음주율을 줄일 수 있을 것으로 기대된다.
셋째, ㉢주류 원료 생산 농장에 대한 정부 보조금의 삭감 정책이다. 주류의 원료 공급이 감소할 것으로 기대된다.

- < 보 기 >
- ㄱ. ㉠의 경우 개인의 소득에서 주류 소비 지출이 차지하는 비중이 높을수록 정책 효과가 크다.
 - ㄴ. ㉡의 경우 주류 공급이 비탄력적일 때, 주류 판매액은 증가한다.
 - ㄷ. 주류 수요가 가격에 완전비탄력적이라면 ㉢으로 인해 주류 소비량은 줄어들지 않을 것이다.
 - ㄹ. ㉣은 수요곡선상의 움직임으로, ㉢은 공급곡선상의 움직임으로 나타난다.

- ① ㄱ, ㄴ ② ㄱ, ㄷ ③ ㄴ, ㄷ ④ ㄴ, ㄹ ⑤ ㄷ, ㄹ

63. 승윤이의 효용은 토마토 주스, 아메리카노, 과자에서 얻는 효용의 합으로 결정된다. 토마토 주스의 가격은 3000원, 아메리카노의 가격은 2000원, 과자의 가격은 1000원이다. 승윤이가 현재 효용을 극대화하고 있고 추가적인 소비로 얻을 수 있는 한계 효용은 아래와 같다. 만일 소득이 1000원 증가하고 이 셋 중 한가지만을 살 수 있다면 무엇을 몇 단위 사야 하는가?

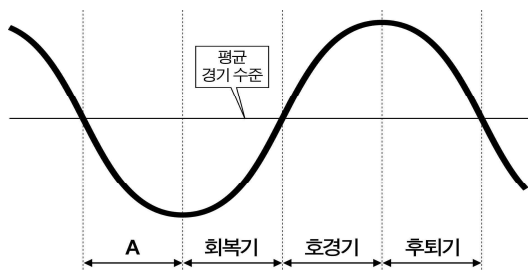
	토마토주스	아메리카노	과자
한계효용	6000	5000	2000

- ① 과자 1단위 ② 아무거나 사도 좋다.
 ③ 토마토주스 $\frac{1}{3}$ 단위 ④ 아메리카노 $\frac{1}{2}$ 단위
 ⑤ 아무것도 소비하지 말아야 한다.

64. 명목GDP가 2019년 500억 원에서 2020년에는 660억 원으로 증가했다고 한다. 같은 기간에 GDP디플레이터는 100에서 110으로 상승했다. 2020년 실질GDP는 2019년에 비해 얼마나 변동했는가?

- ① 변동없음
 ② 10억원 감소
 ③ 50억원 감소
 ④ 80억원 증가
 ⑤ 100억원 증가

65. 경기 순환을 나타낸 다음 그림에서 A시기의 경제 문제를 해결하기 위해 적절한 정책을 <보기>에서 고르면?



< 보 기 >
 ㄱ. 소득세율 인상
 ㄴ. 은행의 대출 한도 축소
 ㄷ. 기준금리 인하
 ㄹ. 정부의 공공 투자 확대

- ① ㄱ, ㄴ ② ㄱ, ㄷ ③ ㄴ, ㄷ ④ ㄴ, ㄹ ⑤ ㄷ, ㄹ

66. 다음은 우리나라 예방접종 공고문의 일부분이다. 이에 대한 추론이나 설명으로 옳은 것을 <보기>에서 모두 고른 것은?

- 백신 무료접종대상 : 만 60세 이상~만74세 이하 의료급여수급자, 국가유공자, 장애인 등
 - 국가무료대상자(위탁의료기관 접종) : 6개월~만 12세 이하(초등학생), 만 65세 이상
- 구청보건소

< 보 기 >
 ㄱ. 소비의 긍정적 외부성의 대표적 사례이다.
 ㄴ. 생산의 부정적 외부성의 대표적 사례이다.
 ㄷ. 보조금 지급을 통해 외부성 문제를 해결할 수 있다.
 ㄹ. 조세 부과를 통해 외부성 문제를 해결할 수 있다.

- ① ㄱ, ㄴ ② ㄱ, ㄷ ③ ㄴ, ㄷ ④ ㄴ, ㄹ ⑤ ㄷ, ㄹ

67. 아래 지문에서 (A)~(D)에 들어갈 단어를 순서대로 바르게 나열한 것은?

에릭이 배가 고파서 햄버거와 콜라를 주문하여 먹고 있다. 에릭은 마지막으로 먹는 햄버거로부터 200만큼의 효용을, 마지막으로 마시는 콜라로부터 50만큼의 효용을 얻고 있다. 햄버거 구매에 5,000원, 콜라 구매에 1,500원을 지출했다면, 현재 에릭의 햄버거와 콜라 소비는 에릭의 효용을 (A) . 에릭이 현재와 같은 지출액을 유지한 채 햄버거의 소비를 (B) 콜라의 소비를 (C) 다면, 에릭의 효용은 (D) 것이다.

	(A)	(B)	(C)	(D)
①	극대화시킨다	줄이고	늘린	감소할
②	극대화시킨다	줄이고	늘린	변하지 않을
③	극대화시키지 않는다	줄이고	늘린	증가할
④	극대화시키지 않는다	늘리고	줄인	증가할
⑤	극대화시키지 않는다	늘리고	줄인	감소할

68. 미 달러화 등 주요국 통화에 대해 중국 위안화가 절상되었고 하자. 이때 한국 기업과 경제에 미칠 수 있는 영향에 대한 추론으로 가장 거리가 먼 것은?(단, 다른 조건은 일정하다고 가정한다.)

- ① 중국에서 수입하는 원재료값 하락으로 국내 수입 물가가 떨어진다.
- ② 중국 소비자들의 구매력 상승으로 한국 기업의 중국 수출이 증가할 수 있다.
- ③ 중국 기업의 수출 감소로 중국을 통한 국내 기업의 우회수출이 타격을 받을 수 있다.
- ④ 해외시장에서 중국 기업과 경쟁 관계에 있는 한국 기업들의 가격경쟁력이 제고된다.
- ⑤ 위안화 가치가 상승한 것에 대한 반사이익으로 한국 무역수지 흑자가 늘어나면 원화 가치도 동반 상승(환율하락)할 가능성이 있다.

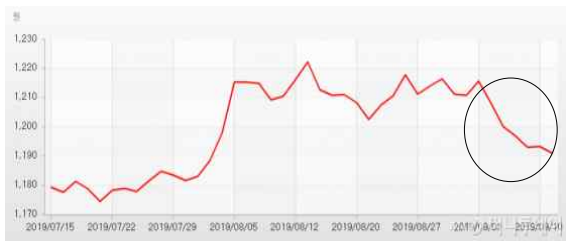
69. 사람들이 물가가 3% 상승할 것으로 예상했으나 실제로 5% 물가가 상승하였다. 다음 중 옳은 것을 <보기>에서 모두 고르면?

< 보 기 >

ㄱ. 채무자가 유리해지고 채권자는 불리해진다.
 ㄴ. 식당의 메뉴비용이 발생한다.
 ㄷ. 장기적으로 고용이 증가한다.
 ㄹ. 현금을 보유한 사람이 실물자산을 보유한 사람보다 유리해진다.
 ㅁ. 국제수지가 악화된다.

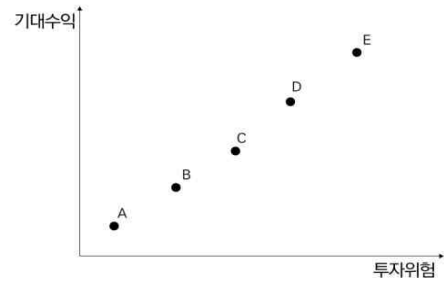
- ① ㄱ, ㄴ, ㅁ ② ㄱ, ㄴ, ㄷ ③ ㄴ, ㄷ, ㅁ
- ④ ㄴ, ㄹ, ㅁ ⑤ ㄷ, ㄹ, ㅁ

70. 다음 그래프에서 동그라미로 표시한 원·달러 환율의 추이가 이와 같을 때, 관련한 설명 중 옳지 않은 것은?



- ① 미국으로부터 수입량이 증가할 수 있다.
- ② 한국의 대미 수출품 가격이 하락할 것이다.
- ③ 한국 경상수지가 장기적으로 악화될 것이다.
- ④ 미국으로 여행을 가려는 한국인들이 증가할 것이다.
- ⑤ 달러 부채를 많이 가진 한국 기업들은 유리할 것이다.

71. 다음 그래프는 금융시장의 기대수익과 위험 간의 관계를 나타낸다. A, B, C, D, E는 금융상품이다. 이와 관련한 설명 중 옳지 않은 것은?



- ① 이 그래프는 위험과 수익의 상충관계를 나타낸다.
- ② 투자위험이 같다면 기대수익이 높은 금융상품을 골라야 한다.
- ③ A, B, C, D, E가 일직선 위에 있는 상품이라면 우월을 가릴 수 없다.
- ④ 파생상품이나 주식형펀드는 A 상품에 속한다고 볼 수 있다.
- ⑤ '하이 리스크, 하이 리턴'이라는 투자 격언을 반영하고 있다.

72. 다음은 인플레이션의 원인에 대한 설명이다. 이를 읽고 학생들이 나눈 <보기>의 대화 중 옳은 설명을 모두 고르면?

인플레이션은 ㉠총수요가 증가하여 나타나는 인플레이션과 ㉡총공급이 감소하여 나타나는 인플레이션으로 구분할 수 있다. 두 현상의 특징과 대책에 대해 이야기해보자.

< 보 기 >

갑 : ㉠의 경우에 정부 지출을 늘리면 물가가 더욱 불안해집니다.
 을 : ㉠의 경우에 긴축 재정을 펼치면 실업률이 오히려 더 높아집니다.
 병 : ㉡의 경우에 디플레이션이 나타납니다.
 정 : ㉡의 경우에 통화 공급을 늘리면 경기가 회복되고 물가가 안정을 이루게 됩니다.

- ① 갑, 을
- ② 갑, 병
- ③ 을, 병
- ④ 을, 정
- ⑤ 병, 정

73. 두 학생이 이야기한 경제의 기본원리를 나타내는 사례를 알맞게 짝지은 것을 <보기>에서 고르면?

- 교사 : 우리가 알아야 할 경제의 기본원리에는 무엇이 있을까요?
- 나연 : 모든 선택에는 대가가 따른다는 것! 그게 제일 중요한 것 아닐까요?
- 동현 : 저는 사람들은 경제적 유인에 반응한다는 걸 꼭겠어요!

- ㄱ. 최근 인공망막이 개발되어 후천적으로 시력을 잃은 환자들에게 희소식이다.
- ㄴ. 정부가 무상복지를 늘리니 교육 등 다른 곳에 사용할 수 있는 예산이 그만큼 줄어들었다.
- ㄷ. 주부 김씨는 국내 유통업체에서 판매하는 수입품 가격이 비싸 해외에서 직접구매 방식으로 물건을 구입한다.
- ㄹ. 해외여행을 할 때 자유여행보다 패키지여행을 선택하는 사람들이 많다.

	나연	동현
①	ㄱ	ㄴ
②	ㄱ	ㄷ
③	ㄴ	ㄷ
④	ㄴ	ㄹ
⑤	ㄷ	ㄹ

74. 다음 지문을 읽고, 이와 관련한 설명으로 옳은 것을 고르면?

전기차 생산업체 테슬라는 북미 지역에서 모델3· 모델S·모델X 가격을 내렸는데, 한국에서는 모델3에 대해서는 기존 가격을 고수하고 있다. 원래 테슬라는 원프라이스(단일가격) 정책을 고수해 왔으나 이 정책이 시장별로 지켜지지 않았다는 불만이 국내 고객을 중심으로 터져 나온다. 테슬라는 이번에 가격 인하 배경을 밝히지 않았다. 한국소비자들은 한국에서 모델3 가격을 내리지 않아 국내 소비자를 차별하는 것이 아니냐는 의구심을 자아낸다.

- ① 사회적 비효율성이 0이 된다.
- ② 치열한 눈치 보기 전략이 발생한다.
- ③ 3급 가격차별의 대표적 사례이다.
- ④ 독점적 경쟁시장에서 자주 사용되는 전략이다.
- ⑤ 수요의 가격탄력성이 클수록 더 높은 가격을 받는다.

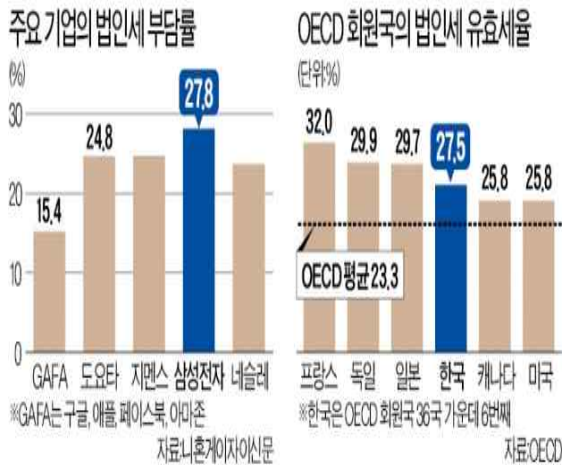
75. 아래 글은 노벨경제학상 수상자인 밀턴 프리드먼이 쓴 '선택할 자유'에 나오는 한 대목이다. 저자의 주장을 잘못 이해한 사람은 누구인가?

경제적 자유의 본질은 우리 자신의 소득을 사용하는 방법, 소득 가운데 어느 정도를 우리 자신을 위해 쓸 것인가, 어떤 항목에 쓸 것인가, 어느 정도 저축할 것인가, 누구에게 얼마나 줄 것인가를 선택할 수 있는 자유를 의미한다. 현재 미국은 미국인 소득 40% 이상을 연방 정부, 주정부, 그리고 지방정부가 국민을 대신하여 사용하고 있다.

- ① A씨 : 저자는 세금을 많이 걷어 가는 정부를 우회적으로 비판하고 있다.
- ② B씨 : 저자는 개인 소득의 40%까지만 정부가 사용할 수 있다고 주장한다.
- ③ C씨 : 저자는 개인이 자기 재산을 자기 계산대로 쓸 수 있도록 하는 게 경제적 자유라고 본다.
- ④ D씨 : 저자는 애덤 스미스와 마찬가지로 경제적 자유의 보장을 강하게 주장한다.
- ⑤ E씨 : 저자는 개인들이 사익을 위해 소득을 사용하도록 하는 게 정부 개입보다 낫다고 본다.

76. 다음 신문기사와 그래프를 분석한 후, 이에 대한 친구들의 대화 중 옳지 않은 것은?

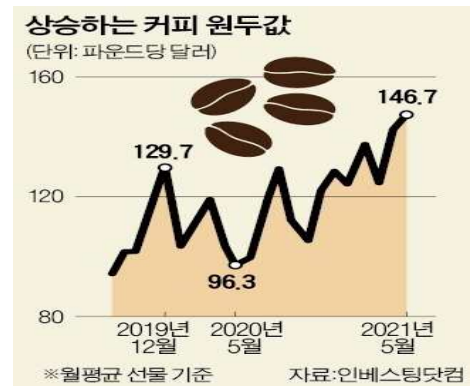
2017년 구글의 세전 순이익에서 법인세 비용이 차지하는 비율인 법인세 유효세율은 53.4%였다. 같은 시점 24.9%였던 삼성전자 법인세 유효세율의 두 배 이상이었다. 3년 만에 양상은 정반대가 됐다. 최근 3년간 삼성전자의 유효세율은 27.8%로 늘어난 데 비해 구글을 포함한 미국 빅테크 기업의 세금 부담률은 15.4%로 삼성전자의 절반 수준으로 뚝 떨어졌다. 미국을 비롯한 세계 각국 정부가 법인세 인하 경쟁을 펼칠 때 한국 정부만 법인세를 올리며 역주행한 결과라는 분석이 나온다.



- 가영 : 법인세 유효세율이란 법인이 세전이익 대비 얼마의 세금을 냈는지를 나타내는 지표야.
- 나영 : 2017년에는 삼성전자가 구글보다 상대적으로 세금에 대한 부담이 낮았어.
- 다영 : 3년 만에 삼성전자와 미국 빅테크 기업의 세금 부담이 뒤바뀐 것은 한국 정부의 법인세 인상도 있지만, 미국의 도널드 트럼프 행정부 시기 법인세의 대폭 인하가 영향을 미쳤다고 할 수 있어.
- 라영 : 세계 각국 정부가 법인세 인하 경쟁을 펼치는 데 한국만 올리는 추세라면 외국인직접투자가 줄어들 가능성도 높아.
- 마영 : 한국의 법인세 유효세율이 올라가면 해외에 투자한 국내기업들의 리쇼어링이 촉진될 거야.

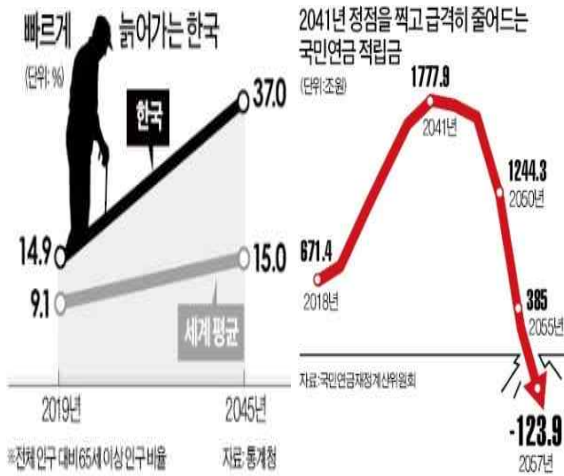
77. 다음 신문기사와 그래프를 통해 유추할 수 있는 상황으로 옳지 않은 것은?

‘황금의 땅’ ‘와인의 천국’으로 불리는 미국 캘리포니아 지역이 5월 이른 가뭄에 허덕이고 있다. 라니아 현상으로 비 소식이 끊기면서 58개 카운티 중 41곳에 비상사태가 선포됐다. 브라질 상파울루의 가뭄도 심각하다. 코로나19 유행 후 원자재 값이 급등하는 데다 농산물·채소 작황까지 악화하면서 인플레이션 압박이 더 커질 것이란 전망이 나온다. (중략) 뉴욕선물거래소에서 거래되는 커피와 설탕 등의 가격은 4년 만에 최고치를 기록했다고 블룸버그통신은 보도했다. 브라질의 오렌지 수확량은 전년보다 31% 줄어 33년 만에 가장 큰 감소세를 나타냈다. 스타벅스 등에서 사용하는 고급 커피 품종인 아라비카 커피 생산도 급감했다.
○○경제신문, 2021.5.19



- 코로나19 이후 수요 측면에서 경기가 회복되고 있기 때문에 미국과 브라질의 가뭄은 인플레이션 압력을 더욱 높일 것이다.
- 원자재 가격 상승에 더해 농산물·채소 등의 가격이 상승하게 되면서 각국은 물가상승에 대처하기 위해 기준금리 인상을 고려할 수 있다.
- 기업의 생산비용이 상승하여 총공급곡선이 우측으로 이동할 가능성도 높다.
- 미국과 달리 브라질은 농산물·채소 등의 수출이 경제에 차지하는 영향이 높아 물가는 상승하지만, 경기는 침체하는 스태그플레이션 가능성이 높다.
- 커피나 오렌지 등의 가격이 상승하는 현상을 애그플레이션으로 설명할 수 있다.

78. 다음 자료를 통해 추론할 수 있는 경제상황으로 옳지 않은 것은?



급격한 저출산·고령화 여파로 지난해 국민연금 가입자 수가 감소세로 돌아섰다. 예상보다 2년 앞당겨진 것이다. 연금 보험료를 내는 인구는 계속 줄고, 연금을 받는 인구는 갈수록 늘어 적립금 고갈 시기가 더 빨라질 것이라는 전망이 나온다.

○○경제신문

- ① 실버산업분야의 경기가 상승세를 탈 것이다.
- ② 노년부양비가 상승하여 세대 간 갈등이 커질 수 있다.
- ③ 국민연금 적립금 상황을 고려하면, 연금 수급 개시 연령을 상향조정하여야 한다.
- ④ 국민연금 적립금 고갈 시기를 늦추기 위해 중앙은행의 발권력을 통해 지원을 하는 것은 미래 세대에게 부담을 주지 않는다.
- ⑤ 해외로부터 유능한 인재 등 이민을 받아들여 국민연금 가입자 수를 늘리는 것 또한 국민연금 적립금 고갈 해소에 도움이 된다.

79. 다음 지문에서 언급하고 있는 부동산정책이 실시될 경우 발생할 수 있는 내용으로 알맞은 것을 <보기>에서 모두 고르면?

**“분양가 상한제 앞두고 로또 잡자”
강남권으로 몰리는 현금부자**

정부가 부동산 시장 안정화를 위해 꺼내든 민간택지 분양가 상한제 카드가 내달 본격적으로 적용되는 가운데, 아파트 청약시장 경쟁은 갈수록 치열해지고 있다. 9억 원 이상 대출이 불가능한 강남권 새 아파트 청약시장도 오히려 1년 새 청약자 수가 더 늘어나면서 부동산 ‘로또’에 당첨되기 위한 현금부자들이 점점 더 몰리고 있는 것으로 나타났다.

- < 보 기 >
- ㄱ. 이러한 규제로 인해 주택 임대시장에 초과수요가 발생하게 된다.
 - ㄴ. 규제 이후의 임대주택의 거래량은 단기보다는 장기에 더 많아지게 된다.
 - ㄷ. 규제를 받는 주택임대시장의 공급곡선은 단기보다 장기에 더 탄력적이 된다.
 - ㄹ. 규제 이후의 임대주택에 대한 초과수요는 장기보다 단기에 더 크게 나타난다.

- ① ㄱ, ㄴ ② ㄱ, ㄷ ③ ㄴ, ㄷ ④ ㄴ, ㄹ ⑤ ㄷ, ㄹ

80. 다음 지문에 대한 분석으로 옳은 것은?

역대급 오징어 흉년으로 동해안 어민들이 울상이다. 지금과 같이 오징어가 금징어가 된 이유는 여러 가지가 있으나 가장 큰 이유로 전문가들은 2004년부터 시작된 중국어선의 북한수역 입어가 또 다른 원인으로 꼽힌다. 1,000여척이 넘는 중국 어선들이 북한수역에서 쌍끌이 방식으로 오징어를 포획하니 회유성 어족인 오징어가 우리 동해로 남하하지 못하고 있는 것이다. 지금은 오징어 작업이 끝날 철인데 흉작이 극심해 어민들의 생계에도 지장을 미치고 있다.

- ① 비경합성과 비배제성 때문에 발생한다.
- ② 합병을 통해 문제를 해결할 수 있다.
- ③ 생산의 긍정적 외부성의 대표적 사례다.
- ④ 소유권 확립으로 문제를 해결할 수 있다.
- ⑤ 감춰진 정보 때문에 발생하는 시장실패 현상이다.

<끝, 수고 하셨습니다.>

TESAT 5회 모의고사 정답 및 배점

문제	정답	배점	난이도	문제	정답	배점	난이도
1	5	3	하	41	2	3	하
2	2	4	하	42	1	4	하
3	4	3	하	43	3	4	하
4	1	3	하	44	2	3	하
5	2	4	하	45	5	4	하
6	3	3	하	46	3	3	하
7	1	3	하	47	3	3	하
8	4	4	상	48	1	4	하
9	1	3	하	49	2	3	하
10	2	3	하	50	4	3	하
11	4	3	하	51	4	3	하
12	5	3	하	52	3	3	하
13	1	4	중	53	4	4	하
14	2	3	하	54	2	3	상
15	5	3	하	55	5	3	하
16	2	3	하	56	3	4	하
17	3	3	하	57	1	4	하
18	4	3	하	58	5	3	하
19	5	3	하	59	1	3	하
20	3	3	하	60	5	4	하
21	5	4	하	61	2	5	하
22	1	4	하	62	2	5	중
23	3	3	하	63	4	5	하
24	4	3	하	64	5	5	하
25	5	4	중	65	5	5	하
26	1	4	하	66	2	5	하
27	2	4	하	67	4	5	하
28	1	4	하	68	1	5	중
29	5	3	중	69	1	5	하
30	4	3	하	70	2	5	하
31	3	3	하	71	4	5	하
32	4	3	하	72	1	5	하
33	3	4	하	73	3	5	하
34	5	3	하	74	3	5	하
35	1	3	하	75	2	5	하
36	3	3	하	76	5	5	하
37	1	3	하	77	3	5	하
38	4	3	하	78	4	5	하
39	5	4	하	79	2	5	하
40	3	3	하	80	4	5	하

6회 모의고사 문제지

- 문제지 앞표지에 성명과 수험번호를 적었는지 확인 하십시오.
- 경제이론과 시사경제·경영은 문항당 3점, 4점이고 상황추론·판단은 문항당 5점입니다.
- 시험시간은 100분입니다.

< 경제 이 론 >

1. 영국의 고전학파 경제학자 애덤 스미스는 '개인과 사회 모두에게 가장 큰 부(富)를 가져올 경제체제'로 '자연적 자유의 체제(The system of natural liberty)'를 주장하였다. 이 체제의 구성에 포함되지 않는 것은?

- ① 기업의 사회적 책임
- ② 최소 간섭의 작은 정부
- ③ 보이지 않는 손(the invisible hand)
- ④ 사적 이기심(private self interest)의 추구
- ⑤ 동료들의 불행 회피를 위해 자기의 쾌락을 절제 하겠다는 인간의 도덕적 감정(moral sentiment)

2. 다음 중 국내총생산(GDP) 계산에 실제로 포함되는 것은?

- ① 여가의 가치
- ② 정부의 이전지출
- ③ 주부의 가사노동
- ④ 그해 생산한 기업의 재고
- ⑤ 부동산 가격 변동에 따른 자본이득

3. 주유소, 이발소, 미용실, 커피 전문점 시장에 대한 설명 중 옳지 않은 것은?

- ① 상표나 품질, 디자인 등에서 약간씩 차별화된 상품을 생산한다.
- ② 일반적으로 제품 차별화가 높을수록 수요곡선은 비탄력적이다.
- ③ 광고나 판매조건 등 비가격경쟁이 치열하다.
- ④ 소수의 기업이 존재하므로 개별기업은 다른 기업들의 전략을 고려해 행동한다.
- ⑤ 진입과 퇴출이 대체로 자유로워 초과이윤이 발생하면 새로운 기업이 진입한다.

4. A 국가에서는 빵과 사과즙은 보완 관계에 있으며, 오렌지와 사과는 대체 관계에 있다. 그런데 최근 새로운 사과 재배법이 도입되어 사과의 생산원가가 대폭 하락하고 생산성이 향상되었다고 하자. 이런 경우 빵과 오렌지 시장에서 발생할 것으로 예상할 수 있는 현상은?

- ① 빵 가격 하락 - 오렌지 가격 상승
- ② 빵 가격 하락 - 오렌지 가격 하락
- ③ 빵 거래량 증가 - 오렌지 가격 하락
- ④ 빵 거래량 감소 - 오렌지 가격 상승
- ⑤ 빵 거래량 불변 - 오렌지 거래량 감소

5. 다음 자료에 대한 <보기>의 설명으로 옳은 것을 모두 고르면?

X재와 Y재만 생산하는 갑국과 을국이 있다. 양국 모두 노동만을 생산 요소로 생산한다. 양국에서 투입 가능한 노동의 양은 동일하고, 양국간 노동 이동은 없다. 표는 갑국과 을국 각각 모든 노동을 사용하여 생산 가능한 X재 혹은 Y재의 최대 생산 가능량을 나타낸다.(단, 양국의 생산 가능 곡선은 모두 직선이다.)

(단위 : 개)

구분	X재	Y재
갑국	120	60
을국	150	450

< 보 기 >

- ㄱ. X재 1개 생산의 기회비용은 갑국이 을국보다 크다.
- ㄴ. 을국은 X재와 Y재 생산 모두에 절대 우위를 가진다.
- ㄷ. 비교우위론에 따르면 갑국은 X재 생산에, 을국은 Y재 생산에 특화한다.
- ㄹ. X재와 Y재의 교환비율이 1:0.8이면 양국 모두 교역에 참여할 것이다.

- ① ㄱ, ㄴ ② ㄱ, ㄷ ③ ㄷ, ㄹ
- ④ ㄱ, ㄴ, ㄹ ⑤ ㄴ, ㄷ, ㄹ

6. 어느 기업이 상품을 생산하는 데 있어 규모의 경제를 누리고 있다고 한다. 이 기업에 대한 설명으로 가장 옳은 것은?

- ① 기업의 장기 총비용함수는 직선이 된다.
- ② 기업의 장기평균비용곡선이 우하향해야 한다.
- ③ 공장의 크기를 3배로 하면 생산량이 3배가 된다
- ④ 모든 투입요소를 2배로 늘리는 경우 생산량도 2배 증가한다.
- ⑤ 노동의 투입량을 한 단위 증가시킬 때마다 추가로 생산되는 상품의 양이 감소한다.

7. 다음 중 우리나라의 총수요에 미치는 영향이라고 볼 수 없는 것은?

- ① 정부가 재정지출을 변화시켰다.
- ② 인접국가의 소득이 증가하였다.
- ③ 구리·철강과 같은 원자재 가격이 하락하였다.
- ④ 주식 시장의 호황으로 가계의 부가 증가하였다.
- ⑤ 기업가들이 미래에 대해 낙관적인 견해를 갖기 시작하여 투자를 하기 시작했다.

8. 다음은 평가 활동지의 일부다. (가)~(다)에 들어갈 내용으로 옳은 것은?(단, A와 B는 각각 정기예금과 정기적금 중 하나다.)

형성평가활동

성명: 000

◎금융 상품 A, B의 일반적인 특징을 쓰시오.

A: 일정한 금액을 일정기간 동안 정기적으로 예금하고 만기가 되면 원금과 이자를 합하여 약속된 금액을 돌려받는 예금이다.

B: 목돈을 일정 기간 은행에 넣어두면 만기일에 약속된 이자와 함께 돈을 돌려받는 예금이다.

A의 특징	B의 특징
(가)	(나)
A와 B의 공통적인 특징	
(다)	

- ① (가) : 만기일이 길어지면 이자율이 낮아진다.
- ② (나) : 입출금이 잦은 자금을 일시적으로 보관하기 좋다.
- ③ (다) : 예금자 보호 제도의 대상이다.
- ④ (다) : 금융소득에 대한 과세 대상이 아니다.
- ⑤ (다) : 언제든지 사고 팔수 있는 유가 증권이다.

9. 한국은행이 법정지급준비율을 올렸다고 하자. 이 때 발생하는 현상으로 볼 수 없는 것은?

- ① 시중에 본원통화가 줄어든다.
- ② 콜금리가 상승 압력을 받는다.
- ③ 은행들의 신용창출 여력이 줄어든다.
- ④ 지급준비금이 부족한 은행은 한국은행으로부터 차입을 늘린다.
- ⑤ 은행들은 지급준비금을 확보하기 위하여 물거래 시장에서 자금을 차입한다.

10. 완전경쟁시장에서 기업의 경제적 이윤은 0이라는 사실과 관계가 깊은 것은?

- ① 기업은 장기적으로 퇴출된다.
- ② 기업의 회계학적 이윤은 0보다 크다.
- ③ 기업은 고정비용에서 손실을 보고 있다.
- ④ 기업의 생산활동에 대한 기회비용이 0이다.
- ⑤ 기업은 생산을 중단해야 한다.

11. (가)와 (나)에 대한 <보기>의 설명 중 옳은 것을 모두 고르면?

(가) 화재 보험 상품 가입자는 이미 보험에 가입했다는 이유로 화재 예방 및 관리를 소홀히 하기 쉽다. 보험회사가 보험가입자를 하루 종일 관찰할 수 없기 때문이다.

(나) 중고차 시장에서 소비자들은 중고차의 상태를 잘 모르기 때문에 중간 정도 품질의 자동차 정도로 생각해 가격을 지불하고자 한다. 이에 따라 좋은 중고차는 시장에 잘 나오지 않게 된다.

< 보 기 >

ㄱ. (가)의 현상을 줄이기 위해 보험 가입자는 보험 상품에 대한 정보를 잘 알아볼 필요가 있다.

ㄴ. (나)의 현상을 줄이기 위해 중고차 판매자는 판매하는 차에 대해 무상보증 기간을 두기도 한다.

ㄷ. (가)는 거래 전, (나)는 거래 후 정보비대칭이 발생한다.

ㄹ. (가)와 (나)는 모두 시장에서 효율적 자원 배분을 저해하는 현상이다.

- ① ㄱ, ㄴ ② ㄱ, ㄷ ③ ㄴ, ㄷ ④ ㄴ, ㄹ ⑤ ㄷ, ㄹ

12. 미국의 경제학자 밀턴 프리드먼의 항상소득가설에 따를 때 다음 중 소비가 가장 많이 변화하는 경우는 무엇인가?

- ① 복권에 당첨되어 상금을 받음
- ② 새로운 판매기법을 개발하여 소득이 증가
- ③ 감기로 인해 일을 못하여 소득이 감소
- ④ 과거에 숨겨두었던 현금을 잊고 있다가 우연히 발견
- ⑤ 날씨가 좋아 풍년으로 수확량이 늘어 농가 소득이 증가

13. 시중금리가 상승할 때 나타나는 현상을 바르게 짝지은 것은?

- ① 채권가격의 하락, 예금의 증가
- ② 주가가격의 상승, 환율의 하락
- ③ 소비와 예금의 감소
- ④ 소비와 예금의 증가
- ⑤ 채권가격의 상승, 주가가격의 상승

14. 물가지수에 대한 다음 설명 중 옳지 않은 것은?

- ① GDP디플레이터에 수입품의 가격이 포함되지 않는다.
- ② GDP디플레이터는 가장 포괄적인 물가지수다.
- ③ 소비자물가지수(CPI)는 물가상승률을 과대평가하는 경향도 있다.
- ④ 주택투기에 의한 부동산가격폭등은 GDP디플레이터에 포함된다.
- ⑤ 석유파동과 같은 해외부문의 충격은 생산자물가지수(PPI)에 직접적인 충격을 준다.

15. 두 국가의 통화가 서로 교환될 수 있는 비율을 환율이라 한다. 환율에 대한 다음 설명 중 옳지 않은 것을 고르시오.

- ① 자국통화 표시환율이 상승하면 수출재 가격은 하락하고 수입재 가격은 상승한다.
- ② 구매력평가설은 균형환율이 각 국가의 물가수준의 차이에서 결정된다고 본다.
- ③ 이자율평가설은 국가 간 자본이동이 자유로운 상황에서 이자율 격차에 의해 장기 균형환율이 결정된다는 견해이다.
- ④ 단기 균형환율의 변동폭이 장기 균형환율의 변동폭보다 크게 나타나는 이유는 가격변수가 단기에 경직적이기 때문이다.
- ⑤ 우리나라의 국제 수출경쟁력을 알아보기 위해서는 환율뿐만 아니라 우리나라와 교역상대국 물가의 상대적 비율을 감안해야 한다.

16. 수요의 가격탄력성에 대한 설명 중 옳은 것은?

- ① 해당 상품의 공급이 적을수록 수요의 가격탄력성은 작아진다.
- ② 해당 재화의 대체재가 많을수록 수요의 가격탄력성은 커진다.
- ③ 수요 곡선이 직선인 경우는 단위 탄력적 수요곡선을 의미한다.
- ④ 수요량을 예측하는 기간이 짧을수록 수요의 가격탄력성은 커진다.
- ⑤ 소득이 증가할수록 수요의 가격탄력성은 커진다.

17. 무역이 봉쇄된 국가가 정책을 바꿔 외국과의 무역을 개방했다. 이때 예상되는 결과가 아닌 것은?

- ① 무역을 통해 얻는 이익은 모든 경제주체에 돌아간다.
- ② 국가 간 생산성이 크게 차이 나더라도 무역이 이뤄질 수 있다.
- ③ 경쟁력을 갖추지 못한 기업이나 산업은 해당 시장에서 퇴출당할 수 있다.
- ④ 국내 독과점 기업이 지니는 문제를 자유무역으로 해결할 수 있다.
- ⑤ 비교열위에 있는 상품을 덜 생산하는 대신 비교우위에 있는 상품을 더 생산해 수출함으로써 자원이 보다 효율적으로 사용된다.

18. 다음 글이 설명하는 경제 개념으로 가장 적절한 것은?

한 명의 선생님이 수학과 과학을 모두 가르치는 것보다는 수학 선생님은 수학만, 과학 선생님은 과학만 가르치는 것이 더 효과적이다.

- ① 교환 ② 생산 ③ 특화 ④ 중개 ⑤ 시장

19. 공공재의 성격에 관한 설명으로 옳은 것은?

- ① 어떤 재화의 소비가 배제불가능하더라도 비경합적이면 시장을 통해 그 재화를 공급할 수 있다.
- ② 공공부문이 어떤 재화를 공급한다면 그것은 공공재가 되기 위한 충분조건이다.
- ③ 무임승차문제는 소비의 경합성으로 인해 발생하며 정부가 그 재화를 공급해야하는 이유가 된다.
- ④ 숲속 작은 마을에서 산불 관련 경보 사이렌은 공공재이다.
- ⑤ 공공재 중 비순수공공재가 존재하는데 비경합성과 배제성을 가진 경우에만 해당한다.

20. 어느 공장에서 10명의 근로자가 1인당 평균 20개의 상품을 생산했다. 그런데 근로자 한 사람을 더 고용하자 1인당 평균 생산량이 21개로 늘었다. 근로자 1명을 추가 고용했을 때 한계생산은 얼마인가?

- ① 25 ② 28 ③ 31 ④ 35 ⑤ 39

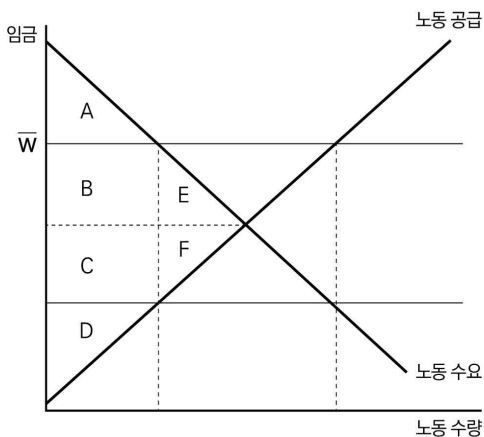
21. 절약의 역설에 대한 다음 설명 중 옳지 않은 것은?

- ① 경제학자인 케인스가 강조하였다.
 ② 경제의 장기 현상에 대한 설명이다.
 ③ 국내총생산의 결정에 있어 총수요의 중요성을 강조한다.
 ④ 경기 불황에는 오히려 소비를 늘리는 것이 도움이 된다.
 ⑤ 개인에게 도움이 되는 행동이 경제 전체로는 해가 될 수 있다.

22. 균형 환율이 변할 때, 환율이 가장 적게 변하는 조합을 고르면?(환율의 수요와 공급을 고려하여 답하시오.)

- ① 해외 투자 감소, 수출 감소
 ② 수입 증가, 해외투자 증가
 ③ 수출 감소, 해외여행 증가
 ④ 수출 증가, 외국인 관광객 증가
 ⑤ 해외여행 증가, 외국인 관광객 감소

23. 최저임금제(가격하한제)로 인한 경제적 총잉여의 순감소(경제적 순손실)를 아래 노동시장 그래프에서 바르게 고른 것은?



- ① A+B ② B+C ③ C+F ④ B+E ⑤ E+F

24. 찬호는 광현과 1시간 동안 영화를 보는 대신에 아르바이트를 해서 5,000원을 벌었다. 찬호가 아르바이트를 하는 데 대한 기회비용은?

- ① 아르바이트로 번 5,000원이다.
 ② 영화를 보았다면 얻을 수 있었던 즐거움이다.
 ③ 영화를 보았다면 얻을 수 있었던 즐거움에서 5,000원을 뺀 값이다.
 ④ 5,000원에서 영화를 보았다면 얻을 수 있었던 즐거움을 뺀 값이다.
 ⑤ 영화를 보았다면 5,000원보다 더 작은 즐거움을 얻었을 것이므로 기회비용은 0이다.

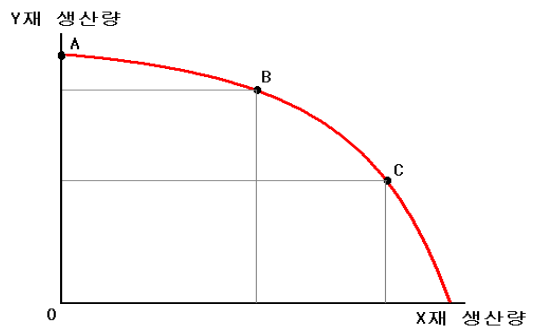
25. A국과 B국이 비교우위에 따라 무역을 하면서 미치는 영향 중 <보기>에서 옳은 것을 모두 고르면?

< 보 기 >

ㄱ. 외국 상품이 국내 시장을 왜곡한다.
 ㄴ. 다양한 상품을 저렴한 가격에 구매할 수 있다.
 ㄷ. 모든 산업의 근로자는 고용, 실업에서 영향을 받지 않는다.
 ㄹ. 국내 독점 산업의 진입장벽이 제거되면서 국내 소비자 잉여가 증가한다.

- ① ㄱ, ㄴ ② ㄱ, ㄷ ③ ㄴ, ㄷ ④ ㄴ, ㄹ ⑤ ㄷ, ㄹ

26. 다음은 생산가능곡선을 나타낸 것이다. 이에 대한 설명 중 옳은 것을 고르면?

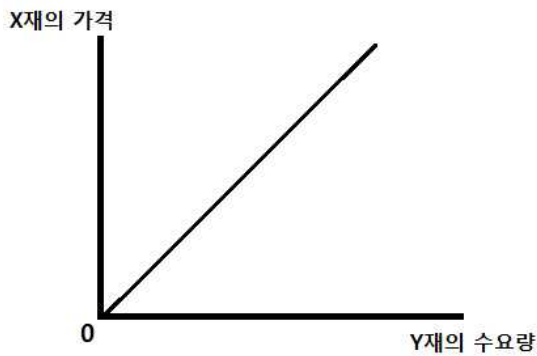


- ① 가격선 혹은 예산선이라고 한다.
 ② A점보다 B점의 생산이 더 효율적이다.
 ③ A점의 생산 비용이 B점과 C점보다 더 크다.
 ④ X재 1단위를 추가로 생산할 때마다 단위당 기회비용은 체증한다.
 ⑤ Y재 생산에 있어 기술진보가 이루어진다면, A점은 원점 방향으로 이동한다.

27. 항구적으로 시행된 확장적 재정정책의 장기효과로 옳은 것은?

- ① 실질이자율이 증가하고 고용이 증가한다.
- ② 가치분소득이 증가하고 고용이 증가한다.
- ③ 물가수준은 상승하고 산출량은 동일하게 유지된다.
- ④ 총수요 곡선이 오른쪽으로 이동하고 산출량이 증가한다.
- ⑤ 민간 및 정부 투자 규모가 증가하고 산출량이 증가한다.

28. X재의 가격과 Y재 수요량의 관계가 아래 그래프와 같을 때, 두 재화의 관계는?



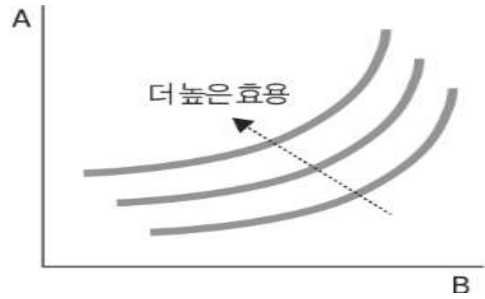
- ① 정상재 ② 열등재 ③ 대체재
- ④ 독립재 ⑤ 보완재

29. 다음 지문을 통해 미국에서 나타난 실업과 관련한 설명 중 옳지 않은 것은?

미국에서 최근 20년 중 가장 거센 ‘퇴사 바람’이 불고 있다고 월스트리트저널(WSJ)이 13일(현지시간) 보도했다. 코로나19 사태를 계기로 더 좋은 일자리를 찾아 직장을 떠나는 근로자가 늘어난 것이다. 경기 회복을 기대하며 신규 인력 채용에 나선 기업들은 구인난에 인력 이탈까지 겹쳐 이중고에 시달리고 있다는 분석이 나온다.

- ① 비자발적 실업의 종류 중 하나다.
- ② 실업급여의 확대는 이 실업을 증가시킬 수 있다.
- ③ 완전고용의 자연실업률에서도 이 실업은 항상 존재한다.
- ④ 탐색적 실업이라고도 한다.
- ⑤ 노동시장에서 일자리에 대한 정보가 완전하지 않기 때문에 이 실업이 발생한다.

30. 다음 그래프는 어떤 두 재화의 무차별곡선을 나타낸 그래프이다. 다음 보기 중 재화 A와 B에 해당하는 것을 순서대로 옳게 짝지은 것은?



	A	B
①	파란색 색연필	검정색 색연필
②	왼쪽 양말	오른쪽 양말
③	재활용 쓰레기	일반 쓰레기
④	간접 흡연	공장 오염물질
⑤	숲 속의 공기	자동차 매연

< 시사 경제·경영 >

31. 미국과 일본, 호주, 인도가 참여하고 있는 안보협의체로 중국의 세력 확장을 견제하기 위한 목적도 있는 이 협의체의 이름은 무엇인가?

- ① 핼피 ② 쿼드 ③ 님비 ④ 나토 ⑤ 나프타

32. 정부가 자동차에 부과되는 ‘이것’의 인하조치를 연말까지 연장하기로 했다. 고가 사치품, 자동차 등 특정 물품에 붙이는 이 세금은 무엇인가?

- ① 양도세 ② 최악세 ③ 취득세
- ④ 종합소득세 ⑤ 개별소비세

33. 다음 나열한 내용은 무엇을 설명하고 있는가?

- 국제 은행감독기구 바젤은행감독위원회가 제정
- 자기자본을 위험가중자산으로 나눈 값
- 은행의 건전성을 관리하기 위해 적용

- ① 유동외채비율 ② 자기자본이익률
- ③ 고정이하여신비율 ④ 이자보상배율
- ⑤ BIS자기자본비율

34. 아마존, 네이버 등의 사례처럼 정보기술(IT) 사업으로 출발한 기업이 주도하는 혁신적인 금융 서비스를 가리키는 말은?

- ① 테크핀 ② 마이스 ③ 프롭테크
④ 오픈소스 ⑤ 멀티유저

35. 기업의 보유 자산 중 현금, 수표, 통화대용증권, 보통예금, 만기 3개월 이내 단기금융상품 등은 '이것'에 속한다. 높은 환금성이 특징인 '이것'을 지칭하는 용어는?

- ① 투자자산 ② 채고자산 ③ 고정자산
④ 현금성자산 ⑤ 비유동자산

36. 최근 미국 연방수사국(FBI)이 해커가 취득한 '이것'을 회수하는 데 성공했다. 사토시 나카모토라는 익명의 개발자가 만든 암호화폐는 무엇인가?

- ① 알트코인 ② 도지코인 ③ 라이트코인
④ 블랙코인 ⑤ 비트코인

37. 다음 중 배당에 대한 설명으로 옳은 것은?

- ① 일반적으로 배당이 지급될 때 주가의 변동은 없다.
② 배당금액에 대한 결정은 회계연도 말에만 이루어진다.
③ 기업은 매기 주주들에게 배당을 지급할 의무가 있다.
④ 기업이 배당금을 지급하면 자본금이 배당금을 지급한 만큼 감소한다.
⑤ 배당은 현금으로 지급하는 것이 일반적이지만, 현물 배당이나 주식배당도 가능하다.

38. 다음 신문 기사를 읽고, A사가 시행하지 못한 경제용어는 무엇인가?

전자부품을 제조하는 A사 김모 사장은 최근 중국 산동성에 있는 공장을 한국으로 옮기려던 계획을 접었다. 그 대신 베트남을 선택했다. 그는 “충남 아산에 부지까지 마련했지만 최저임금 인상과 획일적인 주 52시간 근로제로 한국에선 이익을 내기 어렵다는 결론을 내렸다”고 말했다.
○○경제신문, 2021.6.18

- ① 홈쇼핑 ② 라이선싱 ③ 리쇼어링
④ 벤치마킹 ⑤ 리엔지니어링

39. 세금은 중앙정부가 거둬들이는 국세와 지방정부가 거둬들이는 지방세로 나뉜다. 다음 중 국세가 아닌 것은?

- ① 주세 ② 재산세 ③ 법인세 ④ 소득세 ⑤ 부가가치세

40. 시장 가격에 관계없이 특정 상품을 특정 시점, 특정 가격에 매도할 수 있는 권리를 뜻하는 용어는 무엇인가?

- ① 리스 ② 페이백 ③ 풋옵션
④ 바이아웃 ⑤ 커스터마이징

41. 주식회사에 대한 설명으로 옳지 않은 것은?

- ① 출자자(주주)는 유한책임을 진다.
② 소유와 경영의 분리가 특징이다.
③ 주주총회는 임원 보수의 결정, 대표이사의 선임, 정관의 변경 등의 권한을 갖는다.
④ 여러 사람으로부터 사업에 필요한 자금을 쉽게 조달할 수 있는 시장경제 체제의 대표적인 기업이다.
⑤ 주주는 통상 자신의 의사에 반하여 주주로서의 지위가 상실되지 않는다.

42. 다음 신문기사는 세계경제력센터(WCC)에서 발표한 국가경쟁력 순위에 관한 내용이다. 한국의 국가경쟁력을 높이기 위한 정책으로 알맞은 것은?

스위스 국제경영개발대학원(IMD) 산하 세계경제력센터(WCC)가 발간한 '2021년 IMD 국가경쟁력 연감'에서 한국이 경제협력개발기구(OECD) 회원국과 신흥국 등 64개국 중 23위를 차지해 지난해 순위를 그대로 유지했다고 17일 밝혔다. 1위는 스위스가 차지했다. 이어 스웨덴, 덴마크, 네덜란드, 싱가포르 순이었다. IMD 국가경쟁력 순위는 4대 분야, 20개 부문, 335개 세부항목 평가를 바탕으로 매긴다. 한국은 4대 분야 중 '경제성과'와 '기업 효율성'에서 작년보다 높은 순위를 기록했지만 '정부 효율성'과 '인프라'에서는 순위가 낮아졌다.
○○경제신문, 2021.6.18

- ① 무제한 채권 매입
② 법인세율 인상
③ 설비 투자에 대한 세액 공제 축소
④ 노후화된 사회간접자본 교체 및 수리 또는 신설
⑤ 연구·개발(R&D) 예산의 축소

43. 도로, 항만, 공항, 철도 등은 제품을 생산하는 데 직접 사용되지 않지만 없으면 생산 활동이 크게 제약을 받고, 국민생활에 없어서는 안 되는 시설을 일컫는다. 막대한 비용이 소요되어 정부 주도로 예산을 투입하여 건설된다. '사회간접자본'을 뜻하는 영어 약자는 무엇인가?

- ① WTO ② SOC ③ NFT ④ ESG ⑤ BTL

44. 최근 주요 7개국(G7) 재무장관들이 글로벌 '이것' 최저세율 15%에 합의했다고 한다. 세계 각국이 '이것' 출혈 경쟁에 종지부를 찍는 역사적 합의라는 평가도 나온다. 미국 바이든 행정부가 출범하면서 재무부 장관인 재닛 옐런이 강력하게 추진하여 이슈가 되었다. '이것' 최저세율을 국제적으로 합의하면 아일랜드와 같이 '이것'을 낮춰 기업을 유치하던 소국 개방경제 국가의 경제에도 크나큰 영향을 줄 것으로 보인다. '이것'은 무엇인가?

- ① 법인세 ② 토빈세 ③ 증권세
④ 부동산세 ⑤ 자본이득세

45. 다음 중 부채총액을 증가시키는 거래는?

- ① 전기에서 이월된 미지급금료를 지급하다.
② 차입금이자를 지급하다.
③ 유가증권을 매각하다.
④ 상품을 외상으로 매입하다.
⑤ 외상매입금 지급을 위해 약속어음을 발행하다.

46. 다음 중 현재가치와 미래가치에 대한 설명으로 옳지 않은 것은?(단, 이자율 $r > 0$ 이라고 가정한다)

- ① 연 이자율이 5%라면 현재 100만원의 1년 뒤 가치는 105만원이 된다. 반대로 1년 뒤 100만원의 현재가치는 연 이자율 5%를 적용할 경우 약 95만 2,380원이 된다.
② 화폐는 시간이 흐르면서 가치가 늘어난다는 화폐의 시간가치(Time value of money)를 따지는 개념이다.
③ 현재가치란 미래 일정 시점의 금액을 현재 시점의 가치로 환산하는데 환산은 이자율과 기간에 영향을 받는데 이자율이 높을수록 현재가치는 커지는 것이 일반적이다.
④ 미래 금액의 현재가치를 알면 동일한 금액을 미래에 받는 것보다 오늘 받는 것이 유리하다.
⑤ 저축에는 이자가 불기 때문에 오늘의 일정 금액은 미래의 같은 금액보다 가치가 크다.

47. 간접법에 의한 현금흐름표에서 영업활동 현금흐름을 계상함에 있어서 당기순이익에 가산할 항목에 해당하지 않는 것은?

- ① 감가상각비
② 사채상환손실
③ 재고자산의 감소
④ 유형자산처분손실
⑤ 자기주식처분손실

48. 적대적인 기업 인수·합병(M&A)을 방어하기 위한 수단에는 여러 가지가 있다. 다음은 무엇에 대한 설명인가?

- 부실기업에는 대주주들이 회사경영에 관계없이 개인적으로 만 주머니를 차는 수단으로 악용될 수 있다.
- 기존 경영진의 신분을 보장할 수 있도록 경영진이 임기 전에 퇴임하면 거액의 퇴직금을 받을 수 있도록 정관에 명시한다.

- ① 황금주 ② 그린메일 ③ 황금낙하산
④ 포이즌 필 ⑤ 곰의 포옹

49. 다음 지문을 읽고, (A)에 알맞은 단어를 보기에서 고르시오.

이른바 워라벨(Work-Life Balance)에 대한 관심이 높아지고 유연근무제를 활용하는 사업장이 늘어나고 있다. 특히, 여성의 사회참여가 늘어나면서 일과 가정생활의 균형과 조화를 통해 남성과 여성이 평등한 사회를 구현하고, 출산 및 육아의 부담으로 인한 우수 여성 인력의 이탈을 막아 고용주의 비용을 감소시키고자 사회 각계의 노력이 진행되고 있다. 이러한 시류에 발맞춰, 근로시간과 장소를 탄력적으로 선택하는 근로자, 즉 (A)가 주목받고 있는데, 이는 두 가지 색(빨강과 파랑)이 섞여서 조화를 이루듯 여성과 남성, 가정과 일의 균형을 이룬다는 의미를 내포한다.

- ① 화이트칼라 ② 퍼플칼라 ③ 골든칼라
④ 핑크칼라 ⑤ 블루칼라

50. 기업이나 국가의 회계기준에서 경제적 거래가 발생하는 시점에 거래를 기록하는 방식을 무엇이라 하는가?

- ① 현금주의 ② 발생주의 ③ 총액주의
- ④ 실현주의 ⑤ 권리의무 확정주의

51. ‘이것’은 기업이 일반 투자자들에게 재무 내용을 공시하고 주식을 공개하는 절차다. 증시 상장을 가리키는 ‘이것’을 영어약자로 표현하면?

- ① IPO ② EPS ③ EVA ④ SPAC ⑤ Pitch

52. 다음 신문 기사를 읽고, (A)에 들어갈 용어를 고르시오.

한국경제연구원은 2일 “OECD 국가의 최근 5년(2015~2019년) (A) 추이를 비교·분석한 결과 한국의 상승폭이 가장 컸다”고 발표했다. (A)은(는) 총조세와 4대 공적연금 및 고용보험 등 사회보장기여금을 더한 뒤 이를 명목 국내총생산(GDP)으로 나눈 수치다.
○○경제신문, 2021.6.3

- ① 조세부담률 ② 국민부담률 ③ 재정부담률
- ④ 사회보장부담률 ⑤ 금융비용부담률

53. 다음 신문 기사에서 나타난 현상을 설명할 수 있는 효과는?

명품업체가 국내에서 공격적인 가격 인상에서 나서는 중이다. 초고가 명품 브랜드인 ‘에루사’(에르메스·루이비통·샤넬)가 1~3월 가격을 인상하자 프라다·버버리·보테가베네타 등 브랜드가 1일 일제히 가격을 올렸다. (중략) 명품업체들이 가격을 올리는 이유는 ‘비쌀수록 잘 팔린다’는 역설에 있다. ‘갖기 어려울수록 더 갖고 싶은’ 심리를 이용한다. (중략) 코로나19 영향으로 작년 미국·유럽 등 세계 명품 시장은 15% 축소됐다. 이에 비해 아시아 시장은 7% 감소하는 데 그쳤다. 가격을 올려도 수요가 줄지 않아 가격을 인상할수록 이익이 늘어나는 구조다.
○○경제신문, 2021.6.1

- ① 넛지 효과 ② 래칭 효과 ③ 디드로 효과
- ④ 베블런 효과 ⑤ 워블던 효과

54. 다음 나열한 설명은 어떤 세대를 설명하고 있다. 이와 관련한 알파벳 용어로 알맞은 것은?

- 1980년대 초~1990년대 초 출생한 세대와 1990년대 중반부터 2000년대 초반 출생한 세대를 아우르는 말.
- 2021년 현재 10대 후반에서 30대의 청년층으로 휴대폰, 인터넷 등 디지털 환경에 친숙하다.
- 이들은 변화에 유연하고 새롭고 이색적인 것을 추구하며, 자신이 좋아하는 것에 쓰는 돈이나 시간을 아끼지 않는 특징이 있다.

- ① MZ세대 ② NZ세대 ③ MY세대
- ④ YZ세대 ⑤ XZ세대

55. 다음 신문 기사와 그림이 설명하고 있는 용어는 무엇인가?

고래 캐릭터 ‘웨일’ 교수가 가상 강의실을 누빈다. 오프라인 강의실에 앉아 있던 학생들이 가상현실(VR)글라스를 머리에 쓰고 컨트롤러를 손에 쥐자 가상 강의실이 금세 가득 찬다. 이곳에서 학생들은 현실세계에서는 눈에 보이지 않는 양전하를 직접 손으로 잡고 던지며 전자기학의 기본 법칙인 ‘쿨롱의 법칙’을 체득한다. 감각으로 익힌 지식은 가상 강의실 바깥에서도 생생하게 살아 있다.
○○경제신문, 2021.5.25



- ① P2P ② 로스켓 ③ 블록체인
- ④ 메타버스 ⑤ 클라우드

56. 상장사 주가에 영향을 줄 수 있는 언론 보도나 소문에 대한 확인 요구에 해당 기업이 직접 사실 여부를 답변하도록 한 제도는 무엇인가?

- ① 수요예측 ② 내부감사 ③ 외부감사
- ④ 적격심사 ⑤ 조회공시

57. 다음 신문기사를 읽고, 통화정책의 방향과 관련한 동물을 고르면?

이주열 한국은행 총재는 “통화정책 완화 정도의 조정 시기와 속도를 판단하는 것을 하반기 이후 역점을 두고 추진하겠다”고 11일 밝혔다. 이는 이 총재가 연내 기준금리 인상을 강력하게 시사한 것으로 받아들여지고 있다. (중략) 이주열 한은 총재는 11일 창립기념사에서 하반기 역점 사항을 설명하면서 “완화적 통화정책을 향후 적절한 시점부터 질서 있게 정상화해 나가겠다”고 말했다. 하반기에 인상하겠다는 뜻을 뚜렷하게 내비친 것이다.

○○경제신문, 2021.6.12

- ① 매 ② 곰 ③ 황소 ④ 사자 ⑤ 비둘기

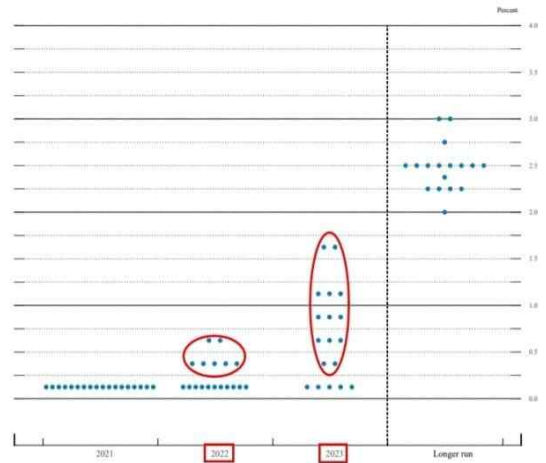
58. 다음 신문기사를 읽고, 이와 같은 현상이 심화될 경우 우려할 수 있는 상황으로 옳지 않은 것은?

‘황금의 땅’ ‘와인의 천국’으로 불리는 미국 캘리포니아 지역이 5월 이른 가뭄에 허덕이고 있다. 라니아 현상으로 비 소식이 끊기면서 58개 카운티 중 41곳에 비상사태가 선포됐다. 브라질 상파울루의 가뭄도 심각하다. 코로나19 유행 후 원자재 값이 급등하는 데다 농산물·채소 작황까지 악화하면서 인플레이션 압박이 더 커질 것이란 전망이 나온다.

○○경제신문, 2021.5.19

- ① 국내 장바구니 물가가 상승할 것이다.
- ② 농산물을 수입하여 제품을 만드는 기업은 생산비용이 상승할 것이다.
- ③ 애플플레이션의 우려가 커진다.
- ④ 총공급곡선이 우측으로 이동할 것이다.
- ⑤ 경기가 침체된 상태에서 이와 같은 상황이 지속 되면 경기 침체 속 물가가 상승하는 스태그플레이션이 발생할 가능성도 높다.

59. 미국에서는 통화정책을 결정하는 연방공개시장위원회(FOMC)에서 3·6·9·12월에 발표되는 ‘이것’을 통해 기준금리 인상 시점을 어느 정도 전망할 수 있다. ‘이것’은 Fed위원 18명이 향후 기준금리 인상 시점에 대한 의견을 표시한 것이다. 3개월마다 변하는 ‘이것’을 통해 향후 미국 통화정책의 방향성에 대한 신호를 읽을 수 있다. 보통 아래 그림과 같이 나타낸다. ‘이것’은 무엇인가?(아래 그림에서 가로축은 년도, 세로축은 기준금리다.)



- ① 점도표 ② 순환도 ③ 이동평균선
- ④ 파이로프로세싱 ⑤ 오피레이션 트위스트

60. 다음 (A), (B)의 상황이나 정책과 관련한 이론적 토대를 마련한 경제학자를 알맞게 짝지은 것은?

- (A) 1920년대 대공황을 극복하는 과정에서 ‘유효수요’ 부족이 원인이므로 정부의 재정지출을 늘려야 한다고 주장하였다. 「고용, 이자 및 화폐의 일반이론」이 주요 저서 중 하나다.
- (B) 1970년대 영국병을 극복한 영국 수상 대처는 「노예의 길」이라는 책을 통해 정책의 이론적 토대를 다졌다. 시장의 자율성을 중시하고 작은 정부를 지향하였다.

	A	B
①	존 메이너드 케인스	장 바티스트 세이
②	존 메이너드 케인스	프리드리히 하이에크
③	밀턴 프리드먼	프리드리히 하이에크
④	프리드리히 하이에크	존 메이너드 케인스
⑤	장 바티스트 세이	알프레드 마셜

< 상황 추론 · 판단 >

61. <보기>는 A국에 생산되는 모든 최종재의 수량과 가격이이다. 이 나라에 거주하는 철수의 2020년도 명목소득은 100원이다. GDP디플레이터를 이용하여 2019년도를 기준년도로 하는 2020년도 철수의 실질소득은 얼마인가?

< 보 기 >

종류	2019년		2020년	
	가격	산출량	가격	산출량
X	30원	30개	24원	50개
Y	50원	20개	60원	30개

- ① 100원 ② 110원 ③ 120원 ④ 130원 ⑤ 140원

62. 다른 변화는 없고 상품 A의 가격이 하락함에 따라 상품 B에 대한 수요량이 증가하였다고 한다. 다음 <보기> 중 이러한 상황을 옳게 설명한 것을 모두 고르면?

< 보 기 >

- ㄱ. A와 B는 보완관계에 있는 상품이다.
- ㄴ. A와 B는 독립관계에 있는 상품이다.
- ㄷ. A와 B의 교차탄력성은 1보다 크다.

- ① ㄱ ② ㄴ ③ ㄱ, ㄷ ④ ㄴ, ㄷ ⑤ ㄱ, ㄴ, ㄷ

63. 다음은 경제신문에 보도된 경제정책 관련 기사의 헤드라인이다. 정부가 추구하는 정책 방향을 <보기>에서 제대로 고른 것은?

정부는 R&D(연구개발) 투자액에 대해 최대 35%까지 세액 공제를 해주고 포이즌 필(poison pill) 제도를 도입하기로 했다. 또한 수도권 환경 규제 완화 대책으로 상수원 인근 지역 등 수질보전특별대책지역의 첨단업종 공장에 대해 신설과 증설을 허용하기로 하였다.

< 보 기 >

- ㄱ. 성장 잠재력의 증대
- ㄴ. 정부의 재정지출 확대
- ㄷ. 소득분배의 개선
- ㄹ. 기업의 적대적 인수합병(M&A) 방어

- ① ㄱ, ㄴ ② ㄱ, ㄹ ③ ㄴ, ㄷ ④ ㄴ, ㄹ ⑤ ㄷ, ㄹ

64. 밑줄 친 '대출'에 대한 설명이 옳지 않은 것은?

직장인 갑은 생활자금을 마련하기 위해 은행을 찾았다. 은행에서는 갑의 소득, 재직상태, 금융권 거래내용, 기존 대출 현황, 연체 이력, 카드 사용액 등을 고려한 후 심사가 완료되면 대출 여부를 알려주기로 했다.

- ① 신용 대출이라고 한다.
- ② 일반적으로 담보 대출보다 이자율이 높다.
- ③ 채무불이행 시 신용 등급이 낮아질 수 있다.
- ④ 은행의 입장에서는 담보 대출보다 안전하다.
- ⑤ 대출을 갚지 못해도 자산을 잃지는 않는다.

65. 다음은 신문사설의 내용 중 일부를 발췌한 것이다. 사설에서 말하고자 하는 내용과 관련된 설명 중 가장 옳은 것을 고르면?

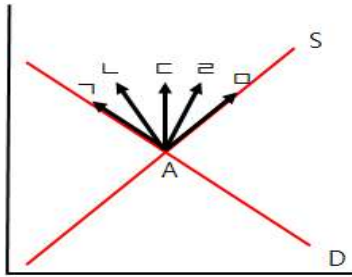
《왜 정부는 하는 일마다 실패하는가》라는 책에서 저자인 존 스토크는 정부와 정치인들의 약속에 속지 말라고 했다. 그들은 “할 수 있다”고 주장하지만 “결코 할 수 없다”고 단언했다. 정부 정책이 최선이라고 믿는 직관은 잘못된 것이고, 정부가 나서서 해결해야 한다는 생각부터 바뀌어야 한다고 말했다. 시장개입과 규제분능에 사로잡힌 정부의 존재 자체가 필연적으로 실패를 내재하고 있다는 분석이다. 한국처럼 5년 단임의 대통령제에서는 더욱 그렇다. 다시 정치의 계절이 돌아오고 있다. 벌써 수많은 공약이 남발되고 있다. 청년자금 1억 원, 청년기본대출·기본주택, 참여소득, 국민기본자산제 등...실현 가능성은 차치하더라도 믿거나 말거나 식의 공약들이다.

○○경제신문, 2021.5.14

- ① 통화량의 증가는 인플레이션을 초래한다.
- ② 넓은 세원, 낮은 세율이 조세의 기본원칙이다.
- ③ 소유권을 설정하여 자원의 효율적 배분을 실현할 수 있다.
- ④ 정부지출은 승수 효과를 발생시켜 경기 부양에 유리하다.
- ⑤ 정부정책을 집행하는 관료가 진정으로 국민을 위하는 방향으로 정책을 집행한다는 보장이 없다.

66. 다음 글을 통해 추론할 수 있는 바닷가재 시장의 균형 변화를 그림에서 옳게 나타낸 것은?(A는 과거 균형점)
(가로축은 바닷가재 거래량, 세로축은 바닷가재 가격)

과거 바닷가재는 식용으로 큰 인기가 없어서 폐지 사료로 쓰기도 했다. 그러나 19세기 말에 바닷가재 통조림이 불티나게 팔리면서 사정이 달라졌다. 동시에 바닷가재 어획량이 감소하고 가격이 치솟았다. 바닷가재에 대한 선호가 달라졌지만 정작 바닷가재를 먹을 수 있는 사람은 감소했다.



- ① ㄱ ② ㄴ ③ ㄷ ④ ㄹ ⑤ ㅁ

67. 아래 글을 통해 추론할 수 없는 것은 무엇인가?

무역 선박이 항해에서 무사히 돌아오면 선박 투자자는 큰 이익을 봤다. 반면에 무역 선박이 되 돌아오지 못하면 그 투자자는 커다란 손실을 입었다. 투자자들은 이런 손실을 어떻게 피할 수 있을까를 고민했다. 당시 암스테르담에 투자자들이 모여 자금을 공동 출자해 선박을 마련했다. 선박이 무사히 돌아오면 물건을 팔아 이익을 분배했다. 선박이 돌아오지 못한 경우엔 위험을 감소시켰다. 1602년 네덜란드 회사가 오늘날 기업 형태로 등장했다. 투자자들은 이익을 재투자했고, 이익을 회수하려는 투자자는 주식을 팔았다. 주식은 시장에서 거래되기 시작했다. 주식 매매를 중개하는 사람도 생겼다.

- ① 주식회사가 탄생한 배경을 알 수 있지.
② 1602년 생긴 회사가 바로 네덜란드 동인도 회사야.
③ 서로 잘 아는 사람들끼리만 주식회사를 설립해야 한다는 점이 잘 드러나 있어.
④ 누군가의 설계가 아니라, 사람들의 행동 결과로 제도가 생긴다는 점을 알 수 있어.
⑤ 이 당시 생긴 ‘내 선박이 돌아오면(when my ship comes in)’은 운이 좋은 결과를 의미할 때 쓰지.

68. 아래 지문을 읽고, 이와 관련한 <보기>의 설명 중 옳은 것을 고르면?

갑, 을, 병 세 사람만 살고 있는 사회가 있다. 정부가 공공재를 공급하는 비용은 120만 원이다. 공공재가 공급될 경우 갑은 80만 원, 을은 35만 원, 병은 25만 원의 편익을 얻는다. 정부는 세 사람에게서 동일한 세금을 걷어 공공재를 공급할지 여부를 결정하기 위한 투표를 실시할 예정이다.

- < 보 기 >
ㄱ. 을은 공공재 공급에 찬성한다.
ㄴ. 다수결 투표로 인해 자원이 비효율적으로 배분된다.
ㄷ. 공공재가 공급될 경우 사회는 20만 원의 순편익을 얻는다.
ㄹ. 공공재에서 순편익이 생기므로 투표 결과 공공재가 공급된다.

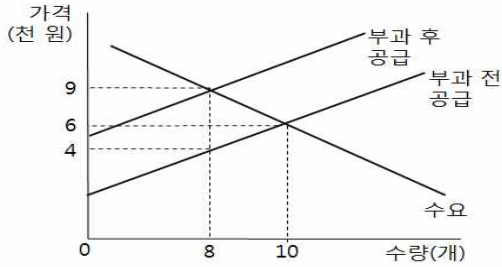
- ① ㄱ, ㄴ ② ㄱ, ㄷ ③ ㄴ, ㄷ ④ ㄴ, ㄹ ⑤ ㄷ, ㄹ

69. 다음 신문기사를 읽고, ㉠과 ㉡에 대한 설명으로 옳지 않은 것은?

6일 ○○○ 국회의원이 정부의 가계동향조사 개편 전후의 소득 ㉠지니계수를 분석한 결과 2019년 지니계수가 0.325에서 0.300으로 하락했다. 통계 개편 전후의 가계동향조사 원자료를 통해 통계청장 출신인 이 의원이 직접 계산한 것이다. (중략) 또 다른 분배지표인 ㉡분위 배율은 통계 개편 전 6.04배에서 개편 후 5.57배로 하락했다.
○○경제신문, 2021.6.7

- ① 로렌즈 곡선으로도 ㉠을 측정할 수 있다.
② ㉠을 개선하기 위해서 정부는 복지제도를 시행하고 있다.
③ ㉡은 상위 20%의 소득을 하위 20%의 소득으로 나눠 도출한다.
④ ㉡에서는 중간 소득층은 고려되지 않는 경향이 있다.
⑤ ㉠, ㉡ 모두 값이 상승할수록 불평등이 개선된 것으로 본다.

70. 정부가 어떤 재화 1개당 정액의 세금을 부과한 경우의 영향을 분석하기 위한 그림이다. 소비자가 부담하는 세금 총액은?



- ① 2천 원 ② 3천 원 ③ 1만 5천 원
- ④ 2만 원 ⑤ 2만 4천 원

71. 다음 세 가지 복권의 가격이 모두 1,000원일 때 이와 관련한 설명 중 옳지 않은 것은 무엇인가?

- 일할복권 : 10%의 확률로 1만원을 받는다.
- 절반복권 : 50%의 확률로 2,000원을 받는다.
- 강도복권 : 2,000원을 받고 50%의 확률로 빼앗긴다.

- ① 위험을 선호하는 사람은 강도복권을 절반복권보다 선호한다.
- ② 위험에 대해 중립적인 사람은 일할복권과 절반복권이 무차별하다.
- ③ 위험을 기피하는 사람은 절반복권을 사지 않을 것이다.
- ④ 위험을 선호하는 사람은 어느 복권이든 살 것이다.
- ⑤ 위험을 기피하는 사람은 강도복권을 사지 않을 것이다.

72. 다른 상황에 대한 변동이 없을 때, 미국 연방준비제도(Fed)의 점진적인 금리 인상에 따라 중국의 위안화 환율이 달러 당 5위안에서 6위안으로 변동하였다고 하자. 이 같은 변동으로 인한 결과로 옳은 것을 <보기>에서 고르시오.

- < 보 기 >
- ㄱ. 미국의 수입 물가가 하락할 것이다.
 - ㄴ. 중국 상품의 대(對) 미국 수출이 증가할 것이다.
 - ㄷ. 미국의 중국 상품에 대한 수입이 감소할 것이다.
 - ㄹ. 중국의 대(對) 미국 무역수지 흑자가 장기적으로 감소할 것이다.

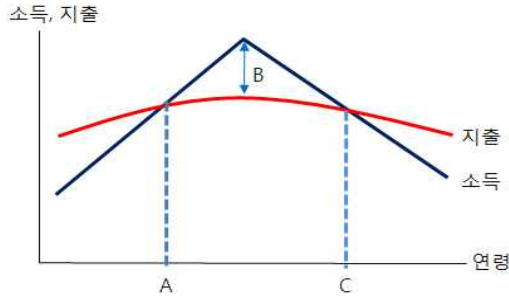
- ① ㄱ, ㄴ ② ㄱ, ㄷ ③ ㄴ, ㄷ ④ ㄴ, ㄹ ⑤ ㄷ, ㄹ

73. 다음은 기업의 이윤에 대한 영희와 철수의 주장이다. 각 주장들로부터 유추할 수 없는 것을 고르시오?

- 영희 : 대기업들의 이익 추구가 과도해. 휘발유 가격도 그렇고 아파트 분양가도 마찬가지야. 하도급 업체들의 납품단가도 후려치고 있다고 생각해. 기업들은 적정 이윤만 받아야 해. 폭리를 취하는 것은 상도외에 어긋나. 원가에 적정이윤을 더한 공정 가격이 경제적 정의에 부합한다고 할 수 있어.
- 철수 : 기업의 이익에 대해 과도하다거나 과소하다고 말할 수 없어. 기업은 원가와 판매가의 차액을 극대화하는 것을 목표로 하는 조직이지. 적정가격이라는 논리는 기업 활동을 부정하는 명분에 불과해. 명품일수록 더욱 그렇지 않나. 이는 결국 정부가 가격 구조에 개입하는 결과를 낳을 수 있어.

- ① 영희는 사회적 기구가 공정 가격을 정확히 계산할 수 있다고 본다.
- ② 철수는 기업의 무형적 가치 창출에 주목한다.
- ③ 영희의 입장에서 법인세 인하, 투자에 대한 세액 공제 인하를 주장할 가능성이 높다.
- ④ 철수는 시장이 가격을 결정한다고 본다.
- ⑤ 철수는 정부의 농산물 가격지지 정책을 반대할 것이다.

74. 다음 그림에 대한 설명으로 옳지 않은 것은?



- ① 생애 주기에 따른 소득과 지출을 보여준다.
- ② A 연령에서는 소득과 지출이 같다.
- ③ B의 크기가 클수록 C시기 이후의 생활수준이 달라진다.
- ④ C시기에는 소득이 0이기 때문에 B만을 활용해야 한다.
- ⑤ 연령에 따라 소득과 지출의 차가 변화하기 때문에 이에 따른 재무 설계가 필요하다.

75. 다음 글에 나오는 지대와 관련한 설명 중 옳지 않은 것은?

산업혁명이 한창이던 19세기 영국에서 증기 자동차가 나왔다. 영국 의회는 1865년 ‘적기조례법 (Red Flag Act)’이라는 법을 제정하였다. 자동차가 마차보다 느리게 다니도록 한 규제 법률이었다. 마차 사업자의 이익을 보호한다는 착한(?) 명분이 작용했다. 요즘 자동차에 비해 성능이 형편없지만, 당시만 해도 증기자동차는 ‘꿈의 속도’로 달릴 수 있었다. 시속 30마일, 즉 시속 48km였다. 이런 적기조례법에 대해 제임스 뷰캐넌은 개인뿐만 아니라 집단도 자신들의 이익을 추구한다고 했다. 이를 ‘지대추구’라고 한다.

- ① 지대는 기회비용을 초과해 얻는 부분이다.
- ② 지대추구행위는 정부 실패의 요인은 아니다.
- ③ 지대추구행위는 항상 사회적 후생손실을 발생시킨다.
- ④ 한강이 보이는 아파트의 값이 비싼 이유는 지대 때문이다.
- ⑤ 이익집단들이 정책 결정에 영향력을 행사하려는 것도 지대추구행위다.

76. 다음 지문을 읽고, (A), (B)에 대한 용어를 유추하고, 이와 관련한 설명 중 옳지 않은 것을 고르시오.

글로벌 해운선사들이 대대적인 선박 발주에 나서고 있다. 화물대란에 따른 운임 급등을 계기로 본격적인 ‘덩치 키우기’ 경쟁에 들어갔다. 2010년대 초반 해운업계를 강타한 가격이 폭락하는 상황에서도 출혈경쟁을 하는 ‘(A)’가 또다시 촉발될 것이라는 관측이 나온다. 국내 유일한 원양선사인 HMM(옛 현대상선)이 생산 요소의 투입량을 증가시키므로써 이익이 증가되는 ‘(B)’ 경쟁에서 뒤처지면서 글로벌 해운업계 ‘톱10’에서 탈락할 수 있다는 우려가 나온다.

- ① (A)는 치킨계임이다.
- ② 선두기업이 (B)를 바탕으로 (A)를 시작하면서 시장 점유율을 확대하기도 한다.
- ③ (A)의 사례로는 삼성의 메모리 반도체 점유율 확대 과정이 대표적이다.
- ④ (B)가 실현되면 분업에 따른 생산성 향상, 거래규모 증가에 따른 비용절감 등을 얻을 수 있다.
- ⑤ (B)는 범위의 경제다.

77. 다음 그림은 원화를 사용하는 ‘매크로랜드’의 2019년 1월부터 4월까지의 달러화 대비 환율의 추이를 보여주고 있다. 3월초 이후의 환율 추이가 지속될 것으로 가정될 경우 예상되는 것으로 옳지 않은 것은?

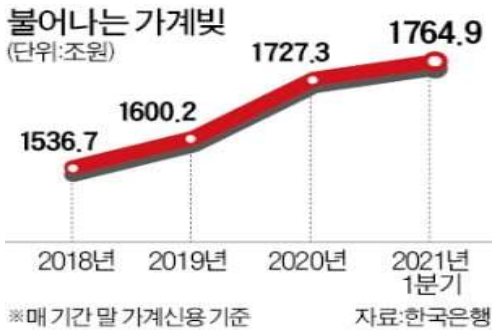


- ① 달러표시 외채의 채무부담이 증가할 것이다.
- ② 달러화에 대한 매크로랜드의 화폐가치가 하락할 것이다.
- ③ 매크로랜드의 미국산 수입 농산물의 가격은 상승할 것이다.
- ④ 미국여행 시기를 앞당기는 것이 유리할 것이다.
- ⑤ 매크로랜드 기업의 대미 수출품 가격경쟁력이 약화될 것이다.

78. 다음 신문기사, 그래프와 같은 추세가 지속된다고 가정하자. 이에 따른 경제적 변화나 영향에 대한 추론으로 옳지 않은 것은?

한은은 이 같은 내용을 담은 “2021년 6월 통화신용정책보고서”를 10일 발표했다. 한은은 보고서에서 “주택가격 오름세와 맞물려 가계부채가 빠르게 늘었다”며 “명목 국내총생산(GDP) 대비 가계부채 비율은 지난해 말 103.8%로 경제협력개발기구(OECD) 회원국 37개국 중 여섯 번째로 높았다”고 진단했다. 그러면서 “가계부채가 적정 수준을 웃돌면 차입금 상환 부담이 커져 가계 씬씀이를 옥죄 수 있다”고 평가했다. 국제결제은행(BIS)은 명목 GDP 대비 가계부채 비율이 80%를 넘으면 경제성장률과 민간소비에 부정적 영향을 줄 수 있다고 분석했다.

○○경제신문, 2021.6.11



- ① 소비 지출의 위축 요인이 될 수 있다.
- ② 기준금리가 인상되면 가계의 채무부담이 증가할 것이다.
- ③ 가계 빚으로 인한 소비 위축은 기업 경영 실적에 부정적인 영향을 미칠 것이다.
- ④ 가계부채 비율의 상승으로 디플레이션이 발생할 가능성도 높다.
- ⑤ 이러한 추세가 지속된다고 가정한다면, CSI지수는 상승할 것이다.

79. 다음은 한국의 2020년 11월 국제수지에 대한 글이다. 이에 대한 설명으로 <보기>에서 옳은 것을 모두 고르면?

한국은행이 발표한 국제수지 잠정 통계에 따르면 2020년 11월 경상수지는 89억7000만 달러(약 9조 7952억 원) 흑자로 집계됐다. 다만 외국인이 한국에서 벌어들인 배당금 등이 빠져나가며 지난 9~10월 100억 달러를 넘어섰던 흑자 흐름은 끊겼다. 이는 11월 배당소득 지급(4억9000만 달러 적자 전환)이 급증한 데서 기인한 것으로 분석됐다.

- < 보 기 >
- ㄱ. 본원소득수지 전체는 적자였다.
 - ㄴ. 경상수지 흑자폭이 전월 대비 감소했다.
 - ㄷ. 서비스수지 적자폭이 전월 대비 증가했다.
 - ㄹ. 본원소득수지의 감소로 경상수지가 감소하였다.

- ① ㄱ, ㄴ ② ㄱ, ㄷ ③ ㄴ, ㄷ ④ ㄴ, ㄹ ⑤ ㄷ, ㄹ

80. 다음 글은 벤저민 프리드먼의 「경제성장의 미래」에서 내용을 일부 발췌한 것이다. 필자의 주장과 가장 거리가 먼 것은?

경제성장을 논하는 과정에서 도덕적으로 부정적인 요소와 물질적으로 긍정적인 요소를 평가하려는 경향은 잘못된 시도이다. 경제가 성장하면 물질적으로는 풍요롭게 되지만 도덕적으로는 타락하게 된다는 주장은 역사적 사실과도 배치된다. 미국 영국 프랑스 독일 등 서구 민주주의 국가의 역사를 살펴보면 경제의 장기침체로 인해 더 나은 미래에 대한 확신이 줄어들면 사회의 개방성과 관대함이 퇴색하고 민주적 정치제도도 취약해진 사례를 충분히 찾아 볼 수 있다.

- ① 창고가 차야 예절을 알게 된다.
- ② 항산(恒産)이 없으면 항심(恒心)도 없다.
- ③ 생활수준의 향상은 다양성에 대한 포용력을 키운다.
- ④ 국내총생산(GDP)이 높은 국가일수록 배려와 관용의 사회 분위기를 갖는다.
- ⑤ 소득 불평등이 커지면 민간부문의 활력을 높이기 보다는 현금 지급을 통한 재분배를 시행해야 한다.

<끝, 수고 하셨습니다.>

TESAT 6회 모의고사 정답 및 배점

문제	정답	배점	난이도	문제	정답	배점	난이도
1	1	3	하	41	3	3	하
2	4	3	하	42	4	4	하
3	4	3	하	43	2	3	하
4	3	4	하	44	1	4	하
5	5	4	하	45	4	3	상
6	2	3	하	46	3	4	중
7	3	3	하	47	5	4	최상
8	3	4	하	48	3	3	하
9	1	4	하	49	2	3	하
10	2	3	하	50	2	3	하
11	4	4	하	51	1	3	하
12	2	3	하	52	2	4	하
13	1	3	하	53	4	3	하
14	4	3	하	54	1	3	하
15	3	4	중	55	4	3	하
16	2	3	중	56	5	3	하
17	1	3	하	57	1	3	하
18	3	3	하	58	4	4	하
19	4	3	하	59	1	4	하
20	3	3	하	60	2	4	하
21	2	3	하	61	1	5	하
22	1	4	하	62	1	5	하
23	5	3	하	63	2	5	하
24	2	3	하	64	4	5	하
25	4	3	하	65	5	5	하
26	4	4	하	66	2	5	하
27	3	3	하	67	3	5	하
28	3	3	하	68	3	5	하
29	1	4	하	69	5	5	하
30	5	4	중	70	5	5	상
31	2	3	하	71	1	5	중
32	5	3	하	72	1	5	하
33	5	4	하	73	3	5	하
34	1	3	하	74	4	5	하
35	4	3	하	75	2	5	하
36	5	3	하	76	5	5	하
37	5	4	하	77	5	5	하
38	3	3	하	78	5	5	하
39	2	3	하	79	4	5	중
40	3	3	하	80	5	5	하

7회 모의고사 문제지

- 문제지 앞표지에 성명과 수험번호를 적었는지 확인하십시오.
- 경제이론과 시사경제·경영은 문항당 3점, 4점이고 상황추론·판단은 문항당 5점입니다.
- 시험시간은 100분입니다.

< 경제이론 >

1. 시장을 설명한 것 중 가장 옳지 않은 것은?

- ① 시장은 사회적 분업을 더욱 촉진시켰다.
- ② 시장은 자본주의 이전부터 존재해 왔다.
- ③ 기계의 등장으로 시장은 더욱 발전하게 되었다.
- ④ 시장은 빈부격차를 해소하여 공평한 소득분배가 가능하다.
- ⑤ 산업혁명 이후로 시장은 더욱 폭발적으로 증가하게 되었다.

2. 다음 중 재정정책의 효과를 크게 만드는 경우를 <보기>에서 모두 고르시오.

- < 보 기 >
- ㄱ. 한계소비성향이 크다.
 - ㄴ. 이자율의 변화가 작다.
 - ㄷ. 투자가 이자율에 영향을 많이 받는다.
 - ㄹ. 수입이 GDP에 비해 매우 크다.

- ① ㄱ, ㄴ ② ㄱ, ㄷ ③ ㄴ, ㄷ ④ ㄴ, ㄹ ⑤ ㄷ, ㄹ

3. 다음 중 본원통화가 증가하는 경우를 고르시오.

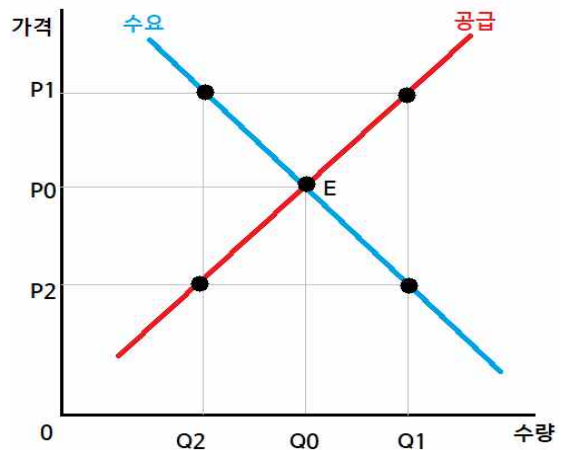
- ① 정부가 조세를 증가시킴
- ② 정부가 정부지출을 증가시킴
- ③ 정부가 한국은행에 예치한 예금을 인출
- ④ 한국은행이 외환시장에 개입하여 달러를 매각
- ⑤ 한국은행이 보유 국채를 공개시장에서 매각

4. 다음 지문을 읽고, 유추할 수 있는 용어로 알맞은 것을 고르면?

A국 중앙은행이 발표한 '8월 국제수지(잠정)'에 따르면 경상수지는 36억달러 흑자를 나타냈다. 흑자폭은 7월의 28억달러보다 커졌다. 하지만 내용을 보면 수출이 큰 폭으로 줄어든 가운데 경기 침체와 투자 위축 등으로 수입이 수출보다 더 크게 감소하는 양상이 뚜렷했다.

- ① 트리핀의 딜레마 ② 쌍둥이 흑자 ③ 저축의 역설
- ④ 불황형 흑자 ⑤ 낙수효과

5. 그림은 갑국의 X재 시장을 나타낸다. 이에 대한 설명으로 옳은 것은?(단, 현재 시장 균형가격은 P0이고, 시장 균형 거래량은 Q0이다.)



- ① 갑국이 P1 수준에서 최고 가격제를 시행하면 X재 시장 거래량은 Q2이다.
- ② 갑국이 P1 수준에서 최저 가격제를 시행하면 X재 시장 거래량은 Q1이다.
- ③ 갑국이 P2 수준에서 최고 가격제를 시행하면 X재 시장 거래량은 Q1이다.
- ④ 갑국이 P2 수준에서 최저 가격제를 시행하면 X재 시장 거래량은 Q0이다.
- ⑤ 갑국이 P2 수준에서 최저 가격제를 시행하면 X재 시장 가격은 P2이다.

6. 국내총생산(GDP) 값이 양(+의) 값을 가질 때 이와 관련한 설명으로 옳지 않은 것은? (단, GDP값은 '실제GDP - 잠재GDP'로 정의한다.)

- ① 경기가 과열된 상태이다.
- ② 실업률이 자연실업률보다 낮다.
- ③ 실제GDP가 잠재GDP보다 많다.
- ④ 구조적 실업자 역시 고용 상태에 있을 가능성이 높다.
- ⑤ 경제 상태는 생산가능곡선 내부에 위치할 가능성이 높다.

7. 다음 중 기회비용을 가장 바르게 설명한 것은?

- ① 구매를 결정할 때 쓰는 시간
- ② 구매할 때 쓰는 돈의 총액
- ③ 구매하고 남은 돈의 총액
- ④ 기회를 잡기 위해 지출한 돈의 총액
- ⑤ 무엇인가를 얻기 위해 포기한 편익

8. 커피와 설탕이 완전보완재인 갑국이 있다. 이 나라는 커피는 전량 수입하고, 설탕은 전량 국내에서 생산한다. 자유무역을 하던 이 나라가 갑자기 정책을 바꾸어 모든 수입품에 대하여 10% 관세를 부과하기로 결정하였다. 이러한 결정이 갑국의 커피시장과 설탕시장에 미치는 효과는?

- ① 설탕의 거래량과 가격은 하락하게 된다.
- ② 설탕의 수요곡선은 오른쪽으로 이동한다.
- ③ 커피의 거래량과 가격은 상승하게 된다.
- ④ 커피의 공급곡선은 오른쪽으로 이동한다.
- ⑤ 커피의 수입량과 거래량은 증가하게 된다.

9. 경제성장 정책과 가장 거리가 먼 것은?

- ① 기술진보를 위하여 민간부문의 연구개발 활동을 장려하는 정책을 시행한다.
- ② 안정적인 경제활동을 위하여 재산권에 대한 위협 요소를 낮추는 정책을 실시한다.
- ③ 외국인 투자자본의 투자 이익은 국외로 유출되므로 해외자본의 유입을 제한하는 정책을 시행한다.
- ④ 다른 조건이 같다면 건강한 근로자들이 생산성이 높기 때문에 국민건강증진을 위한 정책을 시행한다.
- ⑤ 교육은 인적자본에 대한 투자이기 때문에 수요자가 요구하는 교육 제도와 체계를 만든다.

10. 소비자잉여에 대한 다음 설명 중 옳지 않은 것은?

- ① 소비자잉여란 구입자의 지불용의에서 구입자가 실제로 지불한 금액을 뺀 나머지 금액을 말한다.
- ② 소비자잉여는 소비자가 시장에 참여하여 얻는 이득을 나타낸다.
- ③ 소비자잉여를 극대화하는 자원배분을 효율적이라고 한다.
- ④ 소비자잉여는 수요곡선의 아래와 가격 수준 윗부분의 면적으로 계산할 수 있다.
- ⑤ 완전경쟁시장에서 수요와 공급이 균형 상태를 이루면 소비자잉여와 생산자잉여의 합이 극대화된다.

11. 기업이 생산한 상품에 정부가 조세(물품세)를 부과할 경우, 이에 대한 설명 중 옳지 않은 것은?

- ① 판매가격이 높아지고 거래량은 줄어든다.
- ② 탄력성이 작을수록 후생 손실이 크다.
- ③ 공급곡선이 세금 부과분만큼 위쪽으로 이동한다.
- ④ 탄력성이 클수록 세금 부담이 적다.
- ⑤ 생산자와 소비자 간 세금 부담의 크기는 탄력성에 따라 달라진다.

12. 중앙은행이 팽창적인 통화정책을 시행할 때, 통화정책의 전달경로로 옳은 것은?

- ① 화폐공급증가 → 이자율하락 → 투자감소 → 총수요증가 → 국민소득증가
- ② 화폐공급증가 → 이자율하락 → 투자증가 → 총수요증가 → 국민소득증가
- ③ 화폐공급증가 → 이자율상승 → 투자감소 → 총수요감소 → 국민소득감소
- ④ 화폐공급증가 → 이자율상승 → 투자감소 → 총수요증가 → 국민소득감소
- ⑤ 화폐공급증가 → 이자율하락 → 투자증가 → 총수요감소 → 국민소득감소

13. 다국적 기업들이 가상의 국가 A에 투자를 크게 늘리는 추세라고 하자. 아래 보기 중 반드시 성립한다고 볼 수 없는 것은?

- ① A국가의 순해외투자는 음(-)의 값을 갖는다.
- ② A국가의 경상수지는 적자이다.
- ③ A국가의 자본수지는 흑자이다.
- ④ A국가의 정부재정은 적자이다.
- ⑤ A국가의 국내총투자가 국내총저축을 초과한다.

14. 기업의 생산기술이 규모에 대한 수익 불변인 경우, 이에 대한 설명 중 옳은 것을 고르면?

- ① 이 기업의 생산기술은 규모의 경제가 작용한다.
- ② 고정요소의 투입을 두 배 늘리면 산출량이 두 배 늘어난다.
- ③ 고정요소의 투입을 두 배 늘리면 산출량이 두 배 이상 늘어난다.
- ④ 모든 생산요소의 투입을 두 배 늘려도 산출량은 변하지 않는다.
- ⑤ 모든 생산요소의 투입을 두 배 늘리면 산출량이 두 배 늘어난다.

15. 다음은 거시경제학에서 일반적으로 사용하고 있는 개념들이다. 이 중 옳게 설명한 것은?

- ① 국민소득에서 총(gross)개념과 순(net)개념의 차이는 재고증감에 있다.
- ② 경제학에서 완전고용은 마찰적 실업과 구조적 실업이 없는 상태이다.
- ③ 인플레이션은 화폐의 가치를 떨어뜨리므로 실물 자산 보유자에게 손해를 끼친다.
- ④ 우리나라 거시 경제정책의 목표는 금융안정 우선이다.
- ⑤ 재정수지는 유량(flow)개념, 가계부채는 저장(stock) 개념의 용어이다.

16. 기업에 대한 설명 중 옳지 않은 것은?

- ① 기업은 이윤을 극대화하려 한다.
- ② 기업의 손실은 소비자의 요구를 충족시키지 못한 결과로도 볼 수 있다.
- ③ 기업은 소비자를 만족시키는 양질의 재화를 공급해야 이윤을 얻을 수 있다.
- ④ 기업의 규모는 시장거래의 한계비용과 내부거래의 한계비용이 같아질 때까지 커질 수 있다.
- ⑤ 기업은 재화 생산에 필요한 모든 시장거래를 기업 내에 내부화하는 것이 효율성을 극대화한다.

17. 다음 중 실물 투자에 가장 좋지 않은 명목이자율과 인플레이션율의 조합을 고르면?

(단위 : %)

	명목이자율	인플레이션율
①	1	0
②	0	3
③	2	4
④	3	5
⑤	1	2

18. 수요와 공급의 법칙이 성립하는 시장에서의 균형에 대한 설명으로 옳지 않은 것은 무엇인가?

- ① 시장에서 균형이 달성되면 자원 배분의 효율성이 충족된다.
- ② 초과공급이 존재하면 가격이 상승하면서 시장은 균형 상태로 수렴하게 된다.
- ③ 다른 조건이 일정할 때 수요가 증가하면 균형가격과 균형거래량이 모두 증가한다.
- ④ 수요와 공급이 증가하게 되면 균형거래량은 반드시 증가한다.
- ⑤ 시장이 균형 상태에 도달하면 수요량과 공급량이 언제나 일치한다.

19. 다음은 A상품의 40년 동안의 가격과 소비자 물가지수(CPI)이다. 2018년 물가로 측정한다면 2008년도에 A 상품의 가치는?

년도	가격	소비자물가지수 (CPI)
1978	4	24
1988	6	28
1998	13	34
2008	28	60
2018	60	120

- ① 22원 ② 25원 ③ 45원 ④ 56원 ⑤ 65원

20. 다음 자료에 대한 설명으로 옳은 것은?(단, A와 B는 각각 시장 경제 체제와 계획 경제 체제 중 하나이다.)

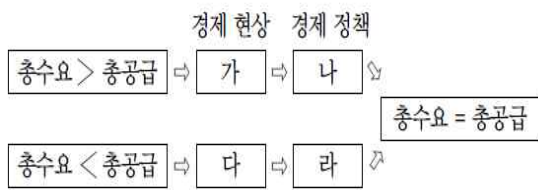
경제 체제는 자원의 배분 방식에 따라 A와 B로 구분할 수 있다. B와 달리 A는 정부의 명령과 통제에 의해 자원 배분이 이루어진다.

- ① A에서는 희소성에 의한 경제 문제가 발생하지 않는다.
- ② A는 '보이지 않는 손'에 의한 자원 배분을 중시한다.
- ③ B는 원칙적으로 생산 수단의 사적 소유를 인정하지 않는다.
- ④ B는 A보다 시장에서의 경제적 유인을 강조한다.
- ⑤ A와 B 모두 경제 문제의 해결 기준으로 효율성보다 형평성을 중시한다.

21. 시장경제 측면에서 ‘공유지의 비극’을 해소하기 위한 방안으로 가장 적절한 것은?

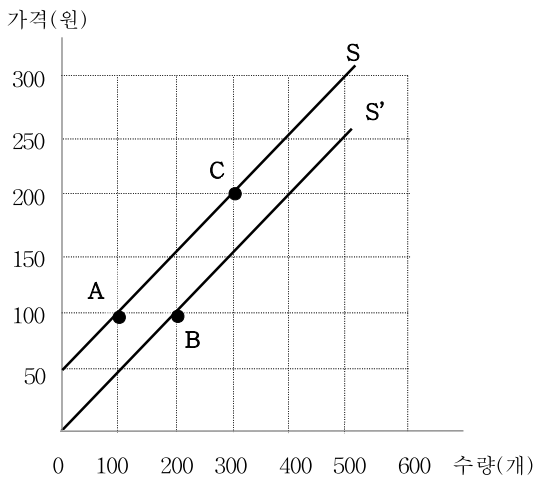
- ① 재산권 부여
- ② 정부 행정력 동원
- ③ 자원 균등 분배
- ④ 가격차별 시행
- ⑤ 토빈세 확대

22. 다음은 총수요와 총공급이 일치하지 않을 때 나타나는 경제 현상과 이에 대응하는 경제 정책을 도식화한 것이다. (가)~(라)에 들어갈 내용으로 옳지 않은 것은?



- ① (가) - 재고 증가 ② (가) - 물가 상승
- ③ (나) - 세율 인상 ④ (다) - 실업률 상승
- ⑤ (라) - 기준금리 인하

23. 아래 그림과 같이 두 개의 공급곡선 S와 S'상의 세 개의 점을 각각 A, B, C점이라 하고, A, B, C점에서의 공급의 가격탄력성을 각각 E_A , E_B , E_C 라 하자. 이에 대한 설명으로 다음 보기 중 옳은 것을 고르면?



- ① E_A 는 1이다. ② $E_A < E_B$ 이다.
- ③ E_C 는 1보다 크다. ④ $E_B > E_C$ 이다.
- ⑤ E_B 는 1보다 작다.

24. 거시경제에서 투자와 관련한 설명 중 옳지 않은 것은?

- ① 이자 소득에 대한 세율을 낮추면 장기적으로 투자가 증가한다.
- ② 중앙은행이 국채를 매각하면 투자가 크게 증가한다.
- ③ 한계소비성향이 작다면 독립투자의 증가로 인한 총수요 증대 효과는 작아진다.
- ④ 투자의 이자율 탄력성이 크다면 정부 지출로 인한 승수효과는 감소한다.
- ⑤ 자연실업률에 도달한 상황에서 정부의 재정적자는 투자를 줄여들게 만든다.

25. 다음 <보기> 중 국내총생산이 증가하는 경우를 모두 고르면?

< 보 기 >

ㄱ. 주택 임대료 상승
 ㄴ. 은행들의 주가상승
 ㄷ. 맞벌이 부부 자녀의 놀이방 위탁 증가
 ㄹ. 국내 A사의 자동차 재고 감소

- ① ㄱ, ㄴ ② ㄱ, ㄷ ③ ㄴ, ㄷ ④ ㄴ, ㄹ ⑤ ㄷ, ㄹ

26. 다음 자료에 관한 설명 중 옳은 것은?

	단위당 노동 투입량(시간)	
	직물(m ²)	자동차(대)
A국	25	10
B국	30	40

*단위당 노동 투입량은 각 재화를 한 단위 생산하기 위해 투입하는 노동시간

- ① A국은 자동차 생산에 비교우위가 있다.
- ② A국은 직물 생산에 비교우위가 있다.
- ③ A국은 두 재화 모두에 비교우위가 있다.
- ④ B국은 자동차 생산에 비교우위가 있다.
- ⑤ 어느 국가도 비교우위를 갖지 않는다.

27. 기업이 완전경쟁시장과 독점시장에서 같은 제품을 생산한다고 하자. 이에 대한 설명 중 옳지 않은 것은?

- ① 시장수요곡선이 다르다.
- ② 독점시장에 속한 기업의 생산량이 더 적다.
- ③ 기업의 한계수입곡선의 기울기가 다르다.
- ④ 독점시장에 속한 기업의 생산자잉여가 더 크다.
- ⑤ 기업이 한계비용과 한계수입이 같아지는 점에서 생산량을 결정한다는 조건은 같다.

28. S자동차 회사가 2019년 100대의 소형차를 생산하여 한 대 당 가격을 2,000만원으로 책정하여 내놓았다. 그러나 2019년에 팔리지 않고 2020년 초에야 모두 팔렸다. 다음 설명 중 옳은 것은?

- ① 2019년 GDP와 2020년 GDP가 각각 20억 원 증가한다.
- ② 2019년 GDP와 2020년 GDP가 각각 10억 원 증가한다.
- ③ 2019년 GDP는 20억 원 증가하고, 2020년 GDP는 20억 원 감소한다.
- ④ 2019년 GDP에는 아무런 영향이 없고, 2020년 GDP는 20억 원 증가한다.
- ⑤ 2019년 GDP는 20억 원 증가하고, 2020년 GDP에는 아무런 영향이 없다.

29. 표는 경합성과 배제성을 기준으로 재화를 A~D로 분류한 것이다. 이에 대한 설명으로 옳은 것은?

구분		경합성	
		있음	없음
배제성	있음	A	B
	없음	C	D

- ① 공공 목초지는 A에 해당한다.
- ② B의 사례로 '막히는 무료 도로'가 있다.
- ③ C는 비용을 지불한 사람만 소비할 수 있다.
- ④ D는 무임승차 문제가 발생할 수 있다.
- ⑤ A는 C와 달리 남용에 의해 고갈되기 쉽다.

30. 다음 지문에서 '여가'의 성격을 가장 정확히 설명하는 개념을 고르면?

A씨는 하루 24시간을 노동과 여가에 배분한다. 소득세 인상으로 세후임금이 감소한 이후 A씨의 노동시간이 증가했다고 가정하자.

- ① 독립재 ② 정상재 ③ 기펜재 ④ 사치재 ⑤ 소비재

< 시사 경제 · 경영 >

31. 상장회사의 ESG(환경, 사회, 지배구조) 경영과 관련성이 가장 낮은 것은?

- ① 감사위원회의 회계·재무 전문성 강화
- ② 에너지 효율 향상을 위한 공간 재배치
- ③ 이익소각 목적으로 자기주식을 추가로 매입
- ④ 신입직원에 대한 평생교육 프로그램의 강화
- ⑤ 고객의 개인정보 보호를 위한 내부통제 강화

32. 사들이고자 하는 기업의 자산을 담보로 금융회사에서 빌린 자금을 활용해 기업을 인수하는 인수합병(M&A) 기법의 영어 약자는?

- ① LCC ② LBO ③ LED ④ MBS ⑤ REITs

33. 미국 중앙은행(Fed)의 연방준비제도이사회가 개최하는 경제정책회의 '연방공개시장위원회'를 가리키는 영어약자는 무엇인가?

- ① CEPA ② FOMC ③ IPPA ④ APEC ⑤ NAFTA

34. 자기 지역에 이익이 되지 않는 일을 강력히 반대하고 지역이기주의를 추구한다는 의미를 가진 말은?

- ① 옴로(YOLO) ② 덩크(DINK) ③ 팡(FAANG)
- ④ 빅(BBIG) ⑤ 님비(NIMBY)

35. 아래 나열한 단어들이 공통적으로 지칭하는 용어는 무엇인가?

증강현실, 라이프로그, 거울세계, 가상세계, 로블록스, 디지털 지구, 넷플렉스가 가장 두려워하는 것

- ① 유튜브 ② 도지코인 ③ 메타버스
- ④ 우주관광 ⑤ 딥 러닝

36. 상장사 주가에 영향을 줄 수 있는 언론 보도나 소문에 대한 한국거래소의 확인 요구에 해당 기업이 직접 사실 여부를 답변하도록 한 제도는?

- ① 주식감리 ② 기업공개 ③ 외부감사
- ④ 그린메일 ⑤ 조희공시

37. 아래 말이 설명하는 용어는 무엇인가?

- 기술과 반발의 합성어
- 빅테크 기업들의 독점력이 커지면서 이에 대한 반발작용
- 미국의 연방거래위원회와 아마존 사이의 갈등

- ① 테크래시 ② 자연독점 ③ 테스렐리
 ④ 사이드카 ⑤ 서킷브레이커

38. 주가지수선물, 주가지수옵션, 개별주식옵션의 만기가 동시에 겹치는 일명 ‘세 마녀의 날’을 뜻하는 말은?

- ① 블랙먼데이 ② 더블위칭데이 ③ 레드먼데이
 ④ 트리플위칭데이 ⑤ 사이버 먼데이

39. 필요한 기술과 아이디어를 얻기 위해 다른 기업이나 연구 조직과 유기적인 협력 관계를 구축하는 ‘개방형 혁신’은?

- ① 밴드웨건 ② 아웃소싱 ③ 신지식재산권
 ④ 클라우드소싱 ⑤ 오픈 이노베이션

40. 아래 신문기사 중 빈칸 ()안에 들어갈 용어로 가장 적절한 것은 무엇인가?

애플 창업자인 고(故) 스티브 잡스가 쓴 입사 지원서가 가상자산인 ()로 경매에 나왔다. 미국 경제매체 CNBC는 잡스가 1973년 자필로 쓴 입사지원서의 원본 문서와 이를 디지털화한 ()가 한꺼번에 경매에 부쳐졌다고 22일 보도했다. 경매가 이뤄지는 웹사이트에는 원본과 () 중 어느 쪽 가치가 높은지를 알기 위해 둘을 한꺼번에 경매에 부치게 됐다고 적혀 있다. ()는 암호화폐처럼 블록체인 기술을 활용해 디지털 콘텐츠에 고유한 인식 값을 부여한 것이다. 소유권이나 판매 이력 등 정보가 디지털 장부에 저장돼 복제가 불가능한 ‘디지털 세계의 원작’이다. 최근 투자 자산으로 주목받으면서 ()가 적용된 디지털 이미지·영상·음원 등이 활발하게 거래되고 있다.

○○일보, 2021.7.23

- ① NFS ② NFT ③ NFA ④ NFU ⑤ NFB

41. 최근 전국경제인연합회에서 산출한 경제협력개발기구(OECD) 가입 37개국 기업가정신지수 순위에서 한국은 27위에 그친 것으로 나왔다. 현재의 기업가정신지수 순위를 앞으로 끌어올리기 위해서 필요한 정책으로 알맞은 것을 <보기>에서 고르면?

OECD 회원국 기업가정신지수 순위

1	스위스	10	독일
2	뉴질랜드	...	
3	룩셈부르크	23	리투아니아
4	미국	24	프랑스
5	노르웨이	25	벨기에
6	네덜란드	26	일본
7	아이슬란드	27	한국
8	오스트리아	...	
9	핀란드	37	멕시코

*2019년 기준 기업 활력·제도 환경·기업 인식을 종합해 산출 자료:전국경제인연합회

- < 보 기 >
- ㄱ. 오프쇼어링 확대
 - ㄴ. 규제 일몰제 확대
 - ㄷ. 상계관세 부과
 - ㄹ. 벤처캐피탈(VC) 활성화

- ① ㄱ, ㄴ ② ㄱ, ㄷ ③ ㄴ, ㄷ ④ ㄴ, ㄹ ⑤ ㄷ, ㄹ

42. 다음 신문사설이 말하고자 하는 바를 적절하게 표현한 것은?

정기권이 대형마트 등 오프라인 유통채널에 대한 규제 족쇄를 e커머스(전자상거래) 업계로까지 확대할 태세다. 심지어 ‘소상공인 보호’를 내세워 온라인 장보기 서비스를 대형마트 출점 규제와 같은 방식으로 규제하는 법안까지 준비 중이다. 소비자 선택권 제한이란 문제점은 말할 것도 없고 현실성도 결여해, 국회의원들이 온라인으로 물건이나 한 번 사보고 내놓는 법안들인지 의심스러울 정도다.

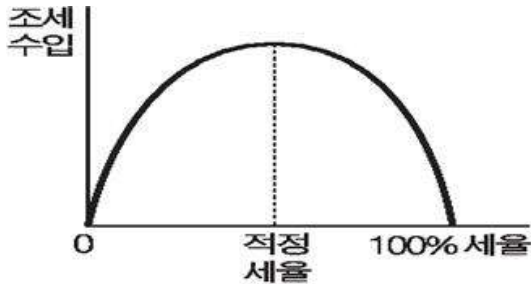
○○경제신문, 2021.6.24

- ① 지옥으로 가는 길은 선의로 포장되어 있다.
- ② 향산이 있어야 향심이 있다.
- ③ 바다는 메워도 사람 욕심은 못 메운다.
- ④ 김매는 주인이 일꾼 아흔아홉 몫 한다.
- ⑤ 친구 따라 강남 간다.

43. 채권을 발행한 곳이 파산했을 때 다른 채권자 부채를 모두 청산한 다음 마지막으로 상환받을 수 있는 채권을 뜻하는 말은?

- ① 신주인수권부사채 ② 디지털채권 ③ 물가연동채권
- ④ 후순위채권 ⑤ 외국환평형기금채권

44. 다음 그림이 보여주는 개념은?



- ① 래퍼곡선 ② 피서효과 ③ 계약곡선
- ④ 후방굴절 ⑤ 조세구조

45. 다음 나열한 내용이 설명하는 신드롬은 무엇인가?

- 대륙에서 멀리 떨어져 있어 고유종(固有種)의 생물이 많은 지역
- 나쓰노 다케시 게이오대 교수가 이 현상에 대해 설명
- 국제 표준과 세계시장의 흐름에서 벗어나는 현상

- ① 피터팬 ② 스탕달 ③ 스톡홀름
- ④ 갈라파고스 ⑤ 아이젠멩거

46. 아래 글은 토드 부크홀츠의 저서 「죽은 경제학자의 살아 있는 이야기」에서 일부 발췌한 것이다. 빈칸 (A)에 들어갈 주어로 가장 적합한 경제학자를 고르시오.

(A) delivered on his promise to show how the invisible hand regulated output, price, and profit. But the cheery Scotsman also promised to teach us what increases the wealth of nations.

- ① John Maynard Keynes ② Milton Friedman
- ③ David Ricardo ④ Alfred Marshall
- ⑤ Adam Smith

47. 기업이 가공의 매출을 기록하거나 비용을 적게 계상하는 등 회사 장부를 조작하는 행위를 무엇이라고 하는가?

- ① 결산 ② 분식회계 ③ 무상증자
- ④ 회계감사 ⑤ 발생주의회계

48. 다음 중 인수합병(M&A)에 대한 설명으로 옳지 않은 것은?

- ① 적대적 M&A에서 피인수기업 주주는 일반적으로 손실을 본다.
- ② 막대한 프리미엄을 지불하고 인수합병(M&A)을 하기도 한다.
- ③ 인수합병(M&A) 실패의 가장 큰 원인의 하나는 인수 후 통합 과정의 문제 때문이다.
- ④ 인수합병(M&A) 시장의 활성화는 주주와 경영자 간 대리인 문제를 완화시키는 역할을 한다.
- ⑤ 우호 주주의 지분율을 높이는 것은 경영권 방어를 위한 수단이 될 수 있다.

49. 아래 신문 기사를 읽고 빈칸 (A)에 들어갈 가장 적절한 용어를 고르시오.

백신도 만능이 아니라는 지적까지 나오면서 세계 경제가 2분기 정점을 찍고 다시 코로나 초기 같은 침체에 빠질 수 있다는 우려도 제기된다. 문제는 위기 극복을 위해 풀린 유동성으로 이미 글로벌 인플레이션 조짐이 뚜렷한 상황에서 경기가 급락하면 (A)플레이션으로 치달을 수 있다는 점이다.
○○경제신문, 2021.7.22

- ① 바이 ② 아이언 ③ 애그 ④ 스태그 ⑤ 예코

50. 스톡옵션을 잘못 설명한 것은?

- ① 기업이 임직원들에게 부여하는 자사주 매입 권리를 뜻한다.
- ② 임직원들에게 열심히 일할 수 있는 동기를 부여할 수 있다.
- ③ 벤처기업 등이 유능한 인재를 영입하기 위해 활용할 수 있다.
- ④ 스톡옵션을 받은 임직원은 미리 정해진 가격에 자기 회사의 우선주만을 정해진 물량만큼 살 수 있다.
- ⑤ 스톡옵션을 받은 경우 옵션 행사가격이 주가보다 높더라도 반드시 행사해야 할 의무가 있는 것은 아니다.

51. 비상장기업 인수합병(M&A)을 목적으로 하는 서류상 회사를 지칭하는 것은?

- ① IPO ② S&P ③ SPAC ④ DLS ⑤ ETF

52. 국내 1위 여행 플랫폼인 야놀자가 손정의 일본 소프트뱅크그룹 회장이 이끄는 비전펀드에서 2조원 규모의 투자금을 유치했다. 야놀자는 약 10조원의 기업가치를 인정받아 ‘이것’(기업가치 10조원의 비상장사)에 등극하게 됐다. ‘이것’은 무엇인가?

- ① 유니콘 ② 데카콘 ③ 보나콘 ④ 알파콘 ⑤ 헥토콘

53. 밑줄 친 정책이 가져올 영향 중 옳은 것은?

카카오는 주식 액면가를 500원에서 100원으로 조개는 분할(1주→5주)을 마치고 이날부터 거래를 재개한다.
○○경제신문, 2021.4.15

- ① 주식의 가격이 $\frac{1}{5}$ 로 낮아진다.
② 주식 거래량은 변하지 않는다.
③ 기업 가치가 $\frac{1}{5}$ 로 낮아진다.
④ 기업 가치가 5배로 높아진다.
⑤ 주식 수는 변하지 않는다.

54. 다음 신문기사를 읽고, (A)와 관련한 세금 및 정책을 고르면?

유럽연합(EU)이 항공기, 선박 등에 쓰이는 기름(휘발유 경유 등유)에 처음으로 (A)을 (를) 부과하는 방안을 추진하고 있다. EU가 14일 발표하는 기후 변화 해결을 위한 입법 패키지 ‘핏포55(Fit for 55)’에 관련 내용이 포함될 예정이다.
○○경제신문, 2021.7.13

< 보 기 >

ㄱ. 규제 샌드박스 ㄴ. 탄소국경세
ㄷ. 배출권거래제 ㄹ. 죄약세

- ① ㄱ, ㄴ ② ㄱ, ㄷ ③ ㄴ, ㄷ ④ ㄴ, ㄹ ⑤ ㄷ, ㄹ

55. 다음 신문기사에서 밑줄 친 내용을 적절히 관리하기 위해 존재하는 이 기관과 관련한 설명으로 옳지 않은 것은?

15일 투자은행(IB)업계에 따르면 요기요를 운영하는 독일 딜리버리히어로(DH)는 요기요 지분 100%를 어피너티 컨소시엄에 매각하기로 하고 단독 협상 중이다. (중략) DH가 국내 1위 배달 플랫폼 배달의민족을 인수하자 이 기관은 올해 초 “국내 1, 2위 배달 플랫폼을 품으면 시장지배적 사업자가 된다”며 합병을 불허하고 6개월 안에 요기요를 처분하도록 했다.
○○경제신문, 2021.7.16

- ① 이 기관은 독점규제 및 공정거래에 관한 법률을 바탕으로 활동한다.
② 이 기관 존재의 목적은 기업 간의 공정하고 자유로운 경쟁을 보장하기 위한 경제활동의 기본질서를 확립하기 위한 것이다.
③ 경제력 집중 억제 문제를 시정하기도 한다.
④ 카르텔 방지도 이 기관이 존재하는 이유다.
⑤ 1개 사업자의 시장점유율이 40% 이상이거나, 3개 이하 사업자의 시장점유율 합계가 60%이상인 경우 이 기관에 의해 통제받는 시장지배적 사업자로 추정한다.

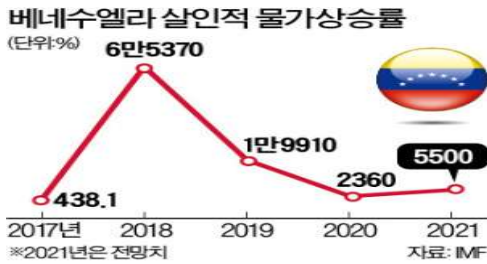
56. 다음 신문기사를 읽고, (A)에 들어갈 기업을 고르시오.

지난해 3월 발생한 팬데믹(전염병의 세계적 대유행)을 계기로 수십 년간 이어져온 미국 내 ‘저(低)인플레이션’이 막을 내렸다는 분석이 제기됐다. 미 노동부가 13일(현지시간) 발표한 6월 소비자물가지수(CPI)는 지난해 같은 기간보다 5.4% 오르며 글로벌 금융위기 이후 13년 만에 가장 큰 상승폭을 기록했다. 최근의 물가 급등세는 일시적 현상에 그치지 않고 상당 기간 지속할 수 있다고 월스트리트저널(WSJ)이 보도했다. (중략) 전자상거래 발달도 가격 인하 경쟁을 유도한 일등공신으로 지목된다. 이른바 ‘(A) 효과’다. 2017년 투자은행 골드만삭스는 (A)(이)가 촉발한 온라인 가격 경쟁이 근원 물가상승률을 매년 최대 0.1%포인트 끌어 내렸을 것으로 추정했다.
○○경제신문, 2021.7.14

- ① 애플 ② 아마존 ③ 넷플릭스
④ 페이스북 ⑤ 마이크로소프트

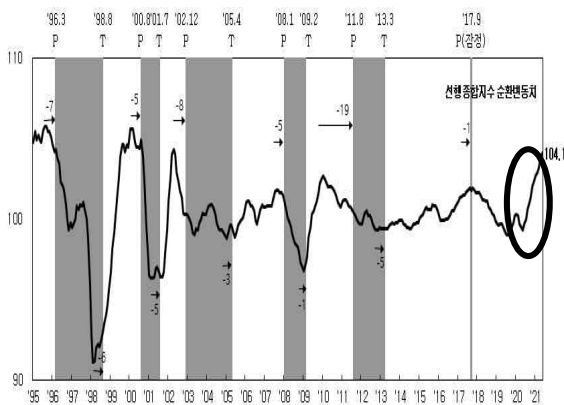
57. 다음 신문기사에서 베네수엘라가 단행한 조치와 관련된 설명으로 옳지 않은 것은?

1일(현지시간) 블룸버그통신에 따르면 베네수엘라 중앙은행은 다음달께 볼리바르 화폐 단위에서 숫자 '0'을 여섯 개 빼는 100만 대 1의 화폐 개혁에 나설 계획이다. 현재 321만9000볼리바르 수준인 1달러가 하루아침에 3.2볼리바르로 바뀐다.
○○경제신문, 2021.7.3



- ① 보통 조인플레이션을 겪고 있는 국가에서 단행한다.
- ② 베네수엘라는 볼리바르 화폐 가치가 하락했다.
- ③ 이 조치는 지하경제를 양성화하는 장점이 있기도 하다.
- ④ 이 조치가 실패하면 기축통화국인 달러를 해당 국가의 화폐로 사용하기도 한다.
- ⑤ 이 조치 이전 베네수엘라의 소비자 물가지수(CPI)는 하락세를 보였을 것이다.

58. 다음은 통계청에서 발표한 '2021년 5월 산업활동동향' 선행종합지수 순환변동치다. 그래프에서 표시한 동그라미의 추이가 이어진다고 가정할 때, 향후 나타날 경제 현상을 잘못 추론한 것은?



- ① 실업률이 상승할 것이다.
- ② 기업의 투자가 늘어날 가능성이 높다.
- ③ 소비 수요가 늘어날 가능성이 높다.
- ④ 인플레이션과 관련한 지수가 상승할 것이다.
- ⑤ 재고율은 하락할 것이다.

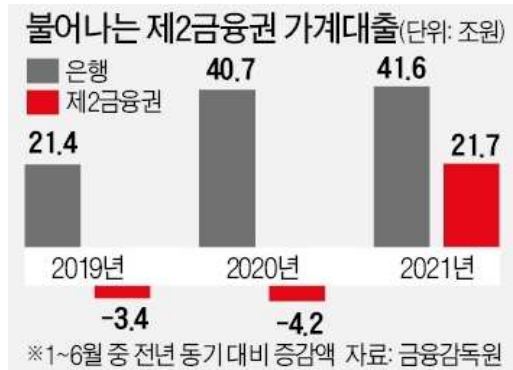
59. 다음 지문의 (A)에 들어갈 제도를 고르시오.

최근 다양한 고용형태가 급증하고 코로나19 등으로 일자리 위기가 상시화되고 있다. 이에 근로자에 대한 제도적 보호를 위한 전국민 (A) 을(를) 위한 정책이 진행되고 있다.

- ① 화재보험 ② 상병수당 ③ 고용보험
- ④ 건강보험 ⑤ 산재보험

60. 다음 신문기사와 그래프에 가장 적합한 신문기사 제목을 유추하면?(그래프에서 연도별로 은행은 왼쪽, 제2금융권은 오른쪽이다.)

은행권 대출 규제가 강화되면서 카드·보험사·저축은행·상호금융 등 2금융권의 대출 증가세가 팔라지고 있다. 은행에서 원하는 만큼 대출을 받지 못한 실수요자들이 2금융권으로 몰렸기 때문이다.
○○경제신문, 2021.7.16



- ① 제2금융권 부실 대출에 따른 '뱅크런' 우려 나타나
- ② '피구 효과' 우려로 은행권 대출 규제 완화되나
- ③ 민간 경제 '유동성 함정'에 빠지나
- ④ 가계 대출 증가세 '부의 효과'가 발생하나
- ⑤ 금융당국, 가계대출 '풍선효과' 차단에 나서나

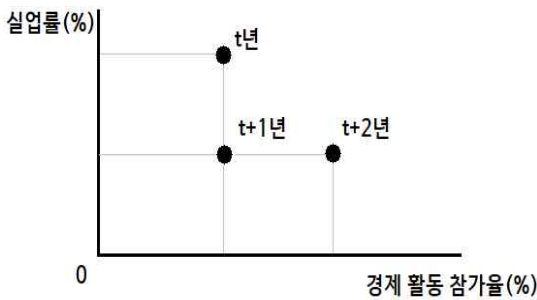
< 상황 추론 · 판단 >

61. 다음은 가상의 암호화폐의 일별 가치변화와 거래량을 나타낸다. 단위는 한국 원화이다. 이 표를 보고 가상의 암호화폐가 화폐로 사용되기 어려운 가장 결정적인 이유를 바르게 설명한 것은?

일시	현재가(원)	변동률(%)	고가	저가	거래량
2021년 7월 1일	443	1000%	500	300	120000
2021년 7월 2일	703	58.7	800	600	500000
2021년 7월 3일	1000	42.2	1200	900	40000
2021년 7월 4일	200	-80.0	200	200	300000
2021년 7월 5일	100	-50.0	300	50	900000
2021년 7월 6일	900	800.0	1000	500	300000
2021년 7월 7일	800	-11.1	1000	300	250000
2021년 7월 8일	300	-62.5	500	200	450000
2021년 7월 9일	20	-93.3	300	10	350000
2021년 7월 10일	80	300.0	100	50	450000

- ① 경우에 따라 매우 큰 수익을 올릴 수 있다.
- ② 가치의 변동이 심해 교환수단으로 받아들여지기 어렵다.
- ③ 가치의 변동과 거래량의 변화 사이의 상관관계가 너무 높다.
- ④ 일별 가치변화만 가지고는 매순간 변화하는 가치를 알기 어렵다.
- ⑤ 암호화폐의 가치가 모든 사람들에게 알려져 있지 않다.

62. 표는 갑국의 연도별 실업률과 경제 활동 참가율을 나타낸다. 이에 대한 <보기>의 설명 중 옳은 것을 모두 고르면?(단, 생산가능인구는 변함이 없다.)



< 보 기 >
 가. 전년 대비 t+1년의 고용률은 감소하였다.
 나. t년의 비경제 활동 인구는 t+1년과 같다.
 다. 전년 대비 t+2년의 실업자 수는 증가하였다.
 라. 경제 활동 인구는 t+1년에 가장 많다.

- ① 가, 나 ② 가, 다 ③ 나, 다 ④ 나, 라 ⑤ 다, 라

63. 다음과 같은 상황에 대한 설명으로 옳은 것은?

기업 B는 기업 A에서 3만 원어치의 재료를 구입해 봉제 인형용 천과 솜으로 가공한 후 7만 원에 인형 제조업체 C에 판매했다. 이를 바탕으로 C는 최종 소비자에 판매할 곰 인형을 만들어 15만 원어치를 팔고, 팔리지 않은 5만 원어치를 재고로 남겨 두었다.

- ① GDP가 15만 원 증가했다.
- ② 천과 솜은 최종 생산물에 해당한다.
- ③ C가 창출한 부가가치는 13만 원이다.
- ④ 중간 생산물은 GDP 증가에 기여하지 못한다.
- ⑤ 세 사람이 창출한 부가가치 총액은 25만 원이다.

64. 꽃 수요의 가격에 대한 탄력성이 지역 A는 탄력적, 지역 B는 비탄력적이다. 꽃 재배 농가에 보조금을 지급하는 정책을 도입할 경우의 영향으로 옳은 것은?(단, 2개 지역의 꽃 공급과 가격은 동일하며, 수요자는 자신의 지역에서만 꽃을 구입한다.)

< 보 기 >
 가. 공급 곡선이 우측으로 이동한다.
 나. 두 지역 모두 꽃 거래량이 감소한다.
 다. 꽃 가격은 지역 A보다 B에서 더 많이 하락한다.
 라. 두 지역 모두 꽃 재배 농가의 매출이 증가한다.

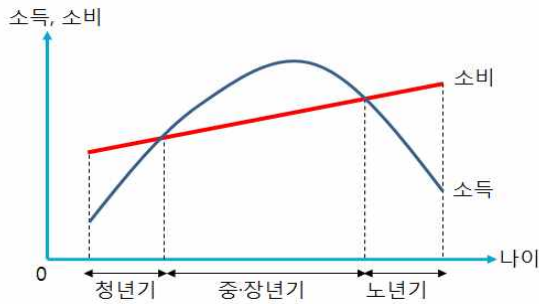
- ① 가, 나 ② 가, 다 ③ 나, 다 ④ 나, 라 ⑤ 다, 라

65. 구매력평가설이 성립하기 위한 조건을 <보기>에서 모두 고르면?

< 보 기 >
 가. 국가 간 자본이동이 자유로워야 한다.
 나. 국가 간 무역장벽이 없어야 한다.
 다. 국가 간 인건비나 재료비의 차이가 없어야 한다.
 라. 국가 간 상품 운송비용이 거의 없어야 한다.

- ① 가, 나 ② 가, 다 ③ 나, 다 ④ 나, 라 ⑤ 다, 라

66. 그림은 개인이 생애에 걸쳐 소비를 평탄화한다는 이론을 보여준다. 이에 대한 설명으로 옳지 않은 것은?



- ① 모딜리아니가 주장한 소비 이론이다.
- ② 노년기보다 중·장년기의 평균 소비성향이 낮다.
- ③ 생애 소득에 변화가 있으면 소비 패턴이 달라진다.
- ④ 중·장년기에는 저축 누적액이 증가하다 감소한다.
- ⑤ 소비가 현재의 처분 가능 소득에만 의존하지 않는다.

67. 다음은 줄리언 L 사이먼의 ‘근본자원’에서 발췌한 글이다. 이를 바탕으로 저자가 가장 동의할 수 없는 추론을 고르면?

인구증가와 토지부족 때문에 장기적으로는 식량부족에 직면하게 된다는 맬서스적 개념은 틀린 개념이다. 단위 면적당 식량 생산량은 놀랍게도 매우 빠르게 증가한다. 인구가 몇 배 증가하면 현재의 선진국형 토지농사까지 극복하고자 하는 인센티브가 충분히 생길 것이다. 사람들에게는 의심의 그림자가 드리워져 있지만 어두운 그들의 저편에는 지금보다 훨씬 작은 농지에서 현재 지구인구의 몇 배가 되는 인구를 부양할 수 있는 영농지식이라는 밝은 곳이 이미 존재하고 있다. 지식의 증가 덕분에 생계 수준을 넘어서 생활수준의 여러 측면을 개선할 수 있는 능력이 더 빨리 지수적으로 증가하고 있다. 결국 세월이 갈수록 식량은 점점 싸진다.

- ① 아마도 인구가 증가하면서 밀 가격은 장기적으로 상승해왔을 것이다.
- ② 인구 증가보다 농업 생산성 증가가 빨랐던 것이 사실일 것이다.
- ③ 한국은 자연자원은 빈국이지만 인적자원은 부국일 수도 있다.
- ④ 자연 자원은 고정되어 있지만 대체자원이 꾸준히 개발된다.
- ⑤ 인간의 지식이 어떤 자연자원보다 근본적인 자원이다.

68. 다음 표는 A국과 B국의 지니계수에 대한 연도별 자료다. 이와 관련한 설명 중 옳지 않은 것은?

	2018	2019	2020
A국	0.48	0.42	0.39
B국	0.38	0.45	0.37

- ① 2018년 A국은 B국보다 소득의 불평등 수준이 높다.
- ② 2019년 B국은 A국보다 로렌즈 곡선이 대각선에 떨어진 상태다.
- ③ B국은 소득 불평등 수준이 계속 개선되었다.
- ④ A국은 소득 불평등을 완화하기 위한 복지 정책을 펼쳤을 것으로 보인다.
- ⑤ 2020년 A국의 소득분배가 전년보다 개선됐다.

69. 다음 자료에 대한 적절한 분석 및 추론을 <보기>에서 모두 고르면?

근대 J국에서는 (A)매년 한 번씩 각 지역의 특산물을 국가에 공물로 내도록 하는 제도가 있었다. 공물 부과는 각 지역의 산물을 부과하는 게 원칙이었는데 실제로는 그렇지 않은 경우가 많았다. 한 번 정해지면 바꾸기도 쉽지 않아 구하기 어려운 경우 공물로 내야하는 생산물을 구입해서 납부하는 수밖에 없었다. 공물용 생산물을 전문적으로 판매하는 상인들이 나타났다. 시간이 흐르면서 국가의 관리들이 소수의 상인들에게 공물용 생산물 공급자라는 인증서를 발급했고, (B)인증서를 발급받은 소수의 상인들로부터 구입한 생산물만 공물로 낼 수 있게 되었다. 그렇지 않으면 불량품이라고 공물로 받아주지 않았다. 점차 국가관리로부터 (C)인증서를 받은 상인들은 생산물의 가격을 매우 높게 받아 폭리를 취하게 되었다.

< 보 기 >

ㄱ. (A)는 공물로 내는 생산물의 공급이 가격에 대해 완전탄력적임을 나타낸다.
 ㄴ. (B)는 독과점의 사례로 볼 수 있다.
 ㄷ. (B)가 사라지면 공물로 바치는 생산물 거래 가격이 낮아질 것이다.
 ㄹ. (C)는 완전경쟁시장 공급자들의 모습으로 볼 수 있다.

- ① ㄱ, ㄴ ② ㄱ, ㄷ ③ ㄴ, ㄷ ④ ㄴ, ㄹ ⑤ ㄷ, ㄹ

70. (가)~(라)는 갑국에서 발생할 수 있는 경제 상황이다. 이에 대한 분석 및 추론으로 옳은 것은?(단, 모든 재화는 수요와 공급 법칙을 따른다.)

- (가) X재의 원자재 가격 하락
- (나) X재 생산에 부과되는 세금 증가
- (다) X재에 대한 소비자의 선호도 증가
- (라) X재와 대체재 관계인 Y재 가격의 하락

- ① (가)만 발생할 경우 X재의 공급이 감소한다.
- ② (나)만 발생할 경우 X재의 수요가 증가한다.
- ③ (다)만 발생할 경우 X재의 판매 수입이 감소한다.
- ④ (가)와 (라)가 동시에 발생할 경우 X재의 균형 가격이 하락한다.
- ⑤ (나)와 (라)가 동시에 발생할 경우 X재의 균형 거래량이 증가한다.

71. 다음 신문 기사를 읽고, 밑줄 친 (A), (B)에 관한 설명 중 옳지 않은 것을 고르시오.

5대 은행의 총 대출 대비 중소기업 대출 비중이 40%를 넘어섰다. 중소기업·자영업자들이 코로나 19 여파를 맞은 탓이다. 이자 비용도 벌지 못하는 **(A)중비기업**이 늘고 있는 가운데 앞으로 한계에 달한 중소기업들이 한꺼번에 부실화할 수 있다는 우려도 커지고 있다. (중략) 박창균 자본시장연구원 연구위원은 “무작정 유동성만 공급하면 경제주체들의 **(B)도덕적 해이**를 유발할 수밖에 없다”고 했다. 주요 30개국(G30)은 최근 펴낸 금융 관련 보고서에서 “세계적으로 부실기업 대출이 대폭 늘었다”며 “지원 대상 범위를 좁혀 독자적으로 생존 가능한 기업에 지원을 집중할 필요가 있다”고 지적했다.

○○경제신문, 2021.7.9

- ① 3년 연속 이자보상배율이 1 미만인 기업이 (A)에 해당한다.
- ② (A)가 늘어나면 정작 유동성 지원이 필요한 기업이 ‘흑자도산’하는 경우가 나타난다.
- ③ (A)가 늘어나면 기업의 투자에 부정적인 영향을 준다.
- ④ (A)의 (B)가 발생하면, 은행의 기업대출 연체율이 상승할 것이다.
- ⑤ (B)는 계약이 발생하기 이전에 나타날 수 있는 현상이다.

72. “경제학은 대체적 용도를 가진 희소자원의 사용에 대한 연구이다.” 라는 말을 두고 다섯 명의 대학생이 대화를 나누고 있다. 이 말을 가장 이해하지 못한 사람은 누구인가?

- ① 영호 : 희소자원의 배분을 어떻게 결정하느냐에 따라 전체 사회의 삶에 영향을 미친다고 할 수 있다.
- ② 철수 : 경제학의 관심은 희소자원을 이용해 생산하는 것, 즉 투입을 산출로 만드는 것에 있다.
- ③ 민영 : 만약 모든 자원의 용도가 하나뿐이라면 경제학은 훨씬 단순했을 것이다.
- ④ 광복 : 수요가 없는 재화의 생산에 투입하는 자원을 다른 용도로 쓰면 효율성을 더 끌어올릴 수 있다.
- ⑤ 친구 : 희소한 자원은 매우 소중하기 때문에 엉뚱한 곳에 쓰이지 않도록 배분과정을 국회나 소비자단체들이 협의해야 한다.

73. 다음 신문 사설에서 주장하는 바와 가장 거리가 먼 것을 고르시오.

유엔무역개발회의(UNCTAD)가 지난 2일 한국의 지위를 개발도상국에서 선진국 그룹으로 변경했다. 1964년 UNCTAD가 설립된 이래 개도국 그룹에서 선진국 그룹으로 이동한 사례는 한국이 처음이다. UNCTAD 무역개발이사회는 한국의 선진국 진입을 만장일치로 합의해 무역과 투자를 통한 성장의 모범 사례라는 점을 확인했다. 한국이 개도국을 졸업해 선진국에 진입한 최초의 국가라고 유엔이 공인한 것이다. (중략) 해방 후 약 50년간 600억 달러에 달했던 국제원조는 ‘한강의 기적’을 일구는 마중물 역할을 했고 여기에 정치적 리더십과 기업의 피땀 어린 노력이 어우러져 선진국을 만들어냈다. 무엇보다 한정된 국내 시장보다 세계를 겨냥해 수출주도형 중화학공업 육성 정책을 편 정치적 결단이 주효했고 여기에 기업이 화답하며 삼성전자 현대자동차와 같은 글로벌 기업이 탄생할 수 있었다.

○○경제신문, 2021.7.3

- ① 2차 세계대전 직후 독립한 나라 중 한국만큼 경제적으로 부강해진 나라를 찾아보기 힘들다.
- ② 한국은 원조를 받는 나라에서 원조를 해주는 나라로 성장했음을 국제적으로 공인받았다.
- ③ 한국은 신토불이, 자력갱생, 자급자족, 내수 진작을 중심으로 한 경제 모델로 성장했다.
- ④ 한국은 시장 경제와 개방 정책을 묶은 수출주도형 경제로 한강의 기적을 이뤘다.
- ⑤ 한국은 대만과 달리 대기업들과 중공업을 집중적으로 육성해 해외 경쟁력을 가졌다.

74. 아래는 19세기 프랑스 지식인 프레데릭 바스티아가 쓴 「법」의 글 일부다. 필자의 의도와 가장 거리가 먼 설명은 무엇인가?

고결하신 국회의원님들께

저희는 저희에 비해 지나치게 월등한 조건에서 빛을 생산해 내는 외부 경쟁자 때문에 극심한 고난을 겪고 있습니다. 그는 이미 믿기지 않을 정도의 저가와 고품질로 국내 시장을 석권하고 있습니다. 그 경쟁자는 바로 태양입니다. 의원님들이 이 불평등을 시정할 법을 통과시켜 주셨으면 하고 저희는 탄원하는 바입니다. 낮에는 국민들의 모든 창문과 지붕창, 채광창, 결문, 커튼, 블라인드 등을 단도록 하는 법안입니다. (중략) 선택을 하되 논리적으로 하십시오. 국내 산업을 보호한다면서 값싼 외국산 철강, 곡물, 직물 등의 수입을 막는데, 공짜나 다름없는 태양광을 막지 않는다면 얼마나 비논리적인 처사입니까!

- ① 필자는 보호무역주의를 우회적으로 질타하고 있다.
- ② 필자는 국내 산업을 보호하려는 중상주의보다 자유 무역의 필요성을 강조하고 있다.
- ③ 필자는 양초업자들이 국회의원들에게 압력을 행사 해서 양초산업을 살려야 한다고 말한다.
- ④ 필자의 견해를 현대 경제학적 의미에서 보면 지나친 수입 규제가 경제발전을 해친다는 의미로 해석할 수 있다.
- ⑤ 필자는 정부의 어리석음을 강하게 지적하고 있다.

75. ○○기업의 생산량이 0, 1, 2단위인 경우 총비용이 400만원, 480만원, 540만원인 것으로 나타났다. 이때 표 빈칸 중에서 A, B, C, D, E에 들어갈 숫자가 맞게 연결된 것을 고르시오.

총생산량 (Q)	총고정비용 (TFC)	총가변비용 (TVC)	총비용 (TC)	평균가변비용 (AVC)	평균비용 (AC)	한계비용 (MC)
0		B	400만원			
1	A		480만원			E
2			540만원	C	D	

- ① A : 200만원
- ② B : 0원
- ③ C : 90만원
- ④ D : 150만원
- ⑤ E : 30만원

76. 다음은 특정 시점의 국내 주택 시장 특징 및 시사점과 관련한 자료이다. 이 자료의 사실들이 전세 시장 수요·공급에 미치는 영향을 순서대로 옳게 짚지는 것은? (단, 전세와 월세는 구분된 시장이라고 가정한다.)

고령화 사회에 진입하면서 ㉠안정적인 노후 준비를 위해 월세 등 현금 수입을 선호하는 경향이 나타나고 있다. 저금리 기조 또한 ㉡임대 수익률이 높은 월세 선호 현상을 확대시킨다. 한편 부동산 가격의 불확실성 등으로 ㉢임차 가구의 주택 구매 기피 현상이 확산되고 있다. 월세로 인한 현금 지출 부담이 지속되고 있는 것이다. 또한 ㉣재개발과 재건축 사업이 확대돼 이주 수요도 지속적으로 발생하고 있다.

	㉠	㉡	㉢	㉣
①	공급 감소	공급 감소	수요 증가	수요 증가
②	공급 감소	공급 감소	수요 감소	수요 감소
③	공급 감소	공급 증가	수요 증가	수요 감소
④	공급 증가	공급 증가	수요 증가	수요 증가
⑤	공급 증가	공급 감소	수요 감소	수요 증가

77. 다음 지문은 1930년대 미국의 대공황에 대한 진 스마일리의 「세계 대공황 : 80년 전에도 이렇게 시작됐다」에서 일부 발췌한 것이다. 글을 읽고 나눈 대화 중 견해가 다른 사람은?

‘대통령재고용협정’은 노동과 임금 관련 지침에서 강경한 입장을 취하고 있다. 사무직 근로자들은 주 40시간 이상 근무가 금지되었고, 기업은 소재하는 도시에 따라 최소한 주급 12~15달러를 지급해야 했다. 최저임금은 시간당 40센트였다. 기업들은 임금인상 요구와 주당 근무시간을 단축해야 한다는 거센 비판에 직면했다. 이런 정책은 경기회복을 방해했고 기업들의 생산량은 줄어들었다.

- ① 가영 : 개방과 자유무역은 국민 삶의 질을 높이지.
- ② 나영 : 정부의 가격통제는 부작용이 따르는 경우가 많아.
- ③ 다영 : 기업이 정신과 자유로운 경제활동의 보장이 경제를 살리는 길이야.
- ④ 라영 : 기업의 자유로운 경영을 방해하는 규제는 경제발전에 해가 되는 법이지.
- ⑤ 마영 : 정부가 기업들에게 임금을 올리도록 하면 소비가 늘어 경제가 활성화될 거야.

78. 위험 회피와 분산과 관련한 (A)와 (B) 두 가지 사례와 관련한 <보기>의 설명 중 옳은 것을 모두 고르면?

- (A) 보험회사는 위험분산과 관련하여 역선택과 도덕적 해이라는 두 가지 문제에 봉착한다.
- (B) 친구가 다음과 같은 제안을 했다. 동전을 던져 앞면이 나오면 10,000원을 당신에게 주고, 뒷면이 나오면 당신이 친구에게 10,000원을 주어야 한다.

< 보 기 >

ㄱ. (A)와 관련하여 보험에 일단 가입한 사람은 덜 조심하게 되는 경향이 있다.

ㄴ. (B)에서 기대수익률은 0원이다.

ㄷ. (A)와 관련하여 위험이 높은 사람이 낮은 사람보다 보험에 가입할 가능성이 낮다.

ㄹ. (B)에서 위험 회피적이라면 친구의 제안을 받아들일 수도 거절할 수도 있다.

- ① ㄱ, ㄴ ② ㄱ, ㄷ ③ ㄱ, ㄹ ④ ㄴ, ㄷ ⑤ ㄴ, ㄹ

79. 다음 신문 기사를 읽고, 밑줄 친 단어와 관련된 내용을 <보기>에서 모두 고르면?

14일 로이터통신 등은 소식통을 인용해 “석유 수출국기구(OPEC)와 러시아 등 비(非)OPEC 주요 산유국 협의체인 OPEC+가 원유를 증산하는 데 최종적으로 합의했다”고 보도했다. 지난 1일 이후 세 차례 연기됐던 OPEC+ 회의는 이번에 극적으로 결실을 맺었다. OPEC+에 참여하는 주요 산유국 관계자들은 적절한 시기에 다음 회의 날짜를 결정하겠다고 밝혔다.

○○경제신문, 2021.7.15

< 보 기 >

ㄱ. 페트로 달러

ㄴ. 플라자 합의

ㄷ. 석유파동과 한국의 중동진출

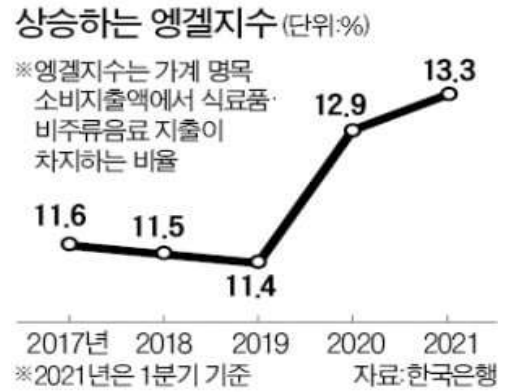
ㄹ. 독점적 경쟁시장

- ① ㄱ, ㄴ ② ㄱ, ㄷ ③ ㄴ, ㄷ ④ ㄴ, ㄹ ⑤ ㄷ, ㄹ

80. 다음 신문 기사와 자료를 잘못 설명하고 있는 것은?

7월 한국은행 경제통계시스템에 따르면 올해 1분기 가계의 국내 소비지출액(217조7558억원·명목 기준) 가운데 식료품·비(非)주류음료 지출(29조166억원)이 차지하는 비중은 작년 4분기 대비 0.1%포인트 상승한 13.3%로 집계됐다. 분기 기준으로 2000년 2분기(13.5%) 후 가장 높았다. 지난 1분기 식료품·비주류음료 지출은 역대 최대치였다.

○○경제신문, 2021.7.8



- ① 엔겔지수는 보통 소득이 높아질수록 낮아진다.
- ② 2017년~2019년까지 우리나라의 엔겔지수는 하락했다.
- ③ 식료품 가격이 하락하면 엔겔지수 상승에 영향을 준다.
- ④ 엔겔지수는 신종 코로나바이러스 감염증(코로나19) 이후 바깥 활동이 줄어들고 집에서 식사를 해결하는 집밥족이 늘어나면서 오히려 상승했다.
- ⑤ 우리나라 엔겔지수의 연간 상승률은 2020년이 가장 높다.

<끝, 수고 하셨습니다.>

TESAT 7회 모의고사 정답 및 배점

문제	정답	배점	난이도	문제	정답	배점	난이도
1	4	3	하	41	4	4	하
2	1	4	하	42	1	4	하
3	3	3	하	43	4	3	하
4	4	3	하	44	1	3	하
5	4	4	하	45	4	3	하
6	5	3	하	46	5	4	하
7	5	3	하	47	2	3	하
8	1	3	하	48	1	3	하
9	3	3	하	49	4	3	하
10	3	4	하	50	4	3	하
11	2	3	상	51	3	3	하
12	2	3	하	52	2	3	하
13	4	4	상	53	1	4	하
14	5	3	하	54	3	3	하
15	5	3	하	55	5	4	하
16	5	3	하	56	2	3	하
17	1	4	하	57	5	4	하
18	2	3	하	58	1	4	하
19	4	4	하	59	3	3	하
20	4	3	하	60	5	4	하
21	1	3	하	61	2	5	하
22	1	3	하	62	3	5	중
23	3	4	최상	63	3	5	하
24	2	4	중	64	2	5	하
25	2	3	하	65	4	5	하
26	1	4	하	66	4	5	하
27	1	4	상	67	1	5	하
28	5	3	하	68	3	5	하
29	4	3	하	69	3	5	하
30	2	3	하	70	4	5	하
31	3	3	하	71	5	5	하
32	2	3	하	72	5	5	하
33	2	3	하	73	3	5	하
34	5	3	하	74	3	5	하
35	3	3	하	75	2	5	중
36	5	3	하	76	1	5	하
37	1	4	하	77	5	5	하
38	4	3	하	78	1	5	중
39	5	3	하	79	2	5	하
40	2	4	하	80	3	5	하

8회 모의고사 문제지

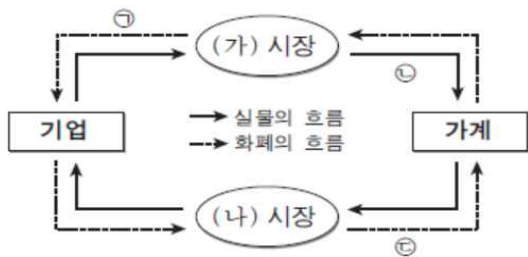
- 문제지 앞표지에 성명과 수험번호를 적었는지 확인 하십시오.
- 경제이론과 시사경제·경영은 문항당 3점, 4점이고 상황추론·판단은 문항당 5점입니다.
- 시험시간은 100분입니다.

< 경제이론 >

1. 희소한 자원을 배분하는 역할을 하는 것은?

- ① 그 자원의 남은 양
- ② 그 자원의 시장가격
- ③ 희소성은 측정되지 않음
- ④ 그 자원에 대한 초과공급 상태
- ⑤ 그 자원의 남은 양에 대한 현재의 소비량 비율

2. 다음은 민간 부문의 경제 순환을 나타낸 그림이다. 이에 대한 설명으로 옳은 것을 <보기>에서 모두 고르면?



< 보 기 >

- ㉠. 회사원 철수가 받는 임금은 ㉠, 철수의 노동력 제공은 ㉡에 해당된다.
- ㉢. 중학생 영희가 편의점에서 간식을 사먹고 내는 돈은 ㉢에 해당된다.
- ㉣. 노동은 (나)시장에서 거래된다.
- ㉤. (나)시장에서 기업은 수요자, 가계가 공급자이다.

- ① ㉠, ㉢ ② ㉠, ㉤ ③ ㉢, ㉤ ④ ㉢, ㉤ ⑤ ㉣, ㉤

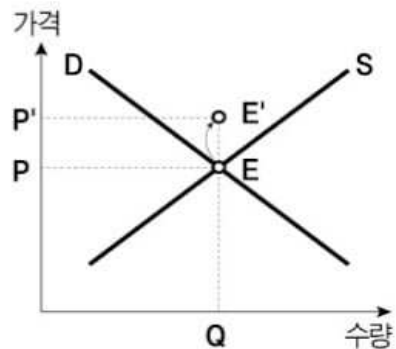
3. 가격 하한제에 대한 설명으로 옳지 않은 것은?

- ① 초과 공급 현상이 발생한다.
- ② 생산자(공급자)를 보호하기 위한 제도다.
- ③ 시장균형가격보다 낮게 설정해야 효과가 있다.
- ④ 생산요소시장이나 농산물시장에 주로 적용된다.
- ⑤ 수요자가 지불해야 하는 법정 최저가격이다.

4. 인플레이션으로 인해 발생하는 비용에 대한 설명으로 적절하지 않은 것은?

- ① 인플레이션이 발생했을 때 세법은 자원배분을 왜곡시킨다.
- ② 인플레이션율이 높아지면 화폐보유자의 기회비용이 감소하게 된다.
- ③ 인플레이션이 발생하면 국내 제품의 상대가격이 상승하여 경상수지가 악화된다.
- ④ 인플레이션으로 인한 가격조정이 모든 기업과 산업에 동일하지 않아서 자원배분의 비효율성이 생길 수 있다.
- ⑤ 통화량의 증가로 발생한 인플레이션은 장기적으로 고용, 산출량 등 실물변수에 영향을 미칠 수 없다.

5. 갑국의 노트북 시장의 균형점을 E→E'로 변화시킬 수 있는 요인들의 조합을 고르면?



- ① 대체재의 가격 상승과 소득 증가
- ② 보완재의 가격 하락과 생산비 감소
- ③ 보완재의 가격 하락과 생산비 증가
- ④ 대체재의 가격 하락과 생산 기술의 발달
- ⑤ 보완재의 가격 하락과 공급자 수의 증가

6. 두 재화간의 교차탄력성이 마이너스 2이라고 하자. 이때 한 재화의 소비를 20% 증가시키려면 다른 재화의 가격은 어떻게 변화하여야 하는가?

- ① 1% 감소 ② 1% 증가 ③ 10% 감소
- ④ 10% 증가 ⑤ 30% 감소

7. 시장의 종류에 대한 다음 설명 중 옳지 않은 것은?

- ① 과점시장에선 카르텔이 형성될 수 있다.
- ② 정부의 사업 허가권이 존재하는 시장에서는 독점시장이 생길 수 있다.
- ③ 시장은 판매자의 수를 기준으로 구분할 수 있다.
- ④ 게임이론으로 독점적 경쟁시장을 정의할 수 있다.
- ⑤ 완전경쟁시장에서 생산자와 소비자는 모두 가격 수용자(price-taker)이다.

8. 통화량을 현금 및 요구불 예금으로 정의할 때, 이에 대한 설명 중 옳은 것을 고르시오.

- ① 법정 지급준비율이 일정하더라도 민간은행이 지급준비금 보유 비중을 줄이면 통화량이 증가한다.
- ② 중앙은행이 민간이 보유한 국채를 매입하면 통화량이 감소한다.
- ③ 일반적으로 민간의 현금보유 비중이 증가하면 통화량은 증가한다.
- ④ 일반적으로 통화량이 증가하면 시장이자율은 상승하게 된다.
- ⑤ 일반적으로 통화량이 증가하면 가계의 현금보유 비중도 증가한다.

9. 총수요-총공급 이론에 대한 <보기>의 설명 중 옳은 것을 모두 고르면?

< 보 기 >

ㄱ. 국제유가 상승은 총수요 곡선을 좌측으로 이동시킨다.

ㄴ. 신기술 개발은 총공급 곡선을 우측으로 이동시킨다.

ㄷ. 정부지출 감소는 총공급 곡선을 좌측으로 이동시킨다.

ㄹ. 조세감면은 총수요 곡선을 우측으로 이동시킨다.

- ① ㄱ, ㄴ ② ㄱ, ㄷ ③ ㄴ, ㄷ ④ ㄴ, ㄹ ⑤ ㄷ, ㄹ

10. 소득분배에 대한 다음 설명 중 옳지 않은 것은?

- ① 지니계수가 0이면 완전평등하다.
- ② 소득분배가 평등할수록 로렌즈곡선은 대각선에서 가까워진다.
- ③ 소득분배가 완전히 불평등하다면 지니계수는 1이 된다.
- ④ 십분위분배율은 저소득층과 고소득층간의 소득분배를 나타내는 지표이다.
- ⑤ 십분위분배율은 값이 클수록 소득분배가 불평등함을 나타낸다.

11. 표는 재화의 특성을 경합성과 배제성의 유무에 따라 구분한 것이다. A~D에 대한 옳은 설명을 <보기>에서 고른 것은?

구분		경합성	
		있음	없음
배제성	있음	A	B
	없음	C	D

< 보 기 >

ㄱ. 일반적인 공산품은 A에 해당한다.

ㄴ. 막히는 무료 도로는 B에 해당한다.

ㄷ. 공유자원은 C에 해당한다.

ㄹ. 유료 케이블 TV 서비스는 D에 해당한다.

- ① ㄱ, ㄴ ② ㄱ, ㄷ ③ ㄴ, ㄷ ④ ㄴ, ㄹ ⑤ ㄷ, ㄹ

12. (가)에 해당하는 정책을 <보기>에서 모두 고르면?

A국, 경제정책 방향 바꾸기로

A국의 지속적인 경기 확장 정책에 힘입어 최근 각종 경제지표가 크게 호전되고 있다. A국은 기존 정책 목표가 충분히 달성되었다고 보고 이제 지나친 경기과열을 막기 위해 (가)통화공급을 줄이는 정책을 실시하겠다고 밝혔다.

< 보 기 >

ㄱ. 기준금리 인상 ㄴ. 국공채 매각

ㄷ. 지급준비율 인하 ㄹ. 재할인을 인하

- ① ㄱ, ㄴ ② ㄱ, ㄷ ③ ㄴ, ㄷ ④ ㄴ, ㄹ ⑤ ㄷ, ㄹ

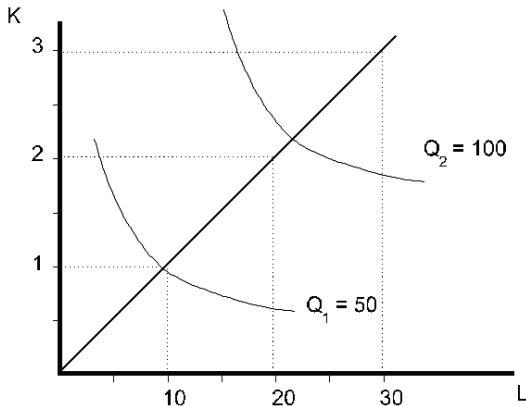
13. 수요의 가격 탄력성에 대한 설명으로 옳은 것을 <보기>에서 모두 고르면?

< 보 기 >

ㄱ. 시장의 범위가 좁을수록 수요의 가격 탄력성은 작다.
 ㄴ. 대체제가 많을수록 수요의 가격 탄력성은 더 커진다.
 ㄷ. 일반적으로 사치품은 생활필수품보다 수요의 가격 탄력성이 작다.
 ㄹ. 수요의 탄력성을 측정하는 기간이 길수록 수요의 가격 탄력성이 커진다.

- ① ㄱ, ㄴ ② ㄱ, ㄷ ③ ㄴ, ㄷ ④ ㄴ, ㄹ ⑤ ㄷ, ㄹ

14. 아래 그래프는 등량곡선을 나타내고 있다. 여기서 자본(K)과 노동(L)은 생산에 투입되는 생산요소(input)이고, Q는 산출량(output)을 나타낸다. 아래의 등량곡선에 대해 설명 중 옳은 것은?



- ① 원점을 지나는 선이 직선이기 때문에 규모에 대한 수확불변이다.
 ② 등량곡선이 원점에 대해 볼록하기 때문에 규모에 대한 수확감소이다.
 ③ 등량곡선이 원점에 대해 볼록하기 때문에 규모에 대한 수확증가이다.
 ④ 생산요소의 투입량이 두 배가 될 때 생산량은 두 배보다 적게 증가하기 때문에 규모에 대한 수확감소이다.
 ⑤ 생산요소의 투입량이 두 배가 될 때 생산량은 두 배보다 많이 증가하기 때문에 규모에 대한 수확증가이다.

15. 전략적 상황에서 우월전략을 갖게 되는 경우에 대한 설명으로 옳은 것은?

- ① 소득이 많은 사람이 우월전략을 갖게 된다.
 ② 자신의 강점만을 강조하는 전략이 우월전략이다.
 ③ 다른 사람의 약점을 찾으려는 전략이 우월전략이다.
 ④ 미래 상황에 대한 예측력이 뛰어난 사람이 우월전략을 갖게 된다.
 ⑤ 상대방의 행동과 무관하게 항상 자신에게 유리한 상황이 있는 경우 우월전략을 갖게 된다.

16. 영국의 경제학자 케인스가 언급한 ‘절약의 역설’ 현상에 대한 설명으로 가장 적합하지 않는 것은?

- ① 경제가 불황일수록 저축보다는 소비가 중요하다.
 ② 절약의 역설에 따르면 경제 불황 시기에는 소비가 중요하다.
 ③ 사람들이 저축을 늘리려고 시도하면 경제 전체의 저축이 오히려 줄어들 수 있다.
 ④ 절약의 역설이 발생하면, 기업의 채용은 감소한다.
 ⑤ 저축의 증가는 결과적으로 총수요의 감소로 이어져 국민소득이 감소하게 된다.

17. 코로나19 충격으로 인해 정부는 작년에 재난지원금을 보조금(음의 조세) 형태로 전 국민에게 지급하는 정책을 시행하고, 한국은행은 금리를 인하하였다. 이에 대한 설명으로 옳지 않은 것을 고르시오.(단, 한국의 민간소비 함수가 다음과 같이 주어졌다고 가정하자.)

$C = 0.9 \times (Y^P - T^P) + 0.1 \times (Y^T - T^T) - 0.2 \times r$	
C	민간소비
Y^P	항상소득
T^P	항구적 조세
Y^T	일시소득
T^T	일시적 조세
r	실질이자율

- ① 코로나19 충격으로 항상소득이 감소하였다면, 민간 소비는 장기적으로 부진할 것이다.
 ② 재난지원금 지급은 일시적이기 때문에 이에 따른 소비증가는 매우 제한적일 것이다.
 ③ 기대인플레이션이 변화하지 않는다면, 한국은행의 금리인하는 민간소비에 긍정적 영향을 미칠 것이다.
 ④ 코로나19 충격으로 일시적 소득이 감소하였다면, 소득의 변동성보다 소비의 변동성이 작을 것이다.
 ⑤ 금리인하 정책이 보조금정책보다 정부부채를 더 증가시킬 것이다.

18. 기업 이윤의 본질을 가장 정확하게 설명한 것은 무엇인가?

- ① 생산에 기여한 바 없이 누리는 자본
- ② 근로자들에게 주어야 할 임금을 덜 주고 남긴 결과
- ③ 이익집단과 긴밀한 관계를 유지함으로써 얻는 초과 소득
- ④ 근로자와 고객 등 모든 사회구성원들이 함께 일구어 낸 소득
- ⑤ 임금, 이자, 세금 등 기업이 약속한 모든 비용을 지불하고 남은 소득

19. 공급측면에서 인플레이션을 발생시키는 원인이 아닌 것은?

- ① 추가경정예산 집행
- ② OPEC의 감산에 따른 석유 가격 급등
- ③ 폭염, 홍수 등과 같은 자연재해
- ④ 환경보호에 대한 국민들의 인식 증대
- ⑤ 노동 생산성을 초과한 최저임금의 급격한 상승

20. 많은 국가가 중앙은행을 정부로부터 독립된 기관으로 설립하고 있다. 이러한 이유에 대한 설명과 관련이 없는 것은?

- ① 정부는 단기적인 목표에 집착하는 경향이 있다.
- ② 중앙은행의 통화정책은 재정정책보다 이해관계 대립이 적다.
- ③ 중앙은행의 역할이 고용확대까지 포괄하는 등 점차 확대되고 있다.
- ④ 물가상승률을 낮게 유지하면 경기변동성이 완화되는 경향이 있다.
- ⑤ 중앙은행이 독립된 국가의 물가상승률이 그렇지 않은 국가보다 낮은 수준이다.

21. 독점기업의 이윤 극대화 산출량 결정에 대한 설명 중 옳은 것을 고르시오?

- ① 한계비용과 한계수입이 일치하는 산출량 수준으로 결정된다.
- ② 가격과 한계수입이 일치하는 산출량 수준으로 결정된다.
- ③ 가격과 평균비용이 일치하는 산출량 수준으로 결정된다.
- ④ 가격과 한계비용이 일치하는 산출량 수준으로 결정된다.
- ⑤ 한계비용과 평균비용이 일치하는 산출량 수준으로 결정된다.

22. 다음 지문을 읽고, ㉠~㉣과 관련한 설명 중 옳지 않은 것은?(㉠~㉣은 경기적 실업, 구조적 실업, 마찰적 실업 중 하나이다.)

○ ○ 연구원은 현재 증가하는 실업은 복합적 실업이라고 진단했다. 일단 코로나 바이러스로 인한 소비 및 투자심리 위축으로 (㉠) 실업이 초래되고 있다고 밝혔다. 또한 부실기업 퇴출 조치에 따른 (㉡) 실업의 증가가 불가피하다고 덧붙였다. 그리고 산업간 노동수급의 불일치가 발생하면서 단기적으로 (㉢) 실업도 점차 늘어날 것으로 예상했다.

- ① 정부는 ㉠을 줄이기 위해 재정지출 확대 정책을 실시한다.
- ② 건설 부문, 농업 부문의 노동자는 항시 ㉡에 직면하게 된다.
- ③ 4차 산업 혁명이 가져올 노동 시장의 변화는 ㉡과 관련이 깊다.
- ④ 채용 방식을 개선해 ㉢으로 인한 비용을 줄일 수 있다.
- ⑤ ㉡과 ㉢은 정상적 경제 상태에서 발생하는 자연 실업에 해당한다.

23. 정부는 비트코인, 이더리움 등을 가리켜 암호화폐나 가상화폐가 아니라 가상자산이라는 용어를 사용한다. 어떤 자산이 화폐로 인정받기 위해서는 반드시 만족해야 하는 기능들이 있다. 화폐의 기능과 관련한 <보기>의 설명 중 옳은 것을 모두 고르시오.

< 보 기 >

㉠. 가상자산으로 재화와 서비스를 매매하는 것은 화폐에 비해서는 제한적이므로 거래의 매개수단으로 한계가 있다.

㉡. 가상자산의 가격은 변동성이 큰 편이기 때문에 거래의 매개수단으로서의 기능을 제한된다.

㉢. 가상자산과 달리 화폐는 현재의 구매력 그 대로를 미래로 이연시킬 수 있다.

㉣. 대표적인 가상자산인 비트코인으로 상품이나 서비스를 결제하려면 가격이 소수점으로 표시되기 때문에 회계의 단위로 사용하기 적합하지 않다.

- ① ㉠, ㉡ ② ㉡, ㉢ ③ ㉠, ㉡, ㉢
- ④ ㉠, ㉡, ㉢ ⑤ ㉠, ㉡, ㉢, ㉣

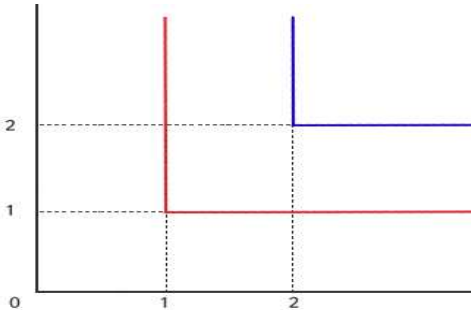
24. 필립스곡선에 대한 <보기>의 설명 중 옳은 것을 모두 고르시오.

< 보 기 >

ㄱ. 필립스곡선은 본래 실업률과 명목임금상승률 간의 단기적 상충관계를 나타내는 관계였다.
 ㄴ. 필립스곡선은 총공급 곡선의 다른 표현 형태라 할 수 있다.
 ㄷ. 1970년대에 발생한 유가 파동으로 인해 실업률과 인플레이션 사이에 양(+)의 관계가 나타났다.

- ① ㄱ ② ㄱ, ㄴ ③ ㄱ, ㄷ ④ ㄴ, ㄷ ⑤ ㄱ, ㄴ, ㄷ

25. 무차별곡선이 아래 그림처럼 직각의 형태로 표현될 경우, 이에 적합한 두 재화를 옳게 짝지은 것은?



①	커피	녹차
②	책	자동차 매연
③	옷	연필
④	사과	소음
⑤	왼쪽 신발	오른쪽 신발

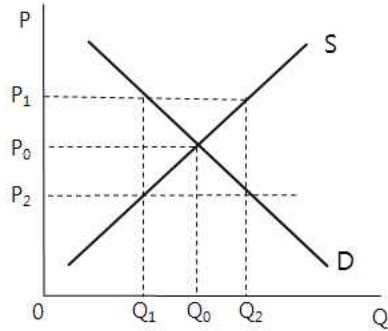
26. 갑국과 을국이 비교우위에 따라 무역을 한다고 하자. 이에 따라 해당 국가에 미칠 영향으로 옳은 것을 <보기>에서 모두 고르려면?

< 보 기 >

ㄱ. 외국 상품이 국내 시장을 왜곡한다.
 ㄴ. 다양한 상품을 저렴한 가격에 구매할 수 있다.
 ㄷ. 국내 독점 산업의 진입장벽이 제거되면서 국내 소비자 잉여가 증가한다.
 ㄹ. 모든 산업 근로자의 소득에서 영향을 받지 않는다.

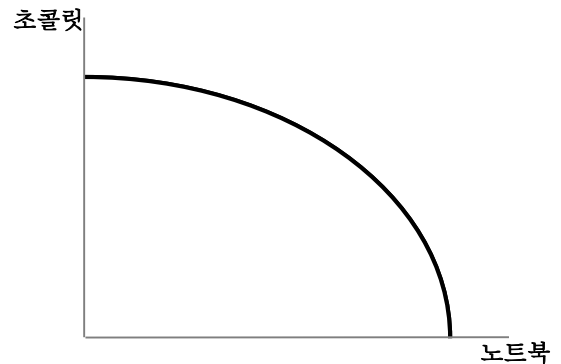
- ① ㄱ, ㄴ ② ㄱ, ㄷ ③ ㄴ, ㄷ ④ ㄴ, ㄹ ⑤ ㄷ, ㄹ

27. 어느 재화의 국내 시장에서의 균형 가격과 거래량은 P_0, Q_0 이다. 이제 경제가 개방되어 P_1 의 가격으로 재화의 수출길이 열렸다. 이에 따른 국내 시장의 변화로 옳은 것은?(S, D는 각각 국내 공급, 수요 곡선이다.)



- ① 전체 잉여는 증가한다.
- ② 소비자 잉여는 증가한다.
- ③ 수출량은 Q_0Q_2 에 해당한다.
- ④ 국내 가격은 P_0 가 유지된다.
- ⑤ Q_1Q_2 만큼 초과 수요가 발생한다.

28. 다음은 어느 국가의 노트북과 초콜릿 생산에 대한 생산가능곡선이다. 이에 대한 설명으로 옳지 않은 것은?



- ① 노트북 생산량이 증가할수록 노트북 생산에 대한 기회비용이 증가한다.
- ② 초콜릿 생산량이 증가할수록 초콜릿 생산에 대한 기회비용이 감소한다.
- ③ 초콜릿 생산과 노트북 생산은 서로 상충관계에 있다.
- ④ 지식과 기술의 진보는 생산가능곡선을 바깥쪽으로 이동시킨다.
- ⑤ 초콜릿과 노트북을 생산하는 기회비용의 차이가 점점 더 커질수록 생산가능곡선은 원점에 대해 더욱 오목해진다.

38. 다음 신문기사를 읽고, 밑줄 친 이것에 해당하는 것은 무엇인가?

달러 등 법정화폐와 1 대 1로 가치가 고정된 암호 화폐인 '이것'의 시가총액이 1000억달러를 넘어서자 제도권 편입 여부를 두고 논쟁이 오가고 있다.
○○경제신문, 2021.7.22

- ① 코인 블루 ② 월드 체인 ③ 스테이블 코인
④ 코인 트레이 ⑤ 라이트 코인

39. <보기>에서 기존 경영진의 경영권을 보호하기 위한 제도를 모두 고르면?

< 보 기 >

ㄱ. 황금낙하산 ㄴ. 액면분할
ㄷ. 백기사 ㄹ. 그린메일

- ① ㄱ, ㄴ ② ㄱ, ㄷ ③ ㄴ, ㄷ ④ ㄴ, ㄹ ⑤ ㄷ, ㄹ

40. 불법 거래가 이뤄지는 암시장을 ○○마켓, 미국 증시가 대폭락한 1987년 10월 19일을 ○○먼데이라고 부른다. ○○에 공통적으로 들어갈 색깔은?

- ① 블랙 ② 레드 ③ 블루 ④ 그레이 ⑤ 화이트

41. 회사의 거래 중에서 자본총계를 증가시키는 것은?

- ① 회사 주식의 액면분할
② 잉여금을 재원으로 하는 무상증자
③ 회사 상환우선주를 보통주로 전환
④ 회사 배당금을 현금 대신 회사 주식을 발행해 지급
⑤ 회사 연구개발로 출원한 특허권에 대한 사용료 수령

42. 다음 나열한 금융사들이 공통적으로 해당하는 용어는?

증권회사, 보험회사, 종합금융회사, 상호저축은행, 카드회사, 캐피탈

- ① 제1금융권 ② 제2금융권 ③ 제3금융권
④ 투자은행 ⑤ 상호금융

43. 다음 신문기사를 읽고, 밑줄 친 단어와 같은 기조의 통화정책을 <보기>에서 모두 고르면?

미국 중앙은행(Fed) 내 대표적인 매파로 꼽히는 로버트 케플린 달러스연방은행 총재가 “오는 10월부터 테이퍼링을 시작하는 게 좋다”고 말했다. 당초 예상보다 경기 회복 속도가 빠르다는 이유에서다. 신규 실업수당 청구 건수도 3주 연속 감소했다.
○○경제신문, 2021.8.13

< 보 기 >

ㄱ. 지급준비율 인하
ㄴ. 공개시장에서 국공채 매각
ㄷ. 기준금리 인상
ㄹ. 물가안정목표제의 소비자물가 상승률 기준 2%에서 3%로 인상

- ① ㄱ, ㄴ ② ㄱ, ㄷ ③ ㄴ, ㄷ ④ ㄴ, ㄹ ⑤ ㄷ, ㄹ

44. 기관투자자가 결산기를 앞두고 보유 주식의 추가 매수 또는 매도 등을 통해 수익률을 인위적으로 끌어 올리는 행위를 무엇이라 하는가?

- ① 알고리즘 매매 ② 쇼트커버링 ③ 마진콜
④ 로스컷 ⑤ 윈도드레싱

45. 표는 예금과 채권 그리고 주식과 채권의 일반적인 특징을 각각 비교하기 위한 것이다. 이에 대한 설명으로 옳은 것은?

구분	예금	채권
공통점	㉠	
차이점	㉡	㉢

구분	주식	채권
공통점	㉣	
차이점	㉤	㉥

- ① '수익형태로 배당금을 기대할 수 있다'는 ㉠에 들어갈 수 있다.
② '수익형태로 이자를 기대할 수 있다'는 ㉢이 아닌 ㉡에 들어갈 수 있다.
③ '시세 차익을 기대할 수 있다.'는 ㉣에 들어갈 수 있다.
④ '원금 손실이 발생할 수 있다'는 ㉤에 들어갈 수 있다.
⑤ '예금에 비해 안전성이 높다'는 ㉥에 들어갈 수 있다.

46. 다음은 한국의 국가채무 추이다. 이와 같은 추세가 지속되는 것을 방지하기 위한 수단으로 알맞은 것을 <보기>에서 모두 고르면?



- < 보 기 >
- ㄱ. 페이코 원칙
 - ㄴ. 의무지출 확대
 - ㄷ. 재정준칙 강화
 - ㄹ. 예비타당성 조사 기준 완화

① ㄱ, ㄴ ② ㄱ, ㄷ ③ ㄴ, ㄷ ④ ㄴ, ㄹ ⑤ ㄷ, ㄹ

47. 국가와 국가 또는 한 국가와 세계 경기가 비슷한 흐름을 보이지 않고 독자적인 움직임을 보이는 탈동조화 현상을 무엇이라 하는가?

- ① 디커플링 ② 아웃소싱 ③ 리쇼어링
- ④ 레버리지 ⑤ 블랙아웃

48. 주식을 가지고 있지 않은 상태에서 주식을 팔겠다는 주문을 내는 것을 말한다. 시세 차익을 추구하는 투자 방법의 하나지만, 개인투자자에게 피해를 주는 부작용이 크다는 비판도 받고 있는 이것은?

- ① 블록딜 ② 공매도 ③ 동시호가
- ④ 경쟁매매 ⑤ 커버드 콜

49. 각 회사의 재무상태가 다음과 같을 때 다른 영업 관련 사항이 동일하다고 가정하면 경제여건의 변화에 따른 순이익 변동 폭이 가장 작은 경우는?(자산은 100이다.)

	부채	자본
①	10	90
②	70	30
③	80	20
④	45	55
⑤	30	70

50. 기업이 주식 액면분할을 시행할 때 나타나는 효과로 가장 거리가 먼 것은?

- ① 유통되는 주식 수 증가 ② 주식 액면가 하락
- ③ 주식 거래 촉진 ④ 자본금의 감소
- ⑤ 소액 투자자들의 투자 증가

51. 다음 신문기사를 읽고, 미국에서 나타나는 상황을 설명하는 용어로 알맞은 것은?

한국개발연구원(KDI)가 분석한 미국의 반독점 패키지는 △타사에 불이익 주는 행위 금지 △이해상충 사업 행위 금지 △플랫폼 간 데이터 이동성 보장 △M&A를 통한 몸집 불리기 제한 등을 주요 내용으로 하고 있다. 구글, 페이스북, 아마존 등 시장의 문지기 역할을 하고 있는 플랫폼 기업을 겨냥한 조치다. 예를 들어 아마존이 자사 상품을 더 유리한 조건으로 판매하고, 잠재 경쟁자를 제거하기 위한 인위적인 기업 M&A 등을 막겠다는 것이다.

○○경제신문, 2021.8.13

- ① 테크래시 ② 필터버블 ③ 스테이킹
- ④ 스노크래시 ⑤ 디지털 트윈

52. 다음 신문기사를 읽고, 빈칸 (A)에 들어갈 내용으로 알맞은 것을 고르시오.

실리콘밸리의 한 스타트업 대표는 “무조건 주 52시간만 일하라고 하는 건 대기업과의 경쟁을 포기하라는 것”이라며 “시장질서에 반하는 규제는 한국 정부가 먼저 풀어줘야 한다”고 말했다. (A) 규제도 실리콘밸리의 장점으로 꼽힌다. 한국에선 전기용품 등을 출시하기 전에 KC인증(국가통합인증마크)부터 받아야 한다. 반면, 미국에선 정부 인증 전에 제품을 먼저 출시하고 차후에 미국 연방통신위원회(FCC) 등 규제기관에 ‘규격 충족’을 입증하는 것도 허용된다.

○○경제신문, 2021.8.7

- ① 프리즌 ② 일몰제 ③ 비대칭
- ④ 샌드박스 ⑤ 네거티브

53. 다음 식은 조세부담률에 대한 식을 나타낸 것이다. 분자인 괄호 안에 들어갈 내용으로 알맞은 것을 고르면?

$$\text{조세부담률} = \frac{(\quad)}{\text{경상GDP}}$$

- ① 국세
- ② 지방세
- ③ 국세+지방세
- ④ 국세+사회보장기여금
- ⑤ 국세+지방세+사회보장기여금

54. 다음 신문기사를 읽고, 빈칸 (A)에 들어갈 내용으로 알맞은 것을 고르면?

○○○씨는 장을 볼 때가 되면 마트에 가는 대신 방 침대에 눕는다. 스마트폰을 들고 e커머스 앱에 접속해 햇반과 휴지, 생수를 장바구니에 넣는다. 결제 후 빠르면 5~10분, 늦어도 30분 안에 문에서 ‘똑똑’ 소리가 난다. 문 앞에는 봉투에 담긴 상품들이 차곡차곡 쌓여 있다. 주문 후 30분 안에 제품을 배송하는 (A) 커머스 시대가 왔다. 밤에 주문한 제품을 다음날 새벽에 받는 새벽배송, 아침에 주문한 제품을 오후에 받는 당일배송에서 한 단계 더 진화한 ‘분 단위 즉시배송’ 서비스다.

○○경제신문, 2021.7.19

- ① 티 ② 퀵 ③ 타임 ④ 라이브 ⑤ 비디오

55. 다음 나열한 내용은 어떤 경제학자가 언급한 말이다. 이 경제학자는 누구인가?

- If you put the federal government in charge of the Sahara Desert, in 5 years there'd be a shortage of sand.
- Governments never learn. Only people learn.
- Inflation is always and everywhere a monetary phenomenon.

- ① John Maynard Keynes
- ② Robert Lucas
- ③ Friedrich August von Hayek
- ④ Irving Fisher
- ⑤ Milton Friedman

56. 다음 신문기사를 읽고, 이와 관련한 기사 제목으로 알맞은 것을 고르면?

국내 주요 백화점 실적이 큰 폭으로 개선됐다. 신세계와 현대백화점의 2분기 실적은 코로나19 이전 수준을 웃돌았다. 1년 반째 이어진 코로나 19 사태에 지친 소비자들이 명품과 패션에 대해 폭발적으로 소비를 확대한 결과다.

○○경제신문, 2021.8.13

- ① 백화점 벌떡 일으킨 명품 ‘보복 소비’
- ② ‘네트워크 효과’로 만회한 백화점 실적
- ③ ‘록인 효과’ 마케팅으로 백화점으로 돌아온 소비자
- ④ 주요 백화점 ‘치킨 게임’으로 실적 만회
- ⑤ ‘구축효과’ 발생한 소비지출, 백화점이 돌려세워

57. 다음 신문기사를 읽고, 밑줄 친 이것에 알맞은 용어를 고르면?

첫째, 본원통화의 대체문제다. 갈수록 본원통화의 상당 부분을 디지털 통화로 대체해 나갈 것으로 보는 시각이 지배적이다. 중앙은행에선 본원통화 축소에 따른 화폐발행차익인 ‘이것’ 감소를 의미한다. 화폐발행차익 감소는 통화정책 수행비용의 재정 의존도를 심화시켜 중앙은행 독립성을 훼손할 가능성이 높다.

○○경제신문, 2021.8.18

- ① 피셔효과 ② 블랙스완 ③ 시뇨리지
- ④ 롤링효과 ⑤ 퍼펙트 스톱

58. 다음 나열한 내용을 설명하는 용어는 무엇인가?

- 지방자치단체의 전체 재원에서 지방세와 세외수입 등 자체적으로 거둬들인 재원이 차지하는 비중
- 지방자치단체 스스로 살림을 꾸릴 수 있는 능력을 나타내는 지표
- 1997년 관련 통계를 내기 시작한 이후 처음으로 전국 지방자치단체들의 이 비율이 48.7%로 집계됨.

- ① 재정건전성 ② 재정자립도 ③ 재정투입률
- ④ 재정승수율 ⑤ 재정교부율

59. 다음 나열한 내용에 가장 적합한 용어를 고르면?

- 민첩한, 기민한 조직이라는 뜻
- 부서 간 경계를 허물고 필요에 맞게 소규모 팀(Cell)을 구성하여 협업
- 불확실성이 높은 비즈니스 상황 변화에 대응하여 빠르게 성과를 도출하는 것이 목표
- 사전 분석이나 기획을 최소화하고 시제품 등을 통해 외부 피드백을 지속적으로 반영

- ① 애자일 조직 ② 각 이코노미 ③ 네트워크 조직
 ④ 매트리스 조직 ⑤ 라인 스태프 조직

60. 다음 (A), (B)를 설명하는 단어를 알맞게 짝지은 것은?

- (A) 현재 시점에서 기업의 영업활동을 중단하고 사업을 그만두기로 할 경우 회수 가능한 금액의 화폐적 가치
 (B) 현재 시점에서 기업이 지속적인 영업을 한다고 가정해 자산을 평가하는 경우

	(A)	(B)
①	청산가치	존속가치
②	청산가치	내재가치
③	청산가치	순자산가치
④	내재가치	존속가치
⑤	내재가치	잔존가치

< 상황 추론 · 판단 >

61. 밑줄 친 ㉠, ㉡에 대한 설명으로 옳은 것은?

○○신문

제 4857 호 35면

갑국은 최근 소비와 투자 감소로 인해 경기 침체 상황에 직면하였다. 이에 갑국 정부는 ㉠ 경기 부양을 위한 재정정책을 시행하였다. 갑국 중앙은행도 ㉡경기 활성화를 위한 통화정책 계획을 발표하였다.

- ① ㉠은 총수요 감소 요인이다.
 ② ㉠의 수단으로 소득세율 인상을 들 수 있다.
 ③ ㉡은 통화량 감소 요인이다.
 ④ ㉡의 수단으로 국공채 매입을 들 수 있다.
 ⑤ ㉡의 수단으로 재할인율 인상을 들 수 있다.

62. (가), (나)에 대한 설명으로 옳은 것은?

- (가) 회사원인 갑은 최근 ㉠월급과 성과금을 받았다. 갑은 전자상가에 가서 ㉡게임을 구입하고 집으로 돌아오는 길에 저녁식사로 고등어조림을 하기 위해 시장에서 ㉢고등어를 구입했다.
 (나) 생선 조림 식당을 운영하고 있는 을은 매일 생선의 종류를 바꾸어 메뉴를 정해 판매하는데 손님들에게 좋은 반응을 얻고 있다. 어제는 고등어조림을 하기 위해 ㉣고등어를 구입하여 진랑 손님에게 판매하였다.

- ① ㉠은 갑이 생산 요소 시장에 자본을 제공한 대가에 해당한다.
 ② ㉡은 갑이 이윤을 얻기 위한 경제 활동에 해당한다.
 ③ ㉢의 증가는 ㉣과 같은 유형 경제 활동 감소 요인이다.
 ④ 을의 ㉣과 달리 갑의 ㉣은 소비 활동에 해당한다.
 ⑤ 을과 달리 갑은 기업의 역할을 담당하고 있다.

63. 표는 갑과 을의 금융 자산 보유 비중을 나타낸다. 이에 대한 옳은 설명을 <보기>에서 모두 고르면?

<표> 갑과 을의 금융 자산 보유 비중

(단위 : %)

구분	주식	채권	요구불 예금	저축성 예금
갑	55	15	10	20
을	15	25	25	35

- < 보 기 >
- ㄱ. 갑은 을에 비해 수익성을 중시하고 있다.
 ㄴ. 이자 수익을 기대할 수 있는 상품의 비중은 을보다 갑이 높다.
 ㄷ. 예금자 보호 제도의 적용을 받는 상품 보유 비중은 갑보다 을이 높다.
 ㄹ. 시세 차익을 기대할 수 있는 상품의 비중은 갑보다 을이 높다.

- ① ㄱ, ㄴ ② ㄱ, ㄷ ③ ㄴ, ㄷ ④ ㄴ, ㄹ ⑤ ㄷ, ㄹ

64. 다음 갑국 자료를 바탕으로 2020년에서 2021년으로의 변화에 대한 분석으로 옳은 것은?(단, 생산가능인구는 변화가 없다.)

갑국의 2020년 경제 활동 참가율은 75%, 고용률은 60%였다. 2021년에는 경제 활동 참가율이 80%로 상승하였고, 고용률은 60%로 동일하였다.

- ① 취업자 수는 증가하였다.
- ② 실업자 수는 증가하였다.
- ③ 경제 활동 인구는 감소하였다.
- ④ 비경제 활동 인구는 증가하였다.
- ⑤ 경제 활동 인구에서 취업자가 차지하는 비중은 변화가 없다.

65. 다음 신문기사와 경제지표를 통해 유추할 수 있는 상황 설명으로 옳지 않은 것은?

올해 소비자물가가 한은의 목표치(2%)를 넘어설 것이라는 점은 금리 인상 시점을 앞당길 변수로 꼽힌다. 물가는 올 4월(2.3%), 5월(2.6%), 6월(2.4%), 7월(2.6%) 너 달 연속 2%를 웃돌았다. 밥상 물가와 국제 유가를 비롯한 원자재 가격이 고공 행진한 결과다. 한은은 올해 물가가 2012년 후 처음으로 2%를 돌파할 것으로 전망했다. 물가 상승 압력을 줄이기 위해 금리 인상에 나서야 한다는 분석이 나온다.
○○경제신문, 2021.8.17



- ① 지난 6월에 비해 7월에 소비심리를 비관적으로 보는 소비자들이 많아졌다.
- ② 현재 소비자물가가 상승하는 요인에는 농산물 가격 상승도 일정 부분 차지한다.
- ③ 한국은행이 기준 금리를 인상하면 가계의 대출 상환 부담이 커진다.
- ④ 한국은행이 기준 금리 인상에 나서면 가계의 가처분 소득이 늘어나 소비자심리지수가 상승하게 되는 요인이 된다.
- ⑤ 은행 가계대출 증가와 기준금리 인상이 복합적으로 작용하면 소비자심리는 더 위축될 가능성도 높다.

66. 다음 가상의 A정부 정책이 시행되었다고 하자. 이에 따른 부작용을 <보기>에서 모두 고르면?

A정부는 대부업체가 보유 중인 장기·소액 연체 채권을 사들여 소각하는 방안을 다음 달 내놓기로 했다. 서민·취약계층의 재기를 돕기 위해 '빛 탕감' 범위를 정부 출자 기업과 금융공기업에 이어 민간 금융회사로 확대하겠다는 계획이다. 빛 탕감 대상자가 사상 최대인 200만 명에 이를 수 있다는 관측이 나온다.

< 보 기 >

ㄱ. 신용 시장 위축 ㄴ. 도덕적 해이 확산
ㄷ. 지니계수 상승 ㄹ. 레몬시장 확대

- ① ㄱ, ㄴ ② ㄱ, ㄷ ③ ㄴ, ㄷ ④ ㄴ, ㄹ ⑤ ㄷ, ㄹ

67. 다음 글은 밀턴 프리드먼의 저서의 내용 중 일부다. 이를 읽고, 필자의 견해와 다른 내용을 고르시오.

사회조직의 기본 문제는 수많은 사람들의 경제 행위를 어떻게 조정해 나가느냐 하는 것이다. (중략) 근본적으로 수백만 명의 경제행위를 조정해나갈 수 있는 방법은 두 가지뿐이다. 하나는 현대 전체주의 국가에서 하듯이 강제력을 동원해 중앙에서 지시하는 것이다. 다른 하나는 개인들의 자발적 협력인데, 이것이 바로 시장의 방식이다. 자발적인 협력을 통한 조정의 가능성은 당사자 모두가 이득을 본다는 명제에 기반하고 있다. 상호교환을 통해 강제력 없이도 조정이 이뤄질 수 있다. 이런 사회적 모형이 우리가 경쟁적 자본주의라고 불리는 '자유 민간기업 교환경제'다.
「자본주의와 자유」

- ① 자유무역은 국민 삶의 질을 높이게 된다.
- ② 시장에서의 자유로운 거래는 모든 사람을 이롭게 한다.
- ③ 협력과 연대를 강조하는 사회적 경제나 국가자본주의는 제 3의 길이라고 볼 수 있어.
- ④ 경제적 자유와 정치적 자유는 밀접하게 연관돼 있다고 할 수 있다.
- ⑤ 일반적으로 시장이 경제활동을 조직하는 좋은 수단이다.

68. 사탕의 소비자는 오직 3명뿐이며, 이들이 각각의 가격에서 구매하고자 하는 수량은 아래와 같다. 이에 대한 설명으로 옳지 않은 것은?

가격	소비자1	소비자2	소비자3
100원	2	5	3
200원	2	4	2
300원	2	3	2
400원	2	2	1
500원	2	1	1

- ① 가격이 300원일 때의 사탕의 시장 수요량은 7개이다.
- ② 사탕에 대한 시장 수요는 수요법칙을 만족하고 있다.
- ③ 소비자3이 더 이상 사탕을 구매하지 않는다고 해도 시장에서 수요법칙은 계속 성립한다.
- ④ 가격이 500원에서 200원으로 하락하면 사탕의 시장 수요량은 2배로 증가한다.
- ⑤ 사탕에 대한 개별 수요는 소비자 모두가 수요법칙을 만족하고 있다.

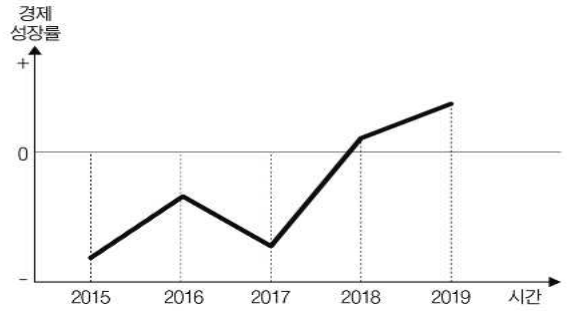
69. 다음 대화에 대한 적절한 분석 및 추론을 <보기>에서 모두 고르면?

- 사회자: 최근 우리나라 경제가 디플레이션 우려가 있다고 하는데 어떻게 생각하시나요?
- 환경: 민간의 소비와 투자가 감소가 지속되고 있어 디플레이션 우려가 크니, 이에 대한 정책이 필요합니다.
- 경제: 최근에 물가가 하락하긴 했지만 그것은 국제 원유 가격이 하락했기 때문이에요. 디플레이션 우려는 없다고 봐요.

- < 보 기 >
- ㄱ. 환경씨는 총수요 감소로 디플레이션이 올 수 있다고 생각한다.
 - ㄴ. 환경씨는 확장적 통화정책을 지지할 것이다.
 - ㄷ. 경제씨는 총공급의 감소를 물가하락의 원인으로 보고 있다.
 - ㄹ. 경제씨는 실질 GDP가 감소할 것으로 예상하지만 디플레이션 우려는 없다고 예상하고 있다.

- ① ㄱ, ㄴ ② ㄱ, ㄷ ③ ㄴ, ㄷ ④ ㄴ, ㄹ ⑤ ㄷ, ㄹ

70. 아래 그래프는 2015년부터 2019년도까지 A국의 경제성장률 변화를 나타낸 것이다. 이에 대한 옳은 추론은?



- ① 2016년의 GDP가 가장 낮다.
- ② 2015년부터 실업자 수가 계속 감소했을 것으로 예상된다.
- ③ 2015년 GDP가 2016년보다 낮다.
- ④ 2018년의 GDP는 2017년 GDP보다 낮다.
- ⑤ 2018년보다 2019년의 GDP가 크다.

71. 시장경제의 결점을 보완하기 위해 정부의 개입이 필요한 경우가 있다. 다음의 사례 중 정부개입이 가장 불필요한 경우는 어느 것인가?

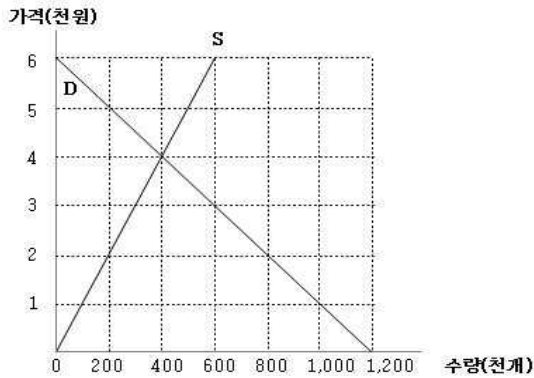
- ① 환경오염처럼 제3자에게 피해를 주는 외부성이 존재하는 경우
- ② 부동산 가격상승으로 일반 국민들의 상대적 박탈감이 증대되는 경우
- ③ 독점시장처럼 경쟁여건이 갖추어지지 않아 시장 실패가 발생하는 경우
- ④ 소외 계층을 돕기 위해 정부가 복지 정책을 실시할 필요가 있을 경우
- ⑤ 안정화와 관련하여 실업을 해소하고 물가안정과 성장촉진이 필요한 경우

72. 다음은 A국과 B국이 각각 하루에 생산 가능한 재화의 수를 비교한 것이다. 아래와 같은 상황에 대한 분석 중 옳은 것은?

	A국	B국
노트북	4	1
휴대폰	3	2

- ① A국은 노트북과 휴대폰 생산 모두에 비교우위를 가지고 있다.
- ② A국은 휴대폰 생산에 절대우위를 가지고 있으므로 휴대폰 생산에 특화해야 한다.
- ③ A국은 B국과 교역을 하지 않는 것이 유리하다.
- ④ B국은 휴대폰 생산에 특화할 때 전체 휴대폰 생산량을 늘릴 수 있다.
- ⑤ B국 노트북 생산의 기회비용은 A국보다 낮다.

73. 아래 그림은 보건용 마스크 시장의 수요곡선(D)과 공급 곡선(S)을 보여준다. 마스크의 시장 가격이 너무 높다고 판단한 정부가 마스크에 대해 가격상한제를 실시하였다. 마스크의 상한 가격은 2천 원이다. 가격상한제 시행 후의 마스크 시장에 대한 설명 중 옳은 것을 고르면?



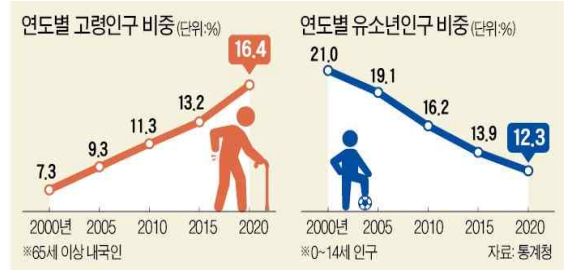
- ① 소비자잉여는 시행 전에 비해 6억 원만큼 증가한다.
- ② 생산자잉여는 시행 전에 비해 6억 원만큼 감소한다.
- ③ 경제적 총잉여는 시행 전과 비교하여 변함없다.
- ④ 마스크에 대한 초과수요가 20만 개 발생한다.
- ⑤ 마스크의 가격은 시행 전에 비해 1천 원만큼 감소한다.

74. 다음 상황과 관련한 설명으로 옳은 것을 고르면?

- SK브로드밴드와 넷플릭스 간의 네트워크 망 중립성과 망 이용 대가를 둘러싼 법적 공방이 발생했다.
- 망 중립성이란 통신망 제공사업자(ISP)가 모든 콘텐츠를 동등하고 차별 없이 다뤄야 한다는 원칙을 가리킨다. 망을 보유하지 않은 콘텐츠 제공자(CP) 같은 사업자도 동일한 조건으로 망을 이용할 수 있어야 한다는 논리가 핵심이다.
- 콘텐츠 제공자(CP)가 망 이용 대가를 지불하지 않고 무분별한 망사용으로 트래픽 문제가 발생하여 통신망 서비스 질이 하락하는 우려가 생겨났다.

- ① 통신망을 공공재로 볼지 기업 투자에 대해 사용자들이 정당한 사용료를 낼지가 가장 큰 논란이다.
- ② 법적 공방은 통신망에 대한 높은 과세로 발생한 것이다.
- ③ 망 중립성으로 통신망 서비스가 사회적 최적수준보다 적게 소비된다.
- ④ 위 문제를 피하기 위한 사례로 자동차 보험회사는 운전자의 나이가 어릴수록 더 높은 보험료를 책정한다.
- ⑤ 콘텐츠 제공자(CP)가 망 이용 대가를 지불하더라도 소비자 후생에 영향을 미치지 않는다.

75. 아래 그래프에서 한국의 고령인구와 유소년인구 비중의 추이가 지속된다고 가정하자. 이때 나타날 수 있는 사회·경제적 변화를 추론한 내용 중 옳지 않은 것은? (다른 조건은 일정하다고 가정한다.)



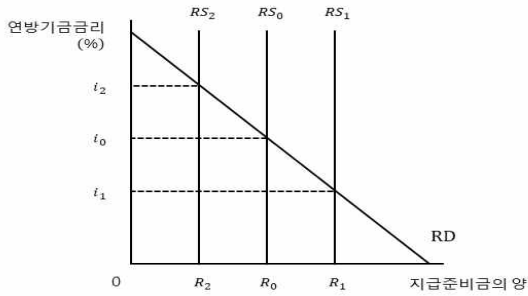
- ① 이러한 추세가 지속된다면, 2020년 이후 '고령사회'를 넘어 '초고령사회'로 진입할 수 있다.
- ② 생산가능인구가 장기적으로는 하락할 수 있다.
- ③ 합계출산율이 낮아지면 유소년인구 비중은 2020년보다 더 낮아질 것이다.
- ④ 경제활동참가율은 높아질 것이다.
- ⑤ 정년 연장에 대한 사회적 논의가 활발해질 것이다.

76. 원·달러 환율의 추이가 아래와 같이 지속된다고 가정하자. 이와 관련하여 추론한 경제적 현상 중 옳지 않은 것은?



- ① 외국인 투자자금이 국내 주식을 매도하게 되면 환율의 추이는 더 상승할 수 있다.
- ② 한국 정부의 달러 표시 외채 부담이 커질 수 있다.
- ③ 곡물을 수입하는 기업은 수입물가지수가 하락할 수 있다.
- ④ 한국은행이 기준금리를 인상하면 원·달러 환율 하락을 이끄는 요인이 될 수 있다.
- ⑤ 경기가 침체된 상황에서 원·달러 환율의 상승은 스테그플레이션을 발생시킬 수 있다.

77. 미국 중앙은행인 연방준비제도(Fed)는 연방공개시장위원회(FOMC) 정례회의를 통해 공개시장조작에 대한 정책을 논의했다. 현재 시장 균형이 (R_0, i_0) 에 있다고 가정했을 때, 연방공개시장위원회가 공개시장매각을 단행할 경우 알맞은 설명을 고르시오.



- ① 지급준비금 공급곡선은 RS_1 에서 RS_2 로 이동할 것이다.
- ② 시장균형은 (R_1, i_1) 이 될 것이다.
- ③ 연방기금금리는 하락할 것이다.
- ④ 지급준비금 공급곡선은 RS_0 에서 RS_2 로 이동할 것이다.
- ⑤ 지급준비금 공급곡선은 RS_1 에서 RS_0 으로 이동할 것이다.

78. 갑은 현재 70만 원을 가지고 있고 <1안>과 <2안> 중에서 선택을 하려고 한다. 밑줄 친 ㉠~㉢에 대한 옳은 설명을 <보기>에서 고르면?(단, 다른 조건을 고려하지 않는다.)

<1안> 1년 동안 사용한 후 구입 가격의 40%를 받고 판매점에 되파는 조건으로 A폰을 ㉠ 50만 원에 구입한다.
<2안> 1년 동안 사용한 후 판매점에 반납하는 조건으로 A폰을 ㉡30만 원에 구입하고, 나머지 20만 원은 '원금의 10%를 ㉢이자로 받는' 1년 만기 정기 예금에 가입한다.

< 보 기 >

㉠. ㉠은 매물 비용이다.
 ㉡. 2안을 선택할 때 ㉡은 암묵적 비용이다.
 ㉢. 1안을 선택할 때 ㉢은 기회비용에 포함된다.
 ㉣. 2안을 선택하는 것이 합리적이다.

- ① ㉠, ㉡ ② ㉠, ㉢ ③ ㉡, ㉢ ④ ㉡, ㉣ ⑤ ㉢, ㉣

79. 다음 지문을 읽고, 밑줄 친 ㉠을 위해 공급 측면에서 알맞은 정책을 고르면?

A국 정부는 ○○지역의 주택 가격이 현재 높다고 판단하고 ㉠이 지역의 주택 시장을 안정시키기 위한 정책을 추진하고자 한다.

< 보 기 >

㉠. 그린벨트를 확대한다.
 ㉡. 이 지역 공공 임대 주택의 건설을 늘린다.
 ㉢. 이 지역의 아파트 신축 사업 기준을 완화한다.
 ㉣. 이 지역 2주택 이상 보유자에게 높은 세금을 부과한다.

- ① ㉠, ㉡ ② ㉠, ㉢ ③ ㉡, ㉣ ④ ㉡, ㉣ ⑤ ㉢, ㉣

80. 아래 글은 조선시대 실학자 박제가가 쓴 「북학의」의 한 대목이다. 박제가가 이 글을 통해 강조하려는 주장은 무엇인가?

전주의 장사꾼은 처자식을 거느리고 생강과 참빗을 짚어지고 걸어서 의주까지 간다. 이익이 없는 건 아니지만 걷느라 모든 근력이 다 빠지고, 가정적인 낙은 즐길 틈이 없다. 또 원산에서 마른 미역과 마른 생선을 말에 싣고 왔다가 사흘 만에 다 팔고 돌아가면 적은 이익이나마 생긴다. 하지만 닻새가 걸리면 본전만 하게 되고, 열흘이나 머물면 오히려 본전이 크게 줄어든다. 영동 지방의 경우 꿀은 생산되나 소금이 없고, 평안도 관서에 철은 생산되나 감귤이 없으며, 함경도 북도는 삼이 흔해도 무명은 귀하다. 산골에는 붉은 판이 흔하고, 해변에는 창명젓과 메기가 흔하다. 영남의 고찰에서는 좋은 종이를 생산하고, 청산 보은에는 대추나무가 많으며, 한강 입구에 있는 강화에는 감이 많다. 백성들은 이런 물자를 서로 이용하여 풍족하게 쓰고 싶어도 힘이 미치지 않는다.

- ① 지역 특산물 생산을 장려해야 잘 살게 된다.
- ② 지역 간 분업이 잘되어 있어서 생산성이 오른다.
- ③ 열심히 마케팅을 하면 누구나 부자가 될 수 있다.
- ④ 유통망이 잘 연결되면 서로가 이익을 볼 수 있다.
- ⑤ 중앙정부가 지역 생산물을 사줘야 한다.

<끝, 수고 하셨습니다.>

TESAT 8회 모의고사 정답 및 배점

문제	정답	배점	난이도	문제	정답	배점	난이도
1	2	3	하	41	5	4	상
2	5	4	하	42	2	3	하
3	3	3	하	43	3	4	하
4	2	3	하	44	5	3	하
5	3	3	하	45	3	4	하
6	3	3	하	46	2	4	하
7	4	3	하	47	1	3	하
8	1	3	중	48	2	3	하
9	4	4	하	49	1	3	상
10	5	3	하	50	4	4	하
11	2	3	하	51	1	3	하
12	1	3	하	52	5	3	하
13	4	4	하	53	3	3	하
14	4	4	상	54	2	3	하
15	5	3	중	55	5	4	하
16	4	3	하	56	1	4	하
17	5	4	상	57	3	3	하
18	5	3	하	58	2	3	하
19	1	3	하	59	1	3	하
20	3	3	하	60	1	3	중
21	1	3	하	61	4	5	하
22	2	4	하	62	4	5	하
23	3	4	하	63	2	5	하
24	5	4	중	64	2	5	하
25	5	3	중	65	4	5	하
26	3	3	하	66	1	5	하
27	1	4	중	67	3	5	하
28	2	4	하	68	5	5	하
29	5	3	하	69	1	5	하
30	5	3	하	70	5	5	하
31	4	3	하	71	2	5	하
32	1	3	하	72	4	5	하
33	2	4	하	73	2	5	하
34	3	3	하	74	1	5	중
35	4	3	하	75	4	5	하
36	3	3	하	76	3	5	하
37	4	4	하	77	4	5	중
38	3	3	하	78	5	5	하
39	2	4	하	79	3	5	하
40	1	3	하	80	4	5	하

9회 모의고사 문제지

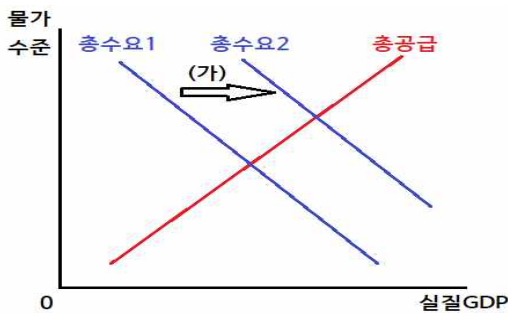
- 문제지 앞표지에 성명과 수험번호를 적었는지 확인 하십시오.
- 경제이론과 시사경제·경영은 문항당 3점, 4점이고 상황추론·판단은 문항당 5점입니다.
- 시험시간은 100분입니다.

< 경제 이론 >

1. 경쟁의 의미와 관련한 설명 중 가장 적절한 것은?

- ① 자유경쟁은 시장경제를 구성하는 원리가 아니다.
- ② 시장은 독점 등을 통제하기에는 부적합하기 때문에 규제해야 한다.
- ③ 시장에서의 경쟁은 만인에 대한 만인의 투쟁 상태이므로 억제해야 한다.
- ④ 경쟁에서 낙오하여 가난하게 살아가는 사람들이 존재하여 사회적 불평등을 일으키므로 경쟁은 불필요하다.
- ⑤ 경쟁은 기업들이 효율적인 생산방법이나 소비자들의 욕구충족에 적합한 상품을 찾아낼 수 있도록 한다.

2. 그림은 (가)의 이동으로 발생한 인플레이션을 나타낸다. (가)로 이동하는 요인으로 알맞은 것을 <보기>에서 고르면?



< 보 기 >

- ㄱ. 흑자 재정 정책 시행
- ㄴ. 국공채 매입 정책 시행
- ㄷ. 소득세율 인상 정책 시행
- ㄹ. 지급 준비율 인하 정책 시행

- ① ㄱ, ㄴ ② ㄱ, ㄷ ③ ㄴ, ㄷ ④ ㄴ, ㄹ ⑤ ㄷ, ㄹ

3. 수요곡선에 미치는 영향이 다른 하나를 고르면?

- ① 대체재 공급 증가
- ② 소비자의 수 증가
- ③ 미래 가격 상승 예상
- ④ 보완재 생산기술 발전
- ⑤ 재화에 대한 소비자의 선호도 증가

4. 조세(tax)에 관한 설명 중 옳은 것은?

- ① 부가가치세는 직접세이다.
- ② 소득세 제도는 자동안정화장치와 무관하다.
- ③ 우리나라는 지방세에 비해 국세의 비중이 더 크다.
- ④ 세율이 일정하다면 수요와 공급이 탄력적일수록 경제적 순손실이 작아진다.
- ⑤ 세율이 계속 높아질수록 정부의 조세 수입은 증가해 재정 적자 완화에 도움이 된다.

5. 초인플레이션을 막기 위한 가장 효과적인 방법은?

- ① 물가상승 기대를 낮추기 위해 계몽 노력을 한다.
- ② 중앙은행으로 하여금 정부정책에 보다 적극적으로 협조하도록 한다.
- ③ 대규모 토목공사 등의 재정확대정책의 효과를 극대화하도록 한다.
- ④ 화폐 사용을 억제하고 신용카드의 사용을 장려한다.
- ⑤ 정부재정을 건전화하여 통화남발 가능성을 줄인다.

6. 정부가 정부지출을 100만큼 증가시켰다고 하자. 이때 국내총생산(GDP)은 100보다 적게 증가하였다. 그 이유를 설명할 수 있는 <보기>의 설명을 고르면?

< 보 기 >

- ㄱ. 가계의 가처분 소득 증가
- ㄴ. 이자율 상승으로 투자 감소
- ㄷ. 해외 소비자들의 소비증가로 수출 증가
- ㄹ. 소비자가 미래에 조세가 증가할 것으로 기대

- ① ㄱ, ㄴ ② ㄱ, ㄷ ③ ㄴ, ㄷ ④ ㄴ, ㄹ ⑤ ㄷ, ㄹ

7. 영화관이 손님이 없는 아침에 조조할인을 제공하고, 손님이 몰리는 주말에는 평일보다 비싼 관람료를 받는 전략을 가장 잘 설명한 용어는?

- ① 역선택 ② 가격차별 ③ 정보 비대칭
- ④ 공유지의 비극 ⑤ 중위투표자 정리

8. 죄수의 딜레마에 대한 설명으로 옳지 않은 것은?

- ① 우월전략이 존재한다.
- ② 과점시장에서 기업 간 관계를 잘 설명할 수 있다.
- ③ 게임 참가자들 간의 자유로운 의사소통이 가능함을 전제로 한다.
- ④ 죄수의 딜레마 상황이 무한 반복되는 경우 참가자들 간 협조가 쉬워진다.
- ⑤ 자신의 이익을 추구하면 게임에 참가한 주체들의 전체적인 이익은 극대화되지 않을 수 있다.

9. 다음 대화 중 민주적 의사결정과 시장경제체제를 가장 잘 이해한 사람은?

- ① 가영 : 소비자들은 매일 구매 행위를 통해 제품에 대해 투표를 하고 있다고 할 수 있지.
- ② 나영 : 다수결 투표를 하면 비효율적인 계획이 승인되는 것을 방지할 수 있어.
- ③ 다영 : 대의민주주의에서 다수결 투표로 계획이 승인되면 승인된 계획의 생산성은 확실히 확보될 거야.
- ④ 라영 : 시장경제에서 왕은 소비자나 민간 기업이 아니라 정부야.
- ⑤ 마영 : 우리가 가장 많은 자원을 갖기를 원한다면 가격과 투자 할당량을 다수결 투표로 정해야 해.

10. 가격상한제에 대한 <보기>의 설명으로 알맞은 것을 고르면?

< 보 기 >

ㄱ. 초과공급이 발생한다.

ㄴ. 사회적 후생손실이 발생한다.

ㄷ. 암시장이 생길 가능성이 높다.

ㄹ. 시장 균형가격보다 높게 설정되어야 효과가 나타난다.

- ① ㄱ, ㄴ ② ㄱ, ㄷ ③ ㄴ, ㄷ ④ ㄴ, ㄹ ⑤ ㄷ, ㄹ

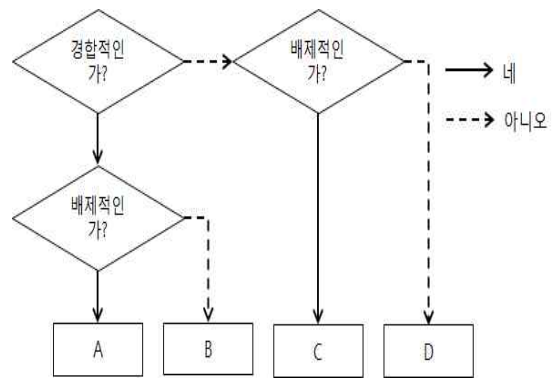
11. 회주의 한계소비성향은 0.4이라고 한다. 회주가 거주하는 국가의 정부는 국민에게 20%의 고정된 세율로 소득세를 무조건 부과한다고 한다. 만약 회주의 소득이 200만큼 증가한다면 회주의 소비 증가량은 얼마인가?

- ① 48 ② 64 ③ 80 ④ 96 ⑤ 112

12. 효율성 임금이론은 실질임금이 균형임금 수준보다 높게 결정되면 노동생산성이 높아진다는 이론이다. 이런 견해를 뒷받침하는 것으로 볼 수 없는 것은?

- ① 높은 실질임금은 노동자들의 태만을 줄인다.
- ② 높은 실질임금으로 노동 고용량이 늘어 노동의 한계생산성이 증가한다.
- ③ 높은 실질임금을 제공하면 생산성이 높은 노동자들을 채용할 가능성이 높아진다.
- ④ 높은 실질임금은 노동자의 이직률을 낮춰 직업훈련에 필요한 비용을 줄일 수 있다.
- ⑤ 실질임금이 최저생계비보다 낮으면 노동력 유지에 필요한 영양 공급이 불충분할 수 있다.

13. 재화를 다음과 같이 분류했을 때 A~D에 대한 설명으로 옳은 것은?



- ① A는 공공재다.
- ② B는 공유지의 비극이 나타난다.
- ③ 혼잡하지 않은 무료 고속도로는 C에 해당한다.
- ④ C에서는 무임승차 문제가 발생한다.
- ⑤ D는 시장에 맡길 경우 과다 생산된다.

14. 완전경쟁시장에서 거래되는 X재와 Y재 중에서 X재의 가격은 3,000원이고, Y재의 가격은 2,000원이다. 현재 철수가 구매한 수준에서 X재 1단위의 소비로부터 얻는 효용이 Y재 1단위의 소비에서 얻는 효용보다 2배라고 한다. 지금보다 총효용을 증가시키기 위해서 철수는 어떻게 소비를 변화시켜야 하는가?

- ① 알 수 없다.
- ② 두 재화 모두 소비를 줄인다.
- ③ 두 재화 모두 소비를 늘린다.
- ④ X재 소비를 줄이고, Y재 소비를 늘린다.
- ⑤ X재 소비를 늘리고, Y재 소비를 줄인다.

15. 경기침체에 대한 설명으로 옳지 않은 것은?

- ① 경기가 침체하면 자연실업률 이상의 실업이 발생한다.
- ② 경기침체는 투자에 비해 저축이 부족하여 발생한다.
- ③ 중앙은행의 긴축적인 통화정책으로 경기침체가 발생할 수 있다.
- ④ 스태그플레이션은 자연 재해 등으로 경기가 침체될 때에 나타난다.
- ⑤ 가격과 임금이 신축적으로 작동하는 경제에서는 수요 부족으로 불황이 나타나도 정부의 개입 없이 시장을 통해 해결할 수 있다.

16. A 국가의 올해 지니계수가 작년보다 낮아졌다고 한다. 이를 가장 잘 설명한 것은?

- ① 소득분배의 불평등도가 심화되었다.
- ② 올해 십분위분배율이 작년보다 작아졌다.
- ③ 생산가능곡선이 왼쪽으로(안쪽으로) 이동했다.
- ④ 올해 1인당 국민소득이 작년보다 훨씬 작아졌다.
- ⑤ 로렌츠곡선이 소득분배균등선(45°선)에 가까워졌다.

17. 자동차보험 시장에서 역선택 문제를 가장 잘 설명한 것은?

- ① 비싼 자동차를 소유한 사람들이 값싼 보험을 구입한다.
- ② 사람들이 복잡한 보험 약관을 잘 모르기 때문에 보험에 가입하지 않는다.
- ③ 정부가 강제로 자동차보험에 가입하게 하는 것은 역선택 해결에 도움이 되지 않는다.
- ④ 사고 위험이 낮은 사람들은 보험가입을 꺼리고 사고 위험이 높은 사람들이 주로 보험에 가입하려 한다.
- ⑤ 빅데이터 기술이 발전하면 역선택의 문제는 해결된다.

18. 어떤 재화 수요의 가격탄력성이 완전탄력적이라고 한다면 이 재화에 대한 설명으로 가장 올바른 것은?

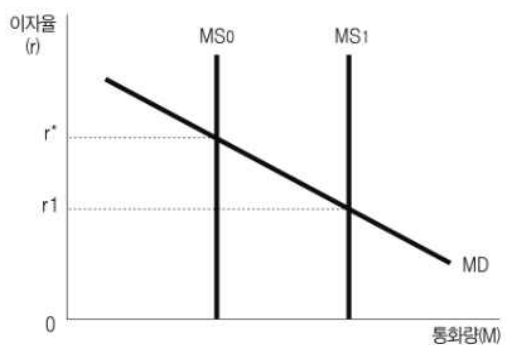
- ① 수요곡선은 수직선이다.
- ② 공급이 증가하면 가격이 하락한다.
- ③ 공급이 감소해도 재화의 거래량은 감소하지 않는다.
- ④ 공급자에게 세금을 부과하면 언제나 공급자가 세금을 모두 부담하게 된다.
- ⑤ 수요자에게 세금을 부과하면 세금의 일부가 재화의 공급자에게 전가된다.

19. 아래 글은 신문 칼럼 내용 중 일부다. 이 글의 핵심 내용을 가장 잘 표현한 그래프는 무엇인가?

정부가 부동산 관련 세율을 대폭 올렸다. 우리나라는 부동산뿐 아니라 법인세, 소득세 등도 다른 나라와 달리 계속 올리고 있다. 전문가들은 정부가 세율을 올린다고 세수가 늘어나는 것은 아니라고 지적한다. 세율이 걱정 수준을 벗어나면 오히려 세수가 감소할 수 있다는 얘기도.

- ① IS-LM 곡선 ② 래퍼곡선 ③ 총수요곡선
- ④ 무차별곡선 ⑤ 효율곡선

20. 다음 그래프는 중앙은행의 화폐공급과 이자율 사이의 관계를 나타낸 것이다. 중앙은행이 화폐공급을 MS_0 에 MS_1 으로 늘리면 단기적으로 예상되는 상황으로 옳은 것을 <보기>에서 고르면?



< 보 기 >

ㄱ. 투자 증가 ㄴ. 소비 감소
 ㄷ. 통화가치 하락 ㄹ. 저축 증가

- ① ㄱ, ㄴ ② ㄱ, ㄷ ③ ㄴ, ㄷ ④ ㄴ, ㄹ ⑤ ㄷ, ㄹ

21. 경기 침체와 소비 위축이 극심하다고 판단될 때, 정부나 중앙은행이 꺼낼 수 있는 정책 수단으로 가장 거리가 먼 것은?

- ① 보편적 증세 ② SOC예산 확대
- ③ 기준금리 인하 ④ 국공채 매입 확대
- ⑤ 추가경정예산 편성

22. 재화 A의 공급곡선이 완전히 탄력적이고 수요곡선은 비탄력적이라고 가정하자. 정부가 종량세 100원을 부과했을 때 조세 귀착은?

- ① 소비자가 100원을 부담한다.
- ② 생산자가 100원을 부담한다.
- ③ 생산자와 소비자가 각각 50원씩 부담한다.
- ④ 생산자와 소비자 아무도 부담하지 않는다.
- ⑤ 알 수 없다.

23. ‘오즈의 마법사’는 화폐 제도의 개혁을 요구했던 19세기 말 미국의 창작 동화다. 당시의 경제 상황을 기술한 다음의 설명 중 사실에 해당하는 것은?

- ① 소득의 재분배 정책을 요구하였다.
- ② 인플레이션을 통제할 필요성을 역설하였다.
- ③ 금 본위제를 은 본위제로 개편할 것을 요구하였다.
- ④ 가난한 사람들을 위해 화폐가치를 높일 것을 요구하였다.
- ⑤ 금, 은 등 귀금속 제련술이 발전하면서 논란은 더욱 커졌다.

24. 다음 제시문은 전세계약 만료를 앞둔 부부의 대화이다. 남편이 모르고 있는 경제학의 개념은 무엇인가?

- 남편 : 전세계약이 다음 달에 끝나는데 이사를 안 할 수 없을까?
- 아내 : 주인에게 보증금 변동 없이 계약 연장 하자고 해볼까?
- 남편 : 우리 돈 모아놓은 거 있는데 차라리 전세 보증금을 올려주면 어때? 어차피 돌려 받을 거 아니야?
- 아내 : ???

- ① 분업 ② 희소성 ③ 총효용
- ④ 기회비용 ⑤ 경제적 지대

25. 다음 지문에서 (가)에 들어갈 수 있는 내용으로 옳지 않은 것은?

A재와 B재는 서로 보완 관계에 있고 A재와 C재는 서로 대체 관계에 있다. 이때 A재의 공급이 증가하면 (가).

- ① A재의 가격이 하락한다.
- ② B재의 가격이 하락한다.
- ③ B재의 거래량이 증가한다.
- ④ C재의 거래량이 감소한다.
- ⑤ C재의 판매 수입이 감소한다.

26. 다음 글의 빈 칸 ㉠~㉤에 들어갈 내용을 알맞게 짝지으면?

원화가치의 (㉠)에 가속도가 붙으면서 수출기업들의 대외 경쟁력이 저하될 우려가 커지자, 우리나라 중앙은행이 시장에서 달러화를 (㉡)한 것으로 밝혀졌다. 이로 인해 중앙은행의 대외지급준비자산은 (㉢)하고, 중앙은행이 통화안정증권을 매도하지 않는다면 시중의 통화량은 (㉣)할 것으로 예측된다.

	㉠	㉡	㉢	㉣
①	하락	매도	감소	증가
②	하락	매입	증가	감소
③	상승	매도	감소	감소
④	상승	매입	증가	증가
⑤	상승	매입	증가	감소

27. 다음 중 상품의 수출입을 변화시키는 요인에 대한 <보기>의 설명으로 옳은 것을 모두 고르면?

< 보 기 >

ㄱ. 교역상대국의 국내총생산(GDP)이 증가하면 우리나라 상품의 해외수출은 감소한다.

ㄴ. 우리나라 국내총생산(GDP)이 증가하면 해외 상품에 대한 수입은 증가한다.

ㄷ. 우리나라 통화 가치가 하락하면 국내 생산 제품의 해외 수출에 대한 가격 경쟁력이 높아져 수출이 증가하고 수입이 감소한다.

- ① ㄱ ② ㄴ ③ ㄱ, ㄷ ④ ㄴ, ㄷ ⑤ ㄱ, ㄴ, ㄷ

28. 다음 대화의 (가)에 들어갈 수 있는 내용으로 가장 적절한 것은?(단, 환율 변동 이외의 다른 조건은 고려하지 않는다.)

- 갑 : 원·달러 환율이 어제보다 달러당 20원이나 올랐습니다. 벌써 1주일째 상승세가 계속되고 있습니다.
- 을 : 이러한 환율 변동 추세가 지속된다면
_____ (가) _____

- ① 한국 기업의 달러화 표시 외채 상환 부담이 증가할 것입니다.
- ② 미국 시장에서 한국산 제품의 가격 경쟁력이 낮아질 것입니다.
- ③ 한국을 여행하려는 미국인의 여행 경비 부담이 증가할 것입니다.
- ④ 미국으로부터 원재료를 수입하는 한국 기업의 부담이 감소할 것입니다.
- ⑤ 자녀를 미국으로 유학 보낸 한국 학부모들의 학비 부담이 감소할 것입니다.

29. 물가지수에 대한 아래의 설명을 읽고, 각 지표에 대한 설명 중 옳은 것을 고르시오.(단, Γ과 Λ은 GDP 디플레이터, 소비자물가지수 중 하나다.)

(Γ)은(는) 한 나라 경제의 전반적인 물가수준을 나타내는 지표로, 국민소득에 영향을 주는 모든 물가요인을 포함한다. 반면에, (Λ)은(는) 가구에서 주로 소비되는 일부 재화와 서비스 바스켓의 비용을 통해 구매력을 측정한다.

- ① (Γ)은 실질GDP를 명목GDP로 나누고 100을 곱하여 계산한다.
- ② (Γ)에는 수입품의 가격변동이 반영된다.
- ③ (Λ)이 체감물가와 차이를 보이는 이유는 수입품 포함 여부 때문이다.
- ④ 석유나 원자재의 가격이 급등해도 (Λ)에는 바로 반영되지 않는다.
- ⑤ (Λ)이 전년도보다 상승한 경우, 가구의 소비력이 증가한 것으로 볼 수 있다.

30. 표는 금융 상품 A, B의 일반적인 특징을 비교한 것이다. 이에 대한 설명으로 옳은 것은?(단, A, B는 각각 주식과 채권 중 하나이다.)

구분	A	B
기업의 소유 지분을 나타내는 증서인가?	예	아니요
(가)	아니요	예

- ① A는 만기가 정해져 있다.
- ② A는 발행 주체의 입장에서 부채에 해당한다.
- ③ B는 예금자 보호 제도의 대상이다.
- ④ A와 달리 B는 시세 차익을 기대할 수 있다.
- ⑤ (가)에는 '확정 이자를 기대할 수 있는가?'가 들어갈 수 있다.

< 시 사 경 제 · 경 영 >

31. 기업이나 국가의 회계기준에서 경제적 거래가 발생하는 시점에 거래를 기록하는 방식을 무엇이라 하는가?

- ① 발생주의
- ② 현금주의
- ③ 결과주의
- ④ 총액주의
- ⑤ 확정주의

32. 비공개로 소수의 투자자에게서 자금을 모아 각종 금융 상품에 투자해 수익을 내는 펀드는 무엇인가?

- ① 국부펀드
- ② 사모펀드
- ③ 매칭펀드
- ④ 메자닌펀드
- ⑤ 뮤추얼펀드

33. 일정 연령에 이른 근로자의 임금을 삭감하는 대신 정년까지 고용을 보장하는 제도를 가리키는 용어는?

- ① 타임오프제
- ② 탄력근로제
- ③ 재택근무제
- ④ 워크셰어링
- ⑤ 임금피크제

34. 다음 나열한 내용이 설명하는 세금은 무엇인가?

- 수입품에 부과하는 조세
- 자유무역협정(FTA)과 같은 무역협정이 확산하면 인하 또는 철폐되기도 함.

- ① 관세 ② 취득세 ③ 환경세 ④ 증여세 ⑤ 개별소비세

35. 경영 측면에서 기존 시장에 엄청난 변화를 불러오는 혁신적 아이디어를 가진 사람이나 기업을 표현한 용어는 무엇인가?

- ① 카피캣
- ② 치킨 게임
- ③ 슈퍼 사이클
- ④ 게임 체인저
- ⑤ 인프라스트럭처

36. 최근 높아진 실업률과 급등하는 집값 등 복합적인 요인으로 우리나라 성인 가운데 부모에게 경제적으로 의지하는 '이것'족이 지난해 314만 명으로 집계됐다고 한다. '이것'족은 학교를 졸업해 자립할 나이가 되었는데도 부모에게 경제적으로 기대어 사는 젊은이들을 일컫는 용어다. '이것'족과 관련된 동물로 알맞은 것은?

- ① 곰 ② 치타 ③ 캥거루 ④ 얼룩말 ⑤ 다람쥐

37. 한 기업의 신제품이 기존의 자사 주력 제품이 가졌던 시장 점유율이나 수익성, 판매량 등을 감소시키는 현상을 뜻하는 용어는 무엇인가?

- ① 리엔지니어링
- ② 카니발라이제이션
- ③ 니치 마케팅
- ④ 디버전스 마케팅
- ⑤ 퍼플 오션

38. 주식회사는 현대의 보편적인 회사 형태이다. 주식회사에 대한 설명으로 옳지 않은 것은?

- ① 법인격의 지위를 갖는다.
- ② 출자자는 유한책임을 진다.
- ③ 이사나 감사는 이사회에서 선임한다.
- ④ 최고 의사결정 기관은 주주총회이다.
- ⑤ 출자 지분을 자유롭게 양도할 수 있다.

39. 신입 경영자가 전임자 재직기간에 쌓인 손실과 잠재적 부실 요소를 회계장부에 한꺼번에 반영하여 털어버리는 행위를 뜻하는 용어는?

- ① 뱅크런
- ② 빅배스
- ③ 배드뱅크
- ④ 벌처펀드
- ⑤ 빅브러더

40. 경기를 판단하는 지표로 BSI(기업경기실사지수), CSI(소비자동향지수), PMI(구매관리자지수) 등 여러 가지가 있다. 이때 PMI로 경기를 확장, 수축을 판단하는 기준 숫자는 얼마인가?

- ① 10 ② 50 ③ 100 ④ 150 ⑤ 200

41. 다음 식의 (A)에 알맞은 내용은 무엇인가?

$$\bullet (A) = \text{물가상승률} + \text{실업률}$$

- ① 경제압박지수 ② 경제활력지수 ③ 경제고통지수
- ④ 경제투자지수 ⑤ 경제소득지수

42. 재무제표에 대한 설명으로 옳지 않은 것은?

- ① 포괄손익계산서는 일정기간 동안의 수익과 비용을 비교하여 경영성과를 보고한다.
- ② 현금흐름표는 회계기간 동안 발생한 현금의 유입과 유출에 관한 정보를 제공한다.
- ③ 재무상태표는 일정시점에 기업이 보유하고 있는 자산, 부채, 자본을 요약하여 보여준다.
- ④ 주식은 재무제표에 부가된 설명으로, 재무제표이용자가 재무제표가 어떻게 작성되었는지 이해할 수 있도록 도움을 준다.
- ⑤ 자산은 부채와 자본의 합과 같으며, 자산은 재무상태표의 우측(대변)에, 부채와 자본은 재무상태표의 좌측(차변)에 표시된다.

43. 다음과 같은 상황이 지속된다고 가정하자. 이와 관련한 기구나 현상을 <보기>에서 고르면?



- < 보 기 >
- ㄱ. OPEC+ ㄴ. 비용인상 인플레이션
 - ㄷ. IAEA ㄹ. K% rule

- ① ㄱ, ㄴ ② ㄱ, ㄷ ③ ㄴ, ㄷ ④ ㄴ, ㄹ ⑤ ㄷ, ㄹ

44. 기업의 보유 자산 중 현금, 수표, 통화대용증권, 보통예금, 만기 3개월 이내 단기금융상품 등은 ‘이것’에 속한다. 높은 환금성이 특징인 ‘이것’은?

- ① 고정자산 ② 실물자산 ③ 투자자산
④ 준비자산 ⑤ 현금성자산

45. 기업이 자사의 실적을 좋게 보이게 하기 위해 회사의 장부를 조작하는 것으로 가공의 매출을 기록하거나 비용을 적게 계상하는 행위를 무엇이라고 하는가?

- ① 결산 ② 무상증자 ③ 분식회계
④ 평가발행 ⑤ 회계감사

46. 인터넷에 사업 아이디어를 올린 뒤 불특정 다수의 소액 투자자로부터 자금을 모을 수 있도록 해주는 서비스는?

- ① 클라우드 펀딩 ② 프로그램 매매
③ 시스템 트레이딩 ④ 서브프라임 모기지
⑤ 프로젝트 파이낸싱

47. 아래 나열한 연금들이 최근 적자가 나거나 적립금이 소진되는 등의 문제로 앞으로 국가 재정에 큰 영향을 미칠 것으로 예상된다. 이들 연금을 무엇이라고 하는가?

국민연금, 공무원연금, 군인연금, 사립학교 교직원연금

- ① 연금저축 ② 개인연금 ③ 사적연금
④ 공적연금 ⑤ 상속연금

48. 다음 나열한 내용에서 정의하는 용어로 알맞은 것은?

- 미국, 영국, 호주의 새로운 안보 동맹
- 3개국의 국호 첫 글자 및 이니셜을 따 지은 것이다.
- 인도-태평양 지역의 평화와 안정이 주된 목적이라고 하지만 실질적으로 중국을 견제하는 것이 목적

- ① 쿼드(Quad) ② 나토(NATO) ③ 오커스(AUKUS)
④ 나프타(NAFTA) ⑤ 메르코수르(Mercosur)

49. 앞으로 가격이 더 오를 것으로 예측하여 부랴부랴 구입하는 ‘공황구매’를 뜻하는 것은?

- ① 팬데믹 ②뱅크런 ③ 패닉바이
④ 쇼트셀링 ⑤ 대차거래

50. 한 가지 금융상품에 몰아서 투자하지 않고 여러 자산에 분산 투자하는 행위의 가장 큰 목적은 무엇인가?

- ① 단리효과 ② 쿠퍼효과 ③ 리스크 축소
④ 지렛대 효과 ⑤ 고위험·고수익

51. 교육부와 한국직업능력개발원이 발표한 ‘2020년 초·중등 진로 교육 현황 조사’에 따르면 유튜버·BJ·스트리머 등 크리에이터가 희망 직업 4위(6.3%)에 올랐다. 유튜버·틱톡커·인스타그램 인플루언서 등 개인 콘텐츠를 만드는 사람들이나 그들이 행하는 자주적·독립적인 경제 활동을 하는 ‘이것’의 시대가 온 것이다. ‘이것’은 개인과 경제학을 합성한 신조어다. ‘이것’은 무엇인가?

- ① 웨보노믹스 ② 켈쳐노믹스 ③ 예고노믹스
④ 스포노믹스 ⑤ 셀피노믹스

52. 주식, 채권 등 전통적 투자자산을 벗어나 부동산, 원자재, 선박 등 다양한 자산에 투자하는 것을 의미하는 용어는?

- ① 대체투자 ② 워크아웃 ③ 공모펀드
④ 적립식 투자 ⑤ 롱쇼트 전략

53. 다음 신문 기사를 읽고, (A)에 들어갈 용어로 알맞은 것을 고르면?

식료품비, 연료비, 집세 등도 모두 오르면서 저소득층의 생활비 부담이 커지고 있다는 지적이 나온다. 미국에서 달걀, 육류 등 단백질 식품 가격은 작년 2월부터 지난달까지 연 환산 기준으로 8% 이상 오르며 프로틴플레이션 사태를 빚고 있다. 가게 지출에서 식료품비가 차지하는 비중인 (A)지수가 높은 저소득층에 타격이 큰 이유다.

○○경제신문, 2021.9.16

- ① 피셔 ② 앵겔 ③ 빅맥 ④ 러셀 ⑤ 슈바베

54. 엔젤 투자자는 다음 중 어떤 기업에 주로 투자하는가?

- ① 지주회사 ② 한계기업 ③ 벤처기업
- ④ 블랙기업 ⑤ 다국적 기업

55. 다음 나열한 내용은 어떤 경제학자가 언급한 말이다. 이 경제학자는 누구인가?

- In the long-run, we are all dead.
- It is better to be roughly right than precisely wrong.
- If you owe your bank a hundred pounds, you have a problem. But if you owe a million, it has.

- ① Alfred Marshall ② Milton Friedman
- ③ Arthur Betz Laffer ④ John Maynard Keynes
- ⑤ Friedrich August von Hayek

56. 아래 그림은 어떤 기관이 기념식을 진행하기 위해 강당 대신 각 사무실이나 출장지에서 스마트폰으로 가상의 공간에 모인 모습을 나타내고 있다. 아래 그림이 의미하는 용어와 관련한 설명으로 옳지 않은 것은?



- ① ‘가상’, ‘초월’을 뜻하는 Meta와 우주를 뜻하는 Universe의 합성어다.
- ② 이것을 구현하는 대표적인 기업으로는 ‘로블록스’, ‘제페토’ 등이 있다.
- ③ 신종 코로나바이러스 감염증(코로나19)으로 디지털 환경에 익숙한 MZ세대를 중심으로 이 공간에서 소통하는 방식이 활성화되고 있다.
- ④ 프롭테크를 활용하여 가상의 공간에 3D 모델하우스를 만들어 고객들이 아바타로 직접 관람할 수 있도록 한 사례도 이에 해당한다.
- ⑤ 가상현실(VR)의 개념으로 아바타를 활용해 가상 현실을 즐길 수 있지만, 실제 현실과 같은 사회·문화적 활동을 할 수 없다.

57. (A)칩플레이션과 (B)그린플레이션에 해당하는 현상과 관련된 용어를 고르면?

	(A)	(B)
①	석유	천연가스
②	천연가스	구리
③	친환경	플라스틱
④	감자	반도체
⑤	반도체	친환경

58. (A), (B)에서 설명한 경제 현상을 알파벳으로 알맞게 짝지은 것은?

(A) 불황에 빠져 있던 경기가 일시적으로 회복됐다가 다시 침체되는 경제 현상
 (B) 고학력·고소득 노동자는 경제 침체에서 빠르게 회복하는 반면 저학력·저소득 노동자는 침체가 더 심화되는 양극화 현상

	(A)	(B)
①	W	K
②	U	L
③	V	U
④	W	L
⑤	V	K

59. 다음 신문 기사를 읽고, 기사 내용을 잘 반영한 알맞은 기사 제목을 고르면?

아베노믹스를 추진한 지도 햇수로 10년이 됐다. 애초 의도대로 효과를 거두기보다 국제 금융시장 참가자인 각국 간의 갈등만 조장해 왔다는 것이 지배적인 평가다. 아베의 엔저 정책이 문제가 되는 것은 바로 이 점이다. 선진국임에도 인위적인 엔저 유도를 통한 경기 부양은 경쟁국에 고스란히 피해를 주었다. 각국의 반발도 지속됐다. (중략) 독일은 일본이 엔저 정책을 포기하지 않으면 무역 보복 조치를 불사하겠다는 입장을 내놨다. 목시적으로 엔저를 용인해온 미국도 2018년 하반기 환율 보고서 발표 때부터 더 이상의 엔저 조작용 어렵다는 입장을 거듭 밝혔다.
 ○○경제신문, 2021.9.29

- ① 양적완화를 통해 ‘유동성 함정’ 탈피
- ② 아베노믹스로 ‘디플레이션’ 벗어나
- ③ 각국의 무역보복 조치와 ‘투키디데스 함정’의 패권전쟁
- ④ 일본의 엔저 정책, 최적의 ‘파레토 효율’을 찾나?
- ⑤ 경쟁국에 피해 준 아베노믹스의 ‘근린궁핍화 정책’

60. 다음은 신문기사의 칼럼 일부를 발췌한 것이다. 이를 읽고, (A), (B)에 들어갈 용어를 알맞게 짝지으면?

국가 부도, 중진국 함정, 샌드위치 위기, 일련형 복합불황... 현 정부 출범 이후 거론된 각종 위기론 중에 최근 경제 각료들이 경고해 급부상하고 있는 것이 (A)와(과) (B)이다. (A)은(는) 지속적인 경고로 충분히 예상할 수 있지만 쉽게 간과하는 위험 요인을 뜻한다. (B)은(는) 두 가지 이상의 악재가 동시에 발생하여 세계적인 금융·경제 위기가 닥치는 총체적 난국을 말한다.
 ○○경제신문, 2021.10.5

	(A)	(B)
①	검은 코끼리	피그말리온 효과
②	블랙 스완	퍼펙트 스톱
③	스파게티볼 효과	회색 코뿔소
④	회색 코뿔소	퍼펙트 스톱
⑤	피그말리온 효과	블랙 스완

< 상 황 추 론 · 판 단 >

61. 기업 A는 한 달에 200개의 시계를 생산하여 판매하고 있다. 이 기업은 시계 생산 재료비로 매달 300만 원을 쓰고 있고, 근로자들에게 매월 100만 원의 임금을 지급하는데 근로자 1명의 월 평균 생산량은 40개라고 한다. 시계를 생산하는데 들어가는 비용은 재료비와 인건비 밖에 없다고 한다면 이 기업이 손실을 보지 않기 위한 시계 한 개의 최소 가격은?

- ① 3만 원 ② 4만 원 ③ 5만 원 ④ 6만 원 ⑤ 7만 원

62. 다음 <표>는 A국에 생산되는 모든 최종재의 수량과 가격이다. 이 나라에 거주하는 철수의 2020년도 명목소득은 100원이다. GDP디플레이터를 이용하여 2019년도를 기준년도로 하는 2020년도 철수의 실질소득은 얼마인가?

< 표 >

종류	2019년		2020년	
	가격	산출량	가격	산출량
X	30원	30개	24원	50개
Y	50원	20개	60원	30개

- ① 100원 ② 110원 ③ 120원 ④ 130원 ⑤ 140원

63. 다음 자료의 내용과 밀접한 경제학의 원리는 무엇인가?

신용카드 사용금액에 대한 소득공제가 신설된 것은 1999년이다. 이후 신용카드의 사용이 급증했다. 소득에서 소득공제분을 뺀 금액을 기준으로 세금을 부과하기 때문에 신용카드를 많이 사용할수록 소득세를 적게 낼 수 있기 때문이다. 그래서 사람들이 신용카드보다 현금을 선호할 이유도 거의 없다.

- ① 사람은 경제적 유인에 반응한다.
- ② 자발적인 거래는 모두에게 혜택을 준다.
- ③ 물가상승은 정부가 화폐를 너무 많이 발행할 때 발생한다.
- ④ 한 국가의 생활 수준은 재화와 서비스를 생산할 수 있는 능력에 달려 있다.
- ⑤ 모든 선택에는 대가가 따르며, 그 대가는 그것을 얻기 위해 포기한 그 무엇이다.

64. 상속세와 관련한 (A), (B)의 주장을 읽고, 이와 관련한 설명으로 옳지 않은 것은?

- (A) : 상속세는 부의 세습을 막아 세대 간 부의 평등을 달성하는 장치이므로 정의로운 세금이다. 이는 부의 분배를 바로잡고 공정한 기회균등을 해치는 힘의 집중을 막는 데 있다. 경쟁사회에서 어떤 부모를 만나느냐에 따라 각자의 인생 출발점이 달라져야 되겠는가.
- (B) : 상속에 과세하는 것은 정당한 저축을 처벌하는 것과 같다. 열심히 번 재산을 물려줄 수 없다면 결국 전부 소비해야 하는데 이는 반문명적이기도 하다. 모든 사람의 출발점이 같아야 한다는 주장은 세대를 이어가는 가족의 가치를 부정하는 것이며 현실적이지도 않다.

- ① (A)의 의도가 달성되면 지니계수는 상승할 것이다.
- ② 상속세율이 높을수록 사회 정의가 달성된다는 주장은 (A)에 가깝다.
- ③ (B)는 저축을 늘리기 위해 상속세율을 낮추거나 상속세를 폐지하기를 요구할 것이다.
- ④ 국제 조세 경쟁이 심해지면 (B)의 주장이 큰 힘을 얻게 된다.
- ⑤ (B)의 입장에서는 창업자가 상속세 때문에 회사를 해외에 매각하여 국내 산업 경쟁력 약화를 우려할 수 있다.

65. 표는 갑국의 물가 상승률과 경제 성장률의 변화를 나타낸다. 이에 대한 <보기>의 설명 중 옳은 것을 고르면? (단, 기준연도는 2017년이며, 물가 수준은 GDP디플레이터로 추정한다.)

(단위:%)

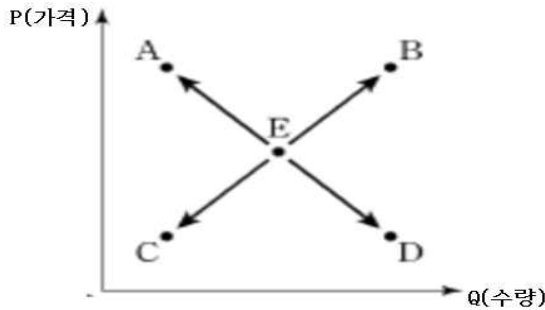
구분	2018	2019	2020
물가 상승률	0	1	0
경제 성장률	2	0	-1

< 보 기 >

- ㄱ. 명목 GDP는 2020년에 가장 높다.
- ㄴ. 2018년의 실질GDP와 명목 GDP는 같다.
- ㄷ. 2018년의 실질 GDP는 2019년의 실질 GDP와 같다.
- ㄹ. 2020년의 실질 GDP와 명목 GDP 중 명목 GDP만 전년 대비 감소하였다.

- ① ㄱ, ㄴ ② ㄱ, ㄷ ③ ㄴ, ㄷ ④ ㄴ, ㄹ ⑤ ㄷ, ㄹ

66. 다음 그림은 A국 커피시장 균형점 E를 나타낸다. 이에 대한 옳은 설명을 <보기>에서 고르면?



< 보 기 >

- ㄱ. 커피 원재료인 원두의 가격이 오르면 균형점이 A로 이동한다.
- ㄴ. 커피의 대체재인 홍차 가격이 오르면 균형점이 B로 이동한다.
- ㄷ. 커피의 보완재인 비스킷의 가격이 내리면 균형점이 C로 이동한다.
- ㄹ. ㄱ과 ㄴ이 동시에 발생하면 균형거래량은 늘어난다.

- ① ㄱ, ㄴ ② ㄱ, ㄷ ③ ㄴ, ㄷ ④ ㄴ, ㄹ ⑤ ㄷ, ㄹ

67. 선희가 맥주를 소비하려 한다. 선희의 첫 번째 잔에 대한 지불용의는 1만2천 원, 두 번째 잔에 대한 지불용의는 9천 원, 세 번째 잔은 6천 원, 네 번째 잔은 2천 원의 지불용의가 있다. 맥주 한 잔의 가격이 3천 원이라고 할 때, 선희의 총 소비자잉여는 얼마인가?

- ① 9천 원
- ② 1만2천 원
- ③ 1만8천 원
- ④ 2만1천 원
- ⑤ 2만4천 원

68. 다음 대화에 대한 적절한 분석 및 추론을 <보기>에서 고르면?

- 사회자 : 최근 우리나라 경제가 디플레이션 우려가 있다고 하는데 어떻게 생각하시나요?
- 미영 : 민간의 소비와 투자가 감소가 지속되고 있어 디플레이션 우려가 크니, 이에 대한 정책이 필요합니다.
- 준영 : 최근에 물가가 하락하긴 했지만 그것은 국제 원유 가격이 하락했기 때문이에요. 디플레이션 우려는 없다고 봐요.

< 보 기 >

- ㄱ. 준영은 총공급의 감소를 물가하락의 원인으로 보고 있다.
- ㄴ. 미영은 확장적 통화정책을 지지할 것이다.
- ㄷ. 준영은 실질 GDP가 감소할 것으로 예상하지만 디플레이션 우려는 없다고 예상하고 있다.
- ㄹ. 미영은 총수요 감소로 디플레이션이 올 수 있다고 생각한다.

- ① ㄱ, ㄴ ② ㄱ, ㄷ ③ ㄴ, ㄷ ④ ㄴ, ㄹ ⑤ ㄷ, ㄹ

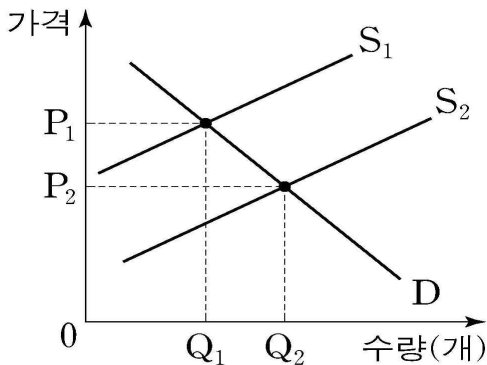
69. (가), (나)에 대한 설명으로 옳은 것은?

(가) 회사원인 갑은 최근 ㉠월급과 성과금을 받았다. 갑은 전자상가에 가서 ㉡계입기를 구입하고 집으로 돌아오는 길에 저녁식사로 고등어 조림을 하기 위해 시장에서 ㉢고등어를 구입했다.

(나) 생선 조림 식당을 운영하고 있는 을은 매일 생선의 종류를 바꾸어 메뉴를 정해 판매하는데 손님들에게 좋은 반응을 얻고 있다. 어제는 고등어조림을 하기 위해 ㉣고등어를 구입하여 전량 손님에게 판매하였다.

- ① ㉠은 갑이 생산 요소 시장에 자분을 제공한 대가에 해당한다.
- ② ㉡은 갑이 이윤을 얻기 위한 경제 활동에 해당한다.
- ③ ㉠의 증가는 ㉡과 같은 유형의 경제 활동 감소 요인이다.
- ④ 을의 ㉣과 달리 갑의 ㉣은 소비 활동에 해당한다.
- ⑤ 을과 달리 갑은 기업의 역할을 담당하고 있다.

70. 다음은 부정적 외부효과가 있는 A재의 시장 상황이다. S_1 은 사회적 비용을 포함한 공급곡선이고, S_2 는 사적비용만 포함한 공급곡선이다. 이와 관련한 설명으로 옳은 것은?



- ① 시장 가격은 P_1 이다.
- ② 사회적 최적 생산량은 Q_2 이다.
- ③ 보이지 않은 손에 의해 결정된 가격은 효율적으로 자원을 배분한다.
- ④ 정부가 소비자의 A재 소비에 대해 보조금을 지원하면 효율적인 자원배분이 가능하다.
- ⑤ 정부가 생산자의 A재 생산에 대해 세금을 부과하면 사회적 최적 수준으로 자원배분이 가능하다.

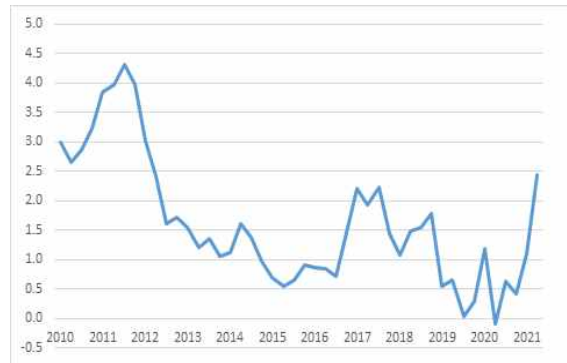
71. 다음 표에 대한 설명으로 옳지 않은 것은?(단, 이 재화는 정상재이다.)

< 재화의 수요 및 공급표 >

㉠	가격(원)	㉡
200	10,000	160
190	13,000	190
180	15,000	210
㉢	17,000	㉣

- ① ㉠에는 수요량, ㉡에는 공급량이 들어가야 한다.
- ② ㉣에서 ㉢을 뺀 값은 양(+)의 값이다.
- ③ 이 재화의 균형 가격은 13,000원이다.
- ④ 현재 가격이 15,000원이라면 가격이 앞으로 상승할 것이다.
- ⑤ 가격이 10,000원일 때 시장에 초과수요가 존재한다.

72. 아래의 그림은 2010년 이후 분기별 소비자물가지수(CPI) 인플레이션을 보여준다. 최근 물가상승률은 오름세를 보인다. 이에 따라 인플레이션과 관련한 영향을 설명한 것으로 옳지 않은 것은?



출처 : 한국은행 경제통계시스템

- ① 노동임금상승률이 물가상승률보다 낮은 경우 기업가의 실질소득 일부가 노동자에게 재분배된다.
- ② 물가가 상승할 때, 노동임금이 물가상승보다 늦게 상승한다면 노동자의 실질 소득 일부가 기업가에게 재분배된다.
- ③ 인플레이션이 발생할 때 화폐 자산의 보유자는 손실을 보고 그 채무자는 이득을 본다.
- ④ 완만한 인플레이션은 기업이윤을 증대시키고 기업의 부채를 경감시켜 투자와 고용증대를 통해 경제성장을 촉진할 수 있다.
- ⑤ 급격한 인플레이션이 발생하면, 가격을 통한 경제 자원이 합리적으로 배분되지 못하고 왜곡된다.

73. 다음 토론에서 밑줄 친 ‘여러 가지 문제’와 거리가 먼 것은?

경제 토론

- 사회자 : 우리나라의 국가 채무가 계속 큰 폭으로 증가하고 있다는 보도가 있었습니다.
- 토론자 : 빨리 대책을 세우지 않으면 여러 가지 문제 때문에 경제에 빨간 신호등이 켜질 수 있어요.

- ① 정부의 이자 지급 부담
- ② 국가 신용등급 강등 우려
- ③ 이자율 상승으로 인한 구축효과
- ④ 수출 증가로 인한 경상수지 개선
- ⑤ 향후 적극적 재정 팽창 정책에 대한 제약

74. 다음 신문 기사를 읽고, 밑줄 친 ㉠~㉣에 대한 설명으로 옳지 않은 것은?

㉠**공정거래위원회**는 지난 5월 HMM 등 국내의 23개 선사의 ㉡**담합 행위**에 최대 8,000억 원 규모의 과징금 부과가 필요하다는 심사보고서를 각 회사에 발송했다. 이에 업계는 운임 담합이 아니라 해운법에서 허용하고 있는 ㉢**정당한 공동행위**라고 반발하고 있다. 또 해운산업의 특수성을 고려하지 못한 조치로 선사들이 파산 위기에 빠질 수 있다고 우려했다. 이에 조 위원장은 “㉣**과징금**은 제재 대상 기업의 재정 상태, 산업 특수성 등을 종합적으로 고려해 결정한다”며 “현재 알려진 과징금 규모는 최종 결정된 것이 아니다”고 강조했다.

○○경제신문, 2021.10.21

- ① ㉠은 독점 및 불공정 거래에 관한 사안을 심의·의결하기 위해 설립된 정부 기관이다.
- ② ㉡은 보통 과점 시장에서 나타나는 기업 간 행위다.
- ③ ㉢에 대해 ㉠은 ‘부당한’ 공동행위로 보고 있기 때문에 국내 23개 선사와 분쟁 중이다.
- ④ ㉢은 리니언시라는 제도를 통해 먼저 신고한 기업이 과징금을 면제받지만, 해당 사건은 해운법이 존재했기 때문에 선사들이 리니언시를 활용하지 않았다.
- ⑤ ㉠과 같은 임무를 수행하는 미국의 기관으로는 증권거래위원회(SEC)가 있다.

75. 우리나라는 2020년부터 최근까지 코로나19로 인한 경기 침체를 겪었으며, 백신 접종이 시작되면서 동시에 다음과 같은 상황에 놓여 있다. 향후 경제전망과 이에 따라 예상되는 통화정책의 방향에 대한 <보기>의 설명 중 옳은 것을 모두 고르면?

- 국제유가는 지속적으로 상승하고 있으며, 2020년 6월에는 서부텍사스원유(WTI)는 전년 동기대비 87.1%의 상승률을 보이고 있다.
- 중국과 주요 선진국의 경제활동이 회복되고 IT경기가 개선됨에 따라 상품수출이 증가세를 지속하고 있다.
- 우리나라는 백신 접종이 확대됨에 따라 준내구재와 대면 서비스가 부진에서 벗어나는 모습을 보이고 있다.

< 보 기 >

ㄱ. 비용인상 인플레이션이 발생할 것이다.
 ㄴ. 수요견인 인플레이션이 발생할 것이다.
 ㄷ. 중앙은행은 기준금리를 하락시키려는 유인이 있다.

- ① ㄱ ② ㄴ ③ ㄱ, ㄴ ④ ㄴ, ㄷ ⑤ ㄱ, ㄴ, ㄷ

76. 다음 지문의 내용과 관련한 경제현상과 특징을 <보기>에서 고르면?

A국 지하철공사에 따르면 1~8호선 152개 역에 설치한 무인 대여기 157대 운영을 지난달 9월부터 멈췄다. 운영 중단은 직접적인 원인은 보조배터리와 기기에 설치된 무료 충전기 케이블이 고장 나는 사례가 빈번해 수리비용이 만만치 않게 들었다는 것이다. 업체 측에 따르면 보조배터리 10개 중 한 개꼴로 고장이 난 채로 반납됐다. 업체 관계자는 “수리하면 다음날 또 고장 나는 경우가 비일비재했지만, 이용객에게 책임을 물을 수도 없다”며 “공짜라는 점 때문에 자신의 물건처럼 조심스럽게 쓰지 않는 이용객이 있었던 같다”고 아쉬워했다.

< 보 기 >

ㄱ. 모럴 헤저드 ㄴ. 그레이 마켓
 ㄷ. 공유지의 비극 ㄹ. 오쿤의 법칙

- ① ㄱ, ㄴ ② ㄱ, ㄷ ③ ㄴ, ㄷ ④ ㄴ, ㄹ ⑤ ㄷ, ㄹ

77. 다음 신문기사와 그림과 관련한 친구들의 대화 중 옳지 않은 것은?

가계가 내년에 갚아야 하는 이자비용이 66조 원에 이른다는 추산이 나왔다. 오름세를 보이는 3년물 국고채(국채) 금리가 2년 5개월 만에 최고치를 기록하는 등 시장금리가 매섭게 뛰고 있다. 그만큼 이자비용 충격이 더 커질 것이라는 관측도 나온다. (중략) 시장에선 내년 가계 이자 부담이 ○○증권 추정치를 웃돌 것이라는 관측이 오히려 더 많다. 금리 오름세가 심상찮기 때문이다. 전날 대표 시장금리로 통하는 3년물 국채금리는 0.069%포인트 오른 연 1.719%에 마감했다. 2019년 5월 13일(연 1.721%) 이후 2년 5개월 만에 가장 높았다. 올해 최저치인 1월 5일(연 0.936%)보다 0.8%포인트 가까이 뛴 것이다. 한국은행을 비롯한 각종 중앙은행이 기준금리를 올리는 등 '돈줄'을 쥘 것이라는 예상에서 시장금리 뿔박질이 이어질 전망이다.

○○경제신문, 2021.10.8

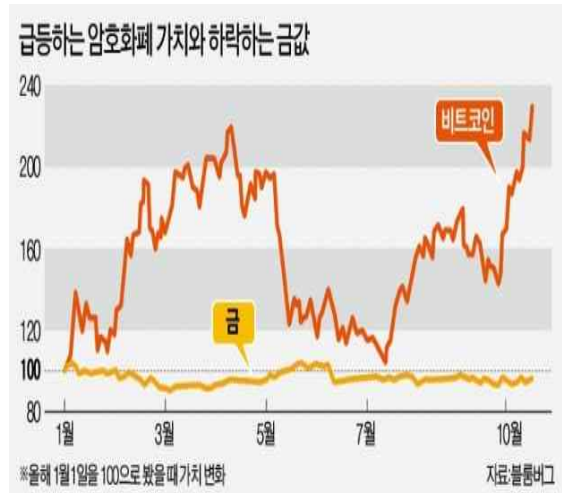


- ① 가영 : 국채금리가 올랐다는 것은 국채가격은 하락했다는 의미야.
- ② 나영 : 한국은행의 기준금리가 인상되면 가계의 이자 부담은 더욱 늘어날 거야.
- ③ 다영 : 이자비용이 늘어날수록 가계의 가처분 소득은 줄어들어 총수요곡선은 우측으로 이동할 거야.
- ④ 라영 : 3년물 국채금리 상승은 한국은행이 앞으로 기준금리를 인상할 것이라는 예상이 반영되었을 수 있어.
- ⑤ 마영 : 국채금리가 오르면, 회사채금리도 상승하여 기업의 이자 부담이 늘어날 거야.

78. 다음 신문기사와 그래프와 관련한 설명으로 옳지 않은 것은?

금 수요가 줄어들고 있다. 급격한 물가 상승으로 세계 경제가 시름하는 것을 고려하면 이례적이란 시각이 많다. 수천 년간 금은 인플레이션 위험을 분산하는 가장 효율적인 투자 수단으로 통했다. 올해 들어 금의 역할은 암호화폐가 대신하고 있다. 단기적인 물가 상승 위험을 분산하는 데 암호화폐가 효과를 내고 있다는 의미다. 미국 뉴욕 상품거래소에서 거래되는 금 선물 가격은 올 들어 8% 넘게 하락했다. 올해 초 1트로이온스당 1,947달러에 거래되던 금값은 22일 기준 1,787달러까지 떨어졌다. (중략) 코로나19 유행 기간 각국 중앙은행은 경기를 부양하기 위해 앞다퉀 화폐를 찍어냈다. 그 결과 돈의 가치는 하락했고 물가는 급등했다. 반면, 비트코인은 그 숫자가 2,100만 개로 제한되도록 설계됐다. 암호화폐를 불법으로 판단해 규제를 강화한 각국 중앙은행이 유동성을 공급하는 통화정책을 통해 암호화폐를 육성한 셈이다.

○○경제신문, 2021.10.23



- ① 인플레이션이 예상되면 보통 금과 같은 원자재 가격의 가치가 상대적으로 상승했었다.
- ② 비트코인은 금보다 가격의 변동성이 크다.
- ③ 최근 중앙은행이 중앙은행 디지털화폐(CBDC)를 연구 및 시범사업을 진행하는 것도 시중의 화폐 가치 하락을 염려하고 있다는 의미다.
- ④ 시장 참가자들은 위험 분산을 위한 수단인 금의 대체재로 비트코인과 같은 암호화폐를 선호하고 있다.
- ⑤ 올해 1월 1일을 기준으로 금에 100을 투자했다면, 10월 22일 시점에서는 손실을 보진 않았다.

79. 글로벌 금융위기 이후 우리나라 장기 이자율이 선진국 장기 이자율과 동조화되는 모습을 보이고 있다. 이와 관련한 <보기>의 설명 중 옳은 것을 모두 고르면?

< 보 기 >

ㄱ. 두 국가의 경기변동이 유사하게 움직이면 이자율 동조화가 발생한다.

ㄴ. 글로벌 금융위기 이후 세계적으로 저성장과 저물가 현상이 장기간 지속된다면 이자율 동조화가 발생한다.

ㄷ. 최근 코로나19 백신접종 진행이 국가별로 차이가 크다면 국가 간 이자율의 탈동조화 현상이 발생할 것이다.

- ① ㄱ ② ㄴ ③ ㄱ, ㄴ ④ ㄴ, ㄷ ⑤ ㄱ, ㄴ, ㄷ

80. 다음은 영국의 경제학자 애덤 스미스의 <국부론>에 나오는 한 대목이다. 애덤 스미스의 주장을 잘못 이해하고 있는 사람은?

정부가 식량부족의 곤란을 치유하기 위해 모든 상인들에게 정부가 합당하다고 책정한 가격으로 곡물을 팔도록 명령하면, 그것은 상인들이 곡물을 시장에 가져오는 것을 방해하여 때때로 그 흉년의 초기에도 기근을 발생시키며, 곡물을 시장에 가져올 경우에도 사람들로 하여금 그것을 너무 빨리 소비하게끔 하고, 또 곡물의 소비를 조장하여 흉년이 끝나기도 전에 반드시 기근을 낳고야 말 것이다. 곡물거래의 제한이 없는 자유는 기근의 불행을 막는데 유일하게 효과적인 예방책이기 때문에, 식량 부족의 곤란을 완화시킬 수 있는 가장 좋은 방법이다.

- ① 가영 : 기근은 식량 부족에 대한 정부의 잘못된 구제 수단 때문에 발생할 가능성이 있다.
- ② 나영 : 시장가격보다 낮은 가격으로 통제하면 공급자 잉여가 오히려 증가한다.
- ③ 다영 : 조선시대 한양에서 쌀 부족 현상이 벌어졌을 때 연암 박지원이 쌀 가격을 통제하지 말라고 한 이유와 일맥상통한다.
- ④ 라영 : 자유롭게 거래하도록 하면 곡물은 남는 곳에서 모자란 곳으로 공급돼 곡물 부족이 완화될 수 있다.
- ⑤ 마영 : 흉년의 초기에 기근이 발생하는 것은 시장가격 통제로 상인의 인센티브가 떨어지기 때문이다.

<끝, 수고 하셨습니다.>

TESAT 9회 모의고사 정답 및 배점

문제	정답	배점	난이도	문제	정답	배점	난이도
1	5	3	하	41	3	4	하
2	4	4	하	42	5	4	상
3	1	3	하	43	1	4	하
4	3	3	중	44	5	3	하
5	5	3	하	45	3	3	하
6	4	4	하	46	1	3	하
7	2	3	하	47	4	3	하
8	3	3	하	48	3	4	하
9	1	3	하	49	3	3	하
10	3	4	하	50	3	3	하
11	2	3	하	51	5	3	하
12	2	3	하	52	1	3	하
13	2	4	하	53	2	3	하
14	5	3	하	54	3	3	하
15	2	3	하	55	4	4	하
16	5	3	하	56	5	4	하
17	4	3	하	57	5	4	하
18	4	4	중	58	1	3	하
19	2	3	하	59	5	4	하
20	2	3	하	60	4	4	하
21	1	3	하	61	2	5	중
22	1	3	중	62	1	5	하
23	3	3	하	63	1	5	하
24	4	3	하	64	1	5	하
25	2	4	하	65	3	5	중
26	4	4	하	66	1	5	하
27	4	4	하	67	3	5	하
28	1	4	하	68	4	5	하
29	4	4	하	69	4	5	하
30	5	3	하	70	5	5	하
31	1	3	하	71	4	5	하
32	2	3	하	72	1	5	하
33	5	3	하	73	4	5	하
34	1	3	하	74	5	5	하
35	4	3	하	75	3	5	하
36	3	3	하	76	2	5	하
37	2	3	하	77	3	5	하
38	3	3	하	78	5	5	하
39	2	4	하	79	5	5	하
40	2	3	하	80	2	5	하

10회 모의고사 문제지

- 문제지 앞표지에 성명과 수험번호를 적었는지 확인하십시오.
- 경제이론과 시사경제·경영은 문항당 3점, 4점이고 상황추론·판단은 문항당 5점입니다.
- 시험시간은 100분입니다.

< 경제이론 >

- 경제문제가 발생하는 근본적인 이유로 옳은 것은?
 - ① 인간의 행동이 이기적이기 때문이다.
 - ② 인간의 능력에 차이가 있기 때문이다.
 - ③ 기회가 불평등하게 주어지기 때문이다.
 - ④ 인구의 증가속도가 매우 빠르기 때문이다.
 - ⑤ 인간의 욕망에 비해 자원이 희소하기 때문이다.
- 필립스곡선에 대한 설명으로 옳지 않은 것은?
 - ① 장기필립스곡선은 자연실업률 수준에서 수직선의 형태로 나타난다
 - ② 통화량의 증가는 장기적으로 실업률의 하락을 불러온다.
 - ③ 1970년대 스태그플레이션은 필립스곡선의 불완전성을 입증했다.
 - ④ 단기적으로 실업률과 물가상승률 간 상충 관계(trade-off)를 나타낸다.
 - ⑤ 자연실업률 가설에 의하면 장기적으로 정책 당국이 실업률을 통제할 수 없다.
- 기업의 생산기술이 규모에 대한 수익 불변이라고 하자. 이와 관련한 설명 중 옳은 것을 고르면?
 - ① 이 기업의 생산기술은 규모의 경제가 작용한다.
 - ② 고정요소의 투입을 3배 늘려도 산출량은 변하지 않는다.
 - ③ 고정요소의 투입을 3배 늘리면 산출량이 3배 이상 늘어난다.
 - ④ 모든 생산요소의 투입을 3배 늘려도 산출량은 변하지 않는다.
 - ⑤ 모든 생산요소의 투입을 3배 늘리면 산출량이 3배 늘어난다.
- 다음 중 효율적 시장 가설을 가장 잘 설명한 것은 무엇인가?
 - ① 시장에서는 사회적 총잉여가 극대화된다.
 - ② 완전경쟁시장에서는 자원이 효율적으로 배분된다.
 - ③ 시장에서의 사회적 분업은 공급자의 효율성을 높여준다.
 - ④ 시장 가격은 시장에 유입된 새로운 정보를 빠르게 반영하여 결정된다.
 - ⑤ 시장은 공정한 분배를 달성하기 위한 가장 효율적인 메커니즘이다.
- 소비가 늘어날수록 한계효용이 체감하는 일반적인 두 재화가 있다고 하자. 이들 두 재화의 무차별곡선과 관련한 설명 중 옳지 않은 것은?
 - ① 원점에 대해 볼록하다.
 - ② 서로 다른 무차별곡선끼리 교차한다.
 - ③ 소비자들에게 동일한 만족을 주는 재화묶음을 연결한 선이다.
 - ④ 원점에서 더 오른쪽에 위치한 무차별곡선일수록 소비자들에게 더 높은 효용을 준다.
 - ⑤ 한 재화의 소비가 감소하면 동일한 만족을 유지하기 위해 다른 재화의 소비량을 늘려야 한다.
- 다음 지문에서 볼 때, 금값 상승 요인으로 가장 알맞은 것은?

글로벌 경기침체로 원유를 비롯한 주요 상품가격이 하락세를 면치 못하고 있는 가운데서도 금값만 독주를 계속하고 있다. 글로벌 유동성이 넘쳐나고 있는 데다 중동 불안이 지속되면 투자자들이 안전한 피난처로 금을 선택할 공산이 커 금값 상승세는 지속할 가능성이 높다는 분석이 우세하다. 외신에 따르면 금 현물과 선물 모두 온스당 1,800달러 고지를 향해 약진을 거듭하고 있다고 한다.

 - ① 유동성 함정
 - ② 불황의 장기화
 - ③ 인플레이션 예상
 - ④ 원유 가격의 상승
 - ⑤ 미국의 정책금리 인상

7. 사유재산제도에 대한 설명 중 가장 옳지 않은 것은?

- ① 재산을 자유롭게 취득하여 사용할 수 있다는 것이다.
- ② 시장경제체제를 유지하기 위해서 반드시 필요한 제도이다.
- ③ 사유재산제도로 인하여 자유시장경제가 더욱 발전할 수 있다.
- ④ 사회의 모든 자원에 반드시 소유권이 있어야 한다는 것은 아니다.
- ⑤ 이 제도를 유지하기 위해서는 시장에 대한 정부의 개입은 있어서는 안 된다.

8. 중앙은행이 통화공급을 늘린다고 하자. 이때 통화정책의 전달경로로 알맞은 것은?

- ① 이자율상승 → 투자감소 → 총수요감소 → 국민소득감소
- ② 이자율상승 → 투자감소 → 총수요증가 → 국민소득감소
- ③ 이자율하락 → 투자증가 → 총수요증가 → 국민소득증가
- ④ 이자율하락 → 투자감소 → 총수요증가 → 국민소득증가
- ⑤ 이자율하락 → 투자증가 → 총수요감소 → 국민소득감소

9. 다음 중 국내총생산(GDP)의 구성요소가 아닌 것을 고르면?

- ① 소비 ② 투자 ③ 수출 ④ 중간재 ⑤ 정부지출

10. 화폐는 사람들이 교환활동을 하는 과정에서 생겨난 자생적 질서의 결과다. 화폐의 출현이 인류의 삶에 끼친 영향으로 알맞은 것을 <보기>에서 모두 고르면?

< 보 기 >

ㄱ. 분업의 촉진
 ㄴ. 교역의 증대
 ㄷ. 전문성 강화를 통한 부의 축적
 ㄹ. 거래비용 감소로 인한 생산성 증가

- ① ㄱ, ㄴ ② ㄱ, ㄴ, ㄷ ③ ㄱ, ㄴ, ㄹ
- ④ ㄴ, ㄷ, ㄹ ⑤ ㄱ, ㄴ, ㄷ, ㄹ

11. 수요의 가격탄력성에 대한 다음의 설명 중 옳은 것은?

- ① 일반적으로 사치품은 생활필수품보다 수요의 가격탄력성이 작다.
- ② 가격이 상승하여 수요량이 줄어들수록 수요의 가격탄력성은 작아진다.
- ③ 수요곡선이 직각쌍곡선이면 수요의 가격탄력성은 단위탄력적이다.
- ④ 해당 재화의 대체재가 많을수록 수요의 가격탄력성은 작아진다.
- ⑤ 수요의 가격탄력성을 측정하는 기간이 짧을수록 수요의 가격탄력성은 커진다.

12. 다음 중 완전경쟁시장의 특징으로 옳은 것을 고르면?

- ① 생산자에 의해 제품의 가격이 결정된다.
- ② 기업이 생산하는 제품은 기업마다 차별화돼 있다.
- ③ 시장 내에 소수의 생산자와 다수의 소비자가 존재한다.
- ④ 시장에서 소비자와 생산자는 가격 수용자(price-taker)이다.
- ⑤ 진입 장벽이 있어 생산자들이 시장에 자유롭게 진입하지 못한다.

13. 경제 주체 중 하나인 기업에 대한 설명으로 옳지 않은 것은?

- ① 기업은 생산의 주체다.
- ② 기업은 생산요소시장에서 수요자이다.
- ③ 기업은 생산에 필요한 것을 내부화하는 것이 가장 경제적이다.
- ④ 기업은 소비자를 만족시키는 양질의 재화를 공급해야 이윤을 얻을 수 있다.
- ⑤ 기업의 손실은 소비자의 요구를 충족시키지 못한 결과로 볼 수 있다.

14. 지대 그리고 지대추구와 관련한 다양한 설명 중 옳지 않은 것은?

- ① 지대는 기회비용을 초과해 얻는 부분이다.
- ② 지대추구행위는 정부 실패의 요인이 아니다.
- ③ 지대추구행위는 사회적 후생손실을 발생시킨다.
- ④ 한강이 보이는 아파트 값이 비싼 이유는 지대 때문이다.
- ⑤ 이익집단들이 정책 결정에 영향력을 행사하려는 것도 지대추구행위다.

15. 중앙은행이 시장에서 국채를 대규모로 매입할 때 나타나기 어려운 현상은?(단, 다른 조건은 일정하다고 가정한다.)

- ① 물가 안정 ② 투자 증가 ③ 통화량 증가
- ④ 이자율 하락 ⑤ 국민소득 증가

16. 효율성 임금이론은 실질임금이 균형임금 수준보다 높게 결정되면 노동생산성이 높아진다는 이론이다. 이런 견해를 뒷받침하는 것으로 볼 수 없는 것은?

- ① 노동자들의 태만을 줄인다.
- ② 노동자의 이직률을 낮출 수 있다.
- ③ 효율성 임금이론이 노동시장에 적용되면 비자발적 실업이 발생한다.
- ④ 높은 실질임금을 제공하면 생산성이 높은 노동자를 채용할 가능성이 높다.
- ⑤ 높은 실질임금으로 노동 고용량이 증가하면서 노동의 한계생산성도 함께 증가한다.

17. (가)와 (나)에 대한 <보기>의 설명으로 옳은 것을 고르면?

(가) 화재 보험 상품 가입자는 이미 보험에 가입했다는 이유로 화재 예방 및 관리를 소홀히 하기 쉽다. 보험회사가 보험가입자를 하루 종일 관찰할 수 없기 때문이다.

(나) 중고차 시장에서 소비자들은 중고차의 상태를 잘 모르기 때문에 중간 정도 품질의 자동차 정도로 생각해 가격을 지불하고자 한다. 이에 따라 좋은 중고차는 시장에 잘 나오지 않게 된다.

< 보 기 >

ㄱ. (가)의 현상을 줄이기 위해 보험 가입자는 보험 상품에 대한 정보를 잘 알아볼 필요가 있다.

ㄴ. (나)의 현상을 줄이기 위해 중고차 판매자는 판매하는 차에 대해 무상보증 기간을 두기도 한다.

ㄷ. (가)는 거래 전, (나)는 거래 후 정보비대칭이 발생한다.

ㄹ. (가)와 (나)는 모두 시장에서 효율적 자원 배분을 저해하는 현상이다.

- ① ㄱ, ㄴ ② ㄱ, ㄷ ③ ㄴ, ㄷ ④ ㄴ, ㄹ ⑤ ㄷ, ㄹ

18. 무역자유화와 관련된 WTO체제의 기본원칙으로 보기 어려운 것은?

- ① 덤핑이나 보조금지급 등 불공정경쟁을 금지한다.
- ② 수입수량 할당 등 시장접근을 제한하는 직접적인 수입규제는 금지한다.
- ③ 개발도상국은 경제상황을 고려하여 무역자유화의 속도를 늦출 수 있다.
- ④ 무역의 한 당사국이 WTO의 기본원칙을 어기더라도 상대국은 제소할 방법이 없다.
- ⑤ 특정의 회원국에 주어지는 최상의 혜택이 다른 모든 회원국에게도 동등하게 주어져야 한다.

19. 총수요-총공급 이론에 대한 <보기>의 설명 중 옳은 것을 고르면?

< 보 기 >

ㄱ. 신기술 개발은 총공급곡선을 왼쪽으로 이동시킨다.

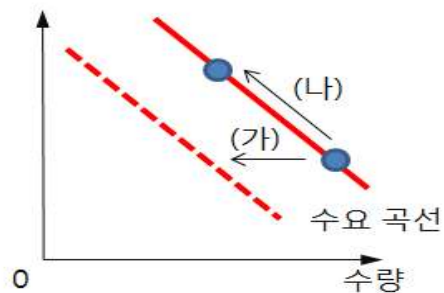
ㄴ. 국제유가 상승은 총공급곡선을 왼쪽으로 이동시킨다.

ㄷ. 정부 조세 감소는 총수요곡선을 오른쪽으로 이동시킨다.

ㄹ. 정부 지출 감소는 총수요곡선을 오른쪽으로 이동시킨다.

- ① ㄱ, ㄴ ② ㄱ, ㄷ ③ ㄴ, ㄷ ④ ㄴ, ㄹ ⑤ ㄷ, ㄹ

20. 다음 수요곡선에서 (가)와 (나)처럼 이동하는 요인을 알맞게 짝지은 것은?



	(가)	(나)
①	소득 감소	가격 상승
②	가격 상승	소득 증가
③	가격 상승	보완재 가격 상승
④	대체재 가격 상승	소득 감소
⑤	보완재 가격 하락	가격 상승

21. 가격의 역할에 관한 설명으로 옳지 않은 것은?

- ① 언어로 표현할 수 없는 암묵적 지식의 전달
- ② 시장 참여자들끼리의 비언어적 소통수단 역할
- ③ 각 처에 분산된 지식들을 간추려 통합하는 역할
- ④ 통계 또는 말로 표현된 지식만을 전달하는 역할
- ⑤ 가격구조는 방대한 지식들을 유통시키는 거대한 소통 체계

22. 시장에서 가격과 거래량이 결정되는 과정에 대한 설명으로 옳은 것은?

- ① 수요가 증가하면 시장가격은 하락한다.
- ② 초과공급이 존재하면 시장가격은 상승한다.
- ③ 정상제는 소득이 증가하면 재화의 가격은 하락한다.
- ④ 공급이 감소하면 거래량이 줄어들고 가격은 상승한다.
- ⑤ 상품의 수출이 증가하면 수출 상품의 국내 시장가격은 하락한다.

23. 1급 가격차별이 시행되는 독점시장에 대한 설명으로 옳지 않은 것은?

- ① 한계수입곡선은 시장수요곡선과 동일하다.
- ② 모든 소비자는 각각 다른 가격을 지불한다.
- ③ 소비자잉여는 매우 적지만 0보다는 크다.
- ④ 완전경쟁시장과 동일한 수량이 시장에 공급된다.
- ⑤ 일반 독점시장에 비해 사회적 후생이 더 크게 나타난다.

24. 다음은 경제학과 교수가 '경제 이론 A'의 사례로 제시한 것이다. 경제 이론 A로 적절한 것은?

○○동 주민들은 샤워 중에 갑자기 수압이 약해져 난감해지는 일을 종종 겪는다. 주민들은 언제 수압이 약해지는지를 파악하기 위해 동사무소, 상수도사업본부, 이웃 주민 등 기댈 수 있는 곳은 하나도 빠뜨리지 않고 문의한다. 수압이 약해지는 시간대를 최대한 피해 샤워를 성공적으로 하기 위함이다.

- ① 비교 우위 이론
- ② 합리적 기대 이론
- ③ 현시 선호 이론
- ④ 소비자 선호 이론
- ⑤ 손실 기피 이론

25. 경기가 완전고용 상태가 아닌 상황에서 전업주부 A씨는 자녀 학비를 돕고자 일자리를 찾아 나섰으나 아직 직업을 갖지 못하고 있다. 이와 관련하여 맞는 설명은?

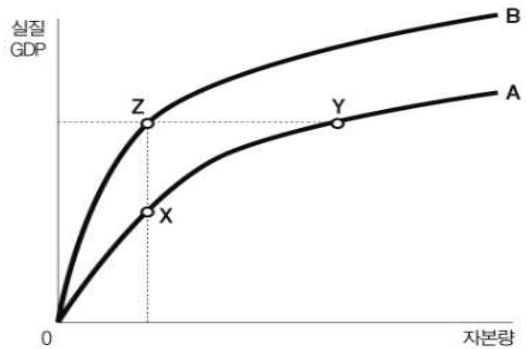
- ① 실업률 증가, 고용률 불변
- ② 실업률 불변, 고용률 증가
- ③ 실업률 증가, 생산가능인구 증가
- ④ 실업률 불변, 경제활동참가율 증가
- ⑤ 실업률 증가, 경제활동참가율 불변

26. 다음 (A), (B), (C)에 들어갈 내용을 순서대로 바르게 짝지으면?

보호무역주의가 여러 국가와 무역 마찰을 일으키는 이유는 (A)은 적게 하고 (B)을 많이 해서 (C)을(를) 얻으려고 하기 때문이다.

	(A)	(B)	(C)
①	수입	이익	자본
②	수출	이익	기술
③	이익	수출	경상수지 흑자
④	수출	수입	경상수지 적자
⑤	수입	수출	경상수지 흑자

27. 다음은 A국과 B국의 생산함수에 관한 그림이다. 이에 대한 분석으로 옳지 않은 것은?



- ① X와 Z에서의 노동의 평균 생산성은 같다.
- ② Y와 Z는 투입된 자본량은 다르지만 산출량의 규모는 동일하다.
- ③ 연구 개발을 통해 곡선 A를 B로 이동시킬 수 있다.
- ④ A국과 B국 모두에서 자본의 한계 생산이 체감하고 있다.
- ⑤ 1인당 자본량의 증가는 1인당 실질 GDP를 증가시킨다.

28. 아래 지문에서 A국은 멸종 위기 동물에 대한 소유권을 인정하였다. 그러자 '이것'이 해결되었다. '이것'은 무엇인가?

아프리카의 A국은 멸종 위기에 놓인 이 동물의 포획을 법으로 금지하고, 위반하는 사람에 대한 처벌을 대폭 강화하는 법을 채택했다. 그럼에도 불구하고 이 동물의 불법 포획은 감소하지 않아 동물의 개체 수가 급속히 감소하였다. 최근 A국은 정책을 수정하였다. 이 동물의 서식지 인근 마을 주민들에게 이 동물에 대한 소유권을 인정하였다. 그리고 일정 개체 수 이상이 될 경우 이 동물을 돈을 받고 팔 수 있는 합법 시장을 허용하였다.

- ① 레몬시장 ② 공유지의 비극 ③ 파레토 효율
④ 디드로 효과 ⑤ 레몬티에프 역설

29. 영국의 경제학자 케인스의 견해를 <보기>에서 고르면?

< 보 기 >

ㄱ. 통화정책보다 재정정책의 효과가 뛰어나다.
ㄴ. 경기변동의 원인은 총공급의 변화 때문이다.
ㄷ. 정부가 적절히 개입하여 경기변동을 조정할 수 있다.
ㄹ. 시장에서 가격은 즉각적으로 조정되어 균형을 이룬다.

- ① ㄱ, ㄴ ② ㄱ, ㄷ ③ ㄴ, ㄷ ④ ㄴ, ㄹ ⑤ ㄷ, ㄹ

30. 재화 X와 Y가 서로 수요 측면의 대체재라고 하자. Y재 공급이 감소하여 Y재 가격이 상승했다면 이와 관련한 설명 중 옳은 것은?

- ① X재 가격이 상승하고 거래량이 증가한다.
② X재 가격이 하락하고 거래량은 감소한다.
③ X재 가격이 상승하나 거래량은 감소한다.
④ X재 가격이 하락하나 거래량은 증가한다.
⑤ X재 가격이 변화하지 않지만 거래량은 증가한다.

< 시 사 경 제 · 경 영 >

31. 과거 경험상 충분히 예상되는 위기임에도 적절한 대응책을 마련하지 못해 문제가 생기는 상황을 설명할 수 있는 알맞은 용어는?

- ① 스파게티볼 효과 ② 쇼트커버링 ③ 화이트 스완
④ 콘탱고 ⑤ 서킷 브레이커

32. 다음 중 경기를 알 수 있는 지표와 거리가 먼 것은?

- ① ESG ② BSI ③ PMI ④ ISM지수 ⑤ CSI

33. 도로, 항만, 공항, 철도 등은 제품을 생산하는 데 직접 사용되지 않지만 없으면 생산 활동이 크게 제약을 받고, 국민 생활에 없어서는 안 되는 시설로 '이것'이라 일컫는다. 막대한 비용이 소요되어 정부 주도로 예산이 투입된다. 사회간접자본이라 불리는 영어 약자인 '이것'은 무엇인가?

- ① IRR ② SOC ③ NGO ④ ETF ⑤ GPT

34. 주가와 관련하여 동물이름이 등장하기도 한다. (A) 주가가 하락할 때 거래가 부진한 약세 시장과 (B) 주가가 상승하는 강세장을 표현할 때 사용하는 동물을 알맞게 짝지으면?

	(A)	(B)
①	곰	코끼리
②	황소	곰
③	코끼리	백조
④	곰	황소
⑤	백조	곰

35. 경제가 단기간에 급속히 침체했다가 장기간에 걸쳐 서서히 회복하는 모습을 빗댄 용어는 무엇인가?

- ① 더블딕 ② 산타렐리 ③ 소프트 패치
④ 나이키 커브 ⑤ 소프트 랜딩

36. 어떤 기업은 올해 매출이 작년보다 50% 급증하는 호실적을 올렸다. 하지만 지난해 실적이 좋지 못해 증가율이 높아 보인 것이었다. 이 상황을 설명할 수 있는 용어는?

- ① 자산효과 ② 기저효과 ③ 스넵효과
④ 풍선효과 ⑤ 나비효과

37. 지방자치단체가 중앙정부로부터 예산 지원을 많이 받을 수록 숫자가 떨어지는 지표로 가장 알맞은 것은?

- ① 재정자립도 ② 조세부담률 ③ 발행분담금
- ④ 소득대체율 ⑤ 국민부담률

38. 다음 중 IFRS(국제회계기준)에 대한 설명 중 옳지 않은 것은?

- ① 연결재무제표를 주 재무제표로 사용한다.
- ② 전 세계 160여국이 IFRS를 채택하였으며, 미국과 중국은 IFRS를 도입한 대표적인 국가이다.
- ③ 과거 구입한 자산 등을 구입 당시 가격보다 현재 가격으로 평가하는 공정가치평가를 확대하였다.
- ④ 원칙중심(principle based)의 회계기준으로서 상세하고 구체적인 회계 처리 방법을 제시하기보다 회계 처리의 큰 원칙만 제시한다.
- ⑤ 우리나라는 2011년부터 자산 규모 2조원 이상인 상장 기업에 대해 IFRS를 적용하기 시작하였고, 2013년부터 모든 상장 기업에 적용하고 있다.

39. 다음 나열한 내용을 결합한 혁신적인 서비스 산업을 무엇이라 하는가?

부동산 + 정보기술(IT)

- ① 프롭테크 ② 세마테크 ③ 리걸테크
- ④ 핀테크 ⑤ 셉테크

40. 다음은 신문기사의 칼럼 일부를 발췌한 것이다. (A)에 들어갈 용어로 알맞은 것은?

어떻게 이런 상식 밖의 어이없는 인재(人災)가 4,000만 명 넘게 이용하는 제1 국가기간통신망 사업자에서 일어날 수 있었는지 의아할 뿐이다. (A)을 떠올리지 않을 수 없다. 큰 사고가 발생하기 전에는 반드시 작은 실수나 사고가 최소 수백 건 선행한다. 그런 오류들을 방지한 결과가 쌓이고 쌓여 대형사고로 이어지는 것이다.

○○경제신문, 2021.10.30

- ① 72의 법칙 ② 멘델의 법칙 ③ 셀리의 법칙
- ④ 파킨슨의 법칙 ⑤ 하인리히의 법칙

41. 돌발 악재를 가정하고 금융회사가 받게 될 잠재적 손실을 측정함으로써 충격에 대한 위기관리 능력을 평가하는 것을 무엇이라 하는가?

- ① 매칭펀드 ② 워크아웃 ③ 신용평가
- ④ 체크리스트 ⑤ 스트레스 테스트

42. 다음 지문에서 밑줄 친 이것을 지칭하는 용어로 알맞은 것은?

이것은 자유와 아르바이트의 합성어다. 1990년대 일본에서 불황 탓에 아르바이트로 생활하는 청년층이 늘면서 생겨난 신조어다.

- ① 스완족 ② 여피족 ③ 캥거루족
- ④ 프리터족 ⑤ 오렌지족

43. 다음 신문기사를 읽고, 밑줄 친 항목과 관련한 지수를 <보기>에서 고르면?

서울 송파구에서 자취하는 3년 차 직장인 박모씨(28). 그는 몇 달 전부터 개인 블로그에 매주 '식비 가계부'를 쓴다. 매 끼니 먹은 음식을 사진으로 찍고 그 비용을 기록하며 한 달에 35만원을 넘지 않도록 노력한다. 그는 "물가가 올라 혼자 사는데도 식비 지출이 크게 늘었다"고 했다. (중략) 식료품 물가 상승은 특히 1인 가구에 큰 타격이 될 수 있다는 게 전문가들의 분석이다. '2020년 가족실태조사'에 따르면 1인 가구가 부담을 느끼는 지출 항목은 1위 **주거비(35.7%)** 다음으로 2위가 **식비(30.7%)**였다.

○○경제신문, 2021.11.17

< 보 기 >

ㄱ. 러셀지수 ㄴ. 빅맥지수
 ㄷ. 앵겔지수 ㄹ. 슈바베지수

- ① ㄱ, ㄴ ② ㄱ, ㄷ ③ ㄴ, ㄷ ④ ㄴ, ㄹ ⑤ ㄷ, ㄹ

44. 다음 중 기업이 적대적 인수·합병(M&A) 시도로부터 경영권을 보호하기 위한 수단이 아닌 것은?

- ① 황금주 도입 ② 포이즌필 도입
- ③ 무상감자의 실시 ④ 백기사와 협력
- ⑤ 황금낙하산 제도 시행

45. 다음 신문기사와 그래프와 관련한 설명 중 옳지 않은 것은?

미국 중앙은행(Fed)이 24일(현지시간) 공개한 11월 연방공개시장위원회(FOMC) 정례회의 의사록에 따르면 다수의 FOMC 위원은 “물가상승률이 계속 목표치(2%)보다 높으면 예상보다 빠르게 테이퍼링(자산매입 축소)을 하고 기준금리를 올릴 준비를 해야 한다”고 언급했다. 일부 FOMC 위원은 “(Fed가) 기준금리를 조정하는데 더 나은 상황에 있기 위해 매월 150억 달러 이상으로 테이퍼링 속도를 높이자”고 제안했다. 물가가 계속 급등하면 테이퍼링 속도를 올리고 금리 인상을 서둘러야 한다는 논의가 FOMC 내부에서 있었다는 설명이다.
 ○○경제신문, 2021.11.26



- ① 미국 개인소비지출은 3월부터 상승추세다.
- ② 연방공개시장위원회 정례회의 의사록에 나타난 FOMC 위원들은 ‘매파’적 통화정책을 주장하고 있다.
- ③ 미국 기준금리가 상승하면, 빚을 지닌 미국 가계의 가처분 소득은 하락할 것이다.
- ④ 테이퍼링과 같은 기조의 정책으로는 중앙은행이 국공채를 시장에서 매입하는 것이다.
- ⑤ 미국의 물가상승 속도가 가팔라지면, 채권자보다 채무자의 부담이 감소할 것이다.

46. 한 기업의 새 제품이 기존 자사 주력 제품의 시장 점유율이나 수익성, 판매량 등을 하락시키는 현상을 뜻하는 용어는?

- ① 블루오션 ② 넛지마케팅 ③ 플리바게닝
- ④ 오픈이노베이션 ⑤ 카니발리제이션

47. 컴퓨터의 인공지능으로 이루어진 소프트웨어 알고리즘으로, 투자자의 성향과 경제지표 등을 분석해 맞춤형 자산 관리를 도와주는 자동화 서비스를 무엇이라고 부르는가?

- ① 코리보 ② 로보어드바이저 ③ 클라우드 펀딩
- ④ P2P 금융 ⑤ 네트워크 뱅킹

48. 연간 이자율이 6%이고 1년 이후에 106억 원이 생기는 사업의 수익의 현재가치는 얼마인가?

- ① 85억 원 ② 90억 원 ③ 95억 원
- ④ 100억 원 ⑤ 110억 원

49. 다음 지문을 읽고, 지문의 내용과 연관된 (A)경제학자의 이름과 이 경제학자가 (B)주장한 내용이나 저서를 알맞게 짝지은 것은?

“우주는 유한해. 자원도 그렇지. 이대로 가면 아무도 못 살아남아.” 영화 ‘어벤져스’ 시리즈에 등장하는 악당 타노스. 타노스는 생명체의 절반이 죽어야 모두가 행복해진다고 믿는다. 인구는 빠르게 늘어나는데 자원은 부족하다는 걸 이유로 내세운다.

	(A)	(B)
①	애덤 스미스	국부론
②	존 포브스 내시	내시균형
③	토머스 맬서스	인구론
④	밀턴 프리드먼	화폐환상
⑤	존 메이너드 케인스	승수효과

50. '이것'은 블록체인 상에서 유통되는 토큰의 한 종류로 각 토큰마다 고유 값을 가지고 있어 다른 토큰으로 대체가 불가능한 토큰을 말한다. 디지털 콘텐츠 분야에서 각광 받는 블록체인 기술로 영어약자로 표현하면 무엇인가?

- ① NFT ② TDF ③ MBS ④ ETN ⑤ MBTI

51. 한 가지 금융상품에 몰아서 투자하지 않고 여러 자산에 분산 투자하는 행위의 가장 큰 목적은 무엇인가?

- ① 리스크 헤지 ② 메기효과 ③ 고위험과 고수익
④ 이자비용 축소 ⑤ 복리효과

52. 김군은 1금융권 A은행 예금에 1억 원, 2금융권 B저축은행 예금에 1,000만 원을 넣어뒀다. 만약 A은행과 B저축은행이 파산한다면, 예금자보호제도에 따라 김군이 보장받는 금액은?

- ① 1,000만 원 ② 2,000만 원 ③ 6,000만 원
④ 8,000만 원 ⑤ 1억 원

53. 독창적인 아이디어로 새로운 사업 기회를 찾을 수 있는 '틈새시장'을 뜻하는 용어를 고르면?

- ① 니치마켓 ② 블랙마켓 ③ 플리마켓
④ 미들마켓 ⑤ 캐시마켓

54. 삼성전자가 11월 24일 미국 파운드리(반도체 수탁생산) 제2공장 부지로 텍사스주 테일러시를 낙점하면서 미국 남동부 지역인 '이것'이 글로벌 전자·자동차 기업의 생산기지로 주목받고 있다. 기업 입장에서는 낮은 전기요금과 파격적인 세금 감면, 유연한 고용환경 등으로 입지 1순위로 꼽힌다. 텍사스·테네시·앨라배마·조지아·노스캐롤라이나(州)로 이어지는 남동부는 일조량이 많아 '이것'으로 불린다. '이것'은 무엇인가?



- ① 선벨트 ② 블루벨트 ③ 스푼벨리
④ 실리콘벨리 ⑤ 리스트 벨트

55. '이것'은 지금 가격이 샀을 때 가격보다 낮더라도 더 큰 손실을 막기 위해 주식을 파는 행위를 뜻한다. 영어로는 로스컷 혹은 스톱로스라고 불리는 '이것'은?

- ① 공매도 ② 손절매 ③ 마진콜
④ 신용융자 ⑤ 숏커버링

56. 상장사들이 기업가치를 높이기 위해 '이것'을 매입할 때가 있다. 회사가 발행한 주식을 회사가 다시 취득해 보유 중인 자기주식인 '이것'은?

- ① 자사주 ② 우선주 ③ 실권주 ④ 우량주 ⑤ 가치주

57. 다음 나열한 내용이 나타내는 국제기구 이름의 영어 약자는 무엇인가?

- 1944년 미국 뉴햄프셔주에서 브레튼우즈 협정에 따라 국제부흥개발은행(IBRD)과 함께 창설
- 1997년 한국이 구제금융을 신청
- 각 회원국들은 국가별로 할당된 특별인출권의 지분만큼 투표권을 보유
- 현재 총재는 크리스탈리나 게오르기예바

- ① CB ② IMF ③ ODA ④ NATO ⑤ OECD

58. 다음 신문기사를 읽고, (A)에 들어갈 알맞은 용어를 고르면?

금리 인상 역시 기업의 자금조달 비용을 높이는 변수다. 투자업계에선 이자율 1%포인트 상승은 현대차에 744억 원의 손실 요인으로 작용한다고 분석했다. 한 경제단체 고위 관계자는 “대부분 기업은 내년 경영환경을 코로나19가 덮친 2019년보다 더 예측하기 어려운 ‘시계제로’ 상황으로 보고 있다”며 “다양한 (A) (=비상계획)을 세워 상황 변화에 따라 유연하게 대처하는 것 외에 뾰족한 대안이 없다”고 말했다.

- ① 마스터 플랜 ② 로제타 플랜
③ 컨틴전시 플랜 ④ 프로젝트 플랜
⑤ 새로마지 플랜

59. 다음 나열한 내용이 가리키는 용어는 무엇인가?

- 모바일이나 인터넷만으로 금융서비스를 제공하는 은행
- 인터넷 전문 은행
- 점포 없이 비대면 채널 위주로 영업
- 대표적인 예로 카카오뱅크, 케이뱅크, 토스뱅크

- ① 리딩뱅크 ②뱅크러쉬 ③네오뱅크
 ④배드뱅크 ⑤뱅크사인

60. 다음 지문을 읽고, (A)에 들어갈 알맞은 용어는 무엇인가?

(A)은(는) 누적된 부채가 임계점을 지나면서 자산 가치 붕괴와 경제위기를 일으키는 순간을 일컫는다. 과도한 부채 확대에 기대 금융시장의 호황이 이어지다가 호황이 끝나면 은행에 빚을 낸 채무자들의 부채 상환 능력이 나빠지고 결국 채무자는 건전한 자산까지 팔아서 빚을 갚으면서 금융 시스템이 붕괴되고 금융위기까지 초래한다는 것이다. (A)은(는) 이렇다 할 주목을 받지 못하다가 2008년 글로벌 금융위기 이후 금융 투자를 비롯해 국가 재정 등 다양한 분야에서 재조명받기 시작했다.

- ①블랙스완 ②하우스푸어 ③블랙 먼데이
 ④민스키 모멘트 ⑤디레버리지

< 상황 추론 · 판단 >

61. 웅이는 노트와 펜을 구매하는 데 용돈을 모두 사용한다고 한다. 노트의 가격은 권당 1,000원, 펜의 가격은 개당 500원이다. 웅이가 구매한 노트의 마지막 한 권이 웅이에게 주는 한계효용은 4,000이라면 마지막으로 구매한 펜이 웅이에게 주는 한계효용은 얼마인가?(단, 합리적인 소비자인 웅이는 효용의 극대화를 추구한다.)

- ① 500 ② 1,000 ③ 2,000 ④ 4,000 ⑤ 8,000

62. 갑국과 을국이 비교우위에 따라 무역을 한다고 하자. 이후 해당 국가에 미칠 영향으로 옳은 것을 <보기>에서 고르면?

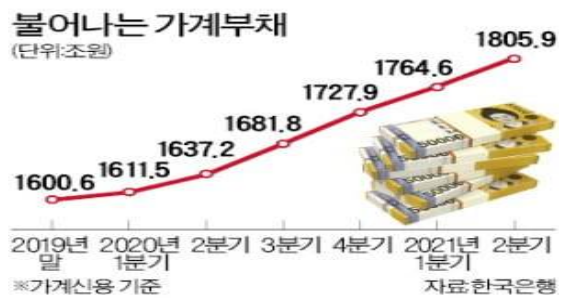
- < 보 기 >
- ㄱ. 다양한 상품을 저렴한 가격에 구매할 수 있다.
 - ㄴ. 국내 독점 산업의 진입 장벽이 제거되면서 국내 소비자 잉여가 증가한다.
 - ㄷ. 모든 산업의 근로자는 고용, 실업에서 영향을 받지 않는다.
 - ㄹ. 외국 상품이 국내 시장을 잠식한다.

- ① ㄱ, ㄴ ② ㄱ, ㄷ ③ ㄴ, ㄷ ④ ㄴ, ㄹ ⑤ ㄷ, ㄹ

63. 다음 신문기사와 그래프를 통해 유추할 수 있는 설명 중 옳지 않은 것은?(단, 다른 조건은 일정하다고 가정한다.)

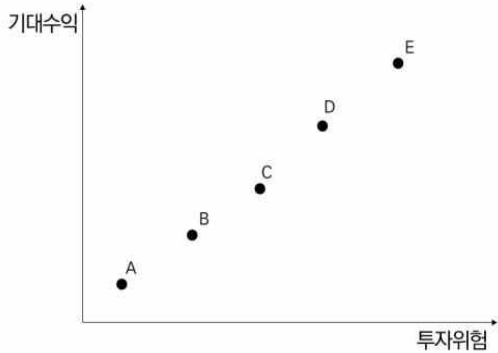
한국은행이 최저금리를 탈피하기 위해 기준금리를 올리고 이에 따라 시중금리가 뛰면 가계의 이자 부담은 눈덩이처럼 불어날 수 있다. 국제금융협회(IIF)가 22일 내놓은 ‘글로벌 부채 모니터 보고서’를 보면 올해 6월 말 현재 한국의 국내총생산(GDP) 대비 가계부채 비율은 작년 6월 말과 비교해 6%포인트 상승한 104.2%로 집계됐다. 조사 대상 주요 36개국 중 가장 높은 것은 물론 이 비율이 100%를 웃돈 곳은 한국이 유일하다.

○○경제신문, 2021.11.23



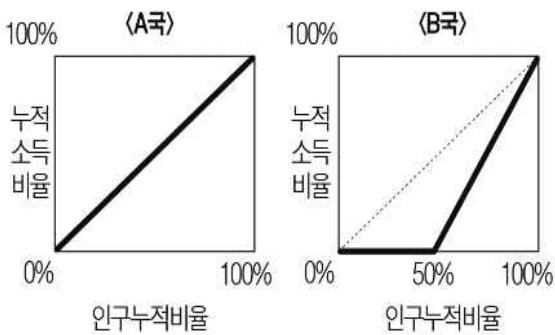
- ① 한국은행이 기준금리를 올리면 가계의 이자 부담은 증가할 것이다.
- ② 소비자심리지수에 부정적인 영향을 미칠 것이다.
- ③ 가계는 가계부채 증가와 기준금리 인상으로 가처분 소득이 감소할 것이다.
- ④ 가계부채가 증가하는 추세라면, 국민 한 사람당 빚은 점점 늘어날 가능성이 높다.
- ⑤ 한국은행이 기준금리를 올리면 코픽스(COFIX) 금리는 내려갈 것이다.

64. 다음 그래프는 금융시장의 기대수익과 위험 간의 관계를 나타낸다. 나열된 점은 금융상품이다. 이와 관련한 설명 중 옳지 않은 것은?



- ① 그래프는 위험과 수익이 상충 관계에 있다는 것을 나타낸다.
- ② 예금보다 파생상품이나 주식형 펀드가 A에 가깝다고 볼 수 있다.
- ③ 두 개의 금융상품의 수익성이 같다면 위험이 낮은 금융상품을 골라야 한다.
- ④ A, B, C, D, E가 일직선 위에 있는 상품이라면 우월을 가릴 수 없다.
- ⑤ ‘하이 리스크, 하이 리턴(High Risk, High Return)’이라는 투자 격언을 반영하고 있다.

65. 다음은 A국과 B국의 로렌츠 곡선이다. 이에 대한 설명 중 옳지 않은 것은?



- ① 로렌츠곡선은 그 나라의 소득 불평등도를 나타낸다.
- ② A국은 국민들의 소득이 균등하게 배분되어 있다고 말할 수 있다.
- ③ B국의 경우 하위 50% 계층은 소득이 없다.
- ④ B국의 지니계수가 A국의 지니계수보다 0에 더 가깝다고 할 수 있다.
- ⑤ 이 자료만으로는 A국과 B국의 노동소득분배율을 파악하기 어렵다.

66. 국제유가가 급등해 한국의 단기 총공급 곡선이 이동했다고 가정하자. 이런 상황에서 아래에 제시된 각 정책목표 달성을 위해 한국은행은 어떤 식으로 대응해야 하고 그 결과 물가 및 국내총생산(GDP) 변화에 대한 설명 중 옳은 것은?

- (A) 물가안정을 목표로 할 경우
- (B) GDP 안정을 목표로 할 경우

- ① (A)의 달성을 위해서 한국은행은 통화공급을 늘려야 한다.
- ② (B)의 달성을 위해서 한국은행은 통화공급을 줄여야 한다.
- ③ 한국은행이 (A)를 달성한다면 GDP는 더 증가할 것이다.
- ④ 한국은행이 (B)를 달성한다면 물가는 더 상승할 것이다.
- ⑤ 한국은행은 단기에 (A)와 (B)를 동시에 항상 달성할 수 있다.

67. 다음 신문기사를 읽고, 잠재성장률과 재정건전성을 개선하기 위한 방법을 <보기>에서 고르면?

경제협력개발기구(OECD)와 국제통화기금(IMF)이 나란히 한국 경제에 대한 암울한 전망을 내놨다. 주요 선진국 중 가장 빨리 국가부채가 늘어나고 잠재성장률도 최하위로 치질 것으로 내다봤다. OECD는 최근 발표한 ‘2060년까지의 재정 전망’ 보고서에서 한국의 잠재 국내총생산(GDP) 증가율이 2030~2060년 연평균 0.8%로 떨어질 것으로 추정했다. (중략) IMF도 최근 내놓은 ‘재정 점검 보고서’에서 앞으로 5년간 한국의 국가채무 증가 속도가 선진 35개국 중 가장 빠를 것이라고 내다봤다. 2026년 일반정부 국가채무(D2) 비율이 66.7%까지 뛰어 올래 말 대비 15.4%포인트 높아질 것이라는 분석이다.

○○경제신문, 2021.11.9

- < 보 기 >
- ㄱ. 정부 의무지출 비율 확대
 - ㄴ. 페이코 원칙 도입
 - ㄷ. 외국인 직접 투자에 대한 세금 감면
 - ㄹ. 추가경정예산 집행

- ① ㄱ, ㄴ ② ㄱ, ㄷ ③ ㄴ, ㄷ ④ ㄴ, ㄹ ⑤ ㄷ, ㄹ

68. A씨가 피자를 소비하려 한다. A씨의 피자 첫 번째 조각에 대한 지불용의는 8,000원, 두 번째 조각에 대한 지불용의는 5,000원, 세 번째 조각에 대한 지불용의는 3,000원, 네 번째 조각에 대한 지불용의는 1,000원이다. 피자 한 조각의 가격이 3,000원이라고 할 때, 이 사람의 총 소비자 잉여는 얼마인가?
- ① 1,000원 ② 2,000원 ③ 4,000원 ④ 5,000원 ⑤ 7,000원
69. 다음 신문 기사를 읽고, 이와 관련한 역사적 사례로 알맞은 것을 고르세요?

업계는 모빌리티 업체의 진출을 막아온 정부 책임도 크다고 지적한다. 그동안 정부는 여러 기업이 택시와 비슷한 운송 서비스를 내놓을 때마다 기존 택시기사의 손을 들었다. 2013년 우버는 일반 운전자와 승객을 연결해주는 승차 공유 서비스 ‘우버엑스’를 국내에 내놨지만 서울시와 택시업계의 압박에 서비스를 접었다. 지난해 3월에는 ‘타다금지법’으로 불리는 여객자동차운수사업법 개정안이 통과해 VCNC가 렌터카 기반 호출 서비스인 ‘타다 베이직 서비스’를 종료해야 했다.

○○경제신문, 2021.11.22

- ① 인클로저 운동이란 중세 말부터 19세기까지 개방경지·공유지·황무지를 산울타리나 돌담으로 둘러놓고 사유지임을 명시하며 추진한 운동이다.
- ② 1865년 영국은 마차 사업의 이익을 보호하기 위해 자동차의 최고속도를 시속 3km(도십)로 제한하고 마차가 붉은 깃발을 쫓고 달리면 자동차는 그 뒤를 따라가도록 하는 붉은 깃발법(적기조례)을 만들었다.
- ③ 1890년에 미국 연방의회에서 각 주간(州間) 또는 국제거래에서의 독점 및 거래제한을 금지하기 위하여 제정된 셔먼법을 바탕으로 1911년 미 연방 대법원이 스탠더드오일 분할 명령을 내렸다.
- ④ 1933년 미국에서 은행개혁과 투기규제를 목적으로 제정한 글래스-스티걸법의 핵심 내용은 상업은행과 투자은행의 업무를 엄격하게 분리하는 것이다.
- ⑤ 1974년 무역법의 301조는 외국이 미국을 차별하거나 무역상의 합의를 준수하지 않거나 또는 비합리적인 관행을 갖는 경우 미국은 그 수정을 요구하고 만일 상대국이 그것을 받아들이지 않는 경우 미국은 보복조치를 강구할 수 있다는 것이다.

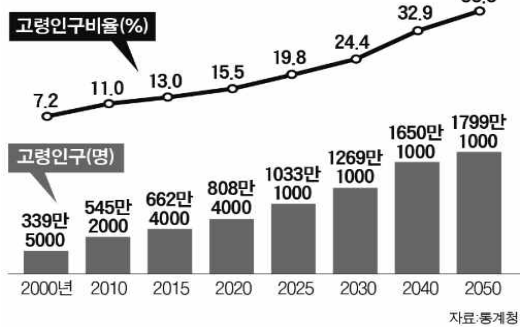
70. 다음 지문을 읽고, 이러한 상황을 표현한 속담으로 옳은 것은?

카드회사들이 통신회사 대형마트 등 연매출 500억 원을 초과하는 대형 가맹점 2만 3,000여 곳에 다음 달부터 카드 수수료를 최대 0.3%포인트 인상하겠다고 통보했다. 대형 가맹점들은 소비자가격 인상 요인으로 작용할 것이라며 즉각 반대하고 나섰다. 카드사는 정부의 소상공인에 대한 카드 수수료 인하 정책에 대응해 그 부담을 대형 가맹점에 전가하고 있는 것이다.

- ① 친구따라 강남간다.
 ② 같은 값이면 다홍치마
 ③ 우물을 파도 한 우물을 파라
 ④ 공짜 술 한 잔 보고 심리간다.
 ⑤ 아랫돌 빼서 윗돌 괴고 윗돌 빼서 아랫돌 괴기
71. 아래 지문과 그래프를 통해, 이 현상과 관련한 설명으로 옳지 않은 것은?

노인대국...우리가 마주할 사회는?
 모든 사람은 태어나 늙는다. 노화는 누구도 거스를 수 없는 자연의 섭리다. 과학과 의료의 발달로 평균 기대수명 100세를 바라보게 됐지만, 이를 축복이라고 여기는 이들은 많지 않다. 이러한 노인을 바라보는 우리 사회의 시선 역시 그리 호의적이지 않다.

우리나라 인구고령화추이 및 전망



- ① 실버산업이 발전할 것으로 예상된다.
 ② 세대 간의 갈등이 더욱 심화될 것이다.
 ③ 국민연금의 적립금이 급격하게 고갈될 것으로 예상된다.
 ④ 숙련노동인구의 증가로 경제에 큰 부담이 되지 않을 것이다.
 ⑤ 인구고령화는 전체 인구에서 노인 인구 비중이 증가하는 현상이다.

72. 밑줄 친 (가)에 들어갈 수 있는 알맞은 내용을 <보기>에서 고르면?(단, 모든 국제 거래는 달러화로 한다.)

- 교사 : 환율이 달러당 1,100원에서 1,300원으로 상승한다면, 우리나라 경제에 어떤 영향을 미칠지에 대해 발표해볼까요?
- 학생 : _____ (가) _____.

< 보 기 >

ㄱ. 수입품의 원화 표시 가격은 상승합니다.
 ㄴ. 수출은 감소하고 수입은 증가합니다.
 ㄷ. 우리 국민의 미국 여행이 감소할 것입니다.
 ㄹ. 우리 기업의 미국에 대한 외채 상황 부담이 감소합니다.

- ① ㄱ, ㄴ ② ㄱ, ㄷ ③ ㄴ, ㄷ ④ ㄴ, ㄹ ⑤ ㄷ, ㄹ

73. 다음 글은 기업가의 역할에 대한 여러 정의들이다. 이를 종합할 때 기업가 정신의 사례로 가장 적절하지 않은 것은?

- 누구든 새로운 결합을 수행하는 경우에만 기본적으로 기업가이다. 따라서 그가 한번 창조된 기업을 단순히 순환적으로 경영해 간다면 기업가로서의 성격을 상실하는 것이다.(Schumpeter)
- 기업가는 불확실성 상황에서 자신의 의사 결정 노력에 대해 자신감을 기반으로 위험을 수용하는 사람이다.(F. Knight)

- ① A기업은 시장 개척과 노동력을 위해 생산 공장을 외국으로 이전하였다.
 ② B기업은 소비자가 만족할 수 있도록 제품에 최신 기술을 결합시킨 상품을 제공하였다.
 ③ C기업은 연구원들이 업무 시간의 15%를 자신이 가진 독자적 아이디어를 제품화하는데 사용하도록 하였다.
 ④ D기업은 전 세계에 산재한 조직을 단일 조직으로 묶어 소비자가 제품에 대해 모든 서비스를 받을 수 있도록 하였다.
 ⑤ E기업은 자사 제품의 시장 판매가 급성장하자 글로벌 시장 점유율 50% 이상을 달성하기 위한 목표를 수립하였다.

74. A국의 정부는 주택 임대료를 낮추기 위하여 임대료 상한제를 시행하기로 결정하였다. 이 제도에 대한 설명으로 옳은 것을 <보기>에서 모두 고르면?

< 보 기 >

ㄱ. 규제 이후 암시장이 발생할 수 있다.
 ㄴ. 임대료 상한가격은 시장 가격보다 높게 설정하면 정책목표를 달성할 수 있다.
 ㄷ. 임대료 상한제가 시행되면 주택 임대시장에 초과수요가 발생하게 된다.

- ① ㄱ ② ㄴ ③ ㄱ, ㄷ ④ ㄴ, ㄷ ⑤ ㄱ, ㄴ, ㄷ

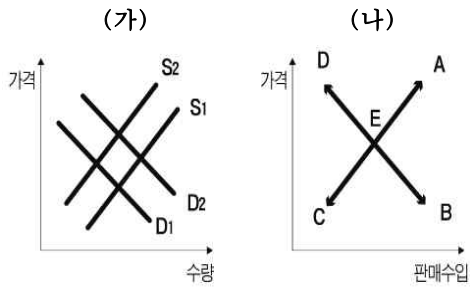
75. 다음 신문기사를 읽고, 이와 관련한 설명 중 옳지 않은 것은?

미국 1달러숍 체인점 달러트리가 대부분의 ㉠ 제품 가격을 1.25달러로 인상한다고 발표했다. 운임과 인건비가 빠르게 치솟고 있어서다. (중략) 지난해 팬데믹(전염병 대유행) 이후 공급망 차질 등으로 운임이 크게 늘어나고 최근 물가 상승세도 가팔라지자 결국 가격 인상을 발표한 것이다. ㉡유통·소매업체들은 공급망 병목현상으로 상품을 사들이는 비용이 크게 뛰었다. 여기에 중국 등 해외에서 생산해 미국으로 운반하는 물류비용까지 대폭 상승하면서 이중으로 압박을 받고 있다.
 ○○경제신문, 2021.11.25

- ① ㉡에 대한 부담이 ㉠을 통해 소비자에게 전가되었다.
 ② ㉠으로 총수요는 감소한다.
 ③ ㉡의 요인으로 발생하는 것을 비용인상 인플레이션이라고 한다.
 ④ ㉡으로 총공급곡선은 좌측으로 이동한다.
 ⑤ ㉠과 ㉡이 동시에 발생하면, 균형국민소득(Y)은 상승한다.

76. 다음 자료의 밑줄 친 내용을 읽고, (가)금연검의 수요·공급곡선과 (나)금연검의 가격과 판매수입의 변화를 알맞게 짝지으면?

금연검과 담배는 소비자의 입장에서 볼 때 경쟁적인 관계에 있다. ○○연구기관은 담배가격을 인상한 정부의 조치가 금연검에 미친 영향을 분석한 보고서를 발표하였다.



	(가)	(나)
①	D1→D2	E→A
②	D1→D2	E→B
③	D1→D2	E→D
④	S1→S2	E→A
⑤	S1→S2	E→D

77. 아래 글은 애덤 스미스의 「국부론」 제2장의 내용을 일부 발췌한 것이다. 내용을 잘못 이해한 사람은 누구인가?

본질적으로 자산의 축적은 분업에 선행되어야 하며, 사전에 자산이 많이 축적되면 될수록 그에 비례하여 노동이 더욱더 세분화될 수 있다. (중략) 자산축적은 자연스럽게 노동 생산력을 증가시킨다. (중략) 자신의 저축을 안전성이 있는 곳에 투자하지 않는 사람이 있다면 그는 제정신이 아님에 틀림없다. (중략) 매년 저축되는 것은 매년 지출되는 것처럼 규칙적으로 소비되며 때로 거의 동시에 소비된다, 그러나 그것을 소비하는 사람들은 다른 부류의 사람들이다.

- ① 가영 : 저축으로 소비와 생산이 감소하고, 국민총소득도 감소하게 될 거야.
- ② 나영 : 애덤 스미스는 경제성장의 원천이 저축임을 강조하고 있어.
- ③ 디영 : 자본 축적이 많은 나라일수록 잘 살고 반대인 나라가 못사는 이유가 잘 나타난 글이라고 할 수 있어.
- ④ 리영 : 영국의 경제학자 존 메이너드 케인스의 '저축의 역할'은 애덤 스미스의 설명에서 성립하지 않아.
- ⑤ 마영 : 로빈슨 크루소가 그물을 만들려면 그물을 만들 때까지 필요한 고기를 미리 잡아야 한다는 의미가 될 수 있어.

78. 다음은 신문기사의 사실 내용을 일부 발췌한 것이다. ㉠~㉣에 대한 설명 중 옳지 않은 것은?

최근 한국은행의 통화정책 목표에 기존의 물가안정과 금융안정 외에 '㉠고용안정'을 추가하자는 주장이 제기되고, 이와 관련된 법안들도 국회에 상정돼 있다. 코로나19로 인한 불황이 지속되며 자영업자들은 최악의 상황을 맞고 서민들의 삶이 팍팍해지면서 이를 타개하기 위해 ㉡중앙은행은 기존 방법이 아닌 '적극적인 역할'이 요구되고 있다. 그러나 ㉢당장 경제가 어렵다고 중앙은행법을 서둘러 바꾸는 것은 바람직하지 않으며 신중해야 한다. (중략) 금기야는 화폐를 남발해도 결코 인플레이션이 오지 않을 것이라는 다소 허무맹랑한 ㉣현대화폐이론(MMT)마저 등장하고, 이를 맹신하는 소리도 들린다. (중략) 특히 생산과 고용 사이의 안정적 관계가 약화된 상황과 ㉤매우 경직적인 우리나라 노동시장 구조를 감안할 때, 고용안정을 목표로 하는 통화정책은 최우선 과제인 물가안정은 물론 궁극적으로 실물경기 안정을 해칠 수도 있다는 점을 유념해야 할 것이다.

○○경제신문, 2021.11.17

- ① ㉠ : 미국 중앙은행(Fed)의 통화정책 목표 중 하나이기도 하다.
- ② ㉡ : 대표적인 정책으로 재할인율, 지급준비율 정책이 있다.
- ③ ㉢ : 필자는 정치권이 중앙은행 역할에 대해 법으로 많은 것을 명시하면 중앙은행의 독립적인 통화정책 운용에 부정적이라고 보고 있다.
- ④ ㉣ : 이를 주장하는 측은 정부가 완전고용을 위해 무한히 지출하고, 중앙은행은 국채 매입을 통해 무한히 유동성을 공급하자는 것이다.
- ⑤ ㉤ : 기업 입장에서는 고용이 위축될 가능성이 높아진다.

79. 다음 신문기사와 그래프를 통해 유추할 수 있는 내용으로 옳지 않은 것은?(단, 다른 조건은 일정하다고 가정한다.)

세계 기축통화인 달러와 가치 저장 수단인 금값이 나란히 고공행진하고 있다. 대개 금값은 화폐 가치와 반대로 움직인다. 하지만 물가가 올라 인플레이션 피난처로 꼽히는 안전자산 수요가 늘어난 데다 미국 중앙은행(Fed)이 돈 푸는 속도를 늦출 것이란 소식이 전해지면서 달러와 금을 찾는 투자자가 함께 늘고 있다. (중략) 올해 미국 석탄 화력 발전량이 지난해보다 22% 늘어 2014년 이후 처음으로 증가할 것이라고 미 에너지정보청(EIA)은 전했다. 천연가스 가격이 1년 만에 두 배 넘게 급등하자 석탄 화력 발전을 가동하는 곳이 늘었기 때문이다.

○○경제신문, 2021.11.17



- ① 보통 금값이 오른다는 말은 인플레이션이 발생하여 화폐 가치가 하락했다는 의미다.
- ② 석탄 화력 발전이 천연가스에 대한 대체 수단이 되었다.
- ③ 석탄 가격과 달러 가치의 상승으로 한국의 수입 물가는 상승할 것이다.
- ④ 달러 가치가 상승하면 원·달러 환율은 일반적으로 상승한다.
- ⑤ 천연가스 가격의 상승은 국제 원자재 가격 지수의 하락요인이다.

80. 아래 글을 읽고, 이와 관련한 학생들의 대화 중 옳지 않은 것을 고르면?

대체 용도로 사용할 수 있는 희소자원을 효율적으로 배분한다는 것은 누군가가 그 자원을 사용할 수 있는 능력을 잃어야 다른 사람이 그 능력을 얻을 수 있다는 것을 의미한다. 타자기를 만드는 '스미스 코로나'는 고객이 더 원하는 컴퓨터에 사용될 수 있는 원재료와 노동력을 포함한 희소자원을 타자기를 만드는데 사용할 여력이 없었다. 이는 그 어느 누구의 실수 때문이 아니다. 스미스 코로나가 아무리 좋은 타자기를 제작해도, 또 직원들이 아무리 기술이 뛰어나고 능력이 있어도 이와 상관없이 소비자들이 컴퓨터로 똑같은 또는 더 만족스러운 최종 결과를 얻을 수 있게 되면서 타자기를 원하는 고객이 사라져 버렸다.

- ① 가영 : 시장 대신 정부개입이 많다면, 희소자원의 효율적인 배분이 어려워질 수 있어.
- ② 나영 : 이익과 손실의 결정은 지불한 가격보다 가치가 높다고 느끼는 소비자라고 할 수 있지.
- ③ 다영 : 희소자원은 대체 용도를 가진 것이어서 효율성이 높은 곳에서 낮은 곳으로 이동해.
- ④ 라영 : 타자기 시장은 기술적인 변화로 도태되었지만, 컴퓨터라는 더 질 좋은 제품이 탄생하면서 소비자 후생을 높였어.
- ⑤ 마영 : 컴퓨터 업계는 소비자에게 타자기와 컴퓨터 중 선택을 강요한 적이 없으므로 타자기 시장 몰락은 부도덕하다고 볼 수 없어.

<끝, 수고 하셨습니다.>

TESAT 10회 모의고사 정답 및 배점

문제	정답	배점	난이도	문제	정답	배점	난이도
1	5	3	하	41	5	3	하
2	2	3	중	42	4	4	하
3	5	3	하	43	5	4	하
4	4	3	하	44	3	3	하
5	2	3	상	45	4	4	하
6	3	4	하	46	5	3	하
7	5	3	하	47	2	3	하
8	3	3	하	48	4	3	중
9	4	3	하	49	3	4	하
10	5	4	하	50	1	3	하
11	3	3	상	51	1	3	하
12	4	3	하	52	3	3	하
13	3	3	하	53	1	3	하
14	2	3	하	54	1	4	하
15	1	3	하	55	2	3	하
16	5	3	하	56	1	3	하
17	4	4	하	57	2	4	하
18	4	3	하	58	3	3	하
19	3	4	하	59	3	4	하
20	1	4	하	60	4	4	하
21	4	3	하	61	3	5	하
22	4	3	하	62	1	5	하
23	3	3	중	63	5	5	하
24	2	3	하	64	2	5	중
25	1	4	하	65	4	5	하
26	5	4	하	66	4	5	하
27	1	4	상	67	3	5	하
28	2	3	하	68	5	5	하
29	2	4	하	69	2	5	하
30	1	4	하	70	5	5	하
31	3	3	하	71	4	5	하
32	1	3	하	72	2	5	하
33	2	3	하	73	5	5	하
34	4	4	하	74	3	5	하
35	4	3	하	75	5	5	하
36	2	3	하	76	1	5	하
37	1	3	하	77	1	5	하
38	2	4	중	78	2	5	하
39	1	3	하	79	5	5	하
40	5	3	하	80	3	5	하